



ايڪ سرڪس ميں انساني اهرام



ٹھوس اشیا کی میکانیکی خاصیتیں

MECHANICAL PROPERTIES OF SOLIDS

9.1 تعارف (INTRODUCTION)

باب 7 میں ہم نے اجسام کی گردشی حرکت کا مطالعہ کیا اور یہ سمجھے کہ ایک جسم کی حرکت اس بات پر منحصر ہے کہ جسم کے اندرون اس کی کمیت کس طور پر تقسیم ہے۔ ایک استوار جسم سے عام طور پر مراد ایک ایسی سخت ٹھوس شے سے ہوتی ہے جس کی ایک معین شکل اور معین ناپ ہو، لیکن درحقیقت ایک جسم کو کھینچا، دبایا اور موڑا جاسکتا ہے۔ یہاں تک کہ ایک قابل لحاظ حد تک استوار فولادی چھڑکی شکل اور لمبائی میں بھی، اس پر کافی قوت لگا کر، تبدیلی لائی جاسکتی ہے۔ اس کا مطلب ہوا کہ ٹھوس اجسام بھی مکمل طور پر استوار نہیں ہوتے۔

ایک ٹھوس کی شکل اور اس کا سائز (ناپ) معین ہوتا ہے۔ ایک جسم کی شکل یا اس کے ناپ کو تبدیل کرنے کے لئے یا ان میں تبدیلی پیدا کرنے کے لیے، کچھ قوت درکار ہوتی ہے۔ اگر آپ ایک مرغوبی اسپرنگ (Helical Spring) کے کناروں کو پکڑ کر آہستہ سے کھینچیں تو اسپرنگ کھچ جاتی ہے۔ جب آپ کناروں کو چھوڑ دیتے ہیں تو وہ اپنی اصل شکل اور اپنا اصل ناپ دوبارہ حاصل کر لیتی ہے۔ ایک جسم کی وہ خاصیت جس کی وجہ سے جسم لگائی گئی قوت کو ہٹا لینے پر اپنی اصل شکل اور اصل ناپ کو دوبارہ حاصل کرنے کی کوشش کرتا ہے، پلک (Elasticity) کہلاتی ہے، اور پیدا ہوئی تخریب (Deformation) پچیلی تخریب (Elastic deformation) کہلاتی ہے۔ لیکن اگر آپ آٹے کے پیڑے یا گیلی مٹی کے گولے پر قوت لگائیں، تو ان میں اپنی پچیلی شکل کو دوبارہ حاصل کرنے کا کوئی رجحان نہیں پایا جاتا اور ان میں پیدا ہوئی تخریب مستقل ہوتی ہے۔ ایسی اشیا پلاسٹک (Plastic) اشیا کہلاتی ہیں اور یہ خاصیت پلاسٹک پن (Plasticity) کہلاتی ہے۔ گندھا آٹا یا مٹی مثالی پلاسٹک (Ideal Plastic) کی آسان مثالیں ہیں۔

9.1 تعارف

9.2 ٹھوس اشیا کا پکدار برتاؤ

9.3 ذرر اور بگاڑ

9.4 ہوک کا قانون

9.5 ذرر بگاڑ منحنی

9.6 پلکی مقیاس

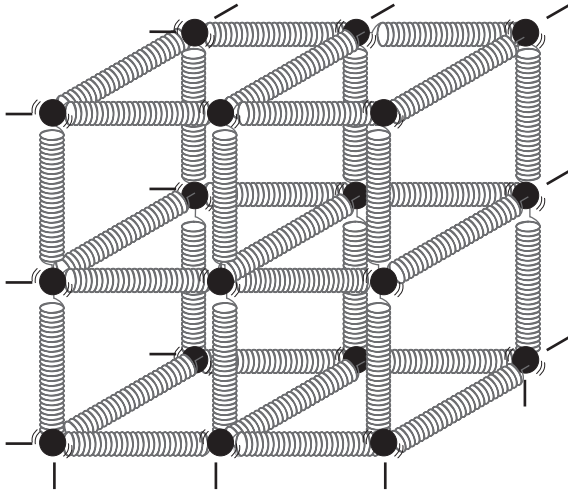
9.7 مادی اشیا کے پکلیے برتاؤ کے استعمال

خلاصہ

قابل غور نکات

مشق

اضافی مشق



شکل 9.1 ٹھوس اشیا کے لچک دار برتاؤ کے اظہار کے لیے اسپرنگ گیند ماڈل

اگر آپ کسی بھی گیند کو اس کے مقام توازن سے ہٹانے کی کوشش کریں، تو اسپرنگ نظام اسے اس کے اصل مقام پر بحال کرنے کی کوشش کرتا ہے۔ اس طرح ٹھوس اشیا کے لچک دار برتاؤ کی، ٹھوس اشیا کی خورد بینی طبع کی بنیاد پر، وضاحت کی جاسکتی ہے۔ روبرٹ ہوک (Robert Hooke) نے، جو ایک انگریز ماہر طبیعیات تھے، (1635-1703 عیسوی) اسپرنگوں پر تجربات کیے اور دریافت کیا کہ ایک جسم میں پیدا ہوئی تطویل لمبائی میں تبدیلی (Elongation)، لگائی گئی قوت یا وزن کے راست متناسب ہوتی ہے۔ 1976 میں انہوں نے لچک کا قانون پیش کیا، جسے اب ہوک کا قانون کہتے ہیں، ہم حصہ 9.4 میں اس کے بارے میں پڑھیں گے۔ بوائل کے قانون کی طرح یہ قانون بھی سائنس کے قدیم ترین مقداری رشتوں میں سے ایک رشتہ ہے۔ انجینئرنگ ڈیزائن کے لیے، مختلف لوڈ (وزن) کے زیر اثر مختلف اشیا کے برتاؤ کو جاننا بہت اہم ہے۔

9.3 ذر اور بگاڑ (STRESS AND STRAIN)

جب ایک جسم پر قوت لگائی جاتی ہے تو اس جسم میں کچھ کم یا زیادہ پیمانے پر تخریب ہوتی ہے جو کہ جسم کی طبع اور تخریبی قوت کی عددی قدر (Magnitude) کے تابع ہے۔ بہت سی مادی اشیا میں پیدا ہوئی یہ تخریب

مادی اشیا کا لچک دار برتاؤ انجینئرنگ ڈیزائن میں ایک اہم کردار ادا کرتا ہے۔ مثال کے طور پر، جب کسی عمارت کا نقشہ (ڈیزائن) تیار کرنا ہو تو فولا اور کنکریٹ جیسی اشیا کی لچک دار خاصیتوں کی معلومات لازمی ہے۔ یہی بات پلوں اور گاڑیوں وغیرہ کے ڈیزائن پر بھی صادق آتی ہے۔ کیا ہم ایسا ہوائی جہاز ڈیزائن کر سکتے ہیں جو بہت ہلکا ہو لیکن کافی مضبوط ہو؟ کیا ہم ایسا مصنوعی انسانی عضو ڈیزائن کر سکتے ہیں جو ہلکا ہو لیکن مقابلتہاً مضبوط ہو؟ شیشہ کیوں پھونک (Brittle) ہوتا ہے جبکہ پیتل ایسا نہیں ہوتا؟ ریل کی پٹری کی ایک مخصوص شکل، 1 جیسی، ہونے کی کیا وجہ ہے؟ ایسے تمام سوالات کے جوابات حاصل کرنے کے لیے شروعات اس مطالعہ سے ہوگی کہ مقابلتہاً سادہ قسم کے وزن اور قوتیں مختلف ٹھوس اجسام میں تخریب پیدا کرنے کے لیے کس طور عمل پیرا ہوتی ہیں۔ اس باب میں ہم ٹھوس اشیا کے لچک دار برتاؤ اور ان کی میکینکی خاصیتوں کا مطالعہ کریں گے، جس سے ہمیں مندرجہ بالا سوالوں جیسے کئی سوالات کے جوابات حاصل ہو سکیں گے۔

9.2 ٹھوس اشیا کا لچک دار برتاؤ

(ELASTIC BEHAVIOUR OF SOLIDS)

ہم جانتے ہیں کہ ٹھوس اشیا میں، ان کا ہر ایٹم یا مالیکیول، پڑوسی ایٹموں اور مالیکیولوں سے گھرا ہوتا ہے۔ وہ ایک دوسرے سے بین ایٹمی (Interatomic) یا بین مالیکیولیائی (Intermolecular) قوتوں سے بندھے ہوتے ہیں اور ایک مستحکم توازنی حالت میں قائم رہتے ہیں۔ جب ایک ٹھوس شے میں تخریب کاری کی جاتی ہے، تو ایٹم اور مالیکیول اپنے مقام توازن سے ہٹ جاتے ہیں، جس کی وجہ سے بین ایٹمی (بین مالیکیولیائی) فاصلے تبدیل ہو جاتے ہیں۔ جب تخریبی قوت کو ہٹالیا جاتا ہے، تو بین ایٹمی قوتیں انہیں دوبارہ اپنے اصل مقام پر واپس لے آتی ہیں۔ اس طرح جسم اپنی اصل شکل اور اپنا اصل سائز دوبارہ حاصل کر لیتا ہے۔ اس بحالی میکنازم کو شکل 9.1 میں دکھائے گئے، اسپرنگ گیند نظام کی مدد سے سمجھا جاسکتا ہے۔ یہاں گیندیں ایٹموں کو ظاہر کرتی ہیں اور اسپرنگ بین ایٹمی قوتوں کی نمائندگی کرتی ہیں۔

دب جاتا ہے تو بحالی قوت فی اکائی رقبہ، دباؤ ذرر (Compressive Stress) کہلاتی ہے۔ تناؤ یا دباؤ ذرر کے لیے طولی ذرر (Longitudinal Stress) کی اصطلاح بھی استعمال کی جاسکتی ہے۔

ان دونوں صورتوں میں، استوانہ کی لمبائی میں تبدیلی آتی ہے۔ لمبائی میں آئی تبدیلی (ΔL) اور جسم کی اصل لمبائی L (اس صورت میں استوانہ کی لمبائی) کی نسبت، طولی بگاڑ (Longitudinal Strain) کہلاتا ہے۔

$$\text{طولی بگاڑ} = \frac{\Delta L}{L} \quad (9.2)$$

اگر دو مساوی اور مخالف تخریبی قوتیں، استوانہ کے تراشی رقبہ کے متوازی لگائی جائیں، جیسا کہ شکل (a) 9.2 میں دکھایا گیا ہے، تو استوانہ کے مخالف رخوں کے درمیان نسبتی ہٹاؤ (Relative displacement) پیدا ہوتا ہے۔ لگائی گئی مماسی قوت (Tangential force) کی وجہ سے پیدا ہونے والی بحالی قوت فی اکائی رقبہ مماسی (Tangential) یا تخریبی ذرر (Shearing Stress) کہلاتی ہے۔

لگائی گئی مماسی قوت کے نتیجے میں، استوانہ کے مخالف رخوں کے درمیان

ہوسکتا ہے ہمیں دکھائی نہ دے یا ہم محسوس نہ کر سکیں، لیکن یہ تخریب ہوتی ضرور ہے۔ جب کسی جسم پر کوئی تخریبی قوت لگائی جاتی ہے، تو جیسا کہ پہلے بتایا جا چکا ہے، اس جسم میں ایک بحالی قوت پیدا ہو جاتی ہے۔ یہ بحالی قوت عددی قدر میں لگائی ہوئی قوت کے مساوی ہوتی ہے، لیکن سمت کے لحاظ سے اس کے مخالف ہوتی ہے۔ بحالی قوت فی اکائی رقبہ ذرر (Stress) کہلاتی ہے۔ اگر لگائی گئی قوت F ہے اور A جسم کا تراشی رقبہ (Area of Cross Section) ہے، تو

$$\text{ذرر کی عددی قدر} = \frac{F}{A} \quad (9.1)$$

ذرر کی SI (ایس۔ آئی) اکائی Nm^{-2} یا پاسکل (Pascal, Pa) ہے اور اس

کا ابعادی فارمولہ (Dimensional Formula) $[\text{ML}^{-1}\text{T}^{-2}]$ ہے۔ جب کسی ٹھوس پر کوئی باہری قوت لگتی ہے، تو اس کے ابعاد میں تین طرح سے تبدیلی آسکتی ہے۔ انھیں شکل 9.2 میں دکھایا گیا ہے۔ شکل (a) 9.2 میں جسم کو ایسی قوتوں کے ذریعے کھینچا ہوا دکھایا گیا ہے، جو اس کے تراشی رقبہ کی عمودی سمتوں میں لگائی گئی ہیں۔ اس صورت میں، بحالی قوت فی اکائی رقبہ، تناؤ ذرر (Tensile Stress) کہلاتی ہے۔ اگر لگائی ہوئی قوتوں کے زیر اثر استوانہ

رابرٹ ہوک (Robert Hooke) (1635-1703 عیسوی)

رابرٹ ہوک 18 جولائی 1635 کو فریش واٹر (Freshwater)، جزیرہ وائٹ (Isle of wight) میں پیدا ہوئے۔ وہ سترہویں صدی کے نہایت ذہین اور ہمہ گیر صلاحیتیں رکھنے والے برطانوی سائنسدانوں میں سے ایک تھے۔ انہوں نے آکسفورڈ یونیورسٹی میں داخلہ لیا لیکن اپنی تعلیم مکمل نہیں کی۔ لیکن پھر بھی وہ ایک نہایت باصلاحیت موجد، آلات ساز اور عمارتی ڈیزائن تیار کرنے کے ماہر تھے۔ انہوں نے ہاولین ہوا پمپ (Boylean air Pump) تیار کرنے میں رابرٹ بوائل (Robert Boyle) کے مددگار کے طور پر کام کیا۔ 1662 میں نئی قائم کی گئی رائل سوسائٹی میں ان کا تقریباً طور مہتمم تجربات کیا گیا۔ 1665 میں وہ گریشم کالج میں جو میشری کے پروفیسر مقرر ہوئے، جہاں انہوں نے اپنے فلکیاتی مشاہدات کیے۔ انہوں نے ایک گریگورین انعامی دور بین بنائی، (Gragorian reflecting telescope Trapezium) منخرف میں پانچواں ستارہ اور تارامنڈل (Constellation) جبار (Orion) میں ایک سہ ستارہ (Asterism) دریافت کیا، تجویز کیا کہ مشتری (Jupiter) اپنے محور پر گردش کرتا ہے، مریخ کے تفصیلی نقشے تیار کیے، جو بعد میں، 19 ویں صدی میں اس سیارہ کی گردش کرنے کی شرح معلوم کرنے میں استعمال ہوئے، سیاروں کی حرکت کو بیان کرنے والا مقلوب مربع قانون (Inverse square law) وضع کیا، جسے بعد میں نیوٹن نے سدھارا۔ وہ رائل سوسائٹی کے رکن منتخب ہوئے اور انہوں نے 1667 سے 1682 تک سوسائٹی کے سکریٹری کے طور پر خدمات انجام دیں۔ انہوں نے اپنے مشاہدات مائیکرو گرافی (Micrographia) میں سلسلہ وار پیش کیے اور روشنی کا لہری نظریہ تجویز کیا اور حیاتیاتی تناظر میں پہلی بار لفظ خلیہ (Cell) استعمال کیا۔



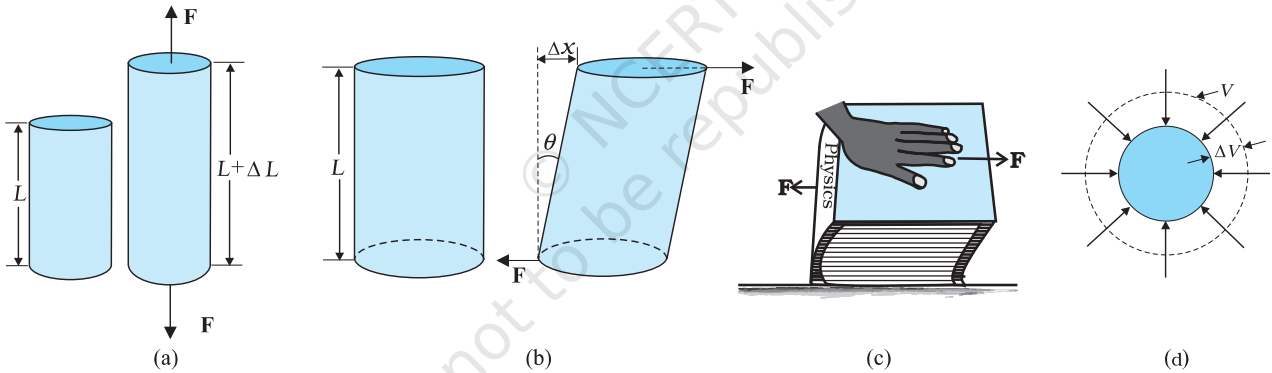
رابرٹ ہوک طبیعیات کی دنیا میں سب سے زیادہ اپنی، لچک کے قانون کی دریافت سے جانے جاتے ہیں: اٹ ٹینسیو، سک، وز (Ut tensio, sic vis) (یہ لاطینی عبارت ہے، جس کا مطلب ہے، جیسی تخریب ہوگی ویسی ہی قوت ہوگی)۔ اس قانون نے ذرر اور بگاڑ کے مطالعے اور لچک دار اشیاء کی تفہیم کے لیے بنیاد فراہم کی۔

آبی دباؤ کے تحت ہے۔ اس سے اس کی جیومیٹریائی شکل میں کوئی تبدیلی آئے بغیر اس کے حجم میں کمی آ جاتی ہے۔

جسم میں اندرونی بحالی قوتیں پیدا ہوتی ہیں جو سیال کے ذریعے لگائی گئی قوت کے مساوی اور مخالف ہوتی ہیں۔ (جسم سیال میں سے باہر نکال لیے جانے پر اپنی اصل شکل اور ناپ دوبارہ حاصل کر لیتا ہے)۔ اس صورت میں، اندرونی بحالی قوت فی اکائی رقبہ، آبی ذرر (hydraulic stress) کہلاتی ہے، جو مقدار میں آبی دباؤ (لگائی گئی قوت فی اکائی رقبہ) کے مساوی ہے۔

آبی دباؤ کے ذریعے پیدا ہوا بگاڑ حجم بگاڑ (Volume Strain) کہلاتا ہے۔ اور اس کی تعریف اس طرح کی جاتی ہے کہ یہ حجم میں آئی تبدیلی (Δv) اور اصل حجم (v) کی نسبت ہے۔

$$\text{حجم بگاڑ} = \frac{\Delta v}{v} \quad (9.5)$$



شکل 9.2 (a) استوانہ: جس پر کام کر رہا تناؤ ذرر اس کو مقدار ΔL سے کھینچتا ہے۔ (b) ایک استوانہ جس پر تحریفی ذرر (مماسی ذرر) لگ رہا ہے، اس میں زاویہ θ کی تخریب ہوتی ہے۔ (c) ایک کتاب جس پر تحریفی ذرر لگایا گیا ہے (d) ایک ٹھوس کرہ جس پر ایک ہموار آبی ذرر کام کر رہا ہے، اس کے حجم میں ΔV مقدار کی کمی کر دیتا ہے۔

کیونکہ بگاڑ، ابعاد میں آئی تبدیلی کی اصل ابعاد سے نسبت ہے، اس لیے اس کی کوئی اکائی یا ابعادی فارمولہ نہیں ہوتا۔

9.4 ہوک کا قانون (HOOKE'S LAW)

ذرر اور بگاڑ، شکل 9.2 میں دکھائی گئی مختلف صورتوں میں مختلف شکلیں اختیار کرتے ہیں۔ چھوٹی تخریبوں کے لیے، ذرر اور بگاڑ ایک دوسرے کے

نسبتی نقل Δx ہوتا ہے، جیسا کہ شکل (a) 9.2 میں دکھایا گیا ہے۔ اس طرح سے پیدا ہوئے بگاڑ کو تحریفی بگاڑ کہتے ہیں اور اس کی تعریف اس طرح کی جاتی ہے کہ یہ رخوں کے نسبتی نقل Δx اور استوانہ کی لمبائی کی نسبت ہے۔

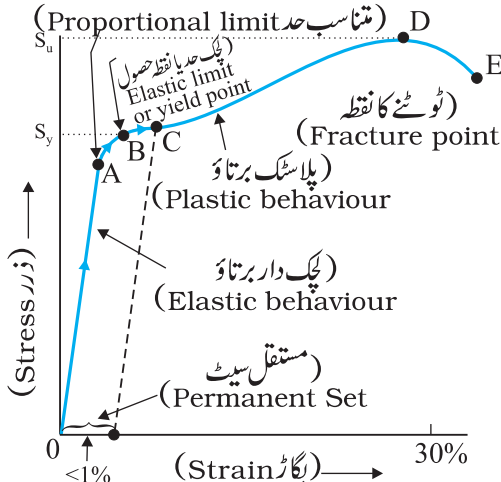
$$\begin{aligned} \text{تحریفی بگاڑ} &= \frac{\Delta x}{l} \\ &= \tan \theta \end{aligned} \quad (9.3)$$

جہاں θ ، استوانہ کا اس کی راسی حالت (Vertical) (استوانہ کے اصل حالت) سے زاویائی نقل (Angular Displacement) ہے۔ کیونکہ θ بہت چھوٹا ہوتا ہے، θ زاویہ $\tan \theta$ کے تقریباً مساوی ہے۔ (مثال کے طور پر اگر $\theta = 10^\circ$ ہے تو $\tan \theta$ اور θ میں صرف 1 فیصد فرق ہے۔)

یہ بھی تصور کیا جاسکتا ہے، کہ اگر ایک کتاب کو ہاتھ سے دبایا جائے اور افقی سمت میں دھکیلا جائے، جیسا کہ شکل (c) 9.2 میں دکھایا گیا ہے، تو

$$\text{تحریفی بگاڑ} = \tan \theta \approx \theta \quad (9.4)$$

شکل (d) 9.2 میں ایک ٹھوس کرہ کو جو ایک سیال میں رکھا ہوا ہے، زیادہ دباؤ پر تمام اطراف سے دبا جاتا ہے۔ سیال کے ذریعے لگائی گئی قوت سطح کے ہر نقطے پر عمودی سمت میں کام کرتی ہے اور (کرہ) کو کہا جاسکتا ہے کہ وہ



شکل 9.3: ایک تار پذیر مادے کے لیے مخصوص ذر - بگاڑ منحنی

A سے B تک کے علاقے میں، ذر اور بگاڑ متناسب نہیں ہیں۔ لیکن پھر بھی، اگر لوڈ ہٹالیا جائے تو جسم اپنے اصل ابعاد پر واپس آ جاتا ہے۔ نقطہ B نقطہ حصول (Yield point) کہلاتا ہے (اسے پک حد Elastic limit بھی کہتے ہیں) اور اس سے مناسبت رکھنے والا ذر، مادے کی حصول طاقت (Yield Strength) (Sy) کہلاتی ہے۔

اگر لوڈ میں مزید اضافہ کیا جائے، تو پیدا ہونے والا ذر، حصول طاقت سے زیادہ ہو جاتا ہے اور ذر میں معمولی سی تبدیلی سے بھی بگاڑ میں تیزی سے اضافہ ہوتا ہے۔ منحنی کا B اور D کے درمیان کا حصہ اسے دکھاتا ہے۔ اب اگر لوڈ کو ہٹالیا جائے، مان لیجیے، B اور D کے ایک درمیانی نقطہ C پر، تو جسم اپنے اصل ابعاد پر واپس نہیں آتا۔ اس صورت میں، جب ذر صفر بھی ہوتا ہے، بگاڑ صفر نہیں ہوتا۔ اب کہا جاتا ہے کہ مادہ ایک مستقل سیٹ میں ہے۔ اور یہ تخریب، پلاسٹک تخریب کہلاتی ہے۔ گراف پر نقطہ D، مادے کی آخری تناؤ طاقت (Su) ہے۔ اس نقطہ سے آگے، ایک کم لگائی گئی قوت سے بھی مزید بگاڑ پیدا ہوتا ہے اور نقطہ E پر شے ٹوٹ جاتی ہے۔ اگر آخری طاقت اور نقطہ D اور E ایک دوسرے کے نزدیک ہوں تو وہ مادہ پھونک کہلاتا ہے۔ اگر یہ ایک دوسرے سے کافی فاصلے پر ہوں تو مادہ تار پذیر (Ductile) کہلاتا ہے۔

جیسا کہ پہلے بتایا جا چکا ہے ہر مادے کا ذر - بگاڑ برتاؤ جدا ہوتا ہے۔ مثال کے طور پر بر کو اپنی اصل لمبائی سے کئی گنا زیادہ کھینچا جائے، تب بھی وہ اپنی

متناسب (Proportional) ہوتے ہیں۔ یہ ہوک کا قانون کہلاتا ہے۔

اس لیے

$$\text{بگاڑ} \propto \text{ذر}$$

$$\text{بگاڑ} = K \times \text{ذر}$$

(9.6)

جہاں k متناسبت مستقلہ ہے اور پک کا مقیاس (Modulus of Elasticity) کہلاتا ہے۔

ہوک کا قانون ایک تجربی (Empirical) قانون ہے اور زیادہ تر مادی اشیاء کے لیے درست پایا گیا ہے۔ لیکن کچھ ایسی مادی اشیاء ہیں جو اس خطی رشتہ کو نہیں ظاہر کرتیں۔

9.5 ذر بگاڑ منحنی (STRESS-STRAIN CURVE)

ایک دی ہوئی مادی شے کے لیے، جو تناؤ ذر کے تحت ہو، ذر اور بگاڑ میں رشتہ تجرباتی طور پر حاصل کیا جاسکتا ہے۔ تناؤ خاصیتوں کی معیاری جانچ میں ایک جانچ استوانہ یا تار کو ایک لگائی ہوئی قوت کے ذریعے کھینچا جاتا ہے۔ لمبائی میں آئی کسری تبدیلی (بگاڑ) اور اس بگاڑ کو پیدا کرنے کے لیے درکار لگائی گئی قوت کو ریکارڈ کر لیا جاتا ہے۔ لگائی گئی قوت میں متعین اقدام میں بتدریج اضافہ کیا جاتا ہے اور لمبائی میں آئی تبدیلی درج کر لی جاتی ہے۔ اور ذر (جو مقدار میں لگائی گئی قوت فی اکائی رقبہ کے مساوی ہے) اور پیدا ہوئے بگاڑ میں ایک گراف کھینچا جاتا ہے۔ ایک دھات کے لیے یہ مخصوص گراف شکل 9.3 میں دکھایا گیا ہے۔ دباؤ اور تخریبی ذر کے لیے مماثل (Analogous) گراف بھی حاصل کیے جاسکتے ہیں۔ ذر بگاڑ منحنی، مختلف مادی اشیاء کے لیے مختلف ہوتے ہیں۔ یہ منحنی ہمیں یہ سمجھنے میں مدد کرتے ہیں کہ ایک دی ہوئی مادی شے میں لوڈ میں اضافہ کرنے پر کس طور پر تخریب ہوتی ہے۔ گراف سے ہم دیکھ سکتے ہیں کہ O سے A تک کے علاقے میں، منحنی سیدھا (خطی) ہے۔ اس علاقہ میں ہوک کا قانون لاگو ہوتا ہے۔ لگائی گئی قوت کے ہٹائے جانے پر جسم اصل ابعاد دوبارہ حاصل کر لیتا ہے۔ اس علاقہ میں ٹھوس اشیاء بطور پک دار جسم برتاؤ کرتی ہیں۔

تعمیری انجینئرنگ ڈیزائن کے لیے بہت اہمیت رکھتا ہے۔ ذرر اور بگاڑ کی نسبت، جو چمک کا مقیاس (Modulus of elasticity) کہلاتی ہے، مادے کی خاصیت ہوتی ہے۔

9.6.1 یگ مقیاس (Young's modulus)

تجرباتی مشاہدات سے ظاہر ہوتا ہے کہ ایک دیے ہوئے مادے کے لیے، پیدا ہونے والے بگاڑ کی عددی قدر یکساں ہوتی ہے، چاہے ذرر، تناؤ ذرر ہو یا دباؤ ذرر۔ تناؤ (یاد دباؤ) ذرر (σ) اور طولی بگاڑ (ϵ) کی نسبت کی تعریف بہ طور یگ مقیاس (Young's Modulus) کی جاتی ہے، اور اسے علامت Y سے ظاہر کیا جاتا ہے۔

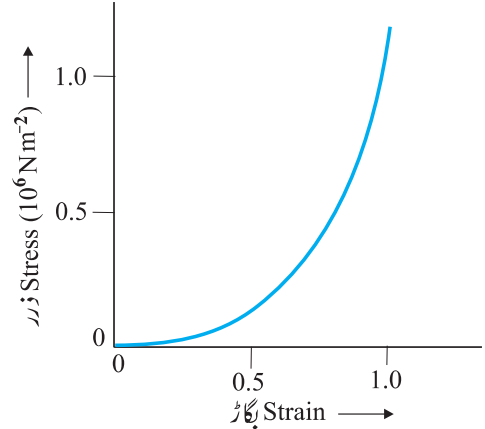
$$Y = \frac{\sigma}{\epsilon} \quad (9.7)$$

مساواتوں (9.1) اور (9.2) سے ہمیں حاصل ہوتا ہے۔

$$Y = \left(\frac{\frac{F}{A}}{\frac{\Delta L}{L}} \right)$$

$$Y = (F \times L) / (A \times \Delta L) \quad (9.8)$$

کیونکہ بگاڑ ایک غیر ابعادی مقدار ہے اس لیے یگ مقیاس کی بھی اکائی



شکل 9.4 شریان کبیر (aorta) جو دل سے خون لے جانے والی بڑی نلی ہے، کے ایک لچکیلے منسوج (Tissue) کے لیے ذرر۔ بگاڑ منحنی۔

اصل شکل پرواپس آ جاتی ہے۔ حالانکہ لچکدار علاقہ بہت وسیع ہے، لیکن مادے کے لیے علاقے کے زیادہ تر حصے میں ہوک کا قانون لاگو نہیں ہوتا۔ مزید یہ کہ کوئی معروف پلاسٹک علاقہ نہیں ہے۔ شریان کبیر کے منسوج، ربر جیسے مادے، جنہیں کھینچ کر بڑا بگاڑ پیدا کیا جاسکتا ہے، لچکیہ (Elastomer) کہلاتے ہیں۔

9.6 لچکی مقیاس (ELASTIC MODULI)

ذرر بگاڑ منحنی کا وہ علاقہ جو چمک حد کے اندر ہے اور متناسب ہے، ساختی اور

جدول 9.1 کچھ مادی اشیا کے یگ کے مقیاس اور حصول طاقت کی قدریں

مادی شے	کثافت (Kg m^{-3})	یگ کا مقیاس Y (10^9 Nm^{-2})	آخری طاقت σ_x (10^6 Nm^{-2})	حصول طاقت σ_y (10^6 Nm^{-2})
المونیم	2710	70	110	95
تانہ	8890	110	400	200
لوہا (تپایا ہوا) (Wrought)	7800-7900	190	330	170
فولاد	7860	200	400	250
شیشہ #	2190	65	50	—
کنکریٹ	2320	30	40	—
لکڑی #	525	13	50	—
ہڈی #	1900	9.4	170	—
پالی اسٹائی رین (Polystyrene)	1050	3	48	—

* مادہ دباؤ کے تحت جانچا گیا۔

$$= 1.59 \times 10^{-3} \text{ m}$$

$$= 1.59 \text{ mm}$$

بگاڑ دیا جاتا ہے

$$\begin{aligned} \Delta L &= \frac{\Delta L}{L} \\ &= (1.59 \times 10^{-3} \text{ m}) / (1 \text{ m}) \\ &= 1.59 \times 10^{-3} \\ &= 0.16\% \end{aligned}$$

▶ **مثال 9.2:** ایک 2.2m لمبائی کے تانبے کے تار اور 1.6m لمبائی کے فولاد کے تار کے سروں کو جوڑ دیا گیا۔ دونوں تاروں کا قطر 3.0mm ہے۔ جب انہیں ایک لوڈ کے ذریعے کھینچا جاتا ہے، تو کل تطویل 0.70mm ہوتی ہے۔ معلوم کیجیے کہ کتنا لوڈ لگایا گیا۔

جواب: تانبہ اور فولاد کے تار ایک تناؤ ذر کے تحت ہیں، کیونکہ دونوں پر یکساں تناؤ (جولوڈ W کے مساوی ہے) کام کر رہا ہے اور دونوں کا تراشی رقبہ A یکساں ہے۔

مساوات (9.7) سے ہمیں حاصل ہوتا ہے: یگ مقیاس \times بگاڑ = ذر

$$\frac{W}{A} = Y_c (\Delta L_c / L_c) = Y_s (\Delta L_s / L_s)$$

جہاں پر زیریں علامتیں C اور S بالترتیب تانبہ (کوپر) اور فولاد (اسٹیل) سے مطابقت رکھتی ہیں۔ یا

$$\frac{\Delta L_c}{\Delta L_s} = (Y_s / Y_c) \times (L_c / L_s)$$

$$L_c = 2.2 \text{ m}, \quad L_s = 1.6 \text{ m} \quad \text{دیا ہوا ہے}$$

جدول 9.1 سے:

$$Y_c = 1.1 \times 10^{11} \text{ nm}^{-2}, \quad Y_s = 2.0 \times 10^{11} \text{ nm}^{-2}$$

$$\therefore \frac{\Delta L_c}{\Delta L_s} = (2.0 \times 10^{11} / 1.1 \times 10^{11}) \times (2.2 / 1.6) = 2.5$$

کل تطویل (لمبائی میں اضافہ) ہے:

$$\Delta L_c + \Delta L_s = 7.0 \times 10^{-4} \text{ m}$$

وہی ہے جو ذر کی ہے، یعنی Nm^{-2} یا پاسکل (Pa)۔ جدول 9.1 میں کچھ مادوں کے یگ کے مقیاس اور حصول طاقت کی قدریں دی گئی ہیں۔

جدول 9.1 میں دیے ہوئے تخمینوں سے یہ نوٹ کیا جاسکتا ہے کہ دھاتوں کے لیے یگ کے مقیاس کی قدر بڑی ہوتی ہے۔ اس لیے ان مادوں کی لمبائی میں خفیف تبدیلی لانے کے لیے بڑی قوت درکار ہوتی ہے۔ ایک 0.1 cm^2 تراشی رقبہ والے پتلے فولادی تار کی لمبائی میں 0.1% اضافہ کرنے کے لیے 2000N قوت درکار ہوتی ہے۔ المونیم، پیتل اور تانبہ کے ان تاروں میں جن کا تراشی رقبہ یکساں ہو، اتنا ہی بگاڑ پیدا کرنے کے لیے درکار قوتیں، حسب ترتیب، 900N، 690N اور 1100N ہیں۔ اس کا مطلب ہوا کہ تانبہ، پیتل اور المونیم کے مقابلے میں فولاد زیادہ چکلیلا ہے۔ یہی وجہ ہے کہ زیادہ استعمال ہونے والی مشینوں اور ساختی ڈیزائنوں میں فولاد کو فوقیت دی جاتی ہے۔ لکڑی، ہڈی، کنکریٹ اور شیشہ کی یگ کے مقیاس کی قدریں مقابلاً کم ہیں۔

▶ **مثال 9.1:** ایک فولادی چھڑ کا نصف قطر 10mm اور لمبائی 1.0m ہے۔ ایک 100kN کی قوت اسے لمبائی میں کھینچتی ہے۔ حساب لگائیے: (a) ذر (b) تطویل اور (c) چھڑ میں پیدا ہوا بگاڑ۔ ساخت شدہ فولاد کا یگ مقیاس $2.0 \times 10^{11} \text{ Nm}^{-2}$ ہے۔

جواب: ہم فرض کرتے ہیں کہ چھڑ کے ایک کنارے کو شکبے میں کس دیا گیا ہے، اور دوسرے کنارے پر، اس کی لمبائی کے متوازی، قوت F لگائی گئی ہے۔ تب چھڑ پر کام کر رہا ذر دیا جائے گا:

$$\begin{aligned} \text{ذر} &= F/A = F/\pi r^2 \\ &= (100 \times 10^3 \text{ N}) / [3.14 \times (10^{-2} \text{ m})^2] \\ &= 3.18 \times 10^8 \text{ Nm}^{-2} \\ &\text{تطویل (لمبائی میں اضافہ)} \\ \Delta L &= \frac{(F/A)L}{Y} \\ &= \frac{(3.18 \times 10^8 \text{ Nm}^{-2})(1 \text{ m})}{2 \times 10^{11} \text{ Nm}^{-2}} \end{aligned}$$

مندرجہ بالا مساواتوں کو حل کرنے پر:

$$\Delta L_c = 5.0 \times 10^{-4} \text{ m}, \Delta L_s = 2.0 \times 10^{-4} \text{ m}$$

$$W = (A \times Y_c \times \Delta L_c) / L_c$$

$$= \pi (1.5 \times 10^{-3})^2 \times [(5.0 \times 10^{-4} \times 1.1 \times 10^{11}) / 2.2]$$

$$= 1.8 \times 10^2 \text{ N}$$

کمیت جسے اہرام کے سب سے نیچے لیٹے ہوئے فنکار کے ذریعے سہارا دیا جا رہا ہے

$$= 280 - 60 = 220 \text{ Kg}$$

اس سہارا دیے جانے والی کمیت کا وزن

$$= 220 \text{ Kg} \quad \text{wt} = 220 \times 9.8 \text{ N} = 2156 \text{ N}$$

وزن جسے فنکار کی ایک ران کی ہڈی سہارا دے رہی ہے

$$= \frac{1}{2} \times (2156) \text{ N} = 1078 \text{ N}$$

جدول 9.1 سے، ہڈی کا ینگ مقیاس ہے

$$Y = 9.4 \times 10^9 \text{ Nm}^{-2}$$

ایک ران کی ہڈی کی لمبائی (L) = 0.5 m

ران کی ہڈی کا نصف قطر = 2.0 cm

اس لیے،

$$A = \pi \times (2 \times 10^{-2})^2 \text{ m}^2 = 1.26 \times 10^{-3} \text{ m}^2$$

مساوات 9.8 استعمال کرتے ہوئے، ہر ران کی ہڈی میں پیدا ہونے

والا داب (ΔL) ہے

$$\Delta L = [(F \times L) / (Y \times A)]$$

$$= [(1078 \times 0.5) / (9.4 \times 10^9 \times 1.26 \times 10^{-3})]$$

$$= 4.55 \times 10^{-5} \text{ m} = 4.55 \times 10^{-3} \text{ cm}$$

یہ ایک بہت چھوٹی تبدیلی ہے۔ ران کی ہڈی کی لمبائی میں کسری کمی ہے

$$\frac{\Delta L}{L} = 0.000091$$

یا

$$= 0.0091\%$$

9.6.2 ایک تار کے مادے کا ینگ مقیاس معلوم کرنا

(Determination of Young's modulus of the material of a wire)

تناؤ کے زیر اثر ایک تار کے مادے کا ینگ مقیاس معلوم کرنے کا ایک مخصوص تجرباتی نظم شکل 9.6 میں دکھایا گیا ہے۔ یہ دو ایسے لمبے مستقیم تاروں پر مشتمل

مثال 9.3: ایک سرکس میں ایک انسانی اہرام کے متوازی گروپ کا کل وزن، ایک فنکار کے پیروں کے سہارے پر ہے جو پیٹھ کے بل لیٹا ہوا ہے (جیسا کہ شکل 9.5 میں دکھایا گیا ہے)۔ اس عمل میں شامل تمام فنکاروں اور میزوں اور تختوں وغیرہ کا کل وزن 280 Kg ہے۔ اہرام میں سب سے نیچے لیٹے ہوئے فنکار کا وزن 60 Kg ہے۔ اس فنکار کی ران کی ہڈی کی لمبائی 50 cm اور موثر نصف قطر 2.0 cm ہے۔ معلوم کیجیے کہ زائند لوڈ کے زیر اثر ہر ران کی ہڈی کتنی دبے گی۔



شکل 9.5: ایک سرکس میں انسانی اہرام

جواب: تمام فنکاروں، چیزوں، تختوں وغیرہ کی کل کمیت = 280 kg

فنکار کی کمیت = 60 kg

حوالہ اور تجرباتی دونوں تاروں سے منسلک پلڑوں میں ایک یکساں چھوٹا وزن رکھا جاتا ہے تاکہ تار بالکل سیدھے ہو جائیں اور ورنیر کی ریڈنگ (Reading) نوٹ کر لی جاتی ہے۔ اب تجرباتی تار پر بتدریج مزید اوزانوں کے ذریعے لوڈ لگا کر اسے تناؤ ذر کے زیر اثر لایا جاتا ہے اور ورنیر اسکیل کی ریڈنگ دوبارہ نوٹ کر لی جاتی ہے۔ ان دو ورنیر اسکیل کی ریڈنگ کا فرق، تار میں پیدا ہوئی تطویل (لمبائی میں اضافہ) بتاتا ہے۔ فرض کیجیے کہ R اور L تجرباتی تار کے آغازی نصف قطر اور آغازی لمبائی، بالترتیب ہیں۔ تب، تار کا تراشی رقبہ πr^2 ہوگا۔ فرض کیجیے M وہ کمیت ہے جس نے تار میں تطویل ΔL پیدا کی ہے۔ اس لیے، لگائی گئی قوت Mg کے مساوی ہے، جہاں g، مادی کشش اسراع (Acceleration due to gravity) ہے۔ مساوات (9.8) سے، تجرباتی تار کا ینگ مقیاس دیا جاتا ہے:

$$Y = \frac{\sigma}{\epsilon} = \sqrt{\frac{Mg}{\pi r^2} \cdot \frac{L}{\Delta L}}$$

$$= Mg \times L / (\pi r^2 \times \Delta L) \quad (9.9)$$

9.6.3 تحریفی مقیاس (Shear modulus)

تحریفی ذر کی اس سے مطابقت رکھنے والے تحریفی بگاڑ سے نسبت، مادے کا تحریفی مقیاس کہلاتا ہے، جسے G سے ظاہر کیا جاتا ہے۔ اسے استواریت کا مقیاس (Modulus of Rigidity) بھی کہتے ہیں۔

$$G = \text{تحریفی بگاڑ} / (\sigma_s) \text{ تحریفی ذر}$$

$$G = (F/A) / (\Delta x/L)$$

$$= (F \times L) / (A \times \Delta x) \quad (9.10)$$

اسی طرح، مساوات 9.4 سے

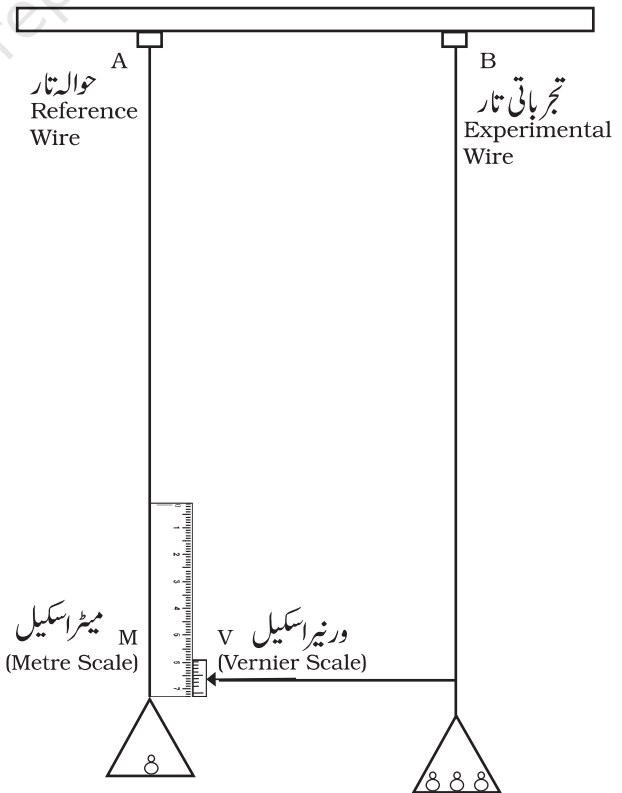
$$G = (F/A) / \theta$$

$$= F / (A \times \theta) \quad (9.11)$$

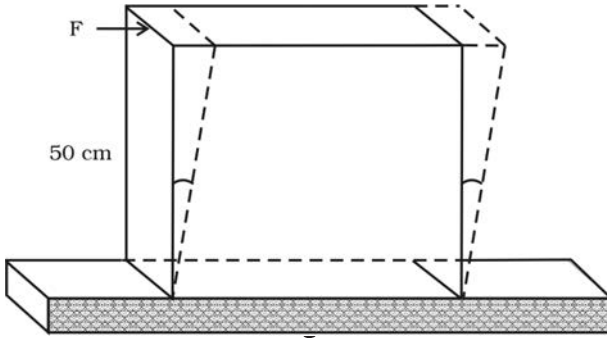
تحریفی ذر σ_s کو ایسے بھی ظاہر کیا جاسکتا ہے

$$= G \times \theta \sigma_s \quad (9.12)$$

ہے جن کی لمبائیاں اور نصف قطر یکساں ہیں اور جو ایک دوسرے کے متوازی ایک جامد استوار سہارے سے لٹکائے گئے ہیں۔ تار A (جو حوالہ تار کہلاتا ہے) میں ایک ملی میٹر پیمانہ M لگا ہوتا ہے اور ایک وزن رکھنے کے لیے پلڑا لگا ہوتا ہے۔ تار B (جو تجرباتی تار کہلاتا ہے)، جس کا تراشی رقبہ ہموار ہے، میں بھی ایک پلڑا لگا ہوتا ہے، جس میں معلوم اوزان رکھے جاسکتے ہیں۔ تجرباتی تار B کے نچلے سرے پر ایک سوئی (Pointer) لگی ہوتی ہے، جس سے ایک ورنیر اسکیل (Vernier Scale) منسلک ہوتی ہے، اور ملی میٹر اسکیل M حوالہ تار A سے جڑا ہوتا ہے۔ پلڑے میں رکھے گئے اوزان ایک قوت نیچے کی سمت میں لگاتے ہیں اور تجرباتی تار کو تناؤ ذر کے زیر اثر کھینچتے ہیں۔ تار میں پیدا ہوئی تطویل (لمبائی میں اضافہ) کو ورنیر نظام کے ذریعے ناپا جاتا ہے۔ حوالہ تار اس لیے استعمال کیا جاتا ہے، تاکہ اگر درجہ حرارت میں تبدیلی کی وجہ سے لمبائی میں کوئی تبدیلی ہو تو اس کی تلافی کی جاسکے، کیونکہ درجہ حرارت کی تبدیلی کی وجہ سے جو تبدیلی حوالہ تار کی لمبائی میں ہوگی، وہی یکساں تبدیلی تجرباتی تار میں بھی ہوگی۔ (درجہ حرارت کے ان اثرات کا تفصیلی مطالعہ ہم باب 11 میں کریں گے)۔



شکل 9.6: ایک تار کے مادے کا ینگ مقیاس معلوم کرنے کا ایک نظم



شکل 9.7

ہم جانتے ہیں کہ $G = \text{ذر} / (\Delta x / L) = \text{تحرینی بگاڑ}$
 اس لیے $(\Delta x) = (\text{ذر} \times L) / G$
 $= (1.8 \times 10^6 \text{ N m}^{-2} \times 0.5 \text{ m}) / (5.6 \times 10^9 \text{ N m}^{-2})$
 $= 1.6 \times 10^{-4} \text{ m} = 0.16 \text{ mm}$

9.6.4 حجم مقیاس (Bulk modulus)

حصہ (9.3) میں ہم دیکھ چکے ہیں کہ جب ایک جسم کو ایک سیال میں ڈبوایا جاتا ہے تو اس پر آبی ذرر لگتا ہے (جو عددی قدر میں آبی دباؤ کے مساوی ہوتا ہے)۔ اس کی وجہ سے جسم کے حجم میں کمی آجاتی ہے اور اس طرح ایک بگاڑ پیدا ہوتا ہے جو حجم بگاڑ کہلاتا ہے [مساوات (9.5)]۔
 آبی ذرر کی اس کے مطابق آبی بگاڑ سے نسبت حجم مقیاس کہلاتی ہے۔
 اسے علامت B سے ظاہر کیا جاتا ہے۔

$$B = -p / (\Delta V / V) \quad (9.13)$$

منفی علامت یہ ظاہر کرتی ہے کہ دباؤ میں اضافہ کے ساتھ حجم میں کمی آتی ہے۔ یعنی کہ اگر p مثبت ہے، ΔV منفی ہے۔ اس لیے ایک ایسے نظام کے لیے جو توازن میں ہے، حجم مقیاس کی قدر، ہمیشہ مثبت ہوگی۔ حجم مقیاس کی SI اکائی وہی ہے جو دباؤ کی ہے، یعنی Pa یا N m^{-2} ۔ کچھ عام مادی اشیا کے حجم مقیاس کی قدریں جدول 9.3 میں دی گئی ہیں۔

حجم مقیاس کا معکوس (Reciprocal) داب پذیری (Compressibility) کہلاتا ہے اور اسے k سے ظاہر کرتے ہیں۔ اس کی تعریف اس طرح کی جاتی ہے کہ یہ حجم میں کسری تبدیلی فی دباؤ میں اکائی اضافہ ہے:

$$k = (1/B) = - (1/\Delta p) \times (\Delta V / V) \quad (9.14)$$

تحرینی مقیاس کی SI اکائی Pa یا N m^{-2} ہے۔ کچھ عام مادی اشیا کے تحرینی مقیاس کی قدریں جدول 9.2 میں دی گئی ہیں۔ یہ دیکھا جاسکتا ہے کہ تحرینی مقیاس کی قدر عام طور پر ینگ مقیاس کی قدر (جدول 9.1) سے کم ہوتی ہے۔ زیادہ تر مادوں کے لیے $G \approx Y/3$ ۔

جدول 9.2 کچھ عام مادی اشیا کے تحرینی مقیاس

مادی شے	G (10^9 Nm^{-2} یا GPa)
المونیم	25
پیتل	36
تانبہ	42
شیشہ	23
لوہا	70
سیسہ	5.6
نکل	77
فولاد	84
ٹینسٹن	150
لکڑی	10

مثال 9.4: ایک مربع شکل کی سیسے کی سلیب، جس کا ایک ضلع 50cm اور موٹائی 10cm ہے، پر $9.0 \times 10^4 \text{ N}$ تحرینی ذرر لگایا جاتا ہے (اس کے پتلے رخ پر) نچلے کنارے کو زمین سے منسلک کر دیا جاتا ہے۔ اوپری کنارے میں کتنا نقل پیدا ہوگا۔

جواب: سیسہ کی سلیب زمین پر نصب ہے اور قوت پتلے رخ کے متوازی لگائی گئی ہے، جیسا کہ شکل 9.7 میں دکھایا گیا ہے۔ اس رخ کا رقبہ، جس کے متوازی قوت لگائی گئی ہے۔

$$A = 50 \text{ cm} \times 10 \text{ cm}$$

$$= 0.5 \text{ m} \times 0.1 \text{ m}$$

$$= 0.05 \text{ m}^2$$

اس لیے لگایا گیا ذرر ہے

$$= (9.4 \times 10^4 \text{ N} / 0.05 \text{ m}^2)$$

$$= 1.80 \times 10^6 \text{ N.m}^{-2}$$

دب پذیر ہیں۔ گیسوں، ٹھوس اشیا کے مقابلے میں تقریباً دس لاکھ گنا زیادہ دب پذیر ہیں۔ گیسوں کی دب پذیری کی قدریں بڑی ہوتی ہیں، جو دباؤ اور درجہ حرارت کے ساتھ تبدیل ہوتی ہیں۔ ٹھوس اشیا کی غیر دب پذیری کی بنیادی وجہ ان کے ایٹموں کی مضبوط بندش ہے۔ رقیق اشیا میں ان کے مالیکیول بھی ایک دوسرے سے بندھے ہوتے ہیں لیکن اتنی مضبوطی سے نہیں جتنی مضبوطی ٹھوس مالیکیول میں ہوتی ہے۔ گیسوں میں مالیکیول بہت ہی کم قوت سے جڑے ہوتے ہیں۔

جدول 4.9 میں ذر کی مختلف قسموں، بگاڑ کی مختلف قسموں، لچک مقیاس اور مادے کی متعلقہ حالت کو ایک نظر میں دیکھا جاسکتا ہے۔

◀ مثال 9.5: بحر ہند کی اوسط گہرائی 3000m ہے۔ سمندر کی سب سے نیچی سطح پر پانی کا کسری دب معلوم کیجیے۔ دیا ہوا ہے کہ پانی کا حجم مقیاس $2.2 \times 10^9 \text{ N m}^{-2}$ ہے۔ $(g = 10 \text{ m s}^{-2})$

جواب: 3000m کے پانی کے کالم کے ذریعے سب سے نیچی پرت پر لگایا گیا دباؤ

$$\begin{aligned} p &= h\rho g = 3000 \text{ m} \times 1000 \text{ kg m}^{-3} \times 10 \text{ ms}^{-2} \\ &= 3 \times 10^7 \text{ kg m}^{-1} \text{ s}^{-2} \\ &= 3 \times 10^7 \text{ N m}^{-2} \end{aligned}$$

کسری دب $\Delta V/V$ ہے۔

جدول 9.4 ذر، بگاڑ اور مختلف لچک مقیاس

ذر کی قسم	ذر	بگاڑ	تبدیلی جسم میں شکل میں	لچک مقیاس	مقیاس کا نام	مادے کی حالت
یائے دانی ($\sigma = F/A$)	دو مساوی اور مخالف قوتیں، جو مخالف رخوں پر عمود ہیں	تطویل یا دب، جو قوت کی سمت کے متوازی ہے ($\Delta L/L$) (طولی بگاڑ)	ہاں	نہیں	$Y = (F \times L) / (A \times \Delta L)$	ٹھوس
تحریری ($\sigma_s = F/A$)	دو مساوی اور مخالف قوتیں جو مخالف سطحوں کے متوازی ہیں۔ ہر صورت میں قوتیں ایسی ہیں کہ کل قوت اور کل پیچہ صفر ہو	خالص انحراف، θ	ہاں	نہیں	$G = \frac{F}{(A \times \theta)}$	ٹھوس
آبی	قوتیں، جو سطح پر ہر جگہ عمودی ہیں، قوت فی اکائی رقبہ (دباؤ) ہر جگہ یکساں ہے۔	حجم تبدیلی (دباؤ یا تطویل) ($\Delta V/V$)	نہیں	ہاں	$B = -p / (\Delta V/V)$	ٹھوس، رقیق اور گیس

جدول 9.3 میں دیے ہوئے تخمینوں سے یہ دیکھا جاسکتا ہے کہ ٹھوس اشیا کے لیے حجم مقیاس کی قدریں رقیق اشیا کے حجم مقیاس کی قدروں سے بہت زیادہ ہوتی ہیں، اور رقیق اشیا کی یہ قدریں گیس اشیا کی ان قدروں سے بہت زیادہ ہوتی ہیں۔

جدول 9.3: کچھ عام مادی اشیا کے حجم مقیاس

ٹھوس مادی شے	B (10^9 N m^{-2} or GPa)
المونیم	72
پیتل	61
تانبا	140
شیشہ	37
لوہا	100
نیکل	260
فولاد	160
رقیق	
پانی	2.2
استھانول	0.9
کاربن ڈائی سلفائیڈ	1.56
گلیسرین	4.76
پارہ	25
گیس	
ہوا (STP پر)	1.0×10^{-4}

اس لیے ٹھوس سب سے کم دب پذیر ہیں اور گیسیں سب سے زیادہ

$$W = \int_0^l \frac{YAl}{L} dl = \frac{YA}{2} \times \frac{l^2}{L}$$

$$W = \frac{1}{2} \times Y \times \left(\frac{l}{L}\right)^2 \times AL$$

$$= \frac{1}{2} \times \text{تار کا حجم} \times (\text{تناؤ})^2 \times \text{ینگ ماڈیولس}$$

$$= \frac{1}{2} \times \text{تار کا حجم} \times \text{تناؤ} \times \text{دباؤ}$$

یہ کام تار کے اندر الاسٹک مضمر توانائی (U) کی شکل میں جمع ہو جاتا ہے۔

لہذا تار کی فی اکائی حجم الاسٹک مضمر توانائی (u) ہے

$$u = \frac{1}{2} \times \sigma \epsilon \quad \text{A} \quad (9.15)$$

9.7 مادی اشیا کے پچھلے برتاؤ کے استعمال

(APPLICATION OF ELASTIC BEHAVIOUR OF MATERIALS)

مادی اشیا کا پچھلدار برتاؤ روزمرہ زندگی میں ایک اہم کردار ادا کرتا ہے۔ تمام انجینئرنگ ڈیزائنوں کے لیے مادوں کے پچھلے برتاؤ کی دقیق (حد درجہ درست Precise) معلومات درکار ہوتی ہیں۔ مثال کے طور پر، عمارت کا نقشہ (ڈیزائن) تیار کرتے وقت، کالموں، بیموں (Beams) اور سہاروں (Support) کا ساخت نما ڈیزائن تیار کرتے وقت ہمیں استعمال ہونے والی مادی اشیا کی طاقت (Strength) کی معلومات درکار ہوتی ہیں۔ کیا آپ نے کبھی سوچا کہ پلوں میں سہارے وغیرہ کے لیے استعمال ہونے والی بیموں کا تراشہ I قسم کا کیوں ہوتا ہے؟ ایک ریت کے ڈھیر یا پہاڑ کی شکل اہرام کی شکل جیسی کیوں ہوتی ہے؟ ان سوالوں کے جواب ساخت نما انجینئرنگ کے مطالعے سے حاصل کیے جاسکتے ہیں، جو ان تصورات پر مبنی ہیں جو آپ نے یہاں سیکھے ہیں۔

بھاری وزنوں کو اٹھانے یا ایک جگہ سے دوسری جگہ لے جانے کے لیے استعمال ہونے والے کرین (Crane) میں ایک موٹی دھات کی زنجیر لگی ہوتی ہے، جس سے وزن کو منسلک کیا جاتا ہے۔ زنجیروں کو گرا ریوں اور موٹروں کی مدد سے اوپر کھینچا جاتا ہے۔ فرض کیجیے ہم ایک ایسا کرین بنانا چاہتے ہیں جس کی وزن اٹھانے کی گنجائش 10 (Capacity) میٹرک ٹن ہو (1=1000kg میٹرک ٹن) فولادی زنجیر کو کتنا موٹا ہونا چاہئے؟ ہم ظاہر ہے

$$\Delta V/V = \sigma/B = (3 \times 10^7 \text{ N m}^{-2}) / (2.2 \times 10^9 \text{ N m}^{-2})$$

$$= 1.36 \%$$

$$\text{یا } 1.36 \times 10^{-2}$$

9.6.5 پوائسن کی نسبت (Poisson's ratio)

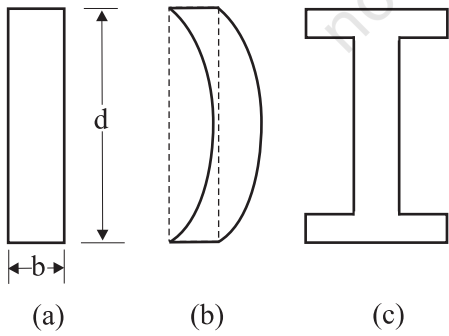
ینگ کے ماڈیولس تجربہ کے محتاط انداز میں کیے گئے مشاہدات (سیکشن 9.6.2 میں اس کی وضاحت کی گئی ہے) سے یہ ظاہر ہوتا ہے کہ تار کے کراس سیکشن (یا قطر) میں معمولی سی تخفیف ہو جاتی ہے۔ لگائی گئی قوت کے عمودی تناؤ (Strain) کو جانبی تناؤ (Lateral Strain) کہتے ہیں۔ سائنم پوائسن نے اس بات کی طرف اشارہ کیا ہے کہ پچک کی حد (Elastic limit) کے اندر اندر، جانبی تناؤ عمودی تناؤ کے راست تناسب میں ہوتا ہے۔ تنی ہوئی تار میں جانبی تناؤ کی عمودی تناؤ سے نسبت پوائسن نسبت کہلاتی ہے۔ اگر تار کا اصل قطر d اور دباؤ کی وجہ سے قطر میں ہونے والی تخفیف Δd ہے تو جانبی تناؤ Δd/d ہوگا۔ اگر تار کی اصل لمبائی L اور تناؤ کی وجہ سے تار کی طوالت (لمبائی) میں تبدیلی ΔL ہے تو عمودی تناؤ ΔL/L ہوگا۔ اس طرح پوائسن کی نسبت (Δd/d) / (ΔL/L) یا (Δd/L) × (L/d) ہوگی۔ پوائسن کی نسبت دو تناؤوں کی نسبت ہے: یہ ایک خالص عدد ہے اور اس کی کوئی اکائی یا ابعاد نہیں ہوتے۔ اس کی قدر صرف مادہ کی نوعیت پر منحصر ہوتی ہے۔ اسٹیل کے لیے یہ قدر 0.28 اور 0.30 کے درمیان ہوتی ہے جبکہ ایلومینیم بھرتوں کے لیے 0.33 ہے۔

9.6.6 تنی ہوئی تار میں الاسٹک مضمر توانائی

جب کسی تار کو تناؤ کی حالت میں رکھا جاتا ہے تو بین ایٹمی قوتوں کے خلاف کام کیا جاتا ہے۔ یہ کام تار کے اندر الاسٹک مضمر توانائی کی شکل میں جمع ہو جاتا ہے۔ جب اصل لمبائی L اور کراس سیکشن A والے تار پر تار کی لمبائی کی سمت میں قوت F لگائی جاتی ہے تو فرض کیجیے کہ تار کی لمبائی بڑھ کر L ہو جاتی ہے۔ تب مساوات (9.8) سے ہمیں حاصل ہوتا ہے $F = YA \times (l/L)$ یہاں Y تار کے مادہ کا ینگ ماڈیولس ہے۔ اب لامتناہی طور پر چھوٹی لمبائی dl کے لیے مزید تطویل (Elongation) کے لیے کیا گیا کام dW ہوگا $F \times dl$ یا $YAl dl$ لہذا تار کی لمبائی میں l سے L + l یعنی l سے l = l تک اضافہ کے لیے کیے گئے کام (W) کی مقدار

یہ رشتہ، آپ نے اب تک جو کچھ سیکھا ہے اور تھوڑے سے کیکولس کے استعمال سے مشتق کیا جاسکتا ہے۔ مساوات (9.16) سے ہم دیکھتے ہیں کہ ایک دیے ہوئے لوڈ کے لیے خمیدگی (Bending) کو کم کرنے کے لیے ہمیں ایسا مادہ استعمال کرنا چاہئے، جس کی یگ مقیاس کی قدر زیادہ ہو۔ ایک دیے ہوئے مادے کے لیے، خمیدگی کو کم کرنے میں، چوڑائی بڑھانے کے مقابلے میں گہرائی کو بڑھانا زیادہ موثر ہوتا ہے کیونکہ δ متناسب ہے d^{-3} کے اور صرف b^{-1} کے۔ (بے شک، سہاروں کے بیچ کی لمبائی جتنی ممکن ہو سکے کم ہونا چاہیے)۔ لیکن گہرائی میں اضافہ کرنے سے، اگر لوڈ اپنے بالکل صحیح مقام پر نہ ہو (ایک ایسے پل پر جس پر سواریاں آ جا رہی ہیں۔ یہ نظم بہت مشکل ہے)، تو گہری چھڑ اس طرح سے ٹرسکتی ہے، جیسا کہ شکل 9.9b میں دکھایا گیا ہے۔ اسے خم آوری (Buckling) کہتے ہیں۔ اس سے بچنے کے لیے، ایک عام سمجھوتہ شکل 9.9(c) میں دکھائی گئی تراشی شکل ہے۔ یہ تراش لوڈ سہارنے کے لیے بڑی سطح اور خمیدگی کو روکنے کے لیے کافی گہرائی مہیا کرتی ہے۔ یہ شکل بیم کی مضبوطی میں کوئی کمی کیے بغیر اس کے وزن کو کم کر دیتی ہے اور اس طرح لاگت بھی کم ہو جاتی ہے۔

عمارتوں اور پلوں میں ستونوں اور کالموں کا استعمال بھی بہت عام ہے۔ ایک ہموار کناروں والا ستون، جیسا کہ 9.10(a) میں دکھایا گیا ہے اس ستون



شکل 9.9: ایک بیم کے تراشے کی مختلف شکلیں (a) ایک چھڑ کا مستطیل نما تراشہ (b) ایک پتلی چھڑ اور وہ کیسے خم آور ہو سکتی ہے (c) ایک لوڈ برداشت کرنے والی چھڑ کی عام طور سے استعمال ہونے والی تراش

کہ چاہتے ہیں کہ وزن زنجیر میں مستقل تخریب نہ پیدا کر دے۔ اس لیے زنجیر کی لمبائی میں ہوانے والا اضافہ، پک حد سے زیادہ نہیں ہونا چاہیے۔ جدول 9.1 سے ہم دیکھ سکتے ہیں کہ ہلکے فولاد کی حصول طاقت (Sy) تقریباً $300 \times 10^6 \text{ N m}^2$ ہے۔ اس لیے زنجیر کا تراشی رقبہ (A)، کم از کم ہونا چاہیے۔

$$A \geq W / \sigma_y = Mg / \sigma_y \quad (9.16)$$

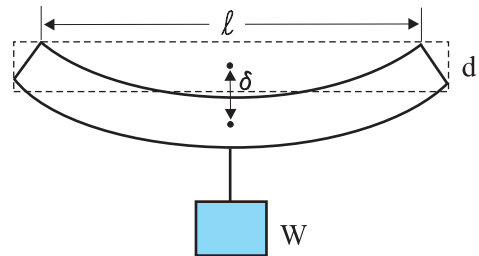
$$= (10^4 \text{ kg} \times 9.8 \text{ ms}^{-2}) / (300 \times 10^6 \text{ Nm}^{-2})$$

$$= 3.3 \times 10^{-4} \text{ m}^2$$

جو ایک دائری تراش کی زنجیر کے لیے تقریباً 1cm نصف قطر سے مطابقت رکھتا ہے۔ عام طور سے تحفظ کے لیے وزن (لوڈ) کو تقریباً 1/10 رکھا جاتا ہے۔ اس لیے ایک مقابلہ موٹی زنجیر، جس کا نصف قطر تقریباً 3cm ہو، کی سفارش کی جائے گی۔ اس نصف قطر کا ایک اکیلاتار، عملی طور پر ایک استوار چھڑ ہوا گا۔ اس لیے زنجیریں ہمیشہ کئی پتلے تاروں کو آپس میں گوندھ کر بنائی جاتی ہیں۔ تاکہ بنانے میں سہولت ہو اور وہ لچیلی اور زیادہ مضبوط ہوں۔

ایک پل کو اس طرح ڈیزائن کیا جاتا ہے کہ وہ اس پر سے گزرنے والی سوار یوں کا وزن، ہوا کی قوت اور خود اپنے وزن کو برداشت کر سکے۔ اسی طرح عمارتوں کے ڈیزائن میں بیوں اور کالموں کا استعمال بہت عام ہے۔ ان دونوں صورتوں میں لوڈ کے زیر اثر بیوں کے مڑ جانے کا مسئلہ خصوصی اہمیت کا حامل ہے۔ بیم کو بہت زیادہ مڑنا یا ٹوٹنا نہیں چاہئے۔ آئیے ایک ایسی بیم لیں جس کے مرکز پر لوڈ لگایا گیا ہے اور کناروں کے نزدیک سہارے ہیں، جیسا کہ شکل 9.8 میں دکھایا گیا ہے۔ ایک لمبائی، b چوڑائی اور d گہرائی کی چھڑ کے جب مرکز پر لوڈ لگایا جاتا ہے تو اس میں پیدا ہونے والے خم کی مقدار دی جاتی ہے:

$$\delta = W l^3 / (4bd^3 Y) \quad (9.16)$$



شکل 9.8: ایک بیم جس کے کنارے سہاروں پر ہیں اور مرکز پر لوڈ لگایا گیا ہے۔

پہاڑ کی بنیاد، ہموار داب کے زیر اثر نہیں ہوتی، اس سے چٹانوں کو کچھ تحریفی ذرر حاصل ہو جاتا ہے اور جس کی وجہ سے وہ کھسکتی ہیں۔ اس لیے اوپر کے تمام مادے کی وجہ سے ذرر اس فاصل (Critical) تحریفی ذرر سے کم ہونا چاہئے، جس پر چٹانیں کھسکتی ہیں۔

ایک h اونچائی کے پہاڑ کی نچلی سطح پر، پہاڑ کے وزن کی وجہ سے لگ رہی قوت فی اکائی رقبہ، hpg ہے، جہاں p پہاڑ کے مادے کی کثافت ہے اور g مادی کشش اسراع ہے۔ نچلی سطح پر مادہ اس قوت کو عمودی سمت میں محسوس کرتا ہے اور پہاڑ کے اطرافنی اضلاع آزاد ہوتے ہیں۔ اس لیے یہ دباؤ یا حجم داب والی صورت نہیں ہے۔ یہاں ایک تحریفی جز ہے جو تقریباً hpg ہے۔ اب ایک مخصوص چٹان کی لچک حد $30 \times 10^7 \text{ N m}^{-2}$ ہے۔ اسے hpg کے مساوی رکھنے پر،

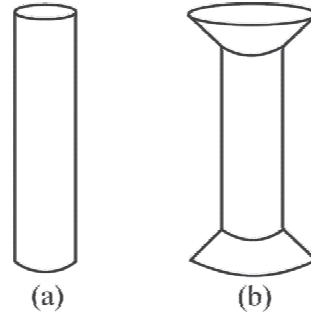
جب کہ $\rho = 3 \times 10^3 \text{ kg m}^{-3}$ ہمیں ملتا ہے۔

$$hpg = 30 \times 10^7 \text{ N m}^{-2}$$

$$h = 30 \times 10^7 \text{ N m}^{-2} / (3 \times 10^3 \text{ kg m}^{-3} \times 10 \text{ m s}^{-2})$$

$$= 10 \text{ km}$$

کے مقابلے میں کم وزن سہار سکتا ہے، جس کے کناروں پر منقسم شکل ہو [شکل 9.10(b)]۔ ایک پل یا عمارت کے دقیق ڈیزائن کے لیے ان حالات کا لحاظ رکھنا پڑتا ہے، جن میں ان کا استعمال ہوگا، اور ساتھ ہی قیمت، لمبی مدت اور قابل استعمال مادوں کی معتبری (Reliability) وغیرہ کا بھی لحاظ کرنا پڑتا ہے۔



شکل 9.10: ستون یا کالم (a) ہموار کناروں والا ستون (b) منقسم کناروں والا ستون

اس سوال کا جواب بھی کہ زمین پر سب سے اونچے پہاڑ کی بلندی 10 km کیوں ہے، چٹانوں کی لچک خاصیتوں کو ملاحظہ کر کے دیا جاسکتا ہے۔ ایک

خلاصہ

1. ذرر، بحالی قوت فی اکائی رقبہ ہے اور بگاڑ، ابعاد میں کسری تبدیلی ہے۔ عمومی طور پر ذرر کی تین قسمیں ہیں۔ (a) تناؤ ذرر (جو کھینچنے سے منسلک ہے) یا داب ذرر (جو دبانے سے منسلک ہے) (b) تحریفی ذرر (c) آبی ذرر
2. چھوٹی تخریبوں کے لیے، ذرر، بگاڑ کے راست متناسب ہے۔ یہ ہوک کا قانون کہلاتا ہے۔ متناسبت کا مستقلہ، چمک کا مقیاس کہلاتا ہے۔ چمک کے تین مقیاس: بنگ کا مقیاس، تحریفی مقیاس اور حجم مقیاس، اشیا کے پکھیلے برتاؤ کو بیان کرنے کے لیے استعمال کیے جاتے ہیں کیونکہ یہ ان تخریبی قوتوں سے متعلق ہیں جو مادوں پر لگتی ہیں۔ ٹھوس اشیا کی ایک قسم، چمکیہ کہلاتی ہے، جس پر ہوک کا قانون نہیں لاگو ہوتا ہے۔
3. جب ایک شے تناؤ یا داب کے زیر اثر ہوتی ہے، تو ہوک کا قانون یہ شکل اختیار کر لیتا ہے:

$$F/A = \Delta L / L$$

- جہاں $\Delta L / L$ شے کا تناؤ یا داب بگاڑ ہے، F/A اس قوت کی عددی قدر ہے جو بگاڑ پیدا کر رہی ہے، A وہ تراشی رقبہ ہے جس پر F لگائی گئی ہے (A پر عمود) اور Y اس شے کا بنگ کا مقیاس ہے۔ ذرر F/A ہے۔
4. قوتوں کا ایک جوڑا جب اوپری اور نچلے رخ کے متوازی لگایا جاتا ہے، تو ٹھوس میں اس طرح تخریب پیدا ہوتی ہے کہ اوپری رخ، نچلے رخ کی مناسبت سے آگے کی طرف کھسک جاتا ہے۔ اوپری رخ کا افقی ہٹاؤ ΔL انقباضی (Vertical) اونچائی L پر عمود ہوتا ہے۔ اس قسم کی تخریب 'تحریف' کہلاتی ہے اور اس کا مطابق ذرر تحریفی ذرر کہلاتا ہے۔ اس قسم کا ذرر صرف ٹھوس اشیا میں ہی ممکن ہے۔
- اس قسم کی تخریب میں ہوک کے قانون کی شکل ہو جاتی ہے: $F/A = G \times \Delta L / L$ جہاں ΔL شے کے ایک سرے کا لگائی ہوئی قوت F کی سمت میں نقل ہے، اور G تحریف مقیاس ہے۔ ذرر F/A ہے۔
5. جب ایک شے پر اس کے ارد گرد کا رقیق ذرر لگاتا ہے، جس کی وجہ سے اس پر آبی داب کام کرتا ہے، تو ہوک کے قانون کی شکل ہے:

$$P = B(\Delta V / V)$$

- جہاں P سیال کی وجہ سے شے پر لگ رہا دباؤ ہے (آبی ذرر)، $\Delta V / V$ (حجم بگاڑ) اس دباؤ کی وجہ سے ہو رہی شے کے حجم میں کسری تبدیلی کی عددی قدر ہے، اور B شے کا حجم مقیاس ہے۔

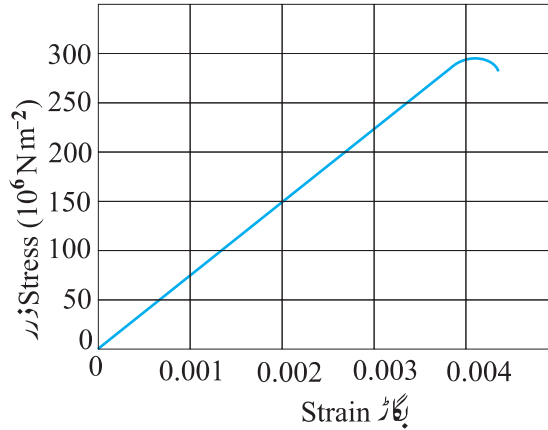
قابل غور نکات (POINTS TO PONDER)

1. ایک تار کو اگر چھت سے لٹکایا جائے اور اس کے دوسرے سرے پر ایک وزن (F) منسلک کر کے اسے کھینچا جائے، تو تار پر چھت کے ذریعے لگ رہی قوت وزن کے مساوی اور مخالف ہے۔ لیکن، تار کے کسی بھی تراش A پر لگ رہا تناؤ صرف F ہے، $2F$ نہیں۔ اس لیے، تناؤی ذرر، جو تناؤ فی اکائی رقبہ ہے، F/A کے مساوی ہے۔
2. ہوک کا قانون، ذرر۔ بگاڑ منحنی کے صرف خطی حصے میں درست ہے۔

3. ینگ کا مقیاس اور تحریف مقیاس صرف ٹھوس اشیا کے لیے با معنی ہیں، کیونکہ صرف ٹھوس اشیا کی ہی لمبائی اور شکل معین ہوتی ہے۔
4. حجم مقیاس، ٹھوس، رقیق اور گیس، تینوں قسم کی اشیا کے لیے با معنی ہے۔ یہ حجم میں تبدیلی ہے، جب کہ حجم کا ہر حصہ ایک ہموار ذر کے زیر اثر ہو، اس طرح کہ جسم کی شکل میں کوئی تبدیلی نہ ہو۔
5. بھرت (alloys) اور لچکیہ (Clustomer) اشیا کے مقابلے میں دھاتوں کی ینگ مقیاس کی قدریں بڑی ہوتی ہیں۔ ایک ایسے مادی شے جس کے ینگ کی قدر بڑی ہو، اس کی لمبائی میں خفیف تبدیلی کرنے کے لیے بڑی قوت درکار ہوتی ہے۔
6. ہم عام زندگی میں یہ سمجھتے ہیں کہ جو مادی شے زیادہ کھینچ جاتی ہے۔ وہ زیادہ لچکیلی ہے۔ لیکن یہ ایک غلط نام ہے۔ دراصل وہ مادی اشیا جو ایک دیے ہوئے لوڈ کے زیر اثر جتنی کم کھینچتی ہیں وہ اتنی ہی زیادہ لچکیلی مانی جاتی ہیں۔
7. عمومی طور پر ایک سمت میں لگ رہی تخریبی قوت، دوسری سمتوں میں بھی ذر پیدا کر سکتی ہے۔ ایسی صورتوں میں، ذر اور بگاڑ کے درمیان تناسبیت صرف ایک لچک مستقلہ کے ذریعے نہیں بیان کی جاسکتی۔ مثال کے طور پر، ایک تار جو طولی بگاڑ کے زیر اثر ہے، اس کی عرضی ابعاد (تراشی رقبہ) میں بھی خفیف تبدیلی ہوتی ہے، جسے مادے کے ایک دوسرے لچک مقیاس کے ذریعے بیان کیا جاتا ہے۔ اس مقیاس کو پوائے زال تناسب (Poisson Ratio) کہتے ہیں۔
8. ذر ایک سمتی مقدار نہیں ہے۔ کیونکہ قوت کے برخلاف، ذر کو کوئی مخصوص سمت نہیں تفویض کی جاسکتی ہے۔ جب کہ ایک جسم کے کسی متعین تراشہ کے متعین ضلع پر لگ رہی قوت کی ایک متعین سمت ہوتی ہے۔

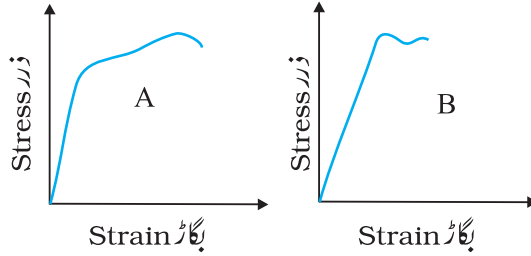
مشق

- 9.1 4.7 لمبا اور $3.0 \times 10^{-5} \text{ m}^2$ تراشی رقبہ والا فولادی تار، ایک دیے ہوئے لوڈ سے کھینچے جانے پر اتنا ہی کھینچتا ہے، جتنا کہ اس لوڈ کے ذریعے کھینچے جانے پر 3.5 لمبا اور $4.0 \times 10^{-5} \text{ m}^2$ تراشی رقبہ کا تانبہ کا تار کھینچتا ہے۔ فولاد کے ینگ مقیاس کی تابنے کے ینگ مقیاس سے کیا نسبت ہے۔
- 9.2 شکل 9.11 میں ایک دی ہوئی مادی شے کا ذر۔ بگاڑ منحنی دکھایا گیا ہے۔ اس مادے کے (a) ینگ کا مقیاس اور (b) نزدیکی حاصل طاقت کیا ہیں۔



شکل 9.11

9.3 دو مادی اشیا A اور B کے لیے ذرر۔ بگاڑ گراف شکل 9.12 میں دکھائے گئے ہیں۔



شکل 9.12

گراف یکساں اسکیل پر کھینچے گئے ہیں۔

(a) کس مادی شے کی ینگ کے مقیاس کی قدر مقابلاً زیادہ ہے۔

(b) دونوں میں سے کون سی چیز مقابلاً زیادہ مضبوط ہے۔

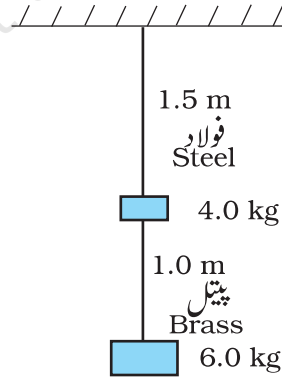
9.4 مندرجہ ذیل میں دونوں بیانات غور سے پڑھیے اور وجہ کے ساتھ بتائیے کہ یہ صادق (صحیح) ہے یا غیر صادق (غلط)

(a) ربر کے ینگ مقیاس کی قدر، فولاد کے ینگ مقیاس کی قدر سے زیادہ ہے۔

(b) ایک لچھے (Coil) کا کھینچنا، اس کے تحریقی مقیاس کے ذریعے معلوم کیا جاتا ہے۔

9.5 دو تار ہیں، جن میں سے ایک فولاد کا بنا ہے اور دوسرا پیتل کا۔ دونوں میں سے ہر ایک کا قطر 2.5 cm ہے، اور ان پر شکل

9.13 میں دکھائے گئے طریقے سے لوڈ لگایا جاتا ہے۔ لوڈ لگائے بغیر، فولاد کے تار کی لمبائی 1.5 m اور پیتل کے تار کی لمبائی 1.0 m ہے۔ فولاد اور پیتل کے تار کی الگ الگ تطویل معلوم کیجیے۔



شکل 9.13

9.6 ایک المونیم مکعب کا ایک کنارہ 10 cm لمبا ہے۔ مکعب کا ایک رخ مضبوطی سے عمودی دیوار میں نصب کر دیا جاتا ہے۔ مکعب

کے مخالف رخ سے 100 Kg کی کمیت منسلک کی جاتی ہے۔ المونیم کا تحریف مقیاس 25 GPa ہے۔ رخ کا انتصابی انفرج

(Vertical deflection) کیا ہے؟

9.7 معمولی فولاد کے بنے چار متماثل کھوکھلے استوانی کالم، $50,000 \text{ Kg}$ کمیت کی ایک بڑی ساخت کو سہارا دیتے ہیں۔ ہر کالم کے اندرونی اور بیرونی نصف قطر، بالترتیب 30 cm اور 60 cm ہیں۔ لوڈ تقسیم کو ہموار مانتے ہوئے، ہر کالم کے دانی بگاڑ کا حساب لگائیے۔

9.8 تانبہ کے ایک ٹکڑے کا مستطیلی تراشی رقبہ $5.2 \text{ mm} \times 19.1 \text{ mm}$ ہے۔ اسے $44,500$ قوت کے ذریعے تناؤ میں کھینچا جاتا ہے۔ جس سے صرف پچھلی تخریبیں پیدا ہوتی ہیں۔ پیدا ہونے والے بگاڑ کا حساب لگائیے۔

9.9 ایک فولاد کا بنا تار، جس کا نصف قطر 1.5 cm ہے، اسکی (SKI) علاقہ میں ایک Chair lift کو سہارا دیتا ہے۔ اگر زیادہ سے زیادہ ذر کو 10^8 N m^{-2} سے نہیں بڑھنا چاہیے، تو وہ زیادہ سے زیادہ لوڈ کتنا ہوگا، جسے تار سہارا دے سکتا ہے؟

9.10 15 Kg کمیت کی ایک استوار چھڑ کو تشاکلی طرز (Symmetrically) پر تین تار سہارا دیتے ہیں، جن میں سے ہر ایک کی لمبائی 2.0 m ہے۔ ہر کنارے والے تار تانبہ کے ہیں اور درمیانی تار لوہے کا ہے۔ اگر ہر ایک میں یکساں تناؤ پیدا ہونا ہو تو ان کے قطروں کی نسبت معلوم کیجیے۔

9.11 ایک 14.5 Kg کی کمیت کو ایک فولاد کے بنے تار کے ایک سرے سے باندھا گیا ہے۔ تار کے بغیر کھینچے لمبائی 1.0 cm ہے۔ اس بندھی ہوئی کمیت کو اس طرح گھمایا جاتا ہے کہ دائرے کی چلی طرف اس کی زاویائی رفتار 2 rev/s ہے۔ تار کا تراشی رقبہ 0.065 cm^2 ہے۔ تار میں پیدا ہوئی تطویل معلوم کیجیے، جس وقت کہ کمیت اپنے راستے کے سب سے نچلے نقطے پر ہے۔

9.12 مندرجہ ذیل آئٹمزوں سے پانی کا حجم مقیاس معلوم کیجیے۔ آغازی حجم 100.0 لیٹر، دباؤ میں اضافہ $= 100.0 \text{ atm}$ ($1 \text{ atm} = 1.013 \times 10^5 \text{ Pa}$)، اختتامی حجم 100.5 لیٹر پانی کے حجم مقیاس کا مقابلہ، ہوا (مستقلہ درجہ حرارت پر) کے حجم مقیاس سے کیجیے۔ سادہ طور پر سمجھائیے کہ نسبت اتنی بڑی کیوں ہے؟

9.13 اس گہرائی پر پانی کی کثافت کتنی ہوگی، جہاں دباؤ 80.00 atm ہے۔ دیا ہوا ہے کہ سطح پر کثافت $1.0^3 \times 10^3 \text{ kg m}^{-3}$ ہے۔

9.14 ایک شیشہ کی سل کے حجم میں آنے والی کسری تبدیلی کا حساب لگائیے، جب کہ اسے 10 atm آبی دباؤ کے زیر اثر لایا جائے۔

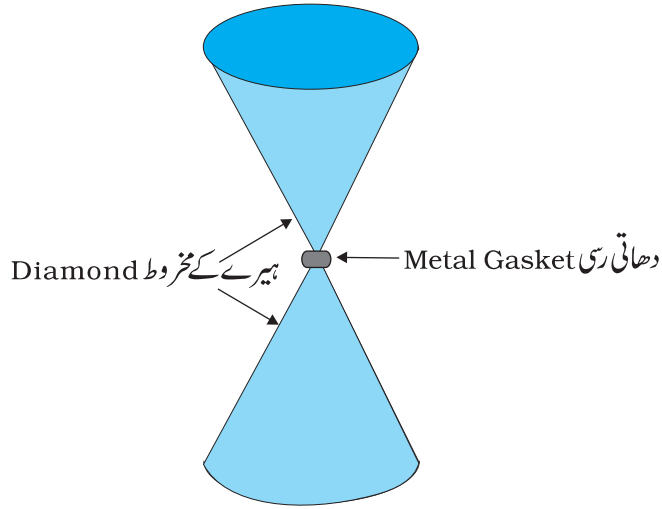
9.15 ایک ٹھوس تانبہ کے بنے مکعب، جس کا ایک ضلع 10 cm ہے، کا حجمی سکڑاؤ معلوم کیجیے، جب کہ وہ $7.0 \times 10^6 \text{ Pa}$ آبی دباؤ کے زیر اثر ہے۔

9.16 1 لیٹر پانی کو 0.10% دبانے کے لیے دباؤ میں کتنی تبدیلی کرنا چاہیے؟

اضافی مشق

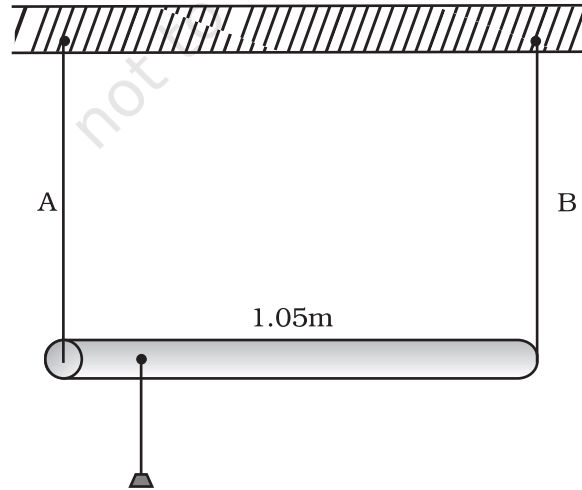
9.17 ایک ہیرے کی قلموں (Crystals) سے بنے ہوئے سندان (Anvis)، جن کی شکل، شکل 9.14 جیسی ہوتی ہے، بہت زیادہ دباؤ کے زیر اثر مادی اشیاء کے برتاؤ کی تفتیش کرنے کے لیے استعمال ہوتے ہیں۔ پتلے کنارے پر چھٹے رخوں کا نصف

قطر 0.5mm ہے اور چوڑے کناروں پر ایک دہائی قوت 50,000N لگائی جاتی ہے۔ سندان کی نوک پر دباؤ کتنا ہے۔



شکل 9.14

9.18 ایک چھڑ کو جس کی لمبائی 1.05 m اور کمیت ناقابل لحاظ (تقریباً نہیں) ہے، اس کے کناروں پر دو تاروں سے سہارا دیا جاتا ہے، جن میں ایک فولاد کا بنا ہے (تار A) اور ایک المونیم کا (تار B)۔ دونوں کی لمبائی مساوی ہے۔ جیسا کہ شکل 9.15 میں دکھایا گیا ہے۔ تار A اور B کے تراشی رقبے، بالترتیب، 1.0 mm^2 اور 2.0 mm^2 ہیں۔ چھڑ کے کس نقطے پر ایک کمیت m لٹکائی جائے کہ دونوں تاروں میں (a) مساوی ذرر (b) مساوی بگاڑ پیدا ہوا۔



شکل 9.15

9.19 1.0m لمبائی اور $0.50 \times 10^{-2} \text{ cm}^2$ تراشی رقبہ کے معمولی فولاد کے بنے ایک تار کو، دو ستونوں کے درمیان افقی طرز پر، اس کی پک حد کے اندر، کھینچا جاتا ہے، تار کے درمیانی نقطہ سے 100g کی ایک کمیت لٹکائی جاتی ہے۔ درمیانی نقطہ پر پیدا ہونے والا جھکاؤ معلوم کیجیے۔

9.20 دھات کی بنی دو پیٹوں کو ان کے کناروں پر ایک ایک اسکرو کی مدد سے آپس میں جوڑ دیا جاتا ہے، اگر ہر پی کا قطر 6.0mm ہے، تو اس اسکرو شدہ پی پر کتنا زیادہ سے زیادہ تناؤ لگایا جاسکتا ہے کہ ایک اسکرو پر تحریکی ذرر $6.9 \times 10^7 \text{ Pa}$ سے زیادہ نہ ہو؟ مان لیجیے کہ ہر اسکرو کو لوڈ کا ایک چوتھائی حصہ برداشت کرنا ہے۔

9.21 میرینا کھائی بحر اوقیانوس میں واقع ہے اور ایک مقام پر وہ پانی کی سطح سے تقریباً 11 Km نیچے ہے۔ کھائی کے پینڈے پر پانی کا دباؤ تقریباً $1.1 \times 10^8 \text{ Pa}$ ہے۔ فولاد کی بنی ایک گیند، جس کا اصل حجم 0.32 m^3 ہے، سمندر میں گرائی جاتی ہے، جو کھائی کے پینڈے تک پہنچتی ہے، پینڈے تک پہنچنے پر گیند کے حجم میں کیا تبدیلی ہوگی؟

© NCERT
not to be republished