



4333CH02

کھلونے کی خوشی

2

کچھ بچے پرانے ڈبوں، بوتلوں اور کاغذ پر جانور اور چڑھیوں کے چہرے بنا رہے ہیں۔

میں نے مخروط پر ایک چڑیا کا
چہرہ بنایا ہے۔ اس کی نوکیلی
چونچ تو دیکھو۔




میں نے باکس (مکعب) پر سُر
کا چہرہ بنایا ہے۔ اس کی چھوٹی
آنکھیں ہیں۔



میری بوتل (اسطوانہ) کو
دیکھو! میں نے اس پر کتے کا
چہرہ بنایا ہے۔ اس کے کان
بہت بڑے بڑے ہیں۔



میں نے مکعب نما پر ایک بلی کا چہرہ بنایا
ہے، اس کی لمبی مونچھیں ہیں۔



آئیے کرتے ہیں



پرانے باکس (مکعب اور مکعب نما) اور بوتلیں (اسطوانے) کا استعمال
کر کے کچھ دست کاری کیجیے۔ اس پر مختلف چہرے بنائیے۔

آپ نے شکلوں کے رخ پر کیا بنایا؟

جیسا اپنے پاس موجود شکل کا استعمال کر کے ایک عمارت بنا رہی ہے۔

اس نے کون سی شکل کا استعمال کیا ہے؟

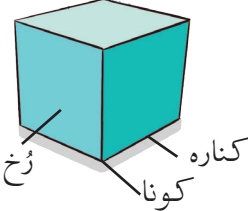
کون سی شکل کتنی دفعہ استعمال ہوئی ہے؟

مکعب نما:

مکعب:

اسطوانہ:

مخروط:




لال مکعب نما اور پیلی مکعب نما کے درمیان کون سی شکل ہے؟

نارنگی اسطوانہ کے اوپر کون سی شکل ہے؟

گلابی مخروط کے نیچے کون سی شکل ہے؟

کچھ چیزوں کو جمع کیجیے۔ ان شکلوں کے نام لکھیے اور ان کے رُخ اور کناروں پر بات کیجیے۔ کون سے سیدھے ہیں، کون سے مڑے ہوئے ہیں؟ اور ان شکلوں کو کس طرح سے لگایا گیا ہے؟ ان شکلوں کے کون سے حصے کو آپ کچھ دوری سے دیکھ سکتے ہیں؟

دیویکا ایک دکان پر گئی اور ایک انجن لے کر آئی۔ یہ دیویکا کا انجن ہے۔ اس میں بہت سے حصے ہیں۔ ان حصوں کو شمار کیجیے اور ان کو خالی جگہ میں لکھیے۔



لال اسطوانہ _____ پیلا مخروط _____




سر مئی مکعب نما _____ نیلا مکعب _____

آئیے گفتگو کرتے ہیں




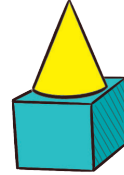
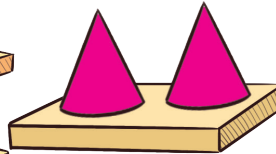

ذیل میں کھلونے کی دکان سے کچھ اور کھلونے بھی دیے گئے ہیں۔ یہ مختلف شکلوں سے مل کر بنے ہیں۔

ان کھلونوں میں کون سی شکلیں استعمال ہوئی ہیں؟



جیانے مختلف شکلوں کا استعمال کر کے کچھ گھر بنائے ہیں۔

اپنے اطراف میں موجود شکلوں کا استعمال کر کے اسی طرح سے کچھ گھر، ٹاور، راکٹ وغیرہ بنائیے۔



نوٹ کیجیے کہ مکعب ایک خاص قسم کا مکعب نما ہے۔



بنائیے اور بیان کیجیے



سبھی بچوں کو 4 یا 5 کے گروپ میں تقسیم کر دیجیے۔ ہر گروپ کسی بھی تین شکلوں کو جمع کرے گا۔ اس کے بعد بچہ اس سے جو کچھ بنائے گا، اس کی ترتیب کو بیان کرے گا اور باقی بچے اصل ڈھانچے کو دیکھے بغیر بیان کی گئی ترتیب کے مطابق خود بنانے کی کوشش کریں گے۔ اس کے بعد دوسرے بچے کو اسی طرح اس کو دہرانا ہے۔

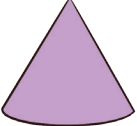




مثال:

مکعب نما کے اوپر اسطوانہ رکھا ہے اور اسطوانہ کے اوپر مخروط رکھا ہے۔

آئیے کرتے ہیں




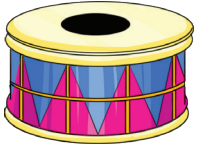
1. کیا آپ مندرجہ ذیل شکلوں کو اپنی جماعت میں تلاش کر سکتے ہیں؟ دی ہوئی جدول کو اس کے ناموں سے مکمل کیجیے۔

				
مخروط	مکعب نما	مکعب	کرہ	اسطوانہ

a. سب سے زیادہ پائی جانے والی شکل کا نام لکھیے۔


b. سب سے کم پائی جانے والی شکل کا نام لکھیے۔

c. ان چیزوں کے نام لکھیے جن میں ایک سے زیادہ شکلوں کا استعمال ہوا ہے۔



شروع
←

2. ذیل میں دی ہوئی شکلوں کو دیکھیے اور سوالوں کے جواب دیجیے۔



• مکعب پر دائرہ ○ بنائیے۔

• مخروط کے سامنے ✓ کا نشان لگائیے۔

• اسطوانہ کی شکل کے سامنے x کا نشان لگائیے۔

• مکعب نما پر ڈبہ □ بنائیے۔

3. شکلوں کے نام لکھیے۔

• جس کے کنارے نہیں ہوتے۔

• جس کے صرف چپے رخ ہوتے ہیں۔

• جس کے صرف گھماؤ دار رخ ہوتے ہیں۔

• جس شکل میں گھماؤ دار اور سیدھے دونوں طرح کے


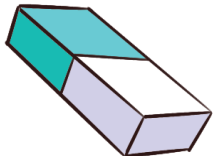
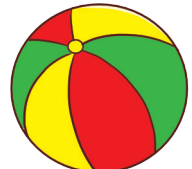

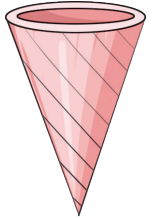

کنارے ہوتے ہیں۔

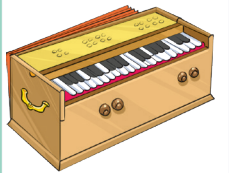
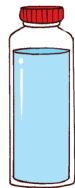

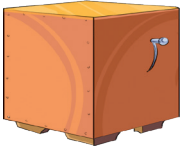



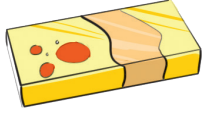
• جس میں چپے اور گھماؤ دار دونوں طرح کے رخ ہوتے ہیں

استاد کے لیے نوٹ: بچوں کو اپنے اطراف میں مختلف شکلوں کو تلاش کرنے دیجیے اور ان سے ان مختلف شکلوں کی مزید مثالیں دریافت کیجیے۔ مکعب، مکعب نما اور اسطوانہ میں ایک دوسرے کے برعکس رخوں کے بارے میں گفتگو کیجیے۔ بچے شکلوں کو اپنے حساب سے الٹا سیدھا کر کے، ان کو بدل بدل کر، شکلوں کا مشاہدہ کر سکتے ہیں۔



ختم

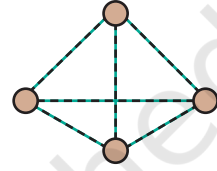
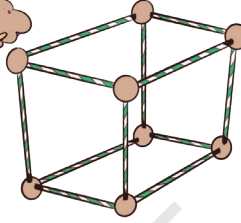




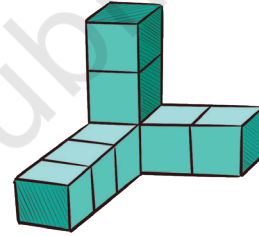
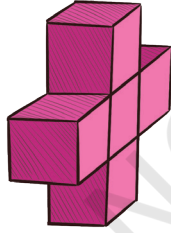
4. آپ کون سی شکل بنا سکتے ہیں؟



دیکھو! میں نے مٹی اور تیلیوں کے استعمال سے کیا بنایا ہے! تم بھی اسی طرح سے کچھ شکل بناؤ!




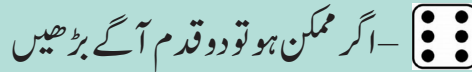
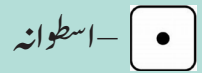
5. مکعب کا استعمال کر کے ذیل میں دی گئی شکلیں بنائیے



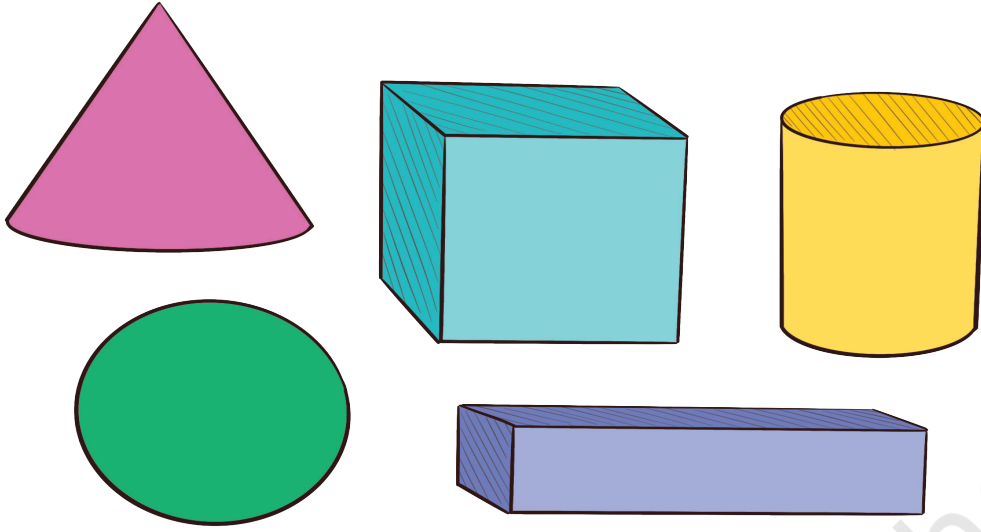
آئیے کھیلتے ہیں




اس صفحے کے کنارے پر ایک کھیل ہے۔ پاسا پھینکنے اور حاصل ہوئے عدد کے مطابق ایک شکل دی گئی ہے۔ بتائے گئے عدد کے مطابق اس شکل تک اپنی باری میں چلنا ہے اور اس کھیل کو مکمل کرنا ہے۔ جو پہلے ختم کے نشان پر پہنچے گا وہ اس کھیل کو جیت جائے گا۔



6. ذیل میں دی گئی شکلوں میں کس طرح یکسانیت ہے؟ اور کن طریقوں سے یہ مختلف ہے؟

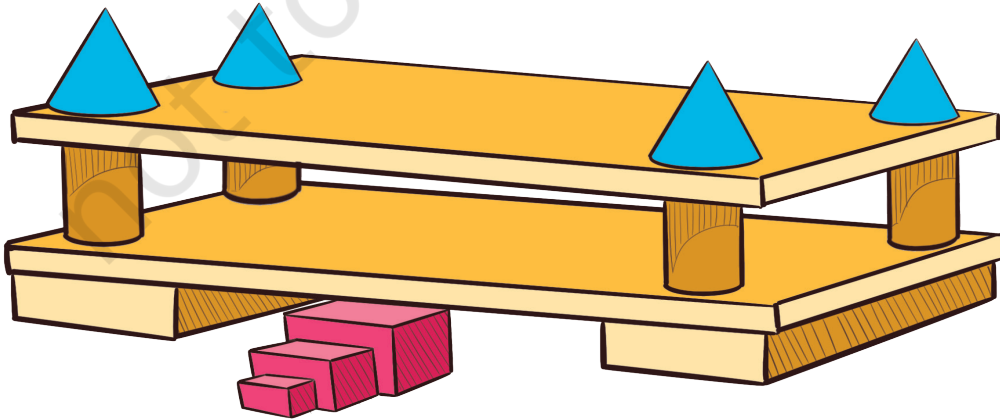


7. ایک پانسے کو دیکھیے۔ اس کے رخ پر 1 سے 6 تک کے اعداد کے نقطے بنے ہوتے ہیں۔ بتائیے، کون سا عدد:



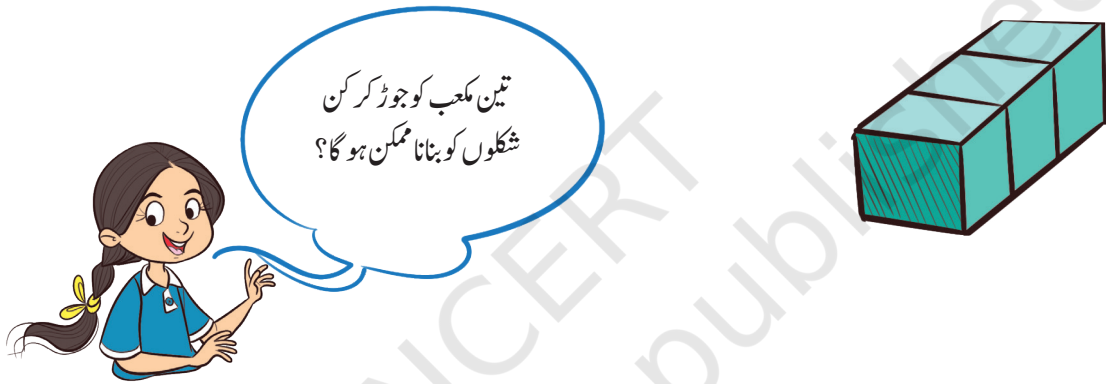
- عدد 1 کا برعکس رخ ہے۔
- عدد 2 کا برعکس رخ ہے۔
- عدد 3 کا برعکس رخ ہے۔
- آپ نے کس طرح کے پیٹرن کو دیکھا۔

8. ذیل میں دیا گیا ماڈل کس ترتیب سے بنایا گیا ہے؟

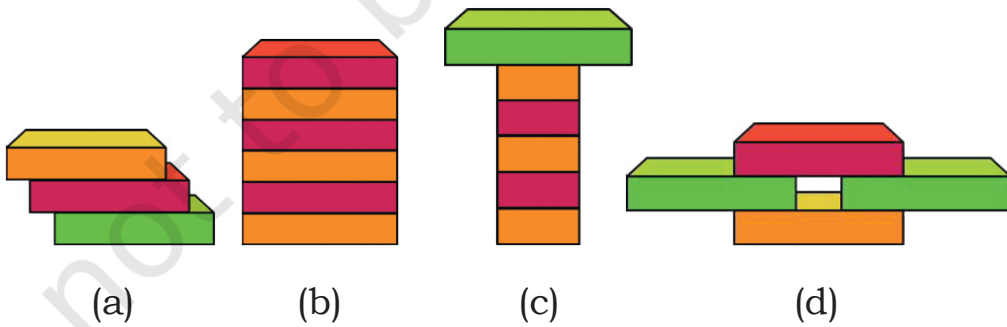




9. آپ تین مکعب کو کن مختلف طریقوں سے جوڑ سکتے ہیں؟ کوشش کیجیے اور دیکھیے۔



10. ذیل میں دیے گئے ماڈلوں میں کن شکلوں کا استعمال ہوا ہے؟ ان ماڈل میں شکلوں کی ترتیب کو سمجھائیے۔



11. چھ پانسوں کا استعمال کر کے مندرجہ ذیل شکلیں بنائیے۔

(a) ایک مکعب نما (b) ایک ٹاور (c) اپنی پسند کی کوئی شکل