

یہ کون سا موسم ہے؟

9



موسم


بھرے ہیں باغ پھولوں سے
کوئل، بلبل نغمے گائیں
پیڑوں پر نئے پتے آئیں
جھولوں پر بچے دھوم مچائیں



سورج چمک رہا ہے خوب
زمیں پر پھیلی ہے دھوپ
نبے پسینہ جلتے پاؤں
اچھی لگے پیڑوں کی چھاؤں



بجلی کڑکے کڑ کڑ کڑ
بادل گرے کڑ کڑ کڑ
پانی برسے چھم چھم چھم
دوڑیں بچے دھم دھم دھم





پتیاں ہوتی الگ شاخوں سے
ہری سنہری بھوری لال
ہواؤں کے تیز چلنے سے
خالی رہ جاتی ہے ہر ڈال

ٹھنڈی ٹھنڈی ہوا چلے
اونی کپڑے لگیں بھلے
دھوپ میں بیٹھنا اچھا لگے
گرم چائے میں آئے مزے



آؤ بات چیت کریں



- آپ کس موسم میں چھٹیوں پر جاتے ہیں؟
- سال کے کون سے مہینے میں آپ کا یوم پیدائش آتا ہے؟
- آپ کا پسندیدہ موسم کون سا ہے؟ کیوں؟
- آپ کے پسندیدہ موسم کی خاص بات کیا ہے؟

بچوں سے کہیں کہ نظم کو اداکاری کے ساتھ بلند آواز سے پڑھیں۔ مختلف موسموں میں وہ کیا کرتے ہیں، اس کے بارے میں بات کریں۔ مختلف دستیاب مقامی کھانوں، کپڑوں، مثلاً کشمیری فیروز وغیرہ پر بھی بات چیت کیجیے۔ اس پر بھی گفتگو کیجیے کہ کس طرح سے موسموں کی مقامی تبدیلیاں لوگوں کی روزمرہ زندگی پر اثر انداز ہوتی ہیں۔



موسموں کو ان کے نام اور تہواروں سے ملائیے۔

خزاں

دسہرہ، شرد پورنیا



گرمی

گرو پورنیا، رام نومی

بدھ پورنیا
مہا ویر جینتی



بہار

گوڑی پڑوا،
شیو راتری،
یسا کھی، ہولی



سردی

لوہڑی، کرسمس،
یوم جمہوریہ، بیہو



برسات

جنم شٹمی،
رکشابندھن،
یوم آزادی



موسموں کے ہندی اور دوسری مقامی زبانوں میں ناموں پر بچوں سے بات چیت کیجیے جیسے دست شستر وغیرہ۔



کیلینڈر کا کھیل

مارچ

S	M	T	W	T	F	S
			1	2	3	4
5	6	7	8	9	10	11
12	13	14	15	16	17	18
19	20	21	22	23	24	25
26	27	28	29	30	31	

فروری

S	M	T	W	T	F	S
			1	2	3	4
5	6	7	8	9	10	11
12	13	14	15	16	17	18
19	20	21	22	23	24	25
26	27	28				

جنوری

S	M	T	W	T	F	S
1	2	3	4	5	6	7
8	9	10	11	12	13	14
15	16	17	18	19	20	21
22	23	24	25	26	27	28
29	30	31				

جون

S	M	T	W	T	F	S
				1	2	3
4	5	6	7	8	9	10
11	12	13	14	15	16	17
18	19	20	21	22	23	24
25	26	27	28	29	30	

مئی

S	M	T	W	T	F	S
	1	2	3	4	5	6
7	8	9	10	11	12	13
14	15	16	17	18	19	20
21	22	23	24	25	26	27
28	29	30	31			

اپریل

S	M	T	W	T	F	S
30						1
2	3	4	5	6	7	8
9	10	11	12	13	14	15
16	17	18	19	20	21	22
23	24	25	26	27	28	29

ستمبر

S	M	T	W	T	F	S
					1	2
3	4	5	6	7	8	9
10	11	12	13	14	15	16
17	18	19	20	21	22	23
24	25	26	27	28	29	30

اگست

S	M	T	W	T	F	S
		1	2	3	4	5
6	7	8	9	10	11	12
13	14	15	16	17	18	19
20	21	22	23	24	25	26
27	28	29	30	31		

جولائی

S	M	T	W	T	F	S
30	31					1
2	3	4	5	6	7	8
9	10	11	12	13	14	15
16	17	18	19	20	21	22
23	24	25	26	27	28	29

دسمبر

S	M	T	W	T	F	S
1	2	3	4	5	6	7
8	9	10	11	12	13	14
15	16	17	18	19	20	21
22	23	24	25	26	27	28
29	30	31				

نومبر

S	M	T	W	T	F	S
			1	2	3	4
5	6	7	8	9	10	11
12	13	14	15	16	17	18
19	20	21	22	23	24	25
26	27	28	29	30		

اکتوبر

S	M	T	W	T	F	S
31					1	2
3	4	5	6	7	8	9
10	11	12	13	14	15	16
17	18	19	20	21	22	23
24	25	26	27	28	29	30

* کیلینڈر سال 2023

کیلینڈر کو دیکھیے اور لکھیے

دنوں کی تعداد

مہینے

جنوری، مارچ، مئی، جولائی، اگست، اکتوبر، دسمبر

فروری

اپریل، جون، ستمبر، نومبر



آب بات چیت کریں




- A. ہم کیلینڈر کیوں استعمال کرتے ہیں؟
- B. کیا ہر سال فروری میں دنوں کی تعداد یکساں ہوتی ہے؟ ہند کرہ کیجیے۔
- C. ایک ہفتے میں کتنے دن ہوتے ہیں؟ دن۔
- D. دیئے ہوئے کیلینڈر میں اپریل کے مہینے میں کتنے اتوار ہیں؟ اتوار۔
- E. کون سے مہینے میں 5 اتوار ہیں؟
- F. گرمیوں کی چھٹیاں _____، _____ کے مہینوں میں ہوتی ہیں۔
- G. سردیوں کی چھٹیاں اکثر _____، _____ کے مہینوں میں ہوتی ہیں۔
- H. اپریل اور مارچ کے مہینوں میں دنوں کی کل تعداد معلوم کیجیے۔
- دن + دن = دن۔

پروجیکٹ کا کام



اپنے یوم پیدائش کے مہینے کا کیلینڈر بنائیے اور اس میں پیدائش کے دن پر نشان لگائیے۔

S	M	T	W	T	F	S

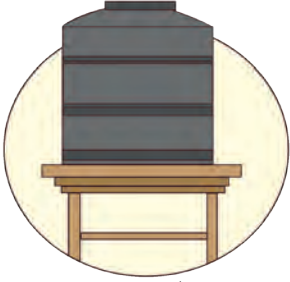


ہماری روزمرہ زندگی میں کیلینڈر کی اہمیت پر بات چیت کیجیے۔



اس میں کتنا وقت لگتا ہے؟

سرگرمی کو اس کے مکمل ہونے میں لگنے والے وقت سے ملائیے۔



پانی کی ٹنکی بھرنے میں




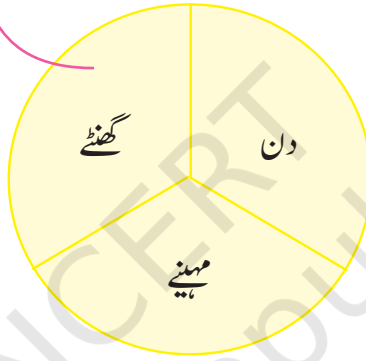
گرمی کی چھٹیوں میں



پکانے میں



کھیلنے میں



سوٹر بننے میں



یوگا کرنے میں



موسم کے بدلنے میں



بیج کے پودا بننے میں

ایسی اور دوسری چیزوں پر بات چیت کیجیے جن کے مکمل ہونے میں مختلف وقت درکار ہوتا ہے۔

وجے واڑہ کا سفر

تاریخ: 24 نومبر
وقت: صبح 8:25 بجے


جلدی کرو، ریل گاڑی چلنے والی ہے۔



تاریخ: 24 نومبر
وقت: دوپہر 1:15 بجے

دوپہر کے 1:15 بجے ہیں
دادا جی! ہمیں نانی کے گھر
پہنچنے میں اور کتنا وقت
لگے گا؟

بس ایک گھنٹے میں ہم وجے واڑہ
ریلوے اسٹیشن پہنچ جائیں گے۔



تاریخ: 25 نومبر
وقت: رات 10:00 بجے

ماں ہم نے آج بہت مزے
کیے۔ دیکھو ماں! ماما آج کتنے
خوبصورت لگ رہے ہیں۔

ہاں بیٹا! آخر آج ان کی
شادی جو ہے۔


خدا سلامت رکھے
میرے عزیز



تاریخ: 26 نومبر
وقت: صبح 8:00 بجے

ماں! ہماری ٹرین پرسوں کی
ہے۔ کیا آج ہم باہر گھومنے
جاسکتے ہیں؟

ہاں ہم صبح 11 بجے منگلا گری پہاڑی پر
جائیں گے۔



تاریخ: 26 نومبر
وقت: شام 5:00 بجے

دادی دیکھو تو یہ پیٹر پودے کتنے
خوبصورت ہیں۔ یہاں بہت سے
خوبصورت پھول بھی ہیں۔

بچو! اب شام کے 5 بجے ہیں۔
ہمیں دیر ہو جائے گی۔ آؤ واپس
چلتے ہیں۔

تاریخ: 27 نومبر
وقت: صبح 9:00 بجے

ان لوگوں نے طے کیا کہ وہ
بس سے صبح 9 بجے کو نڈاپلی
قلعے جائیں گے۔

ہم 8 گھنٹے بعد واپس آجائیں گے

ٹھیک ہے جناب! آپ قلعے کی سیر کریں۔
میں آپ سب کو 8 گھنٹے بعد لینے آجاؤں گا۔
آپ کا سفر اچھا رہے۔

تاریخ: 28 نومبر
وقت: رات 7:00 بجے

پاپا! اب ہمیں اپنے گھر واپس چلنا
چاہیے۔ مجھے بہت خوشی ہے کہ ہم
ہندوستان کی سب سے تیز چلنے والی ٹرین
وندے بھارت سے سفر کریں گے۔

ہاں

واو!

تاریخ: 28 نومبر
وقت: رات 11:30 بجے

ہاں، ہم جلد ہی ایسا سفر دوبارہ
کریں گے۔

ممی! میں اپنے دوستوں کو اس مزیدار
سفر کے بارے میں بتانے کے لیے
انتظار نہیں کر سکتا۔

آؤبات چیت کریں



- A. خاندان نے سفر کا منصوبہ کیوں بنایا؟ وہ سفر پر کس جگہ گئے تھے۔ آپ کو ان کے سفر میں کیا چیز اچھی لگی؟
 B. کون سے دن انھوں نے اپنا سفر شروع کیا؟ وہ کب واپس آئے؟ ان کا سفر کتنا لمبا تھا؟
 C. سفر پر وہ کن کن جگہوں کو دیکھنے گئے؟
 D. ان کا دن کا سفر

(i) منگلا گری میں _____ گھنٹے کا تھا۔

(ii) کونڈا بلی قلعے میں _____ گھنٹے کا تھا۔ وہ وہاں سے کب واپس پہنچے؟ _____

E. وہ کتنے گھنٹوں تک ٹرین میں رہے جب وہ

(a) وشاکھا پٹنم سے ورجے واڑہ جارہے تھے۔

_____ گھنٹے

_____ سے _____

(b) ورجے واڑہ سے وشاکھا پٹنم جارہے تھے۔

_____ سے _____

دونوں میں سے کس سفر میں وقت زیادہ لگا؟

F. کیا آپ حال ہی میں کسی سفر پر گئے ہیں؟ آپ سفر میں کس چیز سے سب سے زیادہ لطف اندوز ہوئے؟



دل چسپ حقیقت

کیا آپ جانتے ہیں؟



وندے بھارت ہندوستان کی سب سے تیز چلنے والی ریل گاڑی ہے۔ اس ریل گاڑی کا ڈیزائن ہندوستان ہی میں بنا ہے اور یہ ہندوستان کی پہلی ریل گاڑی ہے جس کا انجن اس سے منسلک ہے، انجن کا علاحدہ کوچ نہیں ہے۔

بچوں سے ان کے سفر کے تجربوں کے بارے میں بات چیت کریں تاکہ وہ سفر کی مدت کو گھنٹوں، دنوں، مہینوں کی شکل میں سمجھ سکیں۔ اس پر بھی بات کریں کہ ان کے شہر میں کیا خاص بات ہے؟



گارگی کا دن

آؤ دیکھیں کہ گارگی دن میں کیا کرتی ہے۔ ہر تصویر کے نیچے وقت لکھیے



بجے ہیں _____



سونے جاتی ہے۔



6 بجے ہیں



سو کر اٹھتی ہے۔



نل سے پانی بھرتی ہے۔



7 بجے ہیں



بجے ہیں _____



دوستوں کے ساتھ کھیلتی ہے



گارگی کا دن



اسکول جاتی ہے۔



بجے ہیں _____



بجے ہیں _____



دوپہر کا کھانا کھاتی ہے۔



بجے ہیں _____



واپس گھر آتی ہے۔



گھر میں پڑھتی ہے۔



بجے ہیں _____

آؤ بات چیت کریں



گھڑی میں چھوٹی سوئی (گھنٹے کی سوئی) اور بڑی سوئی (منٹ کی سوئی) کے مقام کو دیکھیے اور بتائیے کہ گارگی دن میں کس وقت یہ سرگرمیاں انجام دیتی ہے۔

A. وہ سو کر کب اٹھتی ہے؟

B. وہ اسکول کب جاتی ہے؟

C. وہ دوپہر کا کھانا کب کھاتی ہے؟



گھڑی میں دیکھ کر وقت بتائیے۔



_____ بجے ہیں



_____ بجے ہیں



_____ بجے ہیں



_____ بجے ہیں

گھڑی میں گھنٹے کی سوئی اور منٹ کی سوئی بنائیے۔



4 بجے ہیں



11 بجے ہیں



3 بجے ہیں



6 بجے ہیں



12 بجے ہیں



9 بجے ہیں



نیچے دکھائی گئی سرگرمیاں آپ کب انجام دیتے ہیں؟
گھڑی میں گھنٹے کی سوئی اور منٹ کی سوئی بنا کر نشان دہی کیجیے۔



دوپہر کے کھانے کا وقت



کھیلنے کا وقت



پڑھنے کا وقت

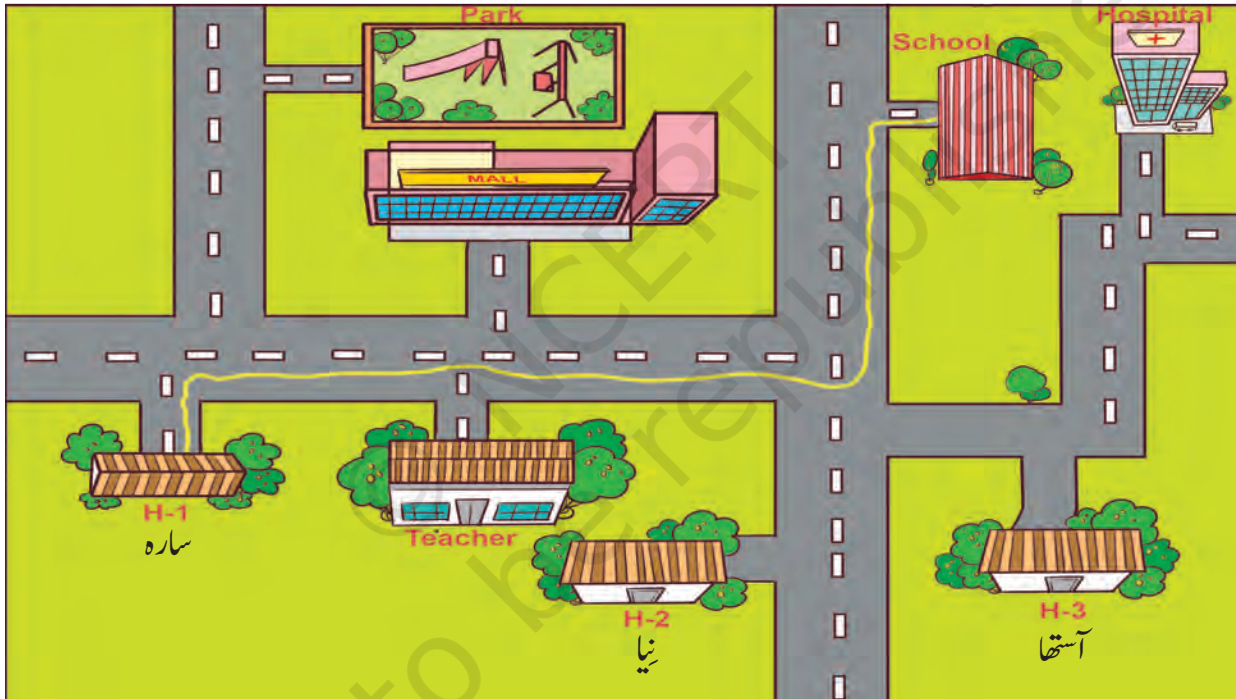


آج کے دن میری عمر؟





کلاس میں سے ایک بچے کو چن لیجیے۔ اس کی آنکھوں پر پٹی باندھ دیجیے۔ طے کیجیے کہ کہاں اسے جانا ہے۔ (مثال: آخری ڈیسک سے بلیک بورڈ کی طرف) سمتوں کے لیے صرف دائیں، بائیں یا سیدھا جیسے لفظ کا استعمال کریں۔ کھیل مختلف بچوں کے ساتھ 5-7 راؤنڈ تک جاری رہے گا۔ بچوں سے کہئے کہ ایک ایسا محفوظ لفظ طے کریں جیسے 'خطرہ' اس کا استعمال جب ہی کریں، جب بچہ کلاس میں کسی چیز سے ٹکرانے والا ہو۔ (اس کھیل کو مزید مشکل بنانے کے لیے کلاس میں چیزوں کی ترتیب کو بدل دیں یا راستے میں کچھ رکاوٹیں ڈال دیں۔)



سارہ کے اسکول کا راستہ

ہری لائن وہ راستہ ہے۔ جو سارہ اسکول پہنچنے میں استعمال کرتی ہے۔ اب ایک لائن بنائیے، جس کا استعمال آستھا اور نیا اپنے گھر سے اسکول جانے میں کریں گی۔

سمت کی جانکاری کے لیے موبائل ایپ کے استعمال پر گفتگو کیجیے۔



آئیے سورج کی طرف منہ کر کے کھڑے ہوتے ہیں۔
یہ پورب کی سمت ہے...
اپنی کمر کی طرف آپ پائیں گے۔
پچھم کی سمت۔




جب ہم اپنا بایاں ہاتھ پھیلاتے ہیں
تو وہ اُتر کی سمت ہے۔
جب ہم اپنا دایاں ہاتھ پھیلاتے ہیں
تو وہ دھن کا سمت...

جب ہم باہر نکلتے ہیں اور گھومتے ہیں تو ہم جانتے ہیں
کہ ہمیں کس سمت میں جانا ہے پورب، پچھم، اُتر یا دھن۔

نظم کو اداکاری کے ساتھ گائیں۔ سمتوں کی شناخت کرنے کے لیے بچوں کی مدد کریں۔ استاد بچوں کو
سمتوں کے بارے میں تفصیل سے بتائیں، اور سمتوں کی مثالیں ان کے اطراف موجود چیزوں سے دیں
تاکہ وہ سمتوں کے الفاظ کی اہمیت کو سمجھ سکیں۔



نیچے دیئے گئے کلاس روم کو دیکھیے اور الفاظ اُتر، دکھن، پورب اور پنجھم کا استعمال کرتے ہوئے، سوالوں کے جواب دیجیے (قطب نما کا استعمال کیجیے۔)



A. ہنیت کا ڈیسک سارہ کے ڈیسک کے _____ میں ہے۔

B. الماری، علی کے ڈیسک کے _____ میں ہے۔

C. میرا کو بلیک بورڈ تک پہنچنے کے لیے پہلے _____ کی جانب اور پھر _____ کی جانب چلنا پڑے گا۔

D. کھڑکی میں بیٹھی چڑیوں کو کھلانے کے لیے تن کو پہلے _____ کی جانب اور پھر _____ کی جانب چلنا پڑے گا۔

قطب نما اور اس کے استعمال پر بات چیت کیجیے۔ بچوں سے یہ بھی کہیں کہ قطب نما کا استعمال کر کے مختلف چیزوں کی مختلف مقاموں سے سمتیں معلوم کریں۔

