

# تہواروں کے لیے سجاوٹ

6



QRickit

4208CH05




## جشن کے لیے سجاوٹ!

روہن اور اس کے دوستوں کو اپنے گھروں کو سجانے اور جشن منانے کے لیے ہاروں کی ضرورت ہے۔ ہر ایک ہار میں 10 پھول ہیں۔ اوپر دکھائی گئی تصویر کی مدد سے نیچے دیے گئے جدول کو مکمل کیجیے۔

نام	کی تعداد	کی تعداد	کی کل تعداد
روہن	1	2	$10 + 2 = 12$
سمرن	3	7	$30 + 7 = 37$
آکاش	4	8	$40 + 8 = 48$
سوالی	5		$50 + 3 = 53$
جاوید			
زوہا			



روہن اور سُوالی دونوں نے مل کر کل کتنے پھول استعمال کیے؟




$10 + 2 = 12$ 🌼	1 🌼 2 🌼	روہن لایا
$50 + 3 = 53$ 🌼	5 🌼 3 🌼	سُوالی لائی
$60 + 5 = 65$ 🌼	6 🌼 5 🌼	روہن اور سُوالی مل کر لائے

(T) دہائی	(O) اکائی
1	2
+ 5	3
<hr/>	


T	O
1	2
+ 5	3
<hr/>	
5	

T	O
1	2
+ 5	3
<hr/>	
6 5	

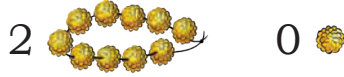
واہ! ہم دونوں کے پاس  
65 پھول ہیں۔



زوہا اور جاوید نے کل ملا کر کتنے پھول استعمال کیے؟

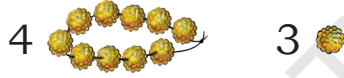


$$20 + 0 = 20$$



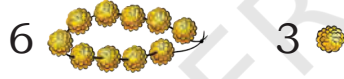
زوہالائی

$$40 + 3 = 43$$



جاوید لایا

$$60 + 3 = 63$$



زوہا اور جاوید مل کر لائے

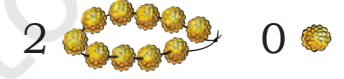
$$\begin{array}{r} \text{T O} \\ 43 \\ + 20 \\ \hline \end{array}$$

$$\begin{array}{r} \text{T O} \\ 43 \\ + 20 \\ \hline \end{array}$$

$$\begin{array}{r} \text{T O} \\ 43 \\ + 20 \\ \hline \end{array}$$

زوہا اور آکاش نے مل کر کل کتنے پھول استعمال کیے؟

$$20 + 0 = 20$$



زوہالائی

آکاش لایا

زوہا اور آکاش مل کر لائے

$$\begin{array}{r} \text{T O} \\ 48 \\ + 20 \\ \hline \end{array}$$





روہن اور سمرن نے کل کتنے پھول استعمال کیے؟


		روہن لایا
		سمرن لائی
		روہن اور سمرن مل کر لائے



25 سے آگے 12 گنیں

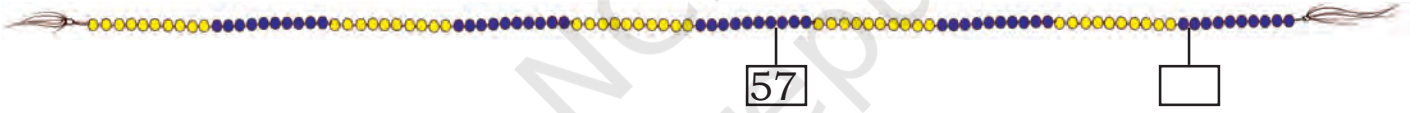
آؤ اسے گن لڑی پر کریں

= 25 + 12 A.



— سے آگے — گنیں

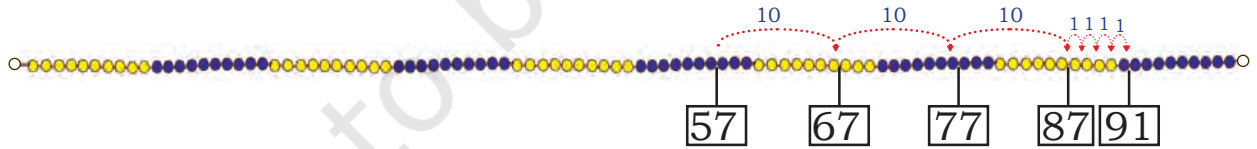
= 57 + 34 B.



آئیے اس طریقے سے سمجھتے ہیں۔

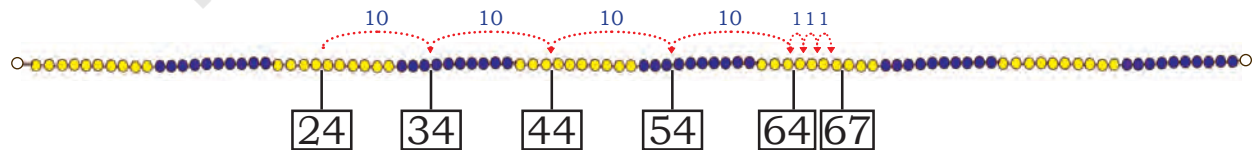
$$57 + 34 = 57 + 30 + 4$$

$$87 + 4 = 91$$



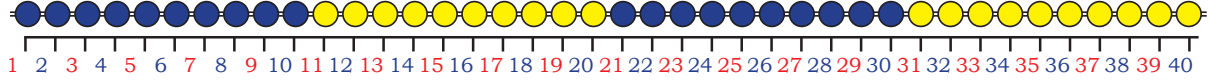
= 24 + 43 C.

ہم لکھ سکتے ہیں:  $67 = 3 + 64 = 3 + 40 + 24$



ہم عدد 43 کو دوسرے طریقہ سے بھی حاصل کر سکتے ہیں:  $20 + 20 + 3$

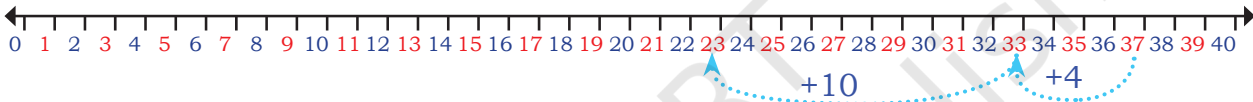
ہر مرتبہ گن لڑی کے موتیوں کو گننا مشکل ہے۔  
مجھے موتیوں کی جگہ اعداد لکھنے دو۔



میں اسے عددی خط  
کہتی ہوں۔

اب عددی خط پر اعداد کو جمع کیجیے۔

A.  $23 + 14 = 37$



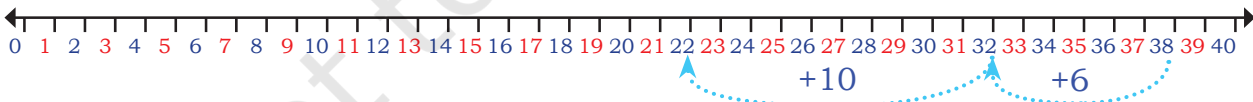
B.  $24 + 16 =$



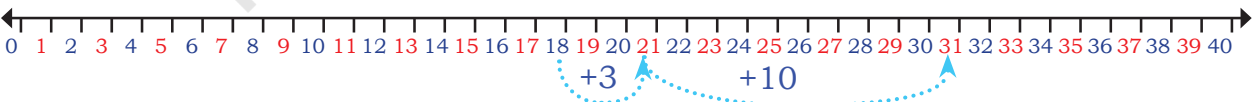
C.  $11 + 22 =$



عددی خط کو پڑھیے اور خانوں کو پُر کیجیے۔

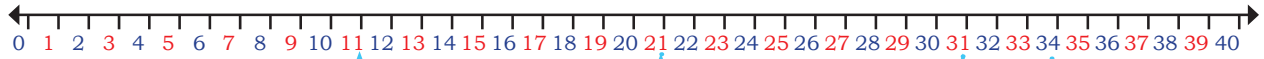


A.  $22 +$    $= 38$



B.  $18 +$    $=$





C.

$$\square + \square = \square$$

ان اعداد کو جوڑیے۔

$$\begin{array}{r} 52 \\ + 30 \\ \hline \end{array}$$

$$\begin{array}{r} 60 \\ + 25 \\ \hline \end{array}$$

$$\begin{array}{r} 56 \\ + 23 \\ \hline \end{array}$$


$$\begin{array}{r} 44 \\ + 23 \\ \hline \end{array}$$

بلاکوں سے کھیلنا

ماہی کے پاس کچھ بلاک ہیں۔ ایشا اپنے بلاکوں کے ساتھ کھیلنے کے لیے آئی۔ آئیے یہ جاننے میں ان کی مدد کریں کہ ان کے پاس کل کتنے بلاک ہیں۔



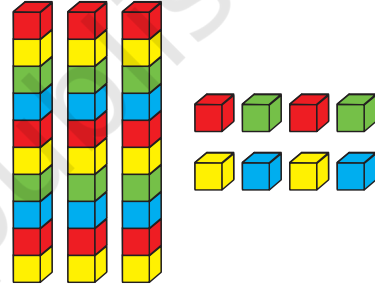
ماہی کے بلاک



3 اکائیاں 2 دہائیاں

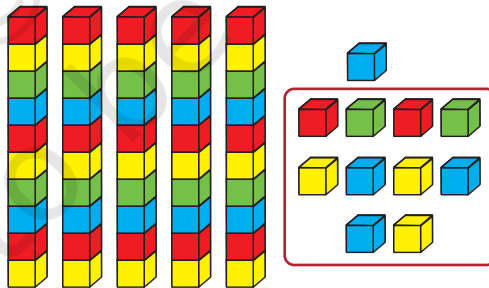
اور

ایشا کے بلاک



8 اکائیاں 3 دہائیاں


+



(1 اکائی 1 دہائی)

5 دہائیاں

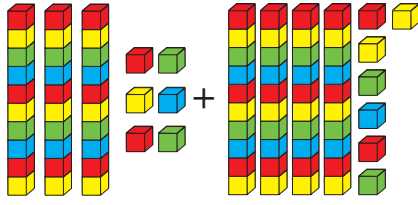
11 اکائیاں




1 اکائی 6 دہائیاں



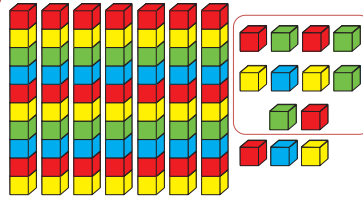
آؤ بلا کوں کی کل تعداد معلوم کریں۔




3 دہائیاں  
6 اکائیاں



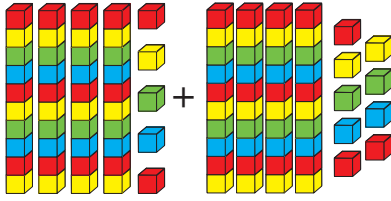
4 دہائیاں  
7 اکائیاں



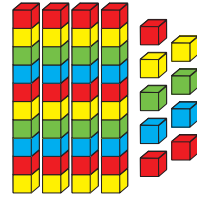
7 دہائیاں  
8 اکائیاں



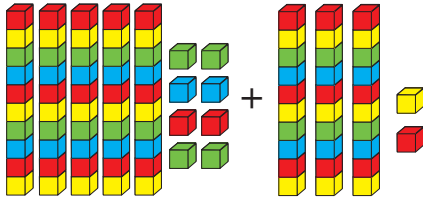
$$80 + 3 = 83$$




4 دہائیاں  
5 اکائیاں



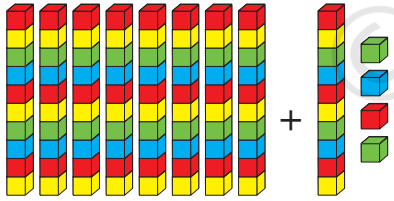
4 دہائیاں  
9 اکائیاں



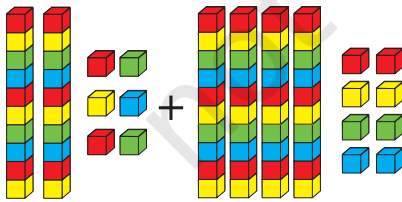
5 دہائیاں  
8 اکائیاں



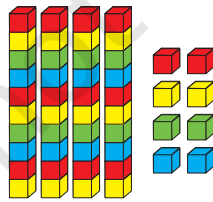
3 دہائیاں  
2 اکائیاں



8 دہائیاں  
1 دہائی  
4 اکائیاں



2 دہائیاں  
6 اکائیاں



4 دہائیاں  
8 اکائیاں



ماہی کیا تم جانتی ہو کہ  
ہم بلاکوں کو بار بار  
گنے بغیر جمع کر سکتے ہیں؟

او! واقعی، ایشا!  
کیا تم مجھے دکھاؤ گی کیسے؟

T	O
3	6
+	4
	7
<hr/>	
<hr/>	

اکائیوں کو جوڑنے پر

$$(6 + 7 = 13)$$

1 دہائی اور 3 اکائی

T	O
1	3
	6
+	4
	7
<hr/>	
3	

دہائیوں کو جوڑنے پر

$$(3 + 4 + 1 = 8)$$

8 دہائیاں

T	O
1	3
	6
+	4
	7
<hr/>	
8	
3	

دہائیوں کو آگے لے جانا

جوڑیے

45	
+	
35	
<hr/>	
<hr/>	

30	
+	
58	
<hr/>	
<hr/>	

36	
+	
8	
<hr/>	
<hr/>	

56	
+	
19	
<hr/>	
<hr/>	

46	
+	
39	
<hr/>	
<hr/>	



آؤ کریں

43 اور دوسرے میچ میں 58 رن بنائے۔ اس نے



راہم نے ایک میچ میں



A.

دونوں میچوں میں مل کر کل کتنے رن بنائے؟





B. سمپریت کے پاس 12 رنگین پنسلیں  تھیں۔ اس کی ماں نے اسے 36 اور رنگین



پنسلیں تحفہ میں دیں۔ اب اس کے پاس کل کتنی پنسلیں ہیں؟

C. حنا نے 34 لال کنچے  اور 57 نیلے کنچے  اکٹھے کیے۔ اس کے پاس اب کل کتنے

کنچے ہیں؟

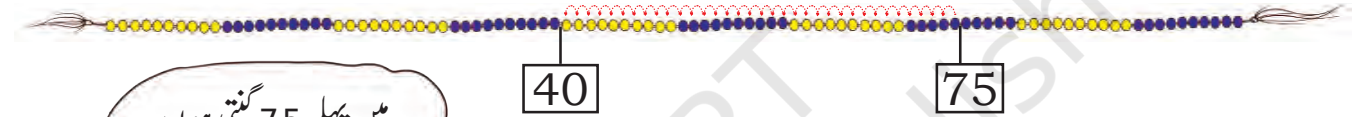
D. ساریکا نے میلے میں 56 روپے خرچ کیے جب کہ منیش نے میلے میں 30 روپے خرچ کیے

دونوں نے میلے میں کل کتنی رقم خرچ کیے؟

E. بس میں 36 آدمی  اور 47 عورتیں  ہیں۔ کل کتنے افراد ہیں؟

آؤ دیے گنیں



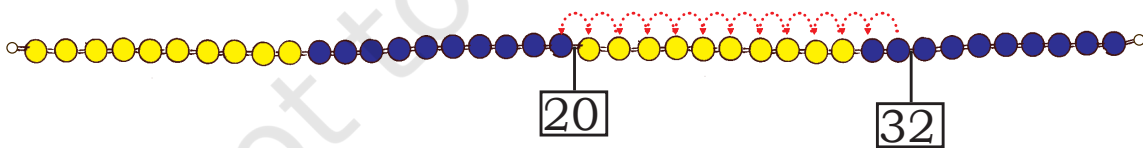


میں پہلے 75 گنتی ہوں  
اور پھر 35 قدم پیچھے جاتی ہوں۔



اس کا مطلب ہے اگر ہم 75 میں سے 35 نکال دیں۔ تب جواب 40 ہوگا۔

$$75 - 35 = 40$$



32 میں سے 12 نکالنے پر ہمیں 20 حاصل ہوتا ہے۔

$$32 - 12 = 20$$

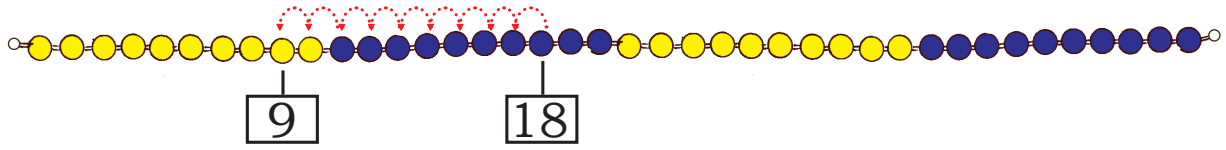
اگر صبح میں ہمارے پاس 32  
دیے تھے اور شام تک 12  
فروخت کر دیے گئے۔ کتنے  
دیے باقی بچے؟



مندرجہ ذیل کی تعداد معلوم کرنے کے لیے ہم گن لڑی کا استعمال بھی کرتے ہیں۔

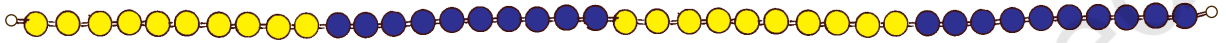
$18 - 9 =$

.A 18 میں سے 9 نکالے



$12 - 8 =$

.B 12 میں سے 8 نکالے



$30 - 18 =$

.C 30 میں سے 18 نکالے



$23 - 14 =$

.D 23 میں سے 14 نکالے

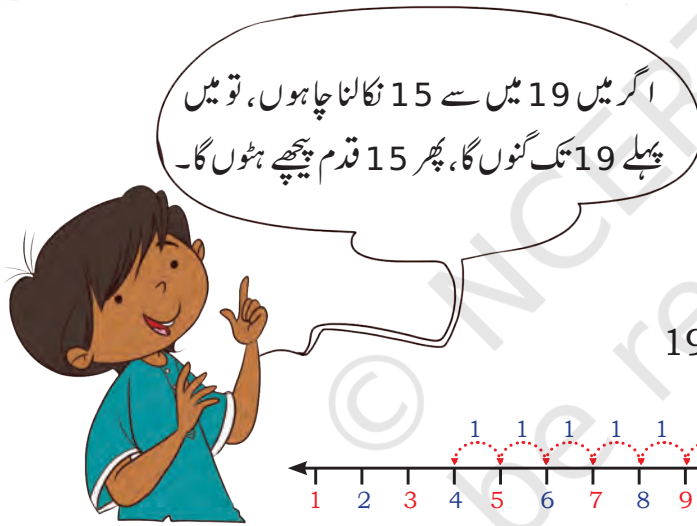


$26 - 17 =$

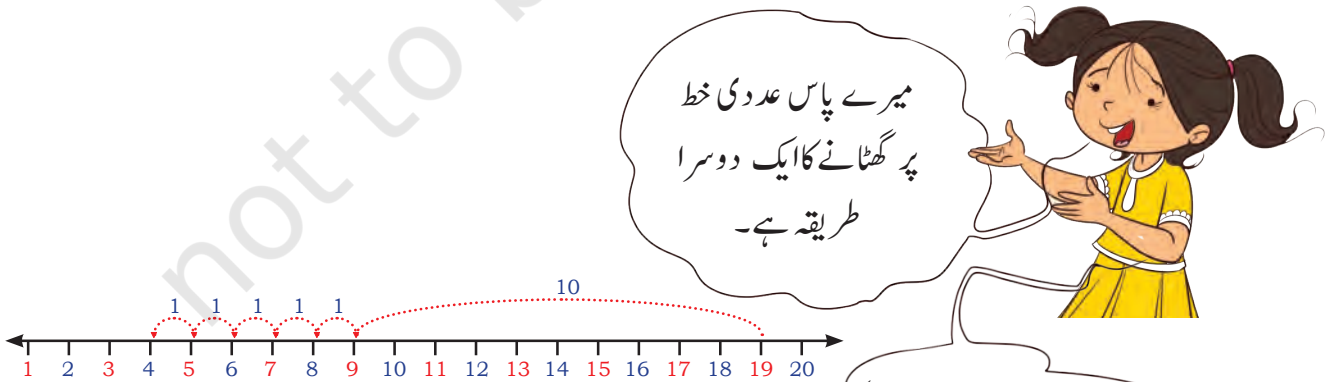
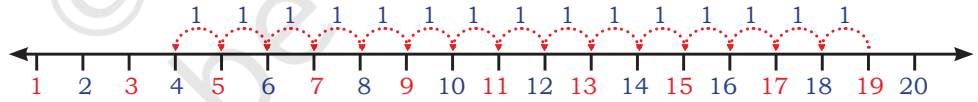
.E 26 میں سے 17 نکالے







$$19 - 15 = 4$$



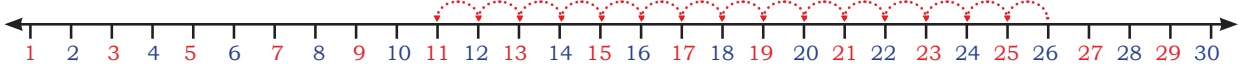
میرے پاس عددی خط  
پر گھٹانے کا ایک دوسرا  
طریقہ ہے۔

ہم سیدھے 10 قدم پیچھے کی  
طرف کو دیں اور پھر 5 قدم پیچھے  
جا کر 4 تک پہنچ سکتے ہیں

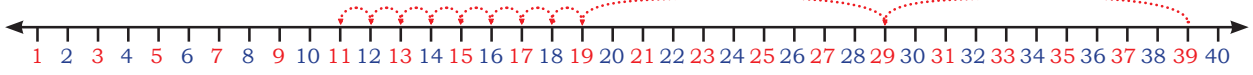


آؤ، عددی خط پر اس کی کچھ مشق کرتے ہیں۔

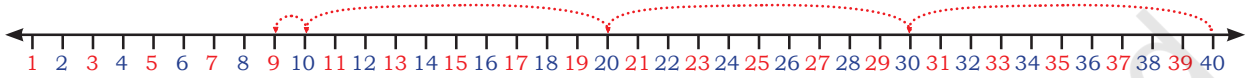
عددی خط کو پڑھیے اور خانوں کو بھریے۔



A.  $26 - \boxed{\phantom{00}} = \boxed{\phantom{00}}$



B.  $39 - 28 = \boxed{\phantom{00}}$



C.  $\boxed{\phantom{00}} - \boxed{\phantom{00}} = \boxed{\phantom{00}}$



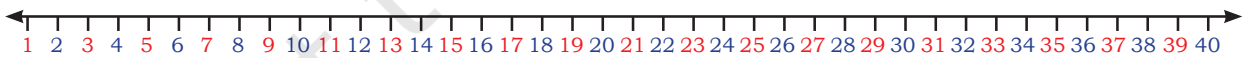
D.  $38 - 11 = \boxed{\phantom{00}}$



E.  $22 - 22 = \boxed{\phantom{00}}$



F.  $14 - 0 = \boxed{\phantom{00}}$



G.  $35 - 12 = \boxed{\phantom{00}}$

روزمرہ زندگی کی صورت حال جیسے تمام رقم خرچ کر دینا یا کچھ نہیں خرچ کرنا جیسی مثالیں لے کر صرف اور اسی عدد کو گھٹانے پر بچوں سے گفتگو کریں۔





10



1

بلاکوں کا کھیل

میرے پاس 45 ہیں۔ میں نے 12 اپنے  
دوست کو دے دیے۔ میرے پاس باقی بچے ہیں۔



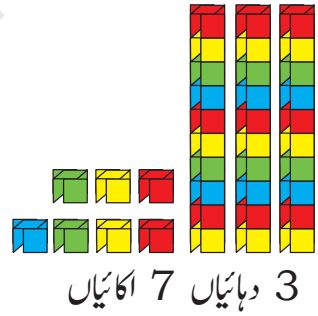
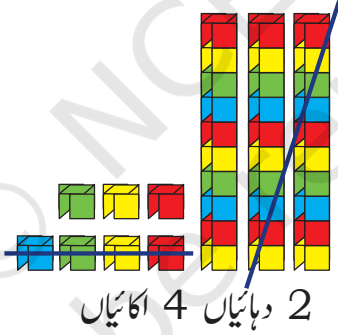
$$\begin{array}{r} \text{T O} \\ 45 \\ - 12 \\ \hline 33 \end{array}$$

$$\begin{array}{r} \text{T O} \\ 45 \\ - 12 \\ \hline 3 \end{array}$$

$$\begin{array}{r} \text{T O} \\ 45 \\ - 12 \\ \hline \end{array}$$

37 میں سے 24 گھٹائیے۔

$$\begin{array}{r} \text{T O} \\ 37 \\ - 24 \\ \hline \end{array}$$



خود کیجیے

$$\begin{array}{r} 46 \\ - 34 \\ \hline \end{array}$$

$$\begin{array}{r} 32 \\ - 12 \\ \hline \end{array}$$

$$\begin{array}{r} 54 \\ - 31 \\ \hline \end{array}$$

$$\begin{array}{r} 24 \\ - 13 \\ \hline \end{array}$$

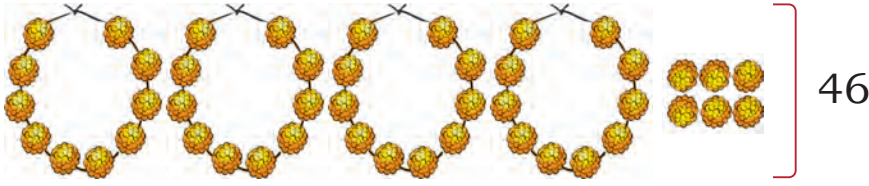
A. شیکھا کے پاس ₹82 ہیں۔ اس نے ₹22 کی پنسلیں خریدیں۔ اس کے پاس کتنی رقم باقی بچی؟

B. روپی کے پاس ₹60 ہیں۔ اس نے ₹20 میں ایک کاپی خریدی۔ اس کے پاس اب کتنی رقم باقی بچی؟

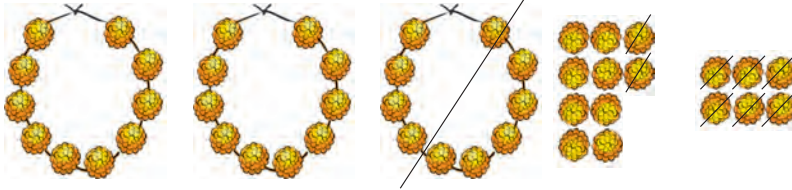








46



18 دیکھیے

	T	O
	4	6
-	1	8
<hr/>		

	T	O
	<del>3</del>	<del>16</del>
-	1	8
<hr/>		
		8

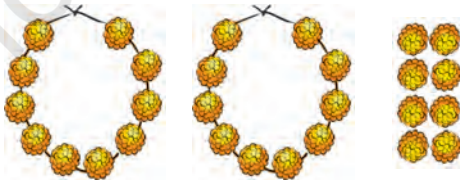
(کھلے ہوئے) 16 = 10 + 6  
16 - 8 = 8

	T	O
	<del>3</del>	<del>16</del>
-	1	8
<hr/>		
	2	8



میرے پاس 2 ہار اور 8 پھول بچے ہیں،  
یا کل ملا کر 28 پھول

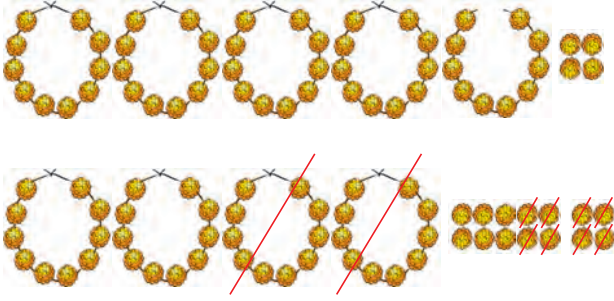
اب جیوتی کے پاس کل ملا کر 28 پھول ہیں۔ وہ اپنی دوست کو دے دیتی ہے۔ یہ جاننے کے لیے اس کی مدد کیجیے کہ اس کے پاس اب کتنے پھول باقی بچے ہیں؟



	2	8
-		5
<hr/>		



اب حیوتی کے پاس کل ملا کر 54 پھول ہیں۔ وہ 28 اپنی ماں کو دے دیتی ہے۔ اس کے پاس اب کتنے پھول باقی بچے ہیں؟



$$\begin{array}{r} 54 \\ - 28 \\ \hline \end{array} \rightarrow \begin{array}{r} 4 \quad 14 \\ \cancel{5} \quad \cancel{4} \\ - 28 \\ \hline 6 \end{array} \rightarrow \begin{array}{r} 4 \quad 14 \\ \cancel{5} \quad \cancel{4} \\ - 28 \\ \hline 26 \end{array}$$

اوہ! مجھے ایک ہار کھولنے کی ضرورت ہے  
پھر میرے پاس 4 ہار اور 14 پھول ہوں گے  
اس میں سے 8 پھول دے سکتی ہوں۔

$$14 - 8 = 6$$

میرے پاس 2 ہار اور 6 پھول باقی بچے ہیں  
یا کل ملا کر 26 پھول

اب حیوتی کے پاس کل ملا کر 73 پھول ہیں۔ وہ 47 اپنی ماں کو دے دیتی ہے۔ اس کے پاس اب کتنے پھول باقی بچے ہیں؟



پھول	ہار	
3	7	حیوتی کے پاس ہیں
7	4	حیوتی دے دیتی ہے
		حیوتی کے پاس باقی بچے ہیں





$$\begin{array}{r} 93 \\ - 48 \\ \hline \end{array}$$

$$\begin{array}{r} 27 \\ - 27 \\ \hline \end{array}$$

$$\begin{array}{r} 65 \\ - 45 \\ \hline \end{array}$$

$$\begin{array}{r} 84 \\ - 37 \\ \hline \end{array}$$

$$\begin{array}{r} 45 \\ - 18 \\ \hline \end{array}$$

### رستی کودنا

امن اور آونی کودنے کا کھیل، کھیل رہے ہیں۔ دونوں کو 20 کودیں مکمل کرنی ہیں۔ جب رستی پاؤں کے نیچے سے گزرتی ہے تب ایک کود گنی جاتی ہے۔ انھیں کودنے کے دو موقع ملیں گے۔ اگر کوئی پہلی مرتبہ نہ کود پائے تو اسے 20 کود مکمل کرنے کے لیے دوسرا موقع ملے گا۔ اس کا مطلب یہ ہوا کہ اگر وہ پہلی بار میں 12 مرتبہ لگاتار کودتے ہیں تو 8 مرتبہ رستی کودنے کے لیے انھیں ایک اور موقع ملے گا۔



امن پہلی بار میں 14 مرتبہ کودا 20 کود پوری کرنے کے لیے اسے کتنی اور کودوں کی ضرورت ہے؟


$$20 - 14 = \underline{\quad}$$

$$14 + \underline{\quad} = 20$$

آونی پہلی بار میں 12 مرتبہ کودی۔ 20 کود پوری کرنے میں اسے کتنی اور کود کی ضرورت ہے۔

$$20 - 12 = \underline{\quad}$$

$$12 + \underline{\quad} = 20$$



ہم جواب معلوم کرنے کے لیے کوئی سا بھی طریقہ استعمال کر سکتے ہیں، گن لڑی، عددی پٹی، عددی بلاک یا موتی مالا

A. انوشکا نے 63 سپیاں اکٹھی کیں۔ اس نے 26 سپیاں اپنے بھائی کو دے دیں۔ اس

کے پاس اب کتنی سپیاں باقی بچیں؟

B. ایک بس میں 54 مسافر بیٹھے ہوئے ہیں۔ 16 مسافر بس اسٹینڈ پر اتر جاتے ہیں۔ اب بس

میں کتنے مسافر باقی ہیں؟

C. 40 غبارے ہیں۔ 13 غبارے پھوٹ جاتے ہیں۔ کتنے غبارے باقی بچے؟

D. کنیکا نے 72 چوڑیاں بنائیں۔ اس نے 36 چوڑیاں فروخت کر دیں۔ اب کنیکا کے پاس

کتنی چوڑیاں باقی بچیں؟

E. 56 چڑیاں درخت پر بیٹھی تھیں۔ کچھ اور چڑیاں ان میں آلیں۔ اب وہاں 87 چڑیاں

ہیں۔ بعد میں آنے والی چڑیوں کی تعداد بتاؤ؟

F. ارمان فٹ بال کو 18 مرتبہ پاؤں سے اچھالتا ہے۔ 35 اچھال مکمل کرنے کے لیے اُسے اور کتنی

مرتبہ پاؤں سے مارنا پڑے گا؟

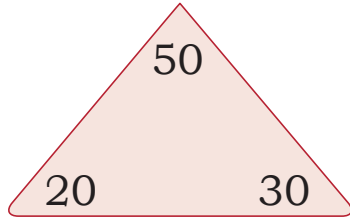
جوڑنا اور گھٹانا ساتھ ساتھ

جوڑنا اور گھٹانا پورا کرنے کے لیے خالی جگہوں کو بھریئے۔

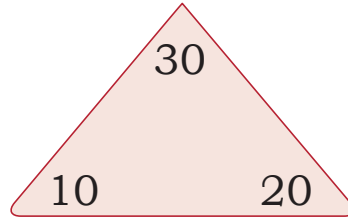
20, 30, 50

10, 20, 30

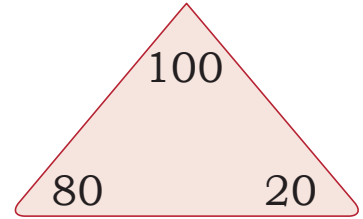
20, 80, 100



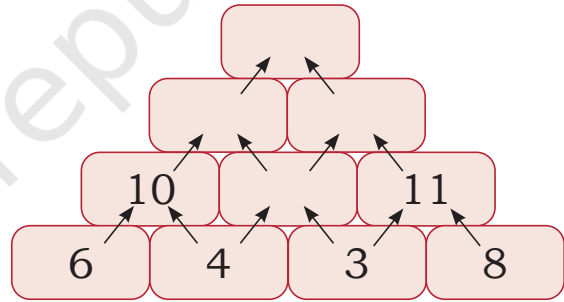
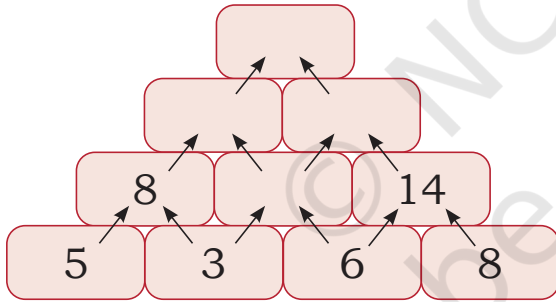
$$\begin{aligned} 20 + 30 &= \underline{\quad} \\ 30 + \underline{\quad} &= 50 \\ 50 - \underline{30} &= 20 \\ \underline{\quad} - 20 &= 30 \end{aligned}$$



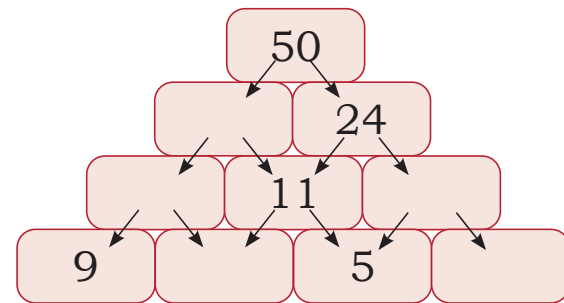
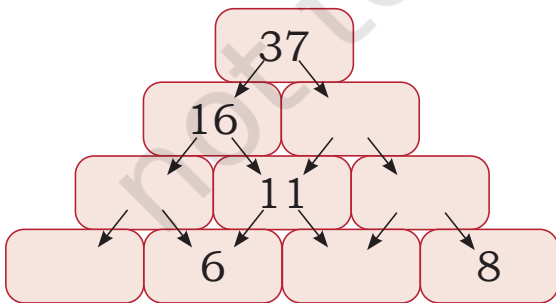
$$\begin{aligned} 10 + 20 &= \underline{\quad} \\ \underline{\quad} + \underline{\quad} &= \underline{\quad} \\ 30 - \underline{\quad} &= 10 \\ 30 - \underline{\quad} &= 20 \end{aligned}$$



جوڑنا اور گھٹناؤں کے احرام کو مکمل کیجیے۔



جوڑنا کا احرام



گھٹناؤں کا احرام





ان خانوں کو دیکھیے۔

$15 = 6 + 9$

$12 = 9 + 3$

یہاں،

9

12

3

15

8

$8 = 5 + 3$

$11 = 6 + 5$

6

11

5

اب مندرجہ ذیل خانوں کو مکمل کیجیے

1

5

.B

9

10

14

10

.A

9

13

12

ہانیا اور مانسی کا تحفہ

ہانیا اور مانسی اپنی ماں کو ایک تحفہ دینا چاہتے ہیں۔ اس کی سجاوٹ کے لیے انھوں نے کچھ ربن اور نگین کاغذ خریدے ہیں۔

ان کے بڑھ میں 78 روپیے ہیں۔ رنکین کاغذوں کی قیمت 24 روپیے ہے اور ربنوں کی قیمت 37 روپیے ہے۔

A. انھوں نے کتنی رقم خرچ کی؟

B. ان کے پاس کتنی رقم باقی بچی؟



پروجیکٹ کا کام



دلچسپیت نے کچھ سوالات حل کیے ہیں اور ان کے جوابات بھی لکھے ہیں۔ آپ کیا سوچتے ہیں؟ کیا یہ صحیح ہیں؟ اپنے جواب کی تصدیق کیجیے۔ اگر آپ انھیں غلط پائیں تو ان کو صحیح کر دیجیے۔

$$\begin{array}{r} 30 \\ - 17 \\ \hline 27 \end{array}$$

$$\begin{array}{r} 57 \\ - 78 \\ \hline 21 \end{array}$$

$$\begin{array}{r} 35 \\ - 17 \\ \hline 22 \end{array}$$

$$\begin{array}{r} 37 \\ + 58 \\ \hline 131 \end{array}$$

$$\begin{array}{r} 25 \\ + 36 \\ \hline 511 \end{array}$$

