



జాతరలో వినోదం



0224CH10


రూపల్ కి జాతరకు వెళ్లడం అంటే చాలా ఇష్టం. ఆమె తన స్నేహితులతో స్థానిక జాతరను సందర్శిస్తుంది. ఆమె తల్లి ఆమెకు ₹50 ఇచ్చింది. అందులో ఎక్కువ భాగం తనకు ఇష్టమైన రైడ్స్ కే ఖర్చు చేసింది.



జాతరలలో పిల్లలు ఆనందించే విషయాలు, వారు ఎవరితో వెళతారు, వారు ఏమి కొంటారు మరియు అక్కడ వారు ఎంత డబ్బు ఖర్చు చేస్తారు వంటి వాటి గురించి మాట్లాడండి.



నేను ఎంత ఖర్చు పెట్టాను?



₹10



రైడ్లకు ఖర్చు చేసిన మొత్తం డబ్బు =

రూపల్ తల్లి ఇచ్చిన డబ్బు - ఖర్చు పెట్టిన డబ్బు = రూపల్ వద్ద మిగిలిన డబ్బు

రూపల్ స్నేహితుడిక వద్ద ₹50లో 8 మిగిలాయి. ఆమె ఎంత డబ్బు ఖర్చుపెట్టిందనేది తెలియాల్సి ఉంది. ఆమె దానిని కనుగొనే విధానాన్ని చూద్దాం.



నా వద్ద ఇప్పుడు ₹8 మిగిలి ఉన్నాయి మరియు నేను రైడ్లకు ₹20 ఖర్చు చేశాను, అంటే ₹28. ఇంకా, నేను స్క్వాక్ కోసం ₹20 ఖర్చు చేశాను, అంటే ₹48 అవుతాయి మరియు నేను క్యాండీల కోసం ₹2 ఖర్చు చేశాను, అంటే ₹50 అయ్యాయి. అంటే, నేను మొత్తం ₹42 ఖర్చు చేశాను.

$$\begin{aligned} ₹8 + ₹20 &= ₹28 \\ ₹28 + ₹20 &= ₹48 \\ ₹48 + ₹2 &= ₹50 \\ \hline &₹42 \end{aligned}$$




మీ నాన్న జాతరకు ₹40 ఇచ్చినప్పుడు మీ దగ్గర ₹3 మిగిలి ఉంటే, మీరు ఎన్ని రూపాయలు ఖర్చు చేశారు? కనిపెట్టండి.





మనం చేద్దాం

A. కొనడానికి ఎంత డబ్బు అవసరమవుతుంది?

రైడ్ చేయండి	టిక్కెట్ల సంఖ్య	డబ్బు
	2	₹_____
	_____	₹30
	2	₹_____

B. రూపల్ మరియు ఆమె స్నేహితులు ఉపయోగించే వివిధ నోట్లు మరియు నాణేలను మేము చూశాము. మనం సాధారణంగా ఉపయోగించే ఇతర భారతీయ కరెన్సీని చూద్దాం.



₹100




₹200



₹500



C. ₹500 నోటుపై ₹500 ఎన్ని సార్లు వ్రాయబడిందో లెక్కించండి.



i. ఐదు వందల రూపాయలు పదాలలో
_____ సార్లు వ్రాయబడ్డాయి.

ii. 500 సంఖ్య _____ సార్లు
వ్రాయబడింది.

500 రూపాయల నోటుపై ఏ
స్మారక చిహ్నం
ముద్రించబడింది? మీరు ఈ
స్మారక చిహ్నాన్ని చూశారా?



ఇతర కరెన్సీ నోట్లను గమనించమని మరియు వాటి లక్షణాలను చర్చించమని పిల్లలను అడగండి. ప్రత్యేక సామర్థ్యం ఉన్న వ్యక్తుల కోసం కరెన్సీ నోట్ల చివరలో ఉన్న లైన్లు మరియు ప్రతి నోటుపై వాటి సంఖ్య వంటి లక్షణాలను వారితో చర్చించండి.



తేజల్ అమ్మమ్మ తను ఇంతకు ముందు చూడని కొన్ని పాత నాణేలను చూపించింది. ఈ నాణేలను కూడా చూద్దాం.



25 పైసలు



50 పైసలు



10 పైసలు



20 పైసలు

ఆమె అమ్మమ్మ 1 రూపాయికి 50 పైసలవి 2 నాణేలను ఇచ్చేది.



50 పైసలు

+



50 పైసలు

=



₹1

100 పైసలు = 1 రూపాయి

A. ఎన్ని 25 పైసలు కలిపి ₹1 రూపాయి అవుతుంది? దిగువ పెట్టెలో నాణేలను గీయండి.

= ₹1 లేదా

100 పైసలు

B. ఎన్ని 20 పైసలు కలిపి ₹1 రూపాయి అవుతుంది?













బెలూన్ పాప్ చేయండి

మాతృకి 'పాప్ ది బెలూన్' గేమ్ కనిపిస్తుంది. అతనికి ₹10కి 3 ఛాన్సులు వస్తాయి. మాతృ ఎంత డబ్బు గెలుస్తాడో చూద్దాం.



A. కింది బెలూన్లను పాప్ చేస్తే మాతృకి ఎంత డబ్బు వస్తుంది?

 	₹3
  	
  	
 	

B. బెల్టాస్లను గీసి, రంగులు వేయండి, క్రింది మొత్తాన్ని పొందాలనుకుంటే అతను పాప్ చేయాలి.

	₹17
	₹22
	₹31

C. మీరు అత్యధిక మొత్తంలో డబ్బు సంపాదించడానికి ఏ మూడు విభిన్న రంగుల బెల్టాస్లను లక్ష్యంగా చేసుకుంటారు? వాటిని గీసి, రంగు వేయండి.

గెలిచిన మొత్తం =

D. మాతృకే నాలుగు అవకాశాలు ఉంటే, అతను ఏ విభిన్న రంగుల బెల్టాస్లను పాప్ చేయడం ద్వారా ఎక్కువ డబ్బు సంపాదించగలడు? వాటిని వేయండి గీసి, రంగు వేయండి.

గెలిచిన మొత్తం =






දඬුවම්	₹1	₹2	₹5	₹10	₹20	₹50
₹54	—	2	—	3	1	—
₹85						





మనం కొనుగోలు చేద్దాం



వస్తువులు	ఈ వస్తువులను కొనడానికి డబ్బు అవసరం	మీ దగ్గర ఉన్న డబ్బు	డబ్బు మిగిలి ఉంది/ మరింత డబ్బు అవసరం
	₹ _____		₹ _____
	₹ _____		₹ _____
	₹ _____		₹ _____





మనం చేద్దాం

₹ 18

+ ₹ 32

₹ 15

+ ₹ 27


₹ 47

+ ₹ 50

₹ 22

+ ₹ 35

మనం కొన్ని సార్లు
మొబైల్ ఫోన్లను
ఉపయోగించి చెల్లించడం
మీరు చూశారా?



- A. జయంతి పెన్సులకు ₹25, నోట్బుక్ కి ₹40 ఖర్చు చేశాడు. అతను మొత్తం ఎంత డబ్బు ఖర్చు చేశాడు?
- B. మీరా దగ్గర ₹43 ఉంది. మీరా కంటే కనిక దగ్గర ₹14 ఎక్కువ ఉన్నాయి. అయితే కనిక దగ్గర ఎంత డబ్బు ఉంది?
- C. బ్రెడ్ ప్యాకెట్ ధర ₹30 మరియు ఒక చాక్లెట్ ధర ₹60. ఈ వస్తువులు కొనాలంటే వివేక్ కి ఎంత డబ్బు కావాలి?
- D. అజయ్ దగ్గర 58 రూపాయలు ఉన్నాయి. అతను మార్కెట్లో ₹48 ఖర్చు చేశాడు. ఇప్పుడు అతని వద్ద ఎంత డబ్బు మిగిలి ఉంది?



ప్రాజెక్ట్ పని

మీరు మీ తల్లిదండ్రులతో కలిసి మార్కెట్ కి లేదా షాపింగ్ కు వెళ్ళినప్పుడల్లా, మీరు కొనుగోలు చేసే వస్తువులు మరియు మీరు ఖర్చు చేసే మొత్తం డబ్బు జాబితాను రూపొందించండి.

ఇలాంటి మరిన్ని సందర్భాలను సృష్టించండి మరియు పిల్లలు కలుపుతారా లేదా తీసివేస్తారా అనే ప్రశ్నలు అడగండి. చర్చల ద్వారా పిల్లల్లో డబ్బు పొదుపు విలువను పెంపొందించండి.

