




QRickit

0224CH09




ఋతువులు



ఒక సంవత్సరంలో ఐదు
కాలాలు. వసంతం ఉల్లాసంగా
ప్రారంభమవుతుంది.
ఉల్లాసమైన వసంతం
వచ్చినప్పుడు పువ్వులు
వికసిస్తాయి, పక్షులు
పాడతాయి.

ఎండాకాలం వచ్చిందంటే
చాలు, పిల్లలు
ఆడుకోవడానికి చాలా
సమయం ఉంటుంది



వర్షాకాలం నీటి చుక్కలతో
వస్తుంది; నెమలిలు
నృత్యాలు చేస్తాయి
మరియు కప్ప
దూకుతుంది.

ఆకులు నేలపై పడతాయి.
ఆహ్లాదకరమైన గాలులు
వీస్తుంటాయి, అటువంటిది
శరదృతువు రోజులో భాగం.



శీతాకాలం అంటే నేను
తల నుండి కాళి వరకు
మంచులో ఉంటాను.



మనం చర్చించుకుందాం

- మీరు ఏ ఋతువులో సెలవులకు వెళతారు?
- మీ పుట్టినరోజు, సంవత్సరంలో ఏ ఋతువులో వస్తుంది?
- మీకు ఇష్టమైన ఋతువు ఏది? ఎందుకు?
- మీకు ఇష్టమైన ఋతువులో ప్రత్యేకత ఏమిటి?

పద్యాన్ని బిగ్గరగా చదివి అమలు చేయండి. వివిధ సీజన్లలో వారు చేసే ప్రత్యేక విషయాలను చర్చించండి. అలాగే స్థానికంగా లభించే వివిధ ఆహారం మరియు బట్టల గురించి మాట్లాడండి, ఉదాహరణకు, కాశ్మీర్‌లోని ఫరాస్ మొదలైన వాటి గురించి కూడా మాట్లాడండి, ఋతువులో స్థానిక వైవిధ్యాలు ప్రజల రోజువారీ జీవితాలను ఎలా ప్రభావితం చేస్తాయో చర్చించండి.



ఋతువులను వాటి పేర్లు మరియు పండుగలతో సరిపోల్చండి.



శరదృతువు

దసరా, శరద్ పూర్ణిమ




వేసవి

గురు పూర్ణిమ, బుద్ధ
పూర్ణిమ, రామ నవమి,
మహావీర్ జయంతి



వసంతం

గుడి పద్మా ,
శివరాత్రి , బైసాఖి,హోలీ



శీతాకాలం

లోహి, క్రీస్మస్, గణతంత్ర
దినోత్సవం, గురునానక్
జయంతి, బిహు



వర్షాకాలం

జన్మాష్టమి, రాఖీపూర్ణిమ,
స్వాతంత్ర్య దినోత్సవం

వసంతం, శిశిరం మొదలైనవి, హిందీలో మరియు ఇతర ప్రాంతీయ భాషలలో కూడా ఋతువుల పేర్లను చర్చించండి. కాలానుగుణంగా లేని ఈ వంటి ఇతర పండుగల గురించి వారికి చెప్పండి.



క్యాలెండర్ విన్ోదం

జనవరి

S	M	T	W	T	F	S
1	2	3	4	5	6	7
8	9	10	11	12	13	14
15	16	17	18	19	20	21
22	23	24	25	26	27	28
29	30	31				

ఫిబ్రవరి

S	M	T	W	T	F	S
			1	2	3	4
5	6	7	8	9	10	11
12	13	14	15	16	17	18
19	20	21	22	23	24	25
26	27	28				

మార్చి

S	M	T	W	T	F	S
			1	2	3	4
5	6	7	8	9	10	11
12	13	14	15	16	17	18
19	20	21	22	23	24	25
26	27	28	29	30	31	

ఏప్రిల్

S	M	T	W	T	F	S
30						1
2	3	4	5	6	7	8
9	10	11	12	13	14	15
16	17	18	19	20	21	22
23	24	25	26	27	28	29

మే

S	M	T	W	T	F	S
	1	2	3	4	5	6
7	8	9	10	11	12	13
14	15	16	17	18	19	20
21	22	23	24	25	26	27
28	29	30	31			

జూన్

S	M	T	W	T	F	S
				1	2	3
4	5	6	7	8	9	10
11	12	13	14	15	16	17
18	19	20	21	22	23	24
25	26	27	28	29	30	

జూలై

S	M	T	W	T	F	S
30	31					1
2	3	4	5	6	7	8
9	10	11	12	13	14	15
16	17	18	19	20	21	22
23	24	25	26	27	28	29

ఆగస్టు

S	M	T	W	T	F	S
		1	2	3	4	5
6	7	8	9	10	11	12
13	14	15	16	17	18	19
20	21	22	23	24	25	26
27	28	29	30	31		

సెప్టెంబర్

S	M	T	W	T	F	S
					1	2
3	4	5	6	7	8	9
10	11	12	13	14	15	16
17	18	19	20	21	22	23
24	25	26	27	28	29	30

అక్టోబర్

S	M	T	W	T	F	S
1	2	3	4	5	6	7
8	9	10	11	12	13	14
15	16	17	18	19	20	21
22	23	24	25	26	27	28
29	30	31				

నవంబర్

S	M	T	W	T	F	S
			1	2	3	4
5	6	7	8	9	10	11
12	13	14	15	16	17	18
19	20	21	22	23	24	25
26	27	28	29	30		

డిసెంబర్

S	M	T	W	T	F	S
31					1	2
3	4	5	6	7	8	9
10	11	12	13	14	15	16
17	18	19	20	21	22	23
24	25	26	27	28	29	30

*2023 ఆధారంగా క్యాలెండర్

క్యాలెండర్ని చూసి కింది పట్టికను నింపండి.

నెలలు	రోజుల సంఖ్య
జనవరి, మార్చి, మే, జూలై, ఆగస్టు, అక్టోబర్, డిసెంబర్	
ఫిబ్రవరి	
ఏప్రిల్, జూన్, సెప్టెంబర్, నవంబర్	





మాట్లాడుకుందాం

- A. మనం క్యాలెండర్‌ను ఎందుకు ఉపయోగిస్తాము?
- B. ఫిబ్రవరిలో ప్రతి సంవత్సరం ఒకే సంఖ్యలో రోజులు ఉంటాయా? చర్చించండి.
- C. వారానికి ఎన్ని రోజులు ఉంటాయి? రోజులు.
- D. మునుపటి పేజీలో ఇచ్చిన క్యాలెండర్‌లో ఏప్రిల్ నెలలో ఎన్ని ఆదివారాలు ఉన్నాయి? ఆదివారాలు.
- E. ఏయే నెలల్లో 5 ఆదివారాలు ఉన్నాయి? _____, _____, _____, _____.
- F. వేసవి నెలలు _____ మరియు _____ నెలలలో ఉంటాయి.
- G. శీతాకాలపు నెలలు _____ మరియు _____.
- H. ఏప్రిల్ మరియు మార్చిలో మొత్తం రోజుల సంఖ్యను కనుగొనండి.
రోజులు + రోజులు = రోజులు



ప్రాజెక్ట్ పని

మీ పుట్టినరోజు నెలకు సంబంధించిన మీ స్వంత క్యాలెండర్‌ను రూపొందించండి మరియు మీ పుట్టినరోజును అందులో గుర్తు పెట్టండి.



S	M	T	W	T	F	S

మన దైనందిన జీవితంలో క్యాలెండర్ ప్రాముఖ్యత గురించి చర్చించండి.



ఎంత సమయం పడుతుంది?

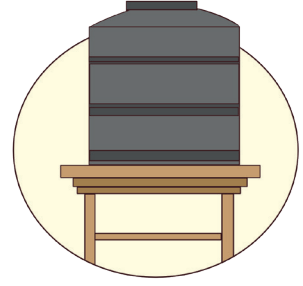
కార్యకలాపాన్ని పూర్తి చేయడానికి అవసరమైన సమయంతో సరిపోల్చండి.




వంట చేయడం



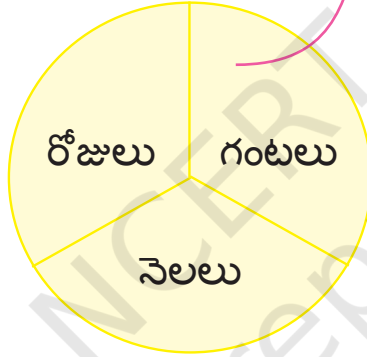
వేసవి సెలవులు



నీటి తొట్టెని నింపడం



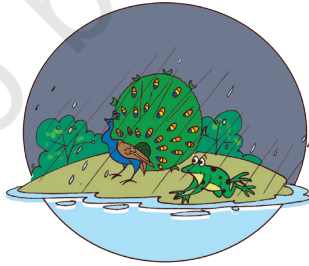
స్వీటర్ అల్లడం



ఆడుతున్నారు



మొక్కగా ఎదగడానికి
విత్తనం



ఋతువు మార్పు



యోగా

వేర్వేరు సమయ వ్యవధిని తీసుకునే ఇతర విషయాలను పూర్తి చేయడానికి చర్చించండి.



విజయవాడ పర్యటన

తేదీ: 24 నవంబర్.
సమయం: 1:15 PM

తాతగారు ఇప్పుడు 1:15 PM , అమ్మమ్మ ఇంటికి రుక్మిణికి ఇంకా ఎంత సమయం పడుతుంది?

విజయవాడ రైల్వే స్టేషన్ చేరుకోవడానికి కేవలం 1 గంట సమయం మాత్రమే ఉంది.

విజయవాడ రైల్వే స్టేషన్
చేరుకోవడానికి కేవలం 1 గంట
సమయం మాత్రమే ఉంది

తేదీ: 25 నవంబర్.
సమయం: 10:00 PM

అమ్మా! మేము ఈ రోజు చాలా ఆనందించాము. మామయ్యను చూడండి, అతను చాలా అందంగా కనపడుతున్నాడు .

అవును ప్రియతమా! మొత్తానికి ఇది మామయ్య పెళ్లి కాబట్టి.

నా ప్రియమైన బిడ్డ ఆ డేవుడు నిన్ను ఆశీర్వదింపగాక.

అమ్మా! మేము ఈ రోజు
చాలా ఆనందించాము.
మామయ్యను చూడండి,
అతను చాలా అందంగా
కనపడుతున్నాడు .

నా ప్రియమైన బిడ్డ
ఆ దేవుడు నిన్ను
ఆశీర్వదించుగాక.

తేదీ: 26 నవంబర్.
సమయం: 8:00 AM

అమ్మా! మన రైలు
ఎల్లుండి ఉంది. మనము
సందర్శన కోసం
వెళదామా?

అవును, మనము
ఉదయం 11:00
గంటలకు మంగళగిరి
కొండలకు వెళదాము.

అవును, మనము
ఉదయం 11:00
గంటలకు మంగళగిరి
కొండలకు వెళదాము.

తేదీ: 26 నవంబర్.
సమయం: 5:00 PM

చూడండి నానమ్మా, ఈ చెట్లు మరియు మొక్కలు ఎంత అందంగా ఉన్నాయో. చాలా అందమైన పువ్వులు కూడా ఉన్నాయి.

పిల్లలూ, సాయంత్రం 5:00 అయింది, మనం ఆలస్యం అవుతాము, తిరిగి వెళ్దాం.

తేదీ: 27 నవంబర్.
సమయం: 9:00 AM

ఉదయం 9:00 గంటలకు బస్సులో కొండపాలి కోటకు వెళ్లాలని కుటుంబం నిర్ణయించుకుంది.

మేము 8 గంటల తర్వాత తిరిగి వస్తాము.

సరే సార్, మీరు కోటను సందర్శించండి. నేను 8 గంటల తర్వాత మీ అందరినీ తీసుకువెళ్ళడానికి వస్తాను. ఇది మీకు ఒక మంచి పర్యటన కావాలని ఆశిస్తున్నాను.

Date: 28 Nov.
Time: 7:00 PM

అయ్యో పాపా, మన ప్రయాణం ముగిసేంది మరియు ఇప్పుడు మనము మన ఇంటికి తిరిగి వెళ్ళాలి. కానీ, వందే భారత్ అని పిలువబడే భారతదేశంలో అత్యంత వేగవంతమైన రైలులో తిరిగి ప్రయాణించడానికి నేను సంతోషిస్తున్నాను.

అవును

వావ్!!

అవును, మనము అతి త్వరలో మళ్ళీ అలాంటి పర్యటన చేద్దాం!

తేదీ: 28 నవంబర్.
సమయం: 7:00 PM

అమ్మ, ఈ ఉత్తేజకరమైన పర్యటన గురించి నా స్నేహితులకు చెప్పడానికి నేను ఆత్మతతో వేచి చూస్తున్నాను



మనం మాట్లాడుకుందాం

- A. కుటుంబం పర్యటన ఎందుకు ప్లాన్ చేసింది? వారు యాత్ర కోసం ఏ ప్రాంతానికి వెళ్లారు? వారి పర్యటనలో మీకు ఏమి నచ్చింది?
- B. వారు తమ ప్రయాణాన్ని ఏ రోజున ప్రారంభించారు? వారు ఎప్పుడు తిరిగి వచ్చారు? వారి ప్రయాణం ఎంతకాలం జరిగింది?
- C. వారి పర్యటనలో ఏ ప్రదేశాలను సందర్శించారు?
- D. వారి రోజు పర్యటన ఎంతసేపు జరిగింది:
- మంగళగిరి కొండలు _____ గంటలు
 - కొండపల్లి కోట _____ గంటలు
అక్కడి నుంచి ఎప్పుడు తిరిగి వచ్చారు? _____
- E. రైలులో వెళ్ళేటప్పుడు వారు ఎన్ని గంటలు ఉన్నారు
- విశాఖపట్నం నుండి విజయవాడ

_____ వరకు _____

ii. విజయవాడ నుండి విశాఖపట్నం

_____ వరకు _____

_____ గంటలు
_____ గంటలు

ఈ రెండింటిలో దేని ప్రయాణం ఎక్కువ సమయం పట్టింది?


- F. మీరు ఇటీవల పర్యటనలో ఉన్నారా? పర్యటనల గురించి మీరు ఏమి ఎక్కువగా ఆనందిస్తారు



అద్భుతమైన వాస్తవం

నీకు తెలుసా?

వందే భారత్ భారతదేశంలోనే అత్యంత వేగవంతమైన రైలు. ఈ రైలు భారతదేశంలోనే రూపొందించబడింది మరియు ప్రత్యేక ఇంజిన్ కోచ్ కాకుండా ఇంటిగ్రేటెడ్ ఇంజిన్ కలిగి ఉన్న భారతదేశపు మొదటి రైలు కూడా.



రోజులు మరియు గంటల పరంగా వ్యవధి ఆలోచనతో పిల్లలకు పరిచయం చేయడానికి వారి ప్రయాణ అనుభవాల గురించి వారితో మాట్లాడండి. దానితోపాటు వారి నగరాల ప్రత్యేకత గురించి కూడా చర్చించండి.



గార్గీ దినోత్సవం

ఒక రోజులో గార్గీ ఏమి చేస్తుందో చూద్దాం. ప్రతి చిత్రానికి సమయాన్ని వ్రాయండి.



___ గంటలు



నిద్రకు ఉపక్రమిస్తుంది



6 గంటలు



మేల్కొంటుంది



నీటిని లాగుతుంది



7 గంటలు



___ గంటలు



స్నేహితులతో కలిసి ఆడుకుంటుంది



గార్గీ యొక్క రోజు



పాఠశాలకు వెళుతుంది



___ గంటలు



___ గంటలు



మధ్యాహ్న భోజనం తీసుకుంటుంది



___ గంటలు



చదువులు



___ గంటలు



తిరిగి ఇంటికి వస్తుంది



మనం మాట్లాడుకుందాం

చిన్న ముల్లు (గంటల ముల్లు) మరియు పెద్ద ముల్లు (నిమిషాల ముల్లు) సానాన్ని చూడండి మరియు గార్గీ ఒక రోజులో ఈ కార్యకలాపాలను ఏ సమయంలో చేస్తుందో గమనించండి.

- ఆమె ఏ సమయానికి నిద్ర లేస్తుంది?
- ఆమె ఎప్పుడు పాఠశాలకు వెళుతుంది?
- ఆమె ఏ సమయానికి భోజనం చేస్తుంది?





మనం చేద్దాం

A. గడియారంలో సమయాన్ని చదవండి.



___ గంటలు



___ గంటలు



___ గంటలు



___ గంటలు

B. గడియారంపై గంటల ముల్లు మరియు నిమిషాల ముల్లులను గీయండి.



3 గంటలు




11 గంటలు



4 గంటలు



9 గంటలు



12 గంటలు



6 గంటలు



C. దిగువ చూపిన కార్యకలాపాలను మీరు ఎప్పుడు చేస్తారు?

గడియారంపై గంటల ముల్లు మరియు నిమిషాల ముల్లు లను గీయడం ద్వారా వాటిని గుర్తించండి.



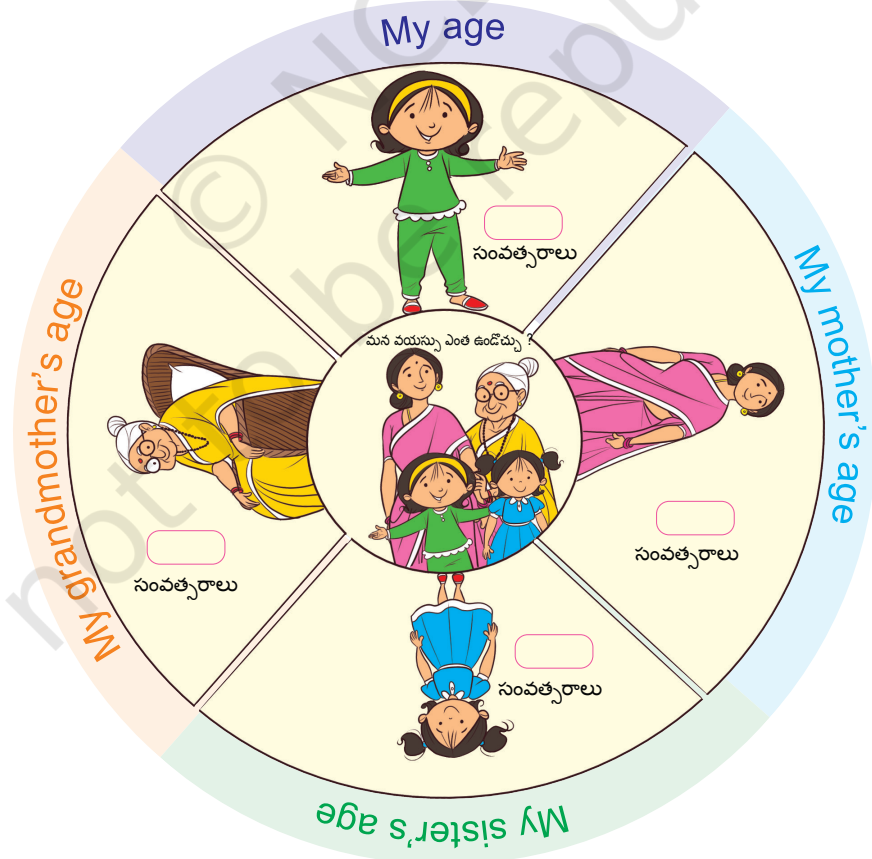
చదవడం



ఆడటం



మధ్యాహ్న భోజనం

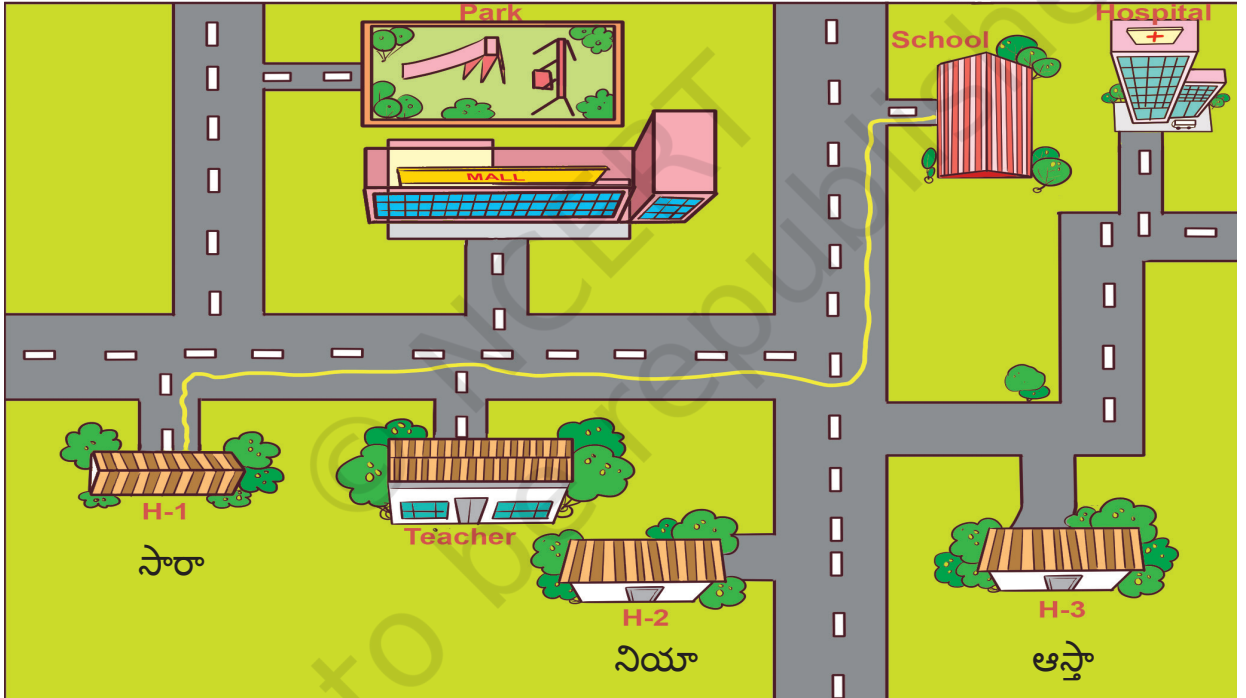




మనం ఆడుకుందాం — దిక్కులను తెలుసుకోవడం

తరగతి నుండి స్వచ్ఛందంగా పాల్గొనడానికి పిల్లవాడిని అడగండి. అతని లేదా ఆమె కళ్లకు గంతలు కట్టండి. కళ్లకు గంతలు కట్టుకున్న పిల్లవాడిని ఒక ప్రదేశం నుండి మరొక ప్రదేశానికి తరలించడానికి దిశలను ఇవ్వండి (ఉదాహరణకు, చివరి బెంచ్ నుండి బ్లాక్ బోర్డుకు తరలించండి). దిక్కుల కోసం ఈ పదాలను మాత్రమే ఉపయోగించండి- కుడి, ఎడమ లేదా నేరుగా.

ఈ ఆట 5-7 రౌండ్ల వరకు వివిధ పిల్లలతో స్వచ్ఛందంగా ముందుకు సాగుతుంది. క్లాస్ రూమ్ లో వస్తువులు తగలబోతున్నప్పుడు 'ప్రమాదం' వంటి సురక్షితమైన పదాన్ని నిర్ణయించమని పిల్లలను అడగండి. (క్లిష్టత స్థాయిని పెంచడానికి, మీరు తరగతి గది సెటిలింగ్ ను మార్చవచ్చు లేదా దారిలో హానిచేయని అడ్డంకులను ఉంచవచ్చు).



పాఠశాలకు సారా యొక్క మార్గం

పాఠశాలకు చేరుకోవడానికి సారా వేసిన దారి గ్రీన్ లైన్. ఇప్పుడు ఆస్తా మరియు నియాలను వారి ఇంటి నుండి పాఠశాలకు తీసుకెళ్లడానికి వివిధ రంగులతో ఒక గీతలను గీయండి.

నావిగేషన్ కోసం అంటే వివిధ ప్రదేశాలను గుర్తించడం కోసం మొబైల్ యాప్ ల వినియోగాన్ని చర్చించండి.




తూర్పు, పడమర, ఉత్తరం లేదా దక్షిణం

మనం నిలబడదాం

సూర్యుడి ఉదయించే దిశకు ఎదురుగా ఉండేలా

ఇది...తూర్పు దిక్కు.



మీ వెనుకవైపు మీరు పశ్చిమ దిక్కును కనుగొంటారు.

మీ ఎడమ బొటనవేలు బయటకు ఉంచండి, అదే ఉత్తరం.

మీ కుడి వైపున దక్షిణ దిక్కు ఉంది.

కాబట్టి, మనము ఎప్పుడైనా బయటకు వెళ్ళినప్పుడు, వెళ్లేటప్పుడు,

ఏ దిక్కుకు వెళ్లాలో మాకు తెలుసు

తూర్పు, పడమర, ఉత్తరం లేదా దక్షిణం.

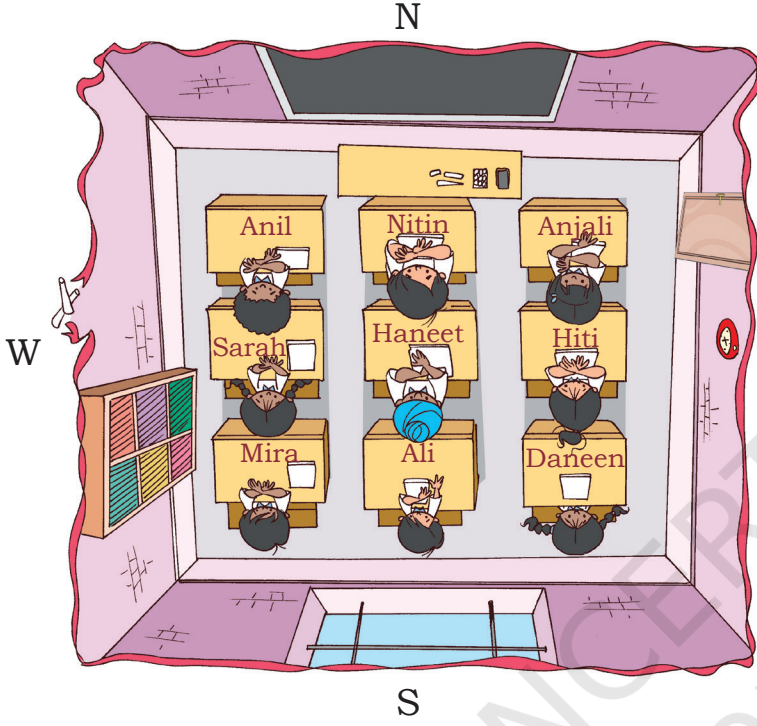
అభినయంతో పద్యం పాడండి. దిక్కులను గుర్తించడంలో పిల్లలకు సహాయం చేయండి. దిక్కును ఉపాధ్యాయుడు తప్పనిసరిగా నొక్కిచెప్పాలి మరియు పిల్లలకు వారి తక్షణ పరిసరాల నుండి ఉదాహరణలు ఇవ్వాలి, తద్వారా వారు ఈ పదాల యొక్క ప్రాదేశిక ఔచిత్యాన్ని అర్థం చేసుకుంటారు.



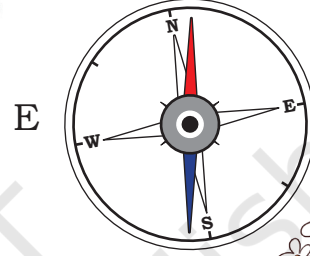


మనం చేద్దాం

దిగువ తరగతి గదిని చూసి, ఉత్తరం, దక్షిణం, తూర్పు మరియు పడమర (దిక్సూచిని చూడండి) అనే పదాలను ఉపయోగించి ప్రశ్నలకు సమాధానం ఇవ్వండి.



నీకు తెలుసా? దిక్సూచి అనేది దిక్కును కనుగొనే సాధనమని.



A. హనీత్ డెస్క్ సారా డెస్క్ కి _____ ఉంది.

B. అల్మీరా అలీ డెస్క్ కి _____ ఉంది.

C. బ్లాక్ బోర్డ్ ను చేరుకోవడానికి, మీరా తప్పనిసరిగా _____ వైపు మరియు _____ వైపు నడవాలి.

D. కిటికీలో ఉన్న పక్షులకు ఆహారం ఇవ్వడానికి, నితిన్ _____ మరియు ఆపై _____ నడవాలి.

దిక్సూచి మరియు దాని వినియోగాన్ని చర్చించండి. అలాగే వివిధ పాయింట్ల సూచనల నుండి వస్తువుల దిక్కులను తెలుసుకోవడానికి పిల్లలను దిక్సూచిని ఉపయోగించమని అడగండి.

