



బీచ్ వద్ద ఒక రోజు



0224CH01



పై చిత్రాన్ని చూడండి. క్రింద ఇవ్వబడిన వస్తువుల సంఖ్యను లెక్కించి వ్రాయండి.

కొబ్బరికాయలు

పడవలు

పిల్లలు

నారింజలు

మీరు వాటిని ఎలా లెక్కించారు? మీరు వాటిని ఒక్కొక్కటిగా లెక్కించారా లేదా గుత్తులుగానా లేదా సమూహాలలో లెక్కించారా?

పిల్లలు సముద్ర తీరం లేదా నది తీరం చూసినా లేదా సందర్శించినా వారితో చర్చించండి. అక్కడ సాధారణంగా ఏ జంతువులు మరియు మొక్కలు కనిపిస్తాయి? వారిని సమూహాలలో లెక్కించమని ప్రోత్సహించండి.






మనం చేద్దాం

A. చిత్రంలో చూపిన దుకాణాలను చూడండి మరియు ఖాళీలను పూరించండి.

- ప్రతి నెక్లెస్‌లో 10 గుండ్లు కలిగిన _____ గుండ్ల హారాలు ఉన్నాయి.
- ప్రతి సమూహంలో _____ బెల్టాన్లు మరియు _____ విడివిడిగా ఉండే బెల్టాన్లతో కూడిన _____ గుంపులు ఉన్నాయి.
- ప్రతి గుత్తిలో _____ అరటిపండ్లు మరియు _____ విడివిడిగా ఉండే _____ అరటిపండ్లు ఉన్నాయి.

B. ఆ. సురభి కొన్ని సముద్రపు గవ్వలను సేకరించింది . ఆమె తన తల్లికి కంకణాలు మరియు హారాలు తయారు చేయడంలో సహాయం చేయాలనుకుంటుంది.



C. సురభి తన కంకణాల కోసం ప్రతి సమూహంలో _____ సంఖ్యల గుండ్లు కలిగిన _____ గుంపులను తయారు చేసింది.



D. ఆమె తల్లి తన నెక్లెస్‌ల కోసం ప్రతి సమూహంలో _____ ముత్యాల సంఖ్యతో, ప్రతి సమూహంలో _____ ముత్యాలు వచ్చేలా తయారు చేసింది.



మెలితిప్పే వాటిని ప్రయత్నించండి.

“ఆమె సముద్ర తీరంలో సముద్రపు గవ్వలను విక్రయిస్తుంది.”





మనం ఆలోచిద్దాం

పది మూటలుగా వచ్చే వస్తువుల జాబితాను తయారు చేయండి.

A. _____ B. _____ C. _____

కమ్మని సపోటాలు!

మనోజ్ తన తండ్రికి ట్రేలలో అమర్చిన సపోటాలు అమ్మడంలో సహాయం





చేస్తున్నాడు.


ఒక ట్రేలో _____ సపోటాలు ఉన్నాయి.


మొత్తంగా ఎన్ని సపోటాలు ఉన్నాయి? _____

మనోజ్ తన తండ్రికి ట్రేలలో అమర్చిన సపోటాలు అమ్మడంలో సహాయం చేస్తున్నాడు.

A. 25 సపోటాలు  : _____ పది సపోటాలు ట్రేలు మరియు _____ సపోటాలు

B. 43 సపోటాలు  : _____ పది సపోటాల ట్రేలు మరియు _____ సపోటాలు

C. 35 సపోటాలు  : _____ పది సపోటాల ట్రేలు మరియు _____ సపోటాలు .

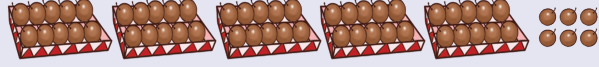
D. 58 సపోటాలు  : _____ పది సపోటాల ట్రేలు మరియు _____



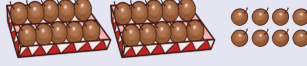


సరిపోల్చుదాం

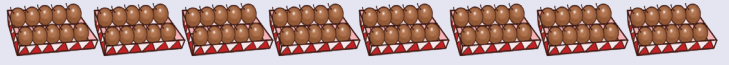
A. 80 సపోటాలు



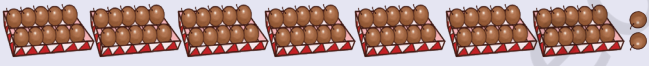
B. 72 సపోటాలు



C. 56 సపోటాలు



D. 28 సపోటాలు



దిమ్మలు మరియు స్ట్రెప్లతో సరదాగా




నా దిమ్మ కర్ర చూడు.



ఈ దిమ్మ కర్ర లో ఎన్ని దిమ్మలు ఉన్నాయో చెప్పగలరా?

1 దిమ్మ కర్ర = _____ దిమ్మలు



నా పది స్ట్రెప్ల చూడండి.



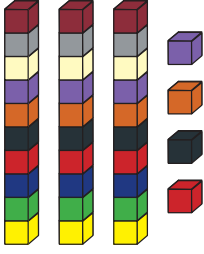
ఈ పది స్ట్రెప్లలో ఎన్ని భాగాలు ఉన్నాయో చెప్పగలరా?

1 పది స్ట్రెప్ = _____ భాగాలు







మనం చేద్దాం



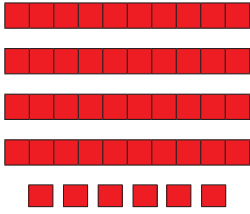
3 దిమ్మ కర్రలు
మరియు 4 దిమ్మలు
34 మొత్తం దిమ్మలు




___ దిమ్మ కర్రలు
మరియు ___ దిమ్మలు
___ మొత్తం దిమ్మలు



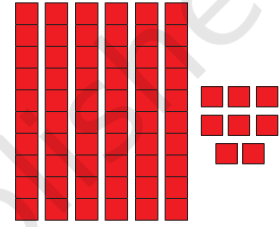
___ దిమ్మ కర్రలు
మరియు ___ దిమ్మలు
___ మొత్తం దిమ్మలు



___ పది స్ట్రోలు మరియు
___ ఒకట్లు ___ మొత్తం
ఒకట్లు



___ పది స్ట్రోలు మరియు
___ ఒకట్లు ___ మొత్తం
ఒకట్లు



___ పది స్ట్రోలు మరియు
___ ఒకట్లు ___
మొత్తం ఒకట్లు

దిగువ పట్టికను పూర్తి చేయండి.

మొత్తం దిమ్మలు/ ఒకట్లు	పది స్ట్రోలు	ఒకట్లు
24	2	4
36		
72		
69		
46		

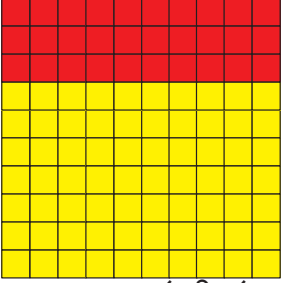



పిల్లలలో సంఖ్య జ్ఞానాన్ని పెంపొందించడానికి కర్రలు లేదా కర్రల కట్టలు లేదా సారావ్య వస్తువులను ఉపయోగించండి.



100 ని తయారు చేద్దాం!

చూడండి ! నేను 10
స్ట్రీప్‌లను కలిపి
ఉంచాను.

ఇవి మొత్తం 100
భాగాలతో తయారు
చేయబడ్డాయి.

 <p>70 పసుపు భాగాలు మరియు 30 ఎరుపు భాగాలు 7 పసుపు పది స్ట్రీప్లు మరియు 3 ఎరుపు పది స్ట్రీప్లు మొత్తం 3 భాగాలు లేదా 10 పది స్ట్రీప్లు 100</p>	 <p>_____ పసుపు భాగాలు మరియు _____ ఎరుపు భాగాలు. _____ పసుపు పది స్ట్రీప్లు మరియు _____ ఎరుపు పది స్ట్రీప్లు. మొత్తం _____ భాగాలు లేదా _____ పది స్ట్రీప్లు.</p>
 <p>_____ పసుపు భాగాలు మరియు _____ ఎరుపు భాగాలు. _____ పసుపు పది స్ట్రీప్లు మరియు _____ ఎరుపు పది స్ట్రీప్లు. మొత్తం _____ భాగాలు లేదా _____ పది స్ట్రీప్లు.</p>	 <p>_____ పసుపు భాగాలు మరియు _____ ఎరుపు భాగాలు. _____ పసుపు పది స్ట్రీప్లు మరియు _____ ఎరుపు పది స్ట్రీప్లు. మొత్తం _____ భాగాలు లేదా _____ పది స్ట్రీప్లు.</p>

100 ఒకటై గ్రీడ్‌ను తయారు చేసే పది స్ట్రీప్‌ల యొక్క కొన్ని ఇతర కలయికలను చర్చించండి.




100 ని తయారు చేద్దాం!

మనం ఈ ఆటను 5 లేదా 6 గ్రూపులుగా ఆడుదాం. ఒక సభ్యుడు బ్యాంకర్ అవుతాడు. ప్రతి బృంద సభ్యుడు రెండు పాచికలను వేసి, బ్యాంకు నుండి దానికి తగ్గ ఒకట్లను తీసుకుంటాడు. 10కి సమానం లేదా అంతకంటే ఎక్కువ ఒకట్లు ఉన్నప్పుడు, వారు బ్యాంకర్ నుండి పది ఒకట్లకు ఒక పది స్టిప్లని మార్పిడి చేస్తారు. ఆటను కొనసాగించండి మరియు 10 పదుల స్టిప్లను సేకరించి, 100 ఒకట్ల గ్రిడ్ ను తయారు చేయడానికి వాటిని పెట్టండి. మనం బొబ్బర్లు, గులకరాళ్లు, శెనగలు మొదలైన వస్తువులను కూడా ఒకట్లుగా ఉపయోగించవచ్చు.

కార్డుల ద్వారా లెక్కింపు

18, 19, 20, 21... అరే!
మళ్ళీ లెక్క మరచిపోయాను.
1, 2, 3, 4...

ఈ గవ్వలను లెక్కించే కొత్త
పద్ధతిని మీకు చెప్తాను.



పిల్లలను వేర్వేరు పదుల మరియు ఒకట్ల కార్డులను ఉపయోగించమని
ప్రోత్సహించండి.





మనం ఆలోచిద్దాం

కింది వాటిని పూర్తి చేయండి.



3 పదులు



1 పది

=

30

+

1

లేదా

పదులు	ఒకట్లు
3	1

కాబట్టి, మొత్తం 31 గవ్వలు ఉన్నాయి.



___ పదులు



___ ఒకట్లు

=

+

లేదా

పదులు	ఒకట్లు



___ పదులు



___ ఒకట్లు

=

+

లేదా

ప	ఒ



___ పదులు



___ ఒకట్లు

=

+

లేదా

ప	ఒ

పదుల (▲) మరియు ఒకట్ల (●) కార్డులను గీయండి మరియు ఖాళీలను పూరించండి

___ పదులు

___ ఒకట్లు

=

90

+

3

లేదా

ప	ఒ

___ పదులు

___ ఒకట్లు

=

+

లేదా

ప	ఒ
7	5

___ పదులు

___ ఒకట్లు

=

+

లేదా

T	O
2	9







మనం ఆడుకుందాం

సంఖ్యలు చేయండి

పిల్లలు వివిధ సంఖ్య కార్డ్లను ఉపయోగించి పదుల లేదా ఒకట్ల దానితో సంఖ్యలను తయారు చేయవచ్చు. ఉపాధ్యాయుడు 52 అని ఒక సంఖ్యను పిలుస్తాడు, . 50 మరియు 2 సంఖ్యల కార్డ్లను కలిగి ఉన్న పిల్లలు కలిసి వచ్చి, దిగువ చూపిన విధంగా 52 సంఖ్యను ఏర్పరుస్తారు. 27 వంటి ఇతర సంఖ్యల కోసం ఆట కొనసాగుతుంది.



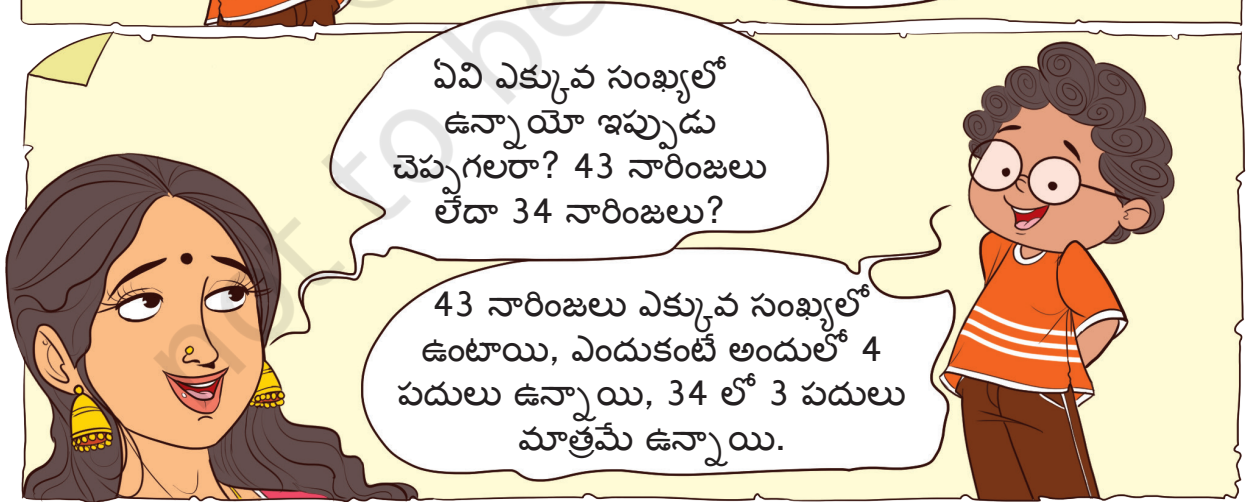


నారింజల ట్రేలు



ఒక సంఖ్యను పదులు మరియు ఒకట్లుగా తిరిగి సమూహపరచడంలో పిల్లలను చాలా అభ్యాసం చేయనివ్వండి. ఉదాహరణకు, 73 అనేది 70 మరియు 3 లేదా 7 పదులు మరియు 3 ఒకట్లతో రూపొందించబడింది. పిల్లలను రెండు అంకెల సంఖ్యల కోసం వారి స్వంత వర్క్ షీట్లను తయారు చేసుకోనివ్వండి.

73	70 + 3	T	O
		7	3






27 నారింజలు లేదా 72 నారింజలు ఏవి తక్కువ? ఎందుకు?



ఖాళీలను ఎక్కువ లేదా తక్కువతో పూరించండి.

A. 67 సపోటలు 76 సపోటల కంటే _____

B. 53 గవ్వలు 35 గవ్వల కంటే _____



మనం చేద్దాం

ఖాళీలను పూరించండి.

A. 29 అనేది 20 కంటే ఎక్కువ.

C. _____ 76 కంటే తక్కువ.

E. 25 అనేది _____ కంటే తక్కువ.

G. 36 అనేది _____ కంటే ఎక్కువ.

B. _____ 41 కంటే తక్కువ.

D. 49 అనేది _____ కంటే ఎక్కువ.

F. _____ అనేది 2 కంటే తక్కువ.

H. _____ అనేది _____ కంటే
ఎక్కువ.

పిల్లలతో వారు రెండు పరిమాణాలను పోల్చగల పరిస్థితులను చర్చించండి. గులకరాళ్లు, గోళీలు, సీసా మూతలు, విత్తనాలు మొదలైన వాస్తవమైన వస్తువులను రెండు గ్రూపులుగా తయారు చేయమని మరియు ఏ సమూహంలో ఎక్కువ వస్తువులు ఉన్నాయో అంచనా వేయమని పిల్లలను అడగండి.

వస్తువులను లెక్కించడం ద్వారా వారి అంచనాను ధృవీకరించనివ్వండి.





మనం ఆడుకుందాం

ప్లాష్ కార్డ్ ఆట


A. 0 నుండి 9 వరకు ఉన్న సంఖ్యల ప్లాష్ కార్డ్లను తయారు చేయండి. ఈ కార్డులను పదుల మరియు ఒకట్ల స్థానంలో తగిన విధంగా పెట్టడం ద్వారా దిగువ ఇవ్వబడిన నియమాల ప్రకారం కావలసిన సంఖ్యను రూపొందించండి..

- 50 కంటే ఎక్కువగా ఉండే సంఖ్య.
- 30 కంటే తక్కువగా ఉండే సంఖ్య.
- 47 మరియు 59 మధ్య ఉండే సంఖ్య.
- మీరు చేయగలిగే అతి చిన్న రెండు అంకెల సంఖ్య ఏది?
- మీరు తయారు చేయగల అతిపెద్ద రెండు అంకెల సంఖ్య ఏది? మీరు చేసిన సంఖ్య

అతిపెద్దది అని మీరు ఎందుకు అనుకుంటున్నారు?

B. ఏవైనా రెండు ప్లాష్ కార్డ్లను ఎంచుకుని, రెండు అంకెల సంఖ్యను రూపొందించండి. ఇప్పుడు మరొక నంబర్ని పొందడానికి ఈ ప్లాష్ కార్డ్లను మార్పిడి చేయండి మరియు ఇది మునుపటి సంఖ్య కంటే పెద్దదా లేదా చిన్నదా అని కనుగొనండి. ఒకే అంకెలను ఉపయోగించి మీరు అతిపెద్ద సంఖ్యను ఎలా పొందుతారు?

పదులు	ఒకట్లు	పదులు	ఒకట్లు
3	5	5	3



మార్గాన్ని దాటడం ద్వారా గుర్తించండి

అతి పెద్ద సంఖ్య నుండి, ప్రతి సంఖ్యను కనీసం ఒక్కసారైనా దాటడం ద్వారా తగ్గుతున్న క్రమంలో అతి చిన్న సంఖ్యను చేరుకోవడానికి ప్రయత్నించండి.

65			73
	92		
	53		
20		32	

34			53
	91		76
	14		11
			19
23			

			51
58			
		63	43
75		86	
29			34

సంఖ్యలతో ఆడండి,

నేనెవరిని?

- నేను అతిపెద్ద రెండు అంకెల సంఖ్యను.
- నేను ఏ అంకె పునరావృతం కాని అతిపెద్ద రెండు అంకెల సంఖ్యను.
- నేను అతి చిన్న రెండు అంకెల సంఖ్యను.
- నేను అతి చిన్న రెండు అంకెల సంఖ్యను, నా అంకెలు పునరావృతమవుతాయి.
- పదుల స్థానంలో 3 ను కలిగి ఉన్న నేను, అతి చిన్న రెండు అంకెల సంఖ్యను.
- నేను ఒకట్ల స్థానంలో 2 గా కలిగి ఉన్న అతిపెద్ద రెండు అంకెల సంఖ్యను.

అలాంటి ప్రశ్నలను మీ స్వంతంగా మీరే చేయండి.



వల్లం కలి

కేరళలో, ప్రసిద్ధ మైన పాము పడవ పోటీల ద్వారా జరుపుకునే ఓనం పండుగను వల్లం కాళి అని పిలుస్తారు. రేసు దాదాపు ముగింపు దశకు వచ్చింది. చిత్రాన్ని చూడండి మరియు ప్రతి పడవ యొక్క స్థానాన్ని గమనించండి.



- రేసులో ఏ రంగు పడవ మొదటి స్థానంలో నిలిచింది? _____
- ఏ రంగు పడవ మూడవ స్థానంలోకి వచ్చే అవకాశం ఉంది? _____
- నీలం మరియు ఆకుపచ్చ పడవలు ఏ స్థానాలలో ఉన్నాయి? _____
- చిత్రం ఆధారంగా గులాబీ మరియు నారింజ రంగు పడవల స్థానాన్ని వ్రాయండి. _____

కింద ఇచ్చిన క్యాలెండర్‌లో ఆగస్టు నెల చూడండి.

ఆదివారం	సోమవారం	మంగళవారం	బుధవారం	గురువారం	శుక్రవారం	శనివారం
		1	2	3	4	5
6	7	8	9	10	11	12
13	14	15 స్వతంత్ర దినోత్సవం	16	17	18	19
20	21	22	23	24	25	26
27	28	29 ఓనం	30 రాఖి పౌర్ణమి	31		

2023 ఆధారంగా క్యాలెండర్




క్యాలెండర్ చదివి, ఈ క్రింది ప్రశ్నలకు సమాధానం ఇవ్వండి.

- A. ఓనంను నెలలో ఏ రోజున జరుపుకుంటారు?
- B. స్వాతంత్ర్య దినోత్సవాన్ని ఎప్పుడు జరుపుకుంటారు?
- C. సి. రాఫీ పౌర్ణమి ఈ నెల బుధవారం జరుపుకుంటారు .

మీ స్నేహితుల్లో ఎవరైనా ఆగస్టు నెలలో వారి పుట్టినరోజు జరుపుకున్నారో లేదో తెలుసుకోని క్యాలెండర్లో దాన్ని గుర్తించండి.

జెర్నీ సంఖ్య 17

జెర్నీ నంబర్ 17 ధరించిన
ఆటగాడు చాలా బాగా
ఆడుతున్నాడు.



అతను ఆర్య, నా
అభిమాన ఆటగాడు.

సంఖ్యలను గుర్తులుగా లేదా వాటి చుట్టూ పేర్లుగా చూడగలిగే అనేక ఇతర ప్రదేశాల గురించి విద్యార్థులతో చర్చించండి. ఉదాహరణకు, ఇంటి నంబర్, పిల్లర్ నంబర్, రోల్ నంబర్, బస్సు లేదా రైలు నంబర్ మొదలైనవి. 0 మరియు 1-9 అంకెలను ఉపయోగించి ఈరోజు మనమందరం సంఖ్యలను అందంగా వ్రాసే విధానం భారతదేశంలోనే ప్రారంభమైందని పిల్లలకు చెబుదాం.

