



लेनेखा रेयाक् रासका



0224CH03

22

लेखा माला ज़ेल में आर लाय मे

A. लेखामाला रे तिनाक् मोती मेनाक्आ?

B. लेका माला रे नोडकान कार्ड मेनाक्आ ओका रे दो लेनेखा ओल बानुक्आ। मोती रेयाक् लेनेखा नोवाको कार्ड रे ओल मे।

C. लातार रे एमाकान लेनेखा ते कार्ड बेनाव में आर लेखा माला रे आकाय मे।

38, 44, 58, 65, 98

लेनेखा पट्टी ज़ेल काते खाली जायगा पेरेज मे।

A. गुलाब बाहा रे सेटेरोक् लागित पिपिनी दो _____ ताड़ाम लाहा सेचए चालाक् काना।

B. आराक् बाहा रे सेटेरोक् लागित दुमूर दो _____ ताड़ाम लाहा सेच आर सासाड. बाहा रे सेटेरोक् लागित _____ ताड़ाम लाहा सेचए चालाक् काना।

C. तुड़ लाहा रे 2 दोम लाहा सेचए दोनेद्रा, इनाकाते 5 धाव लाहा सेचए दोनेदा मुचात रे 3 धाव तायोम सेच् दोन काते लेनेखा _____ रेय सेटेरोक् काना।

D. रोट्टे दो 2 धाव लाहा सेच्, इनाकाते 7 धाव तायोम सेच् आर मुचात रे 3 धाव तायोम सेच् दोन काते _____ लेनेखा रेय सेटेरोक् काना।

वेकाया





देलाबोन खिलाडा

इज़ाक् लेनेखा लाय मे।

मित्तेन गिदरा दो मित्तेन लेनेखाय हुदिसा आर एटाक् गिदरा दो ओना लेनेखा लाय होयोक् ताया। गिदरा दो ऐकेन ओनकानाक् को कुलीया ओका रेयाक् जोबाब दो हैं आर बाड. रे होयोक्आ। जेलेका नोवा दो 50 खोन ढीर गया से कोम गया। चेत् नोवा लेनेखा रेयाक् बनार लेखा दो सोमान गया? आमदाज लागित ते 10 गोटेन कुकली कुली दाड़ेयाक्आ।



इज़ाक् जायगा लाय मे।

पेया मुच मित्तेन दाग रेको दुडुप् आकाना। नोको मुच् आक् जायगा लागित लेनेखा लाय मे।




हेंदे मुच् लेनेखा रेय दुडुप् आकाना।r

आराक् मुच् लेनेखा रेय दुडुप् आकाना।

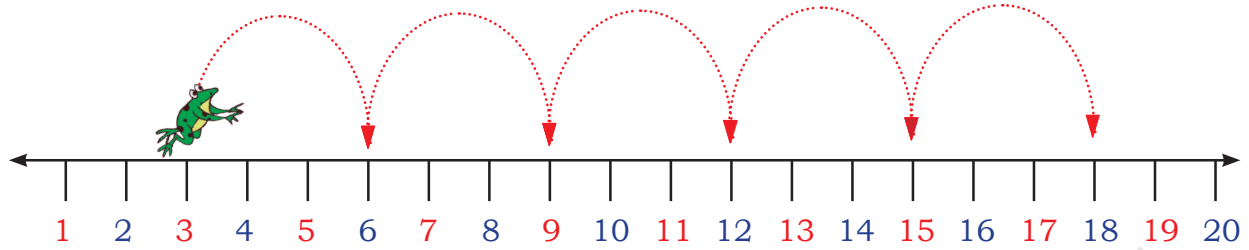
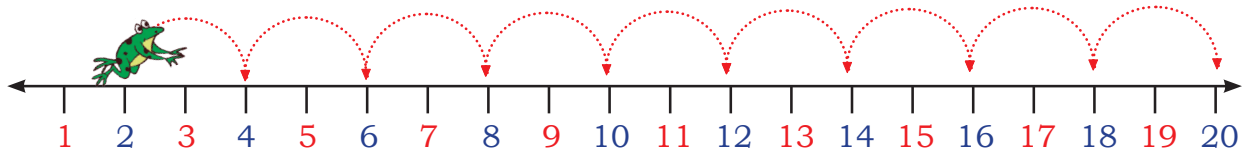
काबरा मुच् लेनेखा रेय दुडुप् आकाना।

लेनेखा 65 रे मित्तेन मुच् बेनावेम।

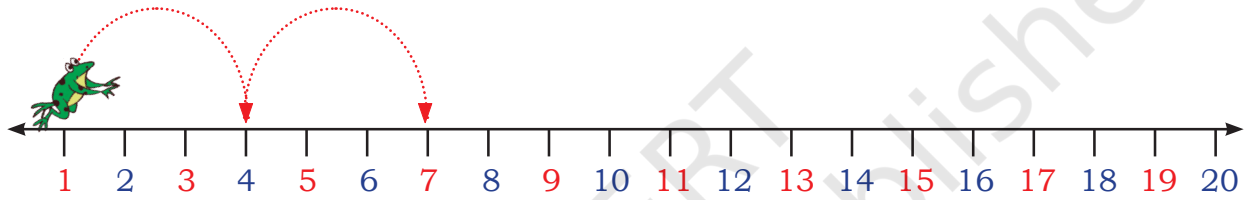
लेनेखा 79 रे मित्तेन चीनी  बेनाव मे।



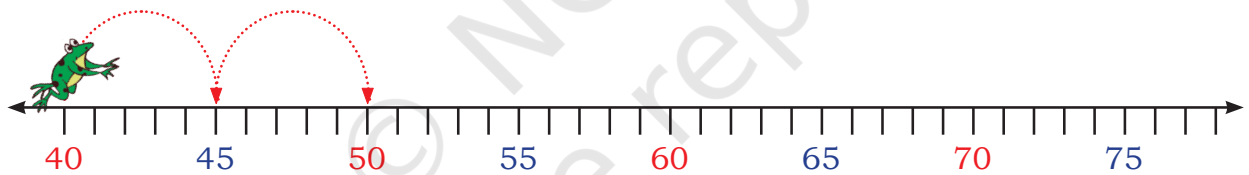
જેલેમે જમ્પી રોટે ચેત્ લેકાય દોન કેદા। ચેત્ નોવા રે જાહાન પૈટર્ન મેનાક્આ?



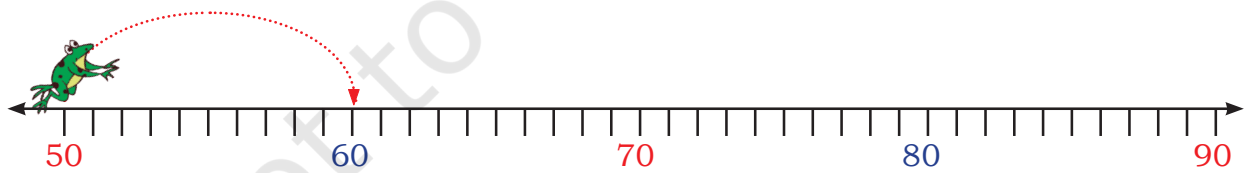
નોવા પૈટર્ન પુરાવ મે।



A. 1, 4, 7, _____, _____, _____, _____



B. 40, 45, 50, _____, _____, _____, _____, _____



C. 50, 60, _____, _____, _____

ગિદરા કો આકોવાક્ લેનેખા દાગ ઓત રે બેનાવ ઓચોકોમ। નિત્ ગિદરા દો લેનેખા લેકા તે દોન લાગિત મેતાકોમ, જેલેકા જુદી આમ દો બાર ધાવેમ દોન લેખાન, ઓકા ઓકા લેનેખા રેમ દોના।





देलाबोन चेकाया।

A. लेनेखा पाटिया रे मित्तेन लेनेखा बाद काते● बेनाव मे। नित् मोड़े धाव दोन काते लेनेखा कोरे ▲ बेनाव मे।

B. ओनकान ओका को लेनेखा काना ओका दो बार धाव आर मोड़े धाव रे जामोक् कान।

C. ओनकान ओका को लेनेखा काना ओका दो बार धाव आर पे धाव रे जामोक् कान।

D. ओनकान लेनेखा ओका दो मोड़े धाव आर एयाय धाव दोन रे जामोक् काना। ?

1	2	3	4	5	6	7	8	9	10
11	12	13	14	15	16	17	18	19	20
21	22	23	24	25	26	27	28	29	30
31	32	33	34	35	36	37	38	39	40
41	42	43	44	45	46	47	48	49	50
51	52	53	54	55	56	57	58	59	60
61	62	63	64	65	66	67	68	69	70
71	72	73	74	75	76	77	78	79	80
81	82	83	84	85	86	87	88	89	90
91	92	93	94	95	96	97	98	99	100

दोन मे आर जोबाब जाम मे।

हैं आर बाड. रे ओल मे।

ओत रे लेनेखा दाग बेनाव मे आर दोन मे।


A. जुदी आम लेनेखा 10 रे मेनामा आर गेल धाव लाहा सेच् एम दोन केदा तोबे चेत् आम दो 100 रेम सेटेरोक्आ?

B. जदी आम दो 5 खोन एहोप् काते लाहा सेच् मोड़े धावेम दोन केदा तोबे लेनेखा 40 रेम सेटेरोक्आ?

C. जुदी आम दो 10 रे मेनामा आर मोड़े धाव लाहा सेच् एम दोनेदा तोबे 55 रेम सेटेरोक्आ?

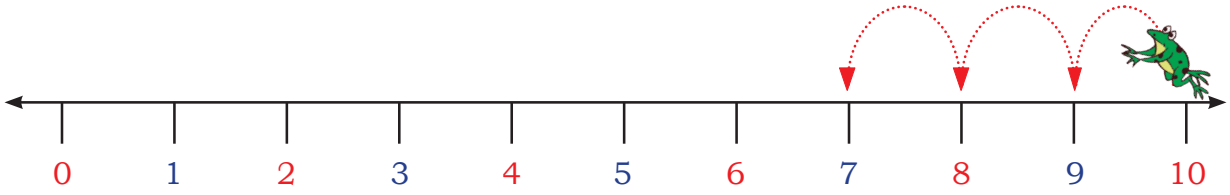
D. जुदी आम दो 4 खोन एहोप् काते बार धाव लाहा सेच् एम दोना तोबे 17 रेम सेटेरोक्आ?

E. जुदी आम दो 13 खोन एहोप काते पे धाव लाहा सेच् एम दोना तोबे आम दो 24 रेम सेटेरोक्आ?



देला तायोम सेच् बोन दोना।

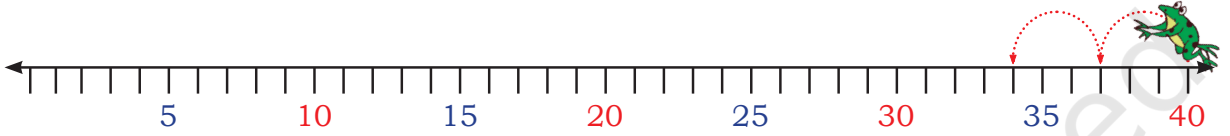
लातार रेयाक् पैटर्न पुराव मे।



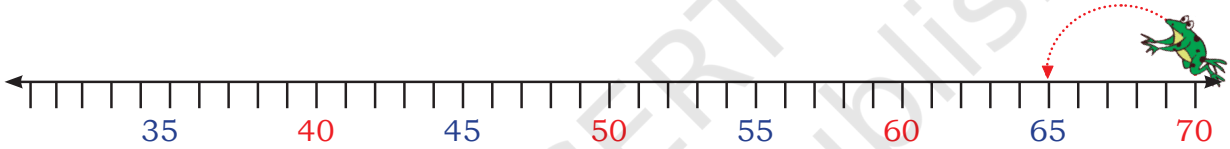
10 खोन ठीक लाहारे दो चेत् हिजुक् काना?

9 खोन ठीक लाहारे दो चेत् हिजुक् काना?

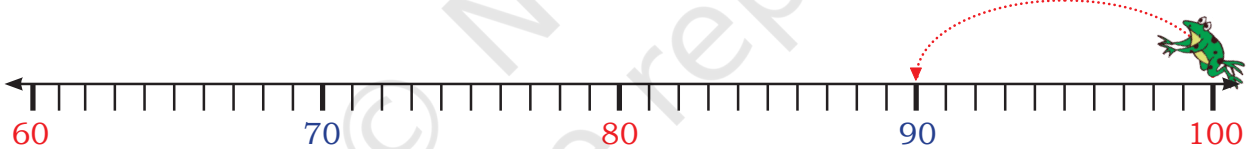
10, 9, 8,



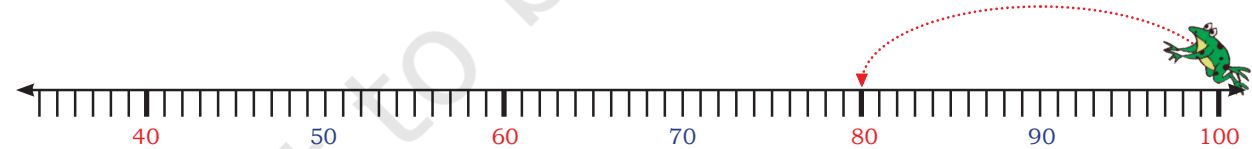
A. 40, 37, 34,



B. 70, 65, 60,



C. 100, 90,



D. 100, 80,

चेत् नोवा पैटर्न दो सुही गया। बाड. सुही खान दो सुही मे आर लाहासेयाक खाली जायगा रे लेनेखा पेरेज मे।

100, 90, 80, 70, 60,





देलाबोन गापालमारावा।

- A. रिजवाद दो 20 खोन लाहासेयाक् लेनेखाय लेखायेत् काना, चेत् उनी दो 19 से रोड़ा? चेत् आम लाय दाड़ेयाक्आ? चेदाक्?
- B. छवी दो 10 खोन लाहा सेयाक् लेनेखा बारया बाद कातेय लेखायेदा। चेत् उनी दो 43 रोड़ाय? चेत् आम लाय दाड़ेयाक्आ?
- C. माला दो 20 खोन तायोम सेच्आक् लेनेखाय लेखा येदा। 10 रे सेटेरोक् लागित तिनाक् धाव लेखा रोड़ होयोक् ताया? चेत् आम लाय दाड़ेयाक्आ?
- D. विराज दो बारया लेखा बाद काते तायनोम सेनाक्ए लेखायेत् काना 0 सेटेरोक् रे तिनाक् धाव ताड़ाम होयोक् ताया। चेत् आम लाय दाड़ेयाक्आ? चेदाक्?

लेनेखा रे लेनेखा को

1	2	3	4	5	6	7	8	9	10
11	12	13	14	15	16	17	18	19	20
21	22	23	24	25	26	27	28	29	30
31	32	33	34	35	36	37	38	39	40
41	42	43	44	45	46	47	48	49	50
51	52	53	54	55	56	57	58	59	60
61	62	63	64	65	66	67	68	69	70
71	72	73	74	75	76	77	78	79	80
81	82	83	84	85	86	87	88	89	90
91	92	93	94	95	96	97	98	99	100





देला बोन चेकाया

लेनेखा चार्ट जेल काते खाली जगह पेरेज मे।

- 10 खोन ठीक लाहारे हिजुक् काना। 20 खोन ठीक लाहारे हिजुक् काना।
 30 खोन ठीक लाहारे हिजुक् काना। 40 खोन ठीक लाहारे हिजुक् काना।

चेत् नोवा रे जाहान पैटर्न मेनाक्आ? जुदी हे तोबे ओना दो दाग बेनाव मे। चेत् नोवा दो लाहासेयाक् लेनेखा रे मेनाक्आ से बाड.? जुदी हैं तोबे पैटर्न पुराव मे।

_____, _____, _____, _____, _____, _____, _____, _____, _____, _____

हारयाड़ रोड. लेनेखा जेल मे आर पैटर्न पुराव मे।

1, 12, 23, _____, _____, _____, _____, _____, _____, _____

चेत् लेकानाक् पैटर्न जामोक काना?

लक्षन्या दो मित्तेन लेनेखा जालनाय **बेनाव केदा** आर ओना दो लेनेखा चार्ट रेय दोहो केदा। कुकली रेयाक् जोबाब एमोक् मे।

A. जुदी लेनेखा जालना ताला रे 28 ओलाकाना, तोबे चेतान नाखा रे दो ओकाटाक लेनेखा मेनाक्आ?

B. लातार नाखा रेयाक् ओड़ाक् रे चेत् लेनेखा होयोक्आ?

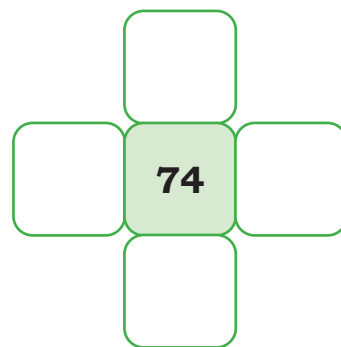
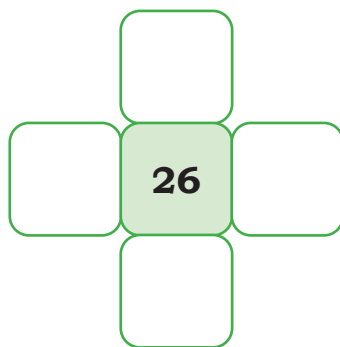
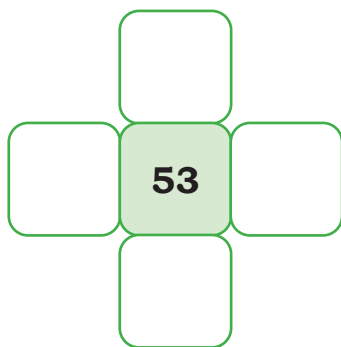
C. एतोम नाखा रेयाक् ओड़ाक् रे चेत् लेनेखा होयोक्आ?

D. कोंयें नाखा रेयाक् ओड़ाक् रे चेत् लेनेखा होयोक्आ?

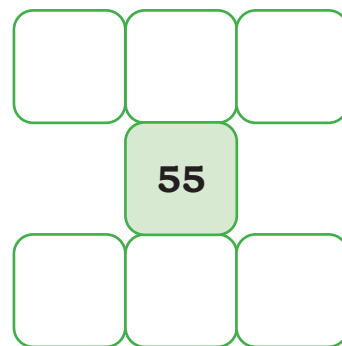

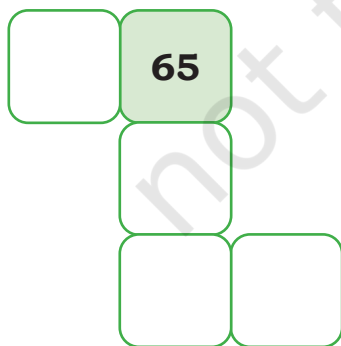


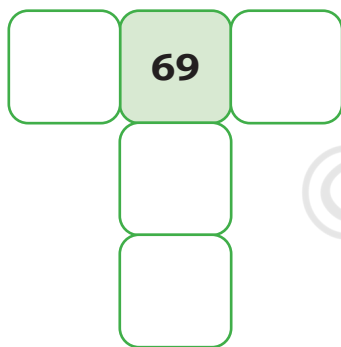
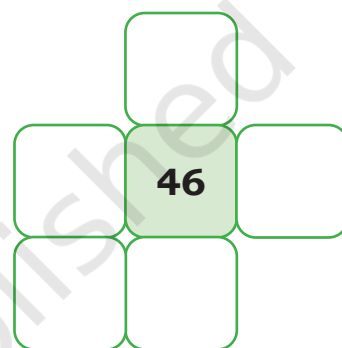
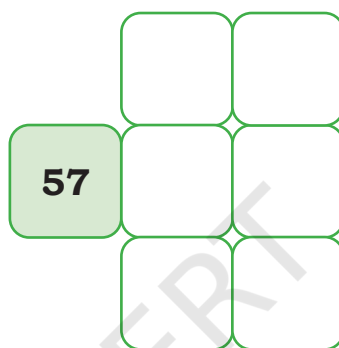
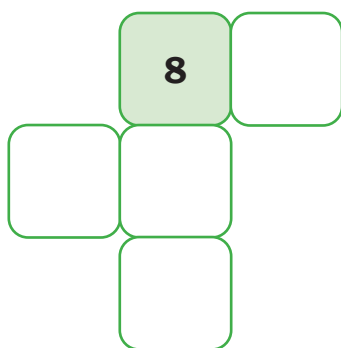
1	2	3	4	5	6	7	8	9	10
11	12	13	14	15	16	10 कोम			20
21	22	23	24	25	26	1 कोम	28	1 कोंयें	30
31	32	33	34	35	36	10 कोंयें			40
41	42	43	44	45	46	47	48	49	50
51	52	53	54	55	56	57	58	59	60
61	62	63	64	65	66	67	68	69	70
71	72	73	74	75	76	77	78	79	80
81	82	83	84	85	86	87	88	89	90
91	92	93	94	95	96	97	98	99	100



E. नित् नोवा दो एटाक् लेनेखा सोंगे चेकाय मे।

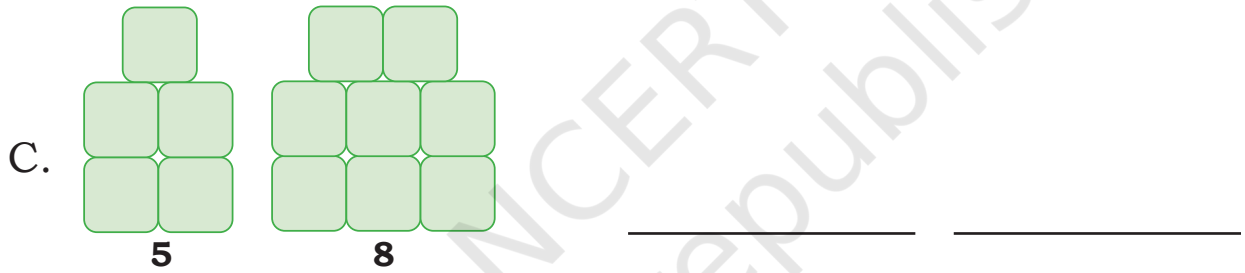
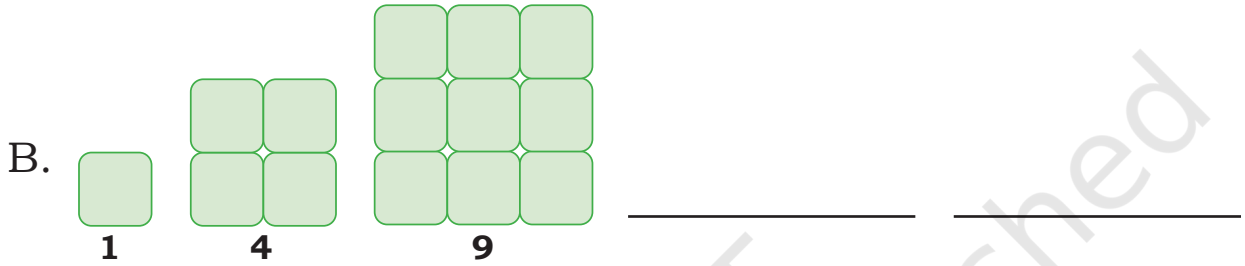
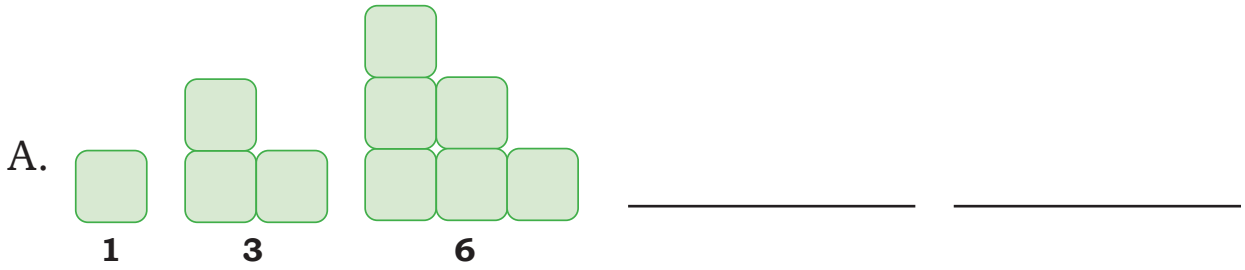


F. खाली जायगा रे लेनेखा को ञोल मे।



पैटर्न सेंदराय मे।

नोवा रे ब्लॉक चेत् लेका लाहाक् काना। लाहासेच् बेनाव इदी मे।



देला बिंगो बोन खिलाडा!

बिंगो खिलाड लागित 3×4 रेयाक्

 मित्तेन झाली बेनाव मे।

झाली रेयाक् बाकसा रे 2 खोन 12 हाबिच् रेयाक् लेनेखा ओल मे। लेनेखा दो मित् धाव खोन जासती होंम ओल दाड़ेयाक्आ।

मित्तेन गिदरा दो बारया गुटी मित् धाव तेय लेबदाया आर बानार गुटी रेयाक् टुड़ाक् जोड़ाव काते लेनेखाय रोड़ा। एटाक गिदरा दो झाली रेयाक् ओना लेनेखा रे गुणा कोय बेनावा। नोवा खिलाड दो उन हाबिच् चालाक्आ तिन हाबिच् जाहाय गिदरा लेनेखा गुणा लागाव काते बिंगो बाय रोड़ा।

गिदरा को लेनेखा झाली बेनाव लागित आकोवाक् कामी होरा रे उसकुर कोम।

