



चितार जेल मे आर जेलोक् कान जिनीस कोलेखा काते ओल मे।

नारयाड़



लावका



गिदरा



जागिर



आम दो जिनीस को चेत लेकाम लेखा केदा? मिमित् गोटेच् कातेम लेखा केदा से
जारवा रेम लेखा केदा ?

गिरा को कुली कोम जे जाँहा तीस गाडा से जालापूरी आड़े को सेन बाड़ावाकाना ? उनको कुली
कोम जे ओनडे ओका लेकान जावनवार से दारे मोक्आ।





देलाबोन चेकाया


A. चितार रे एमाकान दोकान को जेल मे आर खाली जायगा रे पेरेज मे।

क. झिनुक रेयाक् _____ माला मोक्आ। मिमित् माला रे 10 गोटेन झिनुक् मेनाक् कोवा।

ख. फुलाका रेयाक् _____ जारवा मेनाक्आ। मिमित् जारवा रे _____ फुलाका आर _____ सारेच् फुलाका मेनाक्आ।

ग. कायरा रेयाक् _____ कादीह मेनाक्आ। मिमित् कादीही रे _____ कायरा _____ मेनाक्आ।

B. सुरभि दो थोड़ा कावडी आर झिनुके लेखा केत कोवा। उनी दो आच् गोगो सॉखा आर माला बेनाव रे गोड़ो वाये मेनजोत् काना।



C. सुरभि दो कावडी आर झिनुक रेयाक् _____ सॉखाय बेनाव केदा। मिमित् सॉखा रे _____ कावडी आर झिनुक मेनाक् कोवा।



D. उनी आच् गोगो दो कावडी आर झिनुक रेयाक् _____ मालाय बेनाव केदा। मिमित् माला रे _____ कावडी आर झिनुक मेनाक् कोवा।



नोवा रोड़ मे आर गाते
हों रोड़ आचोकोम।

जालापूरी आडे आड़े ते
दोकान आड़े आड़े ते आड़े ते





देलाबोन हुदिसा

10 रेयाक् जारवा रे हिजुक् कान जिनीस माम मे आर सूची बेनाव मे।

A. _____ B. _____ C. _____

सेबेल चीक्!


मनोज दो चीक्य अखरीजेदा। उनी दो चीक् थारी रेय दोहोवाकादा।




मिमिट् थारी रे _____ चीक् मेनाक्आ।

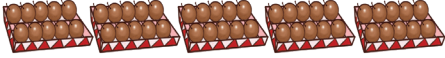
लाय मे मोट तिनाक् चीक् होयेना ? _____

आम हों थारी रे चीक् दोहो काते अकरीज रे मानोज गोड़ोवाय मे।

क . 25 चीक् गेल गोटैन चीक् रेयाक्  : _____ थारी आर
_____ सारेच् चीक्।

ख. 43 चीक् गेल गोटैन चीक् रेयाक्  : _____ थारी
आर _____ सारेच् चीक्।

ग. 35 चीक् गेल गोटैन चीक् रेयाक्  : _____ थारी आर
_____ सारेच् चीक्।

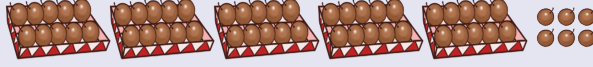
ध. 58 चीक् गेल गोटैन चीक् रेयाक्  :
_____ थारी आर _____ सारेच् चीक्।



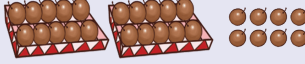


દેલા બોન મિલાવા।

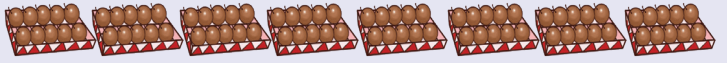
A. 80 चीकू



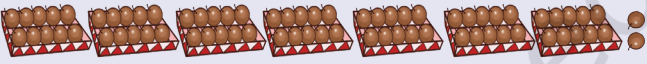
B. 72 चीकू



C. 56 चीकू



D. 28 चीकू



બાકસા આર પટ્ટી રેયાક્ ખિલાડ




इनाक् बाकसा रेयाक्
ठेंगा जेल मे।



चेत् आम दोम लाय दाड़ेयाक् जे नोवा बालोक् ठेंगा रे तिनाक् बाकसा मेनाक्आ ?

1 बोलोक् ठेंगा = _____ बाकसा



इनाक् गेल गोटैन
पट्टी जेल मे।




चेत् आम दोम लाय दाड़ेयाक् जे नोवा नोवा पट्टी रे तिनाक् ओड़ाक् मेनाक्आ ?

1 गेल रेयाक् पट्टी = _____ ओड़ाक्







देला बोन चेकाया



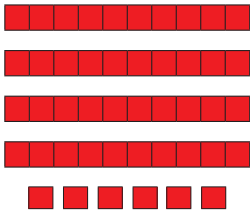
3 बोलोक् ठेंगा आर
4 बाकसा मोट 34
बाकसा




___ बोलोक् ठेंगा आर
___ बाकसा मोट
___ बाकसा



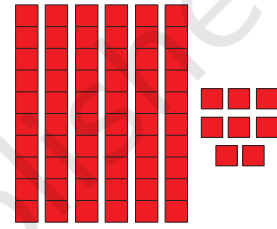
___ बोलोक् ठेंगा आर
___ बाकसा मोट
___ बाकसा



___ बोलोक् ठेंगा आर
___ बाकसा मोट
___ बाकसा



___ बोलोक् ठेंगा आर
___ बाकसा मोट
___ बाकसा



___ बोलोक् ठेंगा आर
___ बाकसा मोट
___ बाकसा

तालिका पुराव मे।

मोट बाकसा / इकाइ	गेल रेयाक् पट्टी	इकाइ
24		4
36		
72		
69		
46		


लेनेखा मोज ते बुजहाव लागित् सलाय काठी तोल काते आर बेगोर तोल सलाय काठी बोन बेबोहार दाड़ेयाक्आ।




साय बेनाव मे



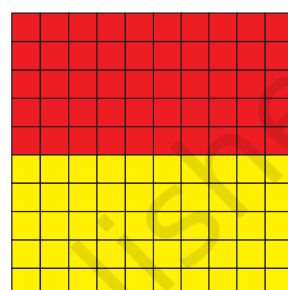
नोनडे जेल मे , 10 पट्टी
मित् ते जोड़ाव
मेनाक्आ।




नोवा को दो मोट
100 इकाई
रेयाक् काना।




70 सासाड इकाई आर 30 आराक् इकाई 7
सासाड पट्टी गेल गोटेन रेयाक् आर 3 आराक्
पट्टी गेल गोटेन रेयाक् मोट 100 इकाई से गेल
गोटेन रेयाक् 10 पट्टी।



___ सासाड इकाई आर ___ इकाई
___ सासाई पट्टी गेल गोटेन रेयाक् आर ___
आराक् पट्टी गेल गोटेन रेयाक् मोट ___ इकाई
से गेल गोटेन रेयाक् ___ पट्टी।



___ सासाड इकाई आर ___ इकाई
___ सासाई पट्टी गेल गोटेन रेयाक् आर ___
आराक् पट्टी गेल गोटेन रेयाक् मोट ___ इकाई
से गेल गोटेन रेयाक् ___ पट्टी।



___ सासाड इकाई आर ___ इकाई
___ सासाई पट्टी गेल गोटेन रेयाक् आर ___
आराक् पट्टी गेल गोटेन रेयाक् मोट ___ इकाई
से गेल गोटेन रेयाक् ___ पट्टी।

लेनेखा मोज ते बुजहाव लागिन् सलाय काठी तोल काते आर बेगोर तोल सलाय काठी बोन
बेबोहार दाड़ेयाक्आ।





साय बेनाव मे!

नोवा दो 5 से 6 गोटेच् गिदरा सोंगे खिलाड मे।मिट्टेच् गिदरा दो बैंक होड़ बेनाक्आय।
मिमित् दोल खोन मिट्टेच् गिदरा दो बारया गुटी मित् तेय चापादा आर बैंक होड़ ठेन
खान उनाक् इकाई हातावाय। तिनरे गेल इकाई पुराक् ताया तोबे ओना दो मिट्टेच् पट्टी
तेय बोदोला। 10 पट्टी होयलेन खान ओना दो 100 इकाई रेयाक् मिट्टेन ग्रिड बेनाक्आ।
आम दो इकाई लागित् ते राजमा, धिरी, भुट से एमानतेयाक् होंम बेबोहार दाड़ेयाक्आ।

कार्ड ते लेखा

18, 19, 20, 21...
अरे! लेखा आरहो।न हिड़ीन
केदा, 1, 2, 3, 4...

देला इन दो आम नुकू सॉखा
आर झिनुक ते नॉवा होरा ते
लेखान चेत्आमा।

गेल बोटेन सॉखा आर झिनुक लागित 
आर मिट्टेन सॉखा आर झिनुक नोवा 
कार्ड इन दोहो केदा।

गिदरा को जुदा- जुदा लेका ते गेल आर इकाई रेयाक् कार्ड बेबोहार लागित् उसकुर
कोम।





देला बोन हुदिसा

खाली जायगा पेरेजमे।



3 गेल



1 मित्

$$= 30 + 1 \text{ से}$$

गेल	मित्
3	1

मोट रे 31 गोटेन झिनुक मेनाक्आ।



___ गेल



___ मित्

$$= \square + \square \text{ से}$$

गेल	मित्



___ गेल



___ मित्

$$= \square + \square \text{ से}$$

गेल	मित्



___ गेल



___ मित्

$$= \square + \square \text{ से}$$

गेल	मित्

इकाई रे (▲) आर अहाई रे (●) बेनाव काते खाली जायगा पेरेज मे।

___ गेल

___ मित्

$$= 90 + 3 \text{ से}$$

गेल	मित्

___ गेल

___ मित्

$$= \square + \square \text{ से}$$

गेल	मित्
7	5

___ गेल

___ मित्

$$= \square + \square \text{ से}$$

गेल	मित्
2	9





देला बोन खिलाडा

लेनेखा बोन बेनावा

गिदरा दो मित् आर गेल रेयाक् लेनेखा कार्ड को बेनावा । माहासोय दो मित्टेच् लेनेखा जे लेका - 52 ने रोड़ा। जॉहाय गिदरा टेन गे 50 आर 2 मेनाक् आ उनकिन दो गिदरा दो चितार रे लेका मित् ते तेंगों काते लेनेखा 52 किन बेनावा। नोवा खिलाड दो एटाक् लेनेखा ते हों खिलाड मे जे लेका - 27



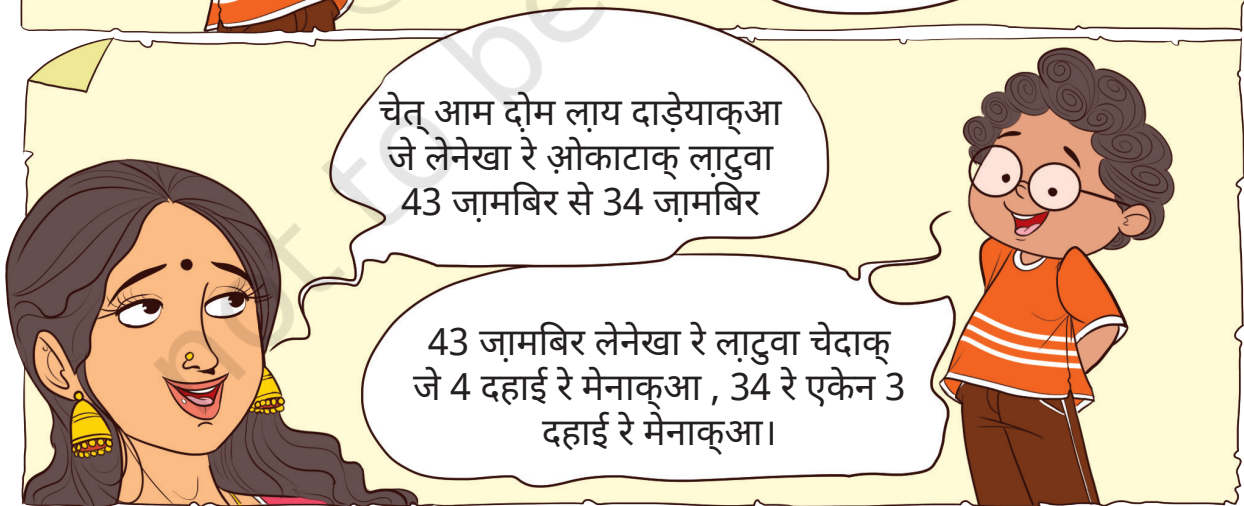
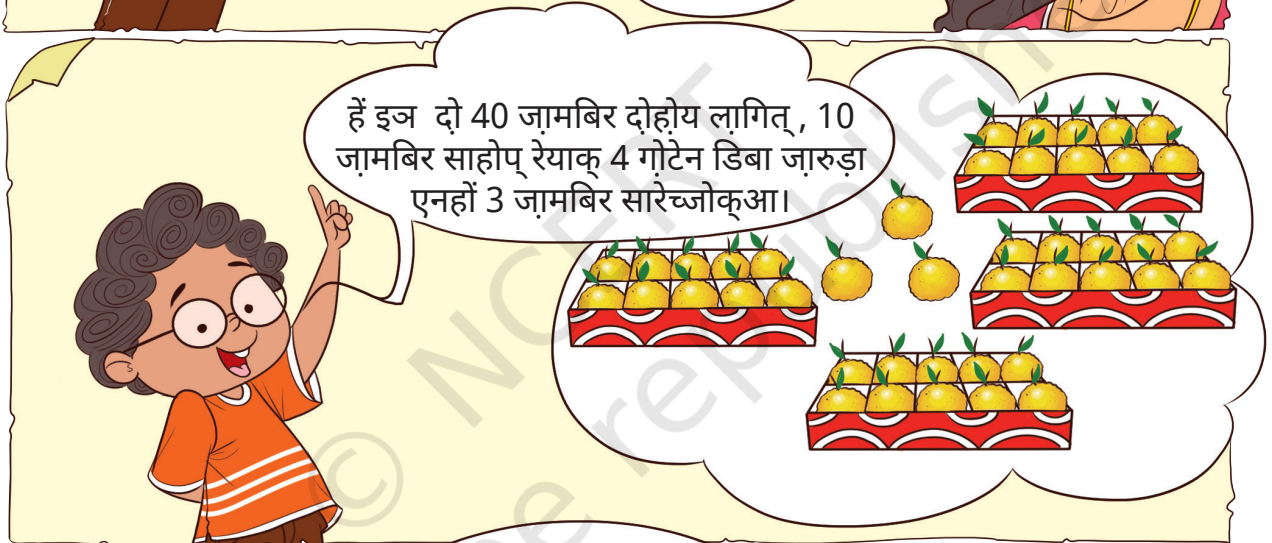

जामबिर रेयाक् डिबा



गिदरा को दो लेनेखा इकाई आर दहाई लेकाते बुजहावा को लागित् ओपसोर एमाकोम। पारतुल लेका ते 73 दो आबो 70 आर 3 से 7 दहाई आर 3 इकाई लेका ते हों बोन बुजहाव दाडेयाक् आ। गिदरा को बार लेखा अंक रेयाक् लेनेखा संख्या लागित् नोन्कानाक् कामी पत्रक बेनाव आर ओना पेरेज आचोकोम।

73	$70 + 3$	गेल	मित्
		7	3






ओकाटाक् कोमा 27 कायरा से 72 कायरा ? आर चेदाक् ?



जासती से कोम

- A. 67 चीकू, 76 चीकू खोन _____ गया। जासती / कोम
B. 53 झिनुक , 35 झिनुकू खोन _____ गया। जासती / कोम



देला बोन चेकाया

खाली जायगा रे लेनेखा पेरेज मे।

- क. 29 लेनेखा 20 खोन जासती गया। ड. लेनेखा 25, लेनेखा _____ खोन कोम गया।
ख. _____ लेनेखा , लेनेखा 41 खोन जासती गया। च. लेनेखा _____ लेनेखा 2 खोन कोम गया।
ग. लेनेखा 70 , लेनेखा 76 खोन कोम गया। _____ । छ. लेनेखा 36 , लेनेखा _____ खोन जासती गया।
घ. लेनेखा _____ लेनेखा 49 खोन जासती गया। ज. लेनेखा _____ लेनेखा _____ खोन जासती गया।

गिदरा सोंगे नोकानाकू हालोत रेयाकू गापालमाराव पे ओकारे दो बारया जिनीस रेयाकू तुलानामा होयोक् कान। गिदरा को केटेच् जिनीस जेलेका धिरी, बोतोल बेनेत एमान तेयाकू बार ठेच् जारवा ओचाकोम आर आमदाज ओचाकोम जे ओकाटाकू दो जारवा रे जासती जिनीस मेनाकूआ। इनाकाते लेखा काते जोबाब दो बिड़ाव आटकार पे। जोबाब रेयाकू तोरक् हों एम पे।





देला बोन खिलाडा

उनुदूक् कार्ड रेयाक् खिलाड

क. 0 खोन 9 हाबिच् रेयाक् उनुदूक् कार्ड बेनाव मे। एम आकान लेनेखा सोदोर लागित दहाई आर इकाई रे दोहोय मे। लातार रे एम आकान लेका लेनेखा बेनाव मे।


क. 50 खोन बाड़ती लेनेखा।

ख. 30 खोन काटीच् लेनेखा।

ग. 47 आर 59 ताला रेयाक् लेनेखा।

घ. बार लेखा रेयाक् जोतो खोन काटिच लेनेखा दो ओकाटाक् होय दाड़ेयाक्आ।

ड. बार लेखा रेयाक् जोतो खोन लाटु लेनेखा दो ओकाटाक् होय दाड़ेयाक्आ?



ख. फ्लैश कार्ड फेटाव काते उनको खोन बारया कार्ड बाछाव काते बार लेखा रेयाक् लेनेखा बेनाव मे। नित् नोवा कार्ड दो ओदोल-बोदोल काते नावो लेनेखा बेनाव मे। सुटिक् मे जे नावो लेनेखा दो पाहिलाक् लेनेखा खोन लाटु गया से काटिच गया?

दहाई	इकाई	दहाई	इकाई
3	5	5	3



होर बेनाव मे।

जोतो खोन लाटु लेनेखा खोन जोतो काटिच् लेनेखा हाबिच् मित्तेन होर बेनाव मे। दिसा दोहोय मे जे होर दो मित्तेन ओड़ाक् रे एकेन मित् धाव गे पारोमोक्।

65			73
	92		
	53		
20		32	

34			53
	91		76
	14		11
			19
23			

			51	
58				
			63	43
75			86	
29				34

लेनेखा रेयाक् खिलाड।

इज ओकोय काना?

- क. इज दो बारया लेखा रेयाक् जोतो खोन लाटु लेनेखा कानाज ।
- ख. इज दो बार लेखा रेयाक् जोतो खोन लाटु लेनेखा कानाज मेनखान लेखा दो जुदा-जुदा गया।
- ग. इज दो बार लेखा रेयाक् जोतो खोन काटिच् लेनेखा कानाज ।
- घ. इज दो बार लेखा रेयाक् जोतो खोन काटिच् लेनेखा कानाज मेनखान इजाक् लेनेखा दो दोहड़ा ते ओलाकाना।
- ड. इज दो बार लेखा रेयाक् जोतो खोन काटिच् लेनेखा कानाज मेनखान दहाई रे दो 3 मेनाक्आ।
- च. इज दो बार लेखा रेयाक् जोतो खोन लाटु लेनेखा कानाज मेनखान दहाई रे दो 2 मेनाक्आ।

आम हों नोड.का गे आमाक् कुकली बेनाव मे।



वल्लमकली

ओनम दो केरल रेयाक् आसोल पोरोब काना, ओना रे दो लावका रेयाक् दाड़ हापाराव होयोक्आ। नोवा गे वल्लमकली दो को मेताक्आ। दाड़ दो मुचांदोक् लागित । चितार जेल काते लावका बाबोत ते लाय मे।



क. ओका रोड. रेयाक् लावका पंहिल ठाँव रे हेच् दाड़याक्आ? _____

ख. ओका रोड. रेयाक् लावका तेसार ठाँव रे हेच् दाड़याक्आ? _____

ग. लील आर हारयाड़ रोड. लावका दो ओका-ओका ठाँव रे मेनाक्आ। _____

घ. गुलाबी आर सासाड. रोड. रेयाक् लावका दो चेत्-चेत् ठाँव रे मेनाक्आ? चितार जेल काते लाय मे। _____

लातार रे एम आकान अगस्त चाँदो रेयाक् कैलेण्डर जेल मे।

सिगीं माहॉ	ओते माहॉ	बाले माहॉ	सागुन माहॉ	सांरदी माहॉ	जांरूम माहॉ	जुहुम माहॉ
		1	2	3	4	5
6	7	8	9	10	11	12
13	14	15 आजादी माहॉ	16	17	18	19
20	21	22	23	24	25	26
27	28	29 ओनम	30 रक्षाबंधन	31		

*कैलेण्डर 2023



कैलेन्डर जेल काते कुकली रेयाक् जोबाब एम मे।

क. ओनम दो चॉदो रेयाक् ओका माहॉ रे को मानावेत् काना?

ख. आजादी माहॉ दो ओका हिलोक् को मानावेत् काना?

ग. नोवा चॉदो रेयाक् सागुन माहॉ रे रक्षाबंधन को मानावेत् काना?

सुटिक् मे जे अगस्त चॉदो रे आम रेन ओकोय-ओकोय गाते कोवाक् जोनोम माहॉ काना। कैलेन्डर रे ओनाको तारिक् रे चिन्ह लागाव मे।

जर्सी नोम्बोर 17

जर्सी नोम्बोर खिलाड़ी दो
आडी मोजे खिलाड काना।

उनी दो इज जोतो
खोनीज कुसीवाया।

गिदरा सोंगे ओनकानाक् जायगा रेयाक् गापालमाराव मे ओका रे दो लेनेखा जेलोक्कान। पारतुल लेका ओड़ाक् रेयाक् लेनेखा, खुनटी रेयाक् लेनेखा बास से रील गाडी रेयाक् लेनेखा एमान तेयाक्। गिदरा को लायाको मे जे 0 आर 1 खोन 9 हाबिच् रेयाक् लेखा का ओका दो नितोक् बोन ओलेत् कान ओना रेयाक् एतोहोप्(उत्पत्ति) दो भारोत दिसोम रे मे होय आकाना।

