



बाबु 1. समुंड किनारे हिकु डींहुं



Q224CH01



मथे डिनल चित्र डिसो। गुणियो ऐं शयुन हेठां अदद लिखो।

नारेल

बेड़ियूं

बार

नारंगियूं

तव्हां इन्हन खे कीअं गुणियो? छा तव्हां इन्हन खे हिकु हिकु करे गुणियो या गुपन में?

बारन सां चर्चा करियो त छा उहे समुंड किनारे या नदी किनारे वया आहिन। उन्हन खां पुछो त आम तोर अहिडियुन जगहियुन ते कहिड़ा जानवर ऐं बूटा नज़र ईदा आहिन? बारन खे गुपन में गुणण लाइ हिमथायो।






अचो त करियूं

(क) चित्र में डेखारियल दुकान डिसो ऐं खाल भरयो।

- सिपुन जूं _____ मालाऊं आहिन हरहिक में 10 सिपूं आहिन।
- फूकणन जा _____ ग्रूप आहिन _____ हरहिक ग्रूप में _____ फूकणा आहिन।
- केलन जा झुगटा आहिन। हरहिक झुगटे में _____ केला आहिन ऐं कुलु _____ अलग केला आहिन _____।

(ख) सुरुभीअ कुझु शंख-सिपूं गड्डु कयूं आहिन। हूअ कंगण ऐं हार ठाहिन में माउ जी मदद करणु चाहे थी।



(ग) सुरुभीअ शंख-सिपूं जा _____ कंगण ठहिया। हरहिक कंगण में _____ शंख-सिपूं आहिन।



(घ) संदसि माउ संख सिपुन जा _____ हार ठाहिया ऐं हरहिक हार में _____ संख सिपूं आहिन।



अचो त ज़िबान जो
मज़ो वठूं।

सुठियूं सिपूं सुरुभी सोए
सुरुभी सोए सिपूं सुठियूं





अचो त सोचियूं

10 जे पैकेट में समायल शयुन जी ज्ञाण हासिल करियो

क _____ ख _____ ग _____

स्वादी चिकू


मनोज थाल्हन में चिकू ठाहे रखिया आहिन। हू पंहिंजे पीउ खे चिकू विकणण में मदद करे रहियो आहे।

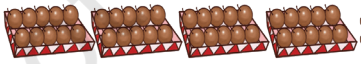


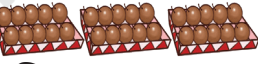
हिक थाल्ह में _____ चिकू आहिन।

कुलु घणा चिकू आहिन? _____

अब सभी चीकू को बेचने के लिए ट्रे में रखने में मनोज की मदद करें

(क) 25 चिकू  : _____ डह चिकू हिक थाल्ह में, त कुलु थाल्ह _____ ऐं अलग चिकू

(ख) 43 चिकू  : _____ डह चिकू हिक थाल्ह में, त कुलु थाल्ह _____ ऐं अलग चिकू

(ग) 35 चिकू  : _____ डह चिकू हिक थाल्ह में, त कुलु थाल्ह _____ ऐं अलग चिकू

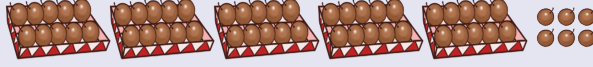
(घ) 58 चिकू  : _____ डह चिकू हिक थाल्ह में, त कुलु थाल्ह _____ ऐं अलग चिकू



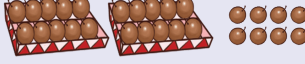


अचो त जोड़ा मिलायूं

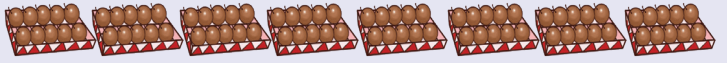
A. 80 चिकू




B. 72 चिकू



C. 56 चिकू



D. 28 चिकू



ब्लॉकन ऐं पटन जी रांदि




मुंहिंजे ब्लॉक
लकड़ीअ खे डिसो



छा तव्हां बुधाए सघो था त इन ब्लॉक लकड़ीअ में घणा ब्लॉक आहिन?

हिक ब्लॉक लकड़ी = _____ ब्लॉक



मुंहिंजे इन डहन
वारी पटीअ खे
डिसो




छा तव्हां बुधाए सघो था त डहन वारी पटीअ में कुलु घणा एका आहिन?

हिक डहन वारी पटी = _____ एका

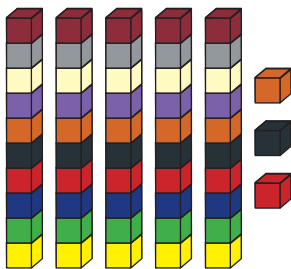





अचो त करियूं



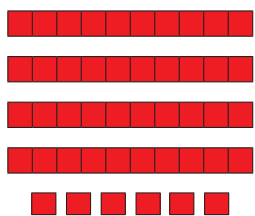
3 ब्लॉक पटियूं ऐं
4 ब्लॉक कुलु 34
ब्लॉक




___ ब्लॉक पटियूं ऐं ___
ब्लॉक कुलु
___ ब्लॉक




___ ब्लॉक पटियूं ऐं ___
ब्लॉक कुलु
___ ब्लॉक



___ डहन जूं पटियूं ऐं
___ एका कुलु
___ एका



___ डहन जूं पटियूं ऐं
___ एका कुलु
___ एका



___ डहन जूं पटियूं ऐं
___ एका कुलु
___ एका

खाको पूरो करियो

कुलु ब्लॉक / एका	डहन जूं पटियूं	एका
24	2	4
36		
72		
69		
46		


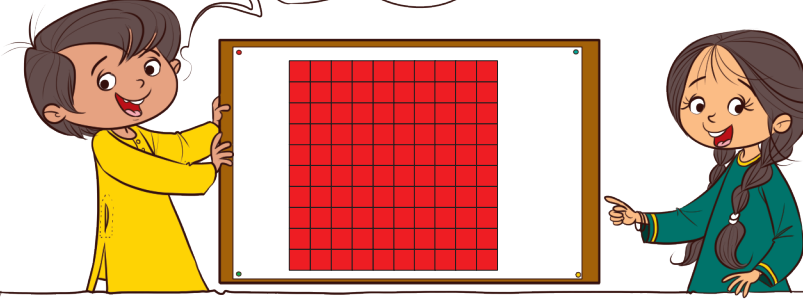
ज्ञान खे वधीक पुखतो करण लाइ तीलियुन जो गठो ऐं खुलियल तीलियूं कम आणियो।




अचो त 100 ठाहियूं

डिसो मां 10 पटियुन
खे गड्डु मिलायो आहे।


इन में कुलु 100
एका आहिन।




70 पीले रंग जा एका ऐं 30 गाढ़े रंग जा
एका। 7 पीले रंग जूं पटियूं ऐं 3 गाढ़े रंग जूं
पटियूं। कुलु 100 एका मतलब डहन जूं 10
पटियूं।



___ पीले रंग जा एका ऐं ___ गाढ़े रंग जा एका।
___ पीले रंग जूं पटियूं ऐं ___ गाढ़े रंग जूं
पटियूं। कुलु ___ एका मतलब डहन जूं ___
पटियूं।



___ पीले रंग जा एका ऐं ___ गाढ़े रंग जा
एका। ___ पीले रंग जूं पटियूं ऐं ___ गाढ़े रंग जूं
पटियूं। कुलु ___ एका मतलब डहन जूं ___
पटियूं।



___ पीले रंग जा एका ऐं ___ गाढ़े रंग जा
एका। ___ पीले रंग जूं पटियूं ऐं ___ गाढ़े रंग
जूं पटियूं। कुलु ___ एका मतलब डहन जूं ___
पटियूं।

डहन जे पटियुन मां 100 एकन जो हिकु गिड ठहिण लाइ बियन तरीकन बाबत चर्चा करियो।



अचो त सव (100) ठाहियूं!

इन रांद में 5 या 6 बारन जो गुप ठाहे रांद करायो। हिकु बारु बैकर थींदो। हरहिक गुप मां हिकु मेम्बरु हिक वक्रत ब ढारा उछलाईदो ऐं बैकर वटां ओतरा एका हासुल कंदो। जइहिं इह एका थींदा त उन खे हिक इहन जी पटीअ में बदलाए सघे थो। 10 पटीयुन ठहण खां पोइ तव्हां राजमा, नंढड़ा पत्थर, चणा वगैरह एकन जे रूप में कम आणे सघो था।

कार्डन जे मदद सां गुणणु

18, 19, 20, 21...
अड़े मूं खां वरी गुणप विसरी वेई।
1, 2, 3, 4...

अज्जु मां तोखे इन्हन शंख -
सिपुन खे गुणण जो नओं
तरीको बुधायां थो।



इहन शंख-सिपुन लाइ मां ▲ ऐं हिक
शंख- सिपीअ लाइ मां ● वारो कार्ड
रखियो आहे।

बारन खे जुदा जुदा नमूने इहन ऐं एकन जा कार्ड कम आणण लाइ हिमथायो।





अचो त सोचियूं

खाल भरियो



3 डहाका



1 एको

$$= 30 + 1 \text{ या}$$

ड	ए
3	1

इनकरे कुलु मिलाए 31 सिपूं थियूं।



___ डहाका



___ एका

$$= \square + \square \text{ या}$$

ड	ए



___ डहाका



___ एका

$$= \square + \square \text{ या}$$

ड	ए



___ डहाका



___ एका

$$= \square + \square \text{ या}$$

ड	ए

इहन जा (▲) ऐं एहन जा (●) कार्ड ठाहियो ऐं खाल भरियो।

___ डहाका ऐं ___ एका

$$= 90 + 3 \text{ या}$$

ड	ए

___ डहाका ऐं ___ एका

$$= \square + \square \text{ या}$$

ड	ए
7	5

___ डहाका ऐं ___ एका

$$= \square + \square \text{ या}$$

ड	ए
2	9





अचो त रांद करियूं

अदद ठाहियो

बार एकन ऐं डहाकन वारा कार्ड ठाहींदा। उस्ताद हिकु अददु मिसाल 52 चवंदो, जिनि बारन खे 50 या 2 वारा कार्ड आहिन, उहे चित्र में डेखरियल तरीके सां गडिजी अची अददु 52 ठाहींदा। इहा रांदि बियन अददन लाइ बि अगिते जारी रहंदी मिसाल 27 ।



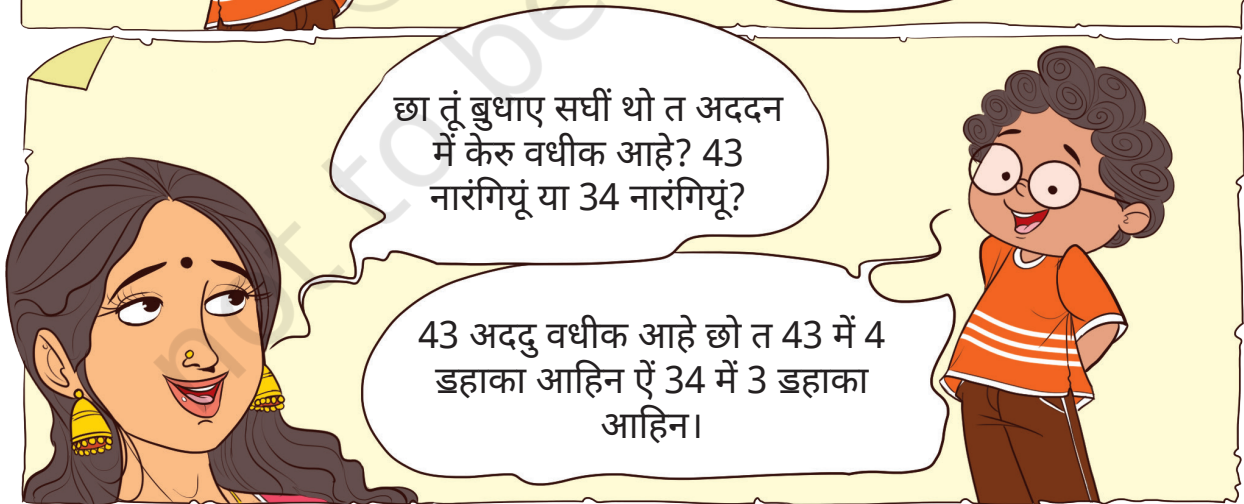

नारंगियुन जा दबा



बारन खे कंहिं अदद लाइ डहाकन ऐं एकन जे मदद लाइ भरपूर मौक्रा डियो। मिसाल 73 खे 70 ऐं 3 वारन अददन लाइ अहिडे नमूने खाको भरण लाइ चओ।

73	70 + 3	ड	ए
		7	3






घटि छा आहिन, 27 नारंगियूं या 72 नारंगियूं? छो?



वधीक' या 'घटी' खाल भरियो।

क. 67 चक्री, 76 चकिन खां ____ आहनि। (वधीक / घटी)

ख. 53 सपू, 35 सपुन खां ____ आहनि। (वधीक / घटी)



अचो त करियूं

खालन में अदद भरियो

क. अदद 29, अदद 20 खां वधीक आहे। ड. अदद ____ अदद 25 खां घटी आहे।

ख. अदद ____ अदद 41 खां घटी आहे। च. अदद ____ अदद 2 खां घटी आहे।

ग. अदद ____ अदद 76 खां घटी आहे। छ. अदद 36, अदद ____ खां वधीक आहे।

घ. अदद 49 अदद ____ खां वधीक आहे। ज. अदद ____ अदद ____ खां वधीक आहे। ____

बारन में अहिड़ियूं हालतूं ठाहे चर्चा करियो जिते उन्हन खे बिन मत्राउन (अददन) विचमें भेट करणी पवे। बारन खां नहिरी शयूं मिसाल कंकड़, ढकण, बिज वगैरह जा ढेर ठाहे पुछो, त कहिड़े ढेर में वधीक शयूं आहिन, इहो अंदाज़ो लगाइण लाइ चओ। पोइ गणे करे पंहिंजे अंदाज़े जे उहे जाच कन पोइ उन्हन खे सबबु बुधाइण लाइ चओ।





अचो त रांद करियूं

फ़्लैश कार्डन जी रांद

(क) 0 खां 9 ताई अददन जा फ़्लैश कार्ड ठहियो ऐं डिनल अदद ठाहिण लाइ उहे डहाका ऐं एका, उन्हन जायुन ते रखो हेठि डिनल हिदायत मौजुब अदद ठहियो।


क. 50 खां वडो अददु

ख. 30 खां नंढो अददु

ग. 47 खां 59 विचमें अददु

घ. बिन अंगन वारो कहिड़ो सभिनी खां नंढो अददु ठाहे सघो था?

ङ. बिन अंगन वारो कहिड़ो सभिनी खां वडो अददु ठाहे सघो था?



(ख) फ़्लैश कार्डन खे थपे, उन्हन मां ब्र कार्ड चूडियो ऐं बिन अंगन वारो अददु ठहियो। ऐं इन्हन कार्डन जी बदल सदल करे हिकु नओं अददु ठहियो। इहो डिसो त नओं अददु पहिरें अदद खां वडो आहे या नंढो। वडो अददु ठाहिण लाइ तव्हां छा कंदा?

डहाई	एका	डहाई	एका
3	5	5	3



रस्तो ठाहियो

सभिनी खां वडे अदद खां सभिनी खां नंढे अदद ताई रस्तो ठाहियो शर्तु इहो त रस्ते में घटि में घटि हरहिक खाने मां हिकु दफ़ो ई लंघणो आहे।

65				73
	92			
	53			
20				32

34			53	
	91			76
	14			11
				19
23				

			51	
58				
			63	43
75			86	
29				34

अददन जी रांद

मां केरु आहियां?

क. मां बिन अददन वारो वडे में वडो अददु आहियां।

ख. मां बिन अददन वारो वडे में वडो अददु आहियां, पर मुंहिंजा अंग जुदा जुदा आहिन।

ग. मां बिन अददन वारो नंढे में नंढो अददु आहियां।

घ. मां बिन अददन वारो नंढे में नंढो अददु आहियां, पर मुंहिंजा बई अंग हिक जहिड़ा आहिन।

ङ. मां बिन अंगन वारो सभिनी खां नंढो अददु आहियां जंहिं में डहाको 3 आहे।

च. मां बिन अंगन वारो सभिनी खां वडो अददु आहियां जंहिं में एके जी जाइ ते 2 आहे।

तव्हां बि अहिडे नमूने कुझु सुवाल ठाहियो।



वल्लम कली

केराला में 'ओणम' वड्डे में वड्डो मशहूर डिणु मल्लायो वेंदो आहे। जंहीं में 'बेड़ी डुक' रांद कई वेंदी आहे जंहीं खे 'वल्लम कली' चवंदा आहिन। हाणे उहा रांद खतम थियण वारी आहे। चित्र डिसो ऐं हरहिक बेड़ीअ जी हालत बुधायो।



- क. कहिड़े रंग जी बेड़ी पहिरियों नम्बर आई _____ ?
ख. कहिड़े रंग जी बेड़ी टियों नम्बर अची सघे थी _____ ?
ग. नीरे ऐं साए रंग जी बेड़ी कहिड़े नम्बर ते आहिन _____ ?
घ. चित्र डिसी गुलाबी ऐं नारंगी बेड़ियुन जी हालत बुधायो।

हेठि आगस्ट महीने जो कैलेंडर डिसो _____ ।
नीचे दिए गए कैलेंडर में अगस्त का महीना देखें.

आर्तवार	सूमर	मंगल	बुधर	विहस्पत	जुमो	छंछर
		1	2	3	4	5
6	7	8	9	10	11	12
13	14	15 आज़ादीअ जो डीहं	16	17	18	19
20	21	22	23	24	25	26
27	28	29 ओणम	30 रखड़ी बंधन	31		

*कैलेंडर साल 2023 जो आहे



कैलेंडर डिसो ऐं सुवालन जा जवाब डियो।

क. 'ओणम' महीने जे कहिड़े डीहं मल्हायो वेंदो आहे?

ख. आज़ादी डीहं कडहिं मल्हायो वेंदो आहे?

ग. इन महीने बुधर डीहं रखड़ी बंधन आहे।

जाच करियो त आगस्ट महीने में तव्हां जे कहिड़न दोस्तन जो जनम डीहं आहे। कैलेंडर में उन्हन तरीखुन ते निशान लगायो।

टी-शर्ट नम्बर 17

टी-शर्ट नम्बर 17 रांदीगरु तमाम सुठो खेडी रहियो आहे।

इहो मुंहिजो मन पसंद रांदीगर आर्य आहे।

बारन खां उन्हन जगहियुन बाबत चर्चा कयो जिन जगहियुन में हू लेबल या नालन बदरां अदद डिसंदा आहिन मिसाल घर नम्बर, थम्बो नम्बर, बस/ट्राम नम्बर वगैरह। बारन खे बुधायो त जंहिं सुठे नमूने असां दुनिया में नम्बर लिखंदा आहियूं - 0 ऐं 1 खां 9 इस्तेमाल करे उन्हन जी खोजना भारत में थी हुई।

