




ਰੂਪਲ ਨੂੰ ਮੇਲੇ ਵਿੱਚ ਜਾਣਾ ਬਹੁਤ ਪਸੰਦ ਹੈ । ਉਹ ਆਪਣੇ ਦੋਸਤਾਂ ਨਾਲ ਸਥਾਨਕ ਮੇਲਾ ਦੇਖਣ ਗਈ । ਉਸ ਦੀ ਮਾਂ ਨੇ ਉਸ ਨੂੰ 50 ਰੁਪਏ ਦਿੱਤੇ। ਉਸ ਨੇ ਜ਼ਿਆਦਾ ਰੁਪਏ ਝੂਲਾ-ਝੂਲਣ ਵਿੱਚ ਹੀ ਖਰਚ ਕਰ ਦਿੱਤੇ ।




ਬੱਚਿਆਂ ਨੂੰ ਪੁੱਛੋ ਕਿ ਉਹਨਾਂ ਨੂੰ ਮੇਲਿਆਂ ਵਿੱਚ ਕਿਹੜੀਆਂ ਚੀਜ਼ਾਂ ਤੋਂ ਅਨੰਦ ਮਿਲਦਾ ਹੈ, ਉਹ ਮੇਲੇ ਕਿਸ ਨਾਲ ਜਾਂਦੇ ਹਨ ? ਕੀ ਖਰੀਦਦੇ ਹਨ ਅਤੇ ਉੱਥੇ ਕਿੰਨੇ ਰੁਪਏ ਖਰਚ ਕਰਦੇ ਹਨ ? ਇਸ ਬਾਰੇ ਵੀ ਗੱਲ ਕਰੋ ।



ਮੈਂ ਕਿੰਨਾ ਖਰਚ ਕੀਤਾ ?



₹10



ਸ਼ੁਲਿਆਂ 'ਤੇ ਖਰਚੇ ਕੁੱਲ ਰੁਪਏ =

<input type="text"/>		<input type="text"/>		<input type="text"/>
ਰੁਪਲ ਦੀ ਮਾਂ ਵੱਲੋਂ ਦਿੱਤੇ ਕੁੱਲ ਰੁਪਏ =	–	ਖਰਚ ਕੀਤੇ ਰੁਪਏ	=	ਰੁਪਲ ਕੋਲ ਬਾਕੀ ਬਚੇ ਰੁਪਏ =

ਰੁਪਲ ਦੀ ਦੇਸਤ ਕੋਲ 50 ਵਿੱਚੋਂ 8 ਰੁਪਏ ਬਾਕੀ ਬਚੇ ਹਨ। ਪਤਾ ਕਰੋ ਕਿ ਉਸ ਨੇ ਕਿੰਨੇ ਰੁਪਏ ਖਰਚ ਕੀਤੇ ਹਨ ? ਆਓ ਇਸ ਨੂੰ ਲੱਭਣ ਦਾ ਤਰੀਕਾ ਵੇਖੀਏ।



ਮੇਰੇ ਕੋਲ 8 ਰੁਪਏ ਬਚੇ ਹਨ ਅਤੇ ਮੈਂ
ਝੂਲਾ-ਝੂਲਣ 'ਤੇ 20 ਰੁਪਏ ਖਰਚ ਕੀਤੇ ਹਨ,
ਕੁੱਲ ਹੋਏ 28 ਰੁਪਏ। ਫਿਰ ਮੈਂ, 20 ਰੁਪਏ
ਖਾਣ-ਪੀਣ 'ਤੇ ਖਰਚ ਕੀਤੇ, ਜੋ ਕਿ ਕੁੱਲ ਹੋਏ 48
ਰੁਪਏ। ਅੰਤ ਵਿੱਚ ਮੈਂ 2 ਰੁਪਏ ਟੋਫੀਆਂ 'ਤੇ ਖਰਚ
ਕੀਤੇ, ਕੁੱਲ ਹੋਏ 50 ਰੁਪਏ ਹੈ। ਇਸ ਤਰ੍ਹਾਂ ਮੈਂ
ਕੁੱਲ 42 ਰੁਪਏ ਖਰਚ ਕੀਤੇ ਹਨ।


$$\begin{aligned} ₹8 + ₹20 &= ₹28 \\ ₹28 + ₹20 &= ₹48 \\ ₹48 + ₹2 &= ₹50 \\ \hline &₹42 \end{aligned}$$

ਜੇਕਰ ਤੁਹਾਡੇ ਪਿਤਾ ਜੀ ਵੱਲੋਂ ਤੁਹਾਨੂੰ ਮੇਲਾ ਦੇਖਣ ਲਈ 40 ਰੁਪਏ ਦਿੱਤੇ ਹੋਣ 'ਤੇ ਤੁਹਾਡੇ ਕੋਲ 3 ਰੁਪਏ ਹੀ ਬਾਕੀ ਬਚੇ ਹੋਣ, ਤਾਂ ਤੁਸੀਂ ਕੁੱਲ ਕਿੰਨੇ ਰੁਪਏ ਖਰਚ ਕੀਤੇ ? ਪਤਾ ਲਗਾਓ।



ਆਓ ਕਰੀਏ

A. ਸਾਰਨੀ ਵਿੱਚ ਦਿਖਾਏ ਅਨੁਸਾਰ ਖਰੀਦਣ ਲਈ ਕਿੰਨੇ ਰੁਪਏ ਦੀ ਲੋੜ ਪਵੇਗੀ ?

ਝੂਲਾ	ਟਿਕਟਾਂ ਦੀ ਗਿਣਤੀ	ਰੁਪਏ
₹20 	2	₹ _____
₹10 	_____	₹30
₹15 	2	₹ _____

B. ਅਸੀਂ ਦੇਖਿਆ ਕਿ ਰੁਪਏ ਅਤੇ ਉਸ ਦੀ ਦੇਸਤ ਨੇ ਵੱਖ-ਵੱਖ ਮੁੱਲ ਦੇ ਨੋਟ ਅਤੇ ਸਿੱਕੇ ਵਰਤੇ। ਆਓ ਭਾਰਤੀ ਮੁਦਰਾ ਦੇ ਵੱਖ-ਵੱਖ ਨੋਟਾਂ ਬਾਰੇ ਜਾਣੀਏ।



₹100




₹200



₹500



C. 500 ਦੇ ਨੋਟ 'ਤੇ '500' ਕਿੰਨੀ ਵਾਰ ਲਿਖਿਆ ਹੈ ? ਗਿਣਤੀ ਕਰੋ ।



- i. ਪੰਜ ਸੌ ਰੁਪਏ ਨੂੰ ਸ਼ਬਦਾਂ ਵਿੱਚ
ਵਾਰ ਲਿਖਿਆ ਗਿਆ ਹੈ ।
- ii. 500 ਰੁਪਏ ਨੂੰ ਅੰਕਾਂ ਵਿੱਚ
ਵਾਰ ਲਿਖਿਆ ਗਿਆ ਹੈ ।

500 ਰੁਪਏ ਦੇ ਨੋਟ 'ਤੇ ਕਿਸ
ਇਤਿਹਾਸਕ ਇਮਾਰਤ ਦੀ ਤਸਵੀਰ
ਛਪੀ ਹੈ ? ਕੀ ਤੁਸੀਂ ਇਸ ਇਤਿਹਾਸਕ
ਇਮਾਰਤ ਨੂੰ ਦੇਖਿਆ ਹੈ ?



ਬੱਚਿਆਂ ਨੂੰ ਭਾਰਤੀ ਮੁਦਰਾ ਦੇ ਹੋਰ ਕਰੰਸੀ ਨੋਟਾਂ ਦੀਆਂ ਵਿਸ਼ੇਸ਼ਤਾਵਾਂ ਬਾਰੇ ਚਰਚਾ ਕਰਨ ਲਈ ਕਹੋ । ਉਹਨਾਂ ਨਾਲ ਕਰੰਸੀ
ਨੋਟਾਂ ਦੇ ਕਿਨਾਰੇ 'ਤੇ ਬਣੀਆਂ ਰੇਖਾਵਾਂ ਅਤੇ ਨੋਟਾਂ 'ਤੇ ਵਿਲੱਖਣ ਵਿਸ਼ੇਸ਼ਤਾਵਾਂ ਵਾਲੇ ਵਿਅਕਤੀਆਂ ਲਈ
ਲਿਖੀਆਂ ਸੰਖਿਆਵਾਂ ਬਾਰੇ ਚਰਚਾ ਕਰੋ ।



ਤੇਜਲ ਦੀ ਦਾਦੀ ਨੇ ਉਸ ਨੂੰ ਕੁਝ ਪੁਰਾਣੇ ਸਿੱਕੇ ਦਿਖਾਏ ਜੋ ਉਸ ਨੇ ਪਹਿਲਾਂ ਕਦੇ ਵੀ ਨਹੀਂ ਵੇਖੇ ਸਨ । ਆਓ ਭਾਰਤੀ ਮੁਦਰਾ ਦੇ ਇਹਨਾਂ ਸਿੱਕਿਆਂ ਬਾਰੇ ਜਾਣੀਏ ।



25 ਪੈਸੇ



50 ਪੈਸੇ



10 ਪੈਸੇ



20 ਪੈਸੇ

ਦਾਦੀ 1 ਰੁਪਿਆ ਦੇਣ ਲਈ 50 ਪੈਸੇ ਦੇ 2 ਸਿੱਕੇ ਦਿੰਦੀ ਸੀ ।



50 ਪੈਸੇ

+



50 ਪੈਸੇ

=



₹1

100 ਪੈਸੇ = 1 ਰੁਪਿਆ

A. ਦੱਸੋ ਇੱਕ ਰੁਪਿਆ ਦੇਣ ਲਈ 25 ਪੈਸੇ ਦੇ ਕਿੰਨੇ ਸਿੱਕੇ ਦੇਣੇ ਪੈਣਗੇ ? ਹੇਠਾਂ ਦਿੱਤੇ ਡੱਬੇ ਵਿੱਚ ਸਿੱਕਿਆਂ ਦੀ ਤਸਵੀਰ ਬਣਾਓ ।

= ₹1 ਜਾਂ
100 ਪੈਸੇ

B. ਦੱਸੋ 20 ਪੈਸੇ ਦੇ ਕਿੰਨੇ ਸਿੱਕਿਆਂ ਨਾਲ ਇੱਕ ਰੁਪਿਆ ਬਣੇਗਾ ?













ਗੁਬਾਰੇ ਨੂੰ ਭੰਨੋ

ਮਟਰੂ ਮੇਲੇ ਵਿੱਚ ਇੱਕ ਗੁਬਾਰੇ ਭੰਨਣ ਵਾਲੀ ਖੇਡ ਨੂੰ ਖੇਡਦਾ ਹੈ। ਉਸ ਨੂੰ 10 ਰੁਪਏ ਜਿੱਤਣ ਲਈ 3 ਮੌਕੇ ਮਿਲਣਗੇ। ਆਓ ਦੇਖੀਏ ਕਿ ਮਟਰੂ ਇਸ ਖੇਡ ਵਿੱਚ ਕਿੰਨੇ ਰੁਪਏ ਜਿੱਤਦਾ ਹੈ ?



A. ਮਟਰੂ ਨੂੰ ਕਿੰਨੇ ਰੁਪਏ ਮਿਲਣਗੇ ਜੇਕਰ ਉਹ ਹੇਠਾਂ ਦਿੱਤੇ ਅਨੁਸਾਰ ਗੁਬਾਰੇ ਭੰਨਦਾ ਹੈ ?

 	₹3
  	
  	
 	

B. ਜੇਕਰ ਮਟਰੂ ਹੇਠਾਂ ਦਿੱਤੀ ਰਾਸ਼ੀ ਪ੍ਰਾਪਤ ਕਰਨਾ ਚਾਹੁੰਦਾ ਹੈ ਤਾਂ ਉਸ ਨੂੰ ਜਿਹੜੇ ਗੁਬਾਰੇ ਭੰਨਣੇ ਪੈਣਗੇ, ਉਹਨਾਂ ਦੇ ਚਿੱਤਰ ਬਣਾਓ ਅਤੇ ਰੰਗ ਭਰੋ ।

	₹17
	₹22
	₹31

C. ਤੁਸੀਂ ਸਭ ਤੋਂ ਵੱਧ ਰੁਪਏ ਜਿੱਤਣ ਲਈ ਵੱਖ-ਵੱਖ ਰੰਗਾਂ ਦੇ ਕਿਹੜੇ ਤਿੰਨ ਗੁਬਾਰਿਆਂ ਨੂੰ ਭੰਨੋਗੇ ? ਉਹਨਾਂ ਦੇ ਚਿੱਤਰ ਬਣਾਓ ਅਤੇ ਰੰਗ ਭਰੋ ।

ਜਿੱਤੀ ਗਈ ਕੁੱਲ ਰਾਸ਼ੀ =

D. ਜੇਕਰ ਮਟਰੂ ਕੋਲ ਚਾਰ ਮੌਕੇ ਹੋਣ, ਤਾਂ ਉਹ ਕਿਹੜੇ ਵੱਖ-ਵੱਖ ਰੰਗਾਂ ਦੇ ਗੁਬਾਰੇ ਭੰਨ ਕੇ ਸਭ ਤੋਂ ਵੱਧ ਰੁਪਏ ਜਿੱਤ ਸਕਦਾ ਹੈ ? ਉਹਨਾਂ ਦੇ ਚਿੱਤਰ ਬਣਾਓ ਅਤੇ ਰੰਗ ਭਰੋ ।

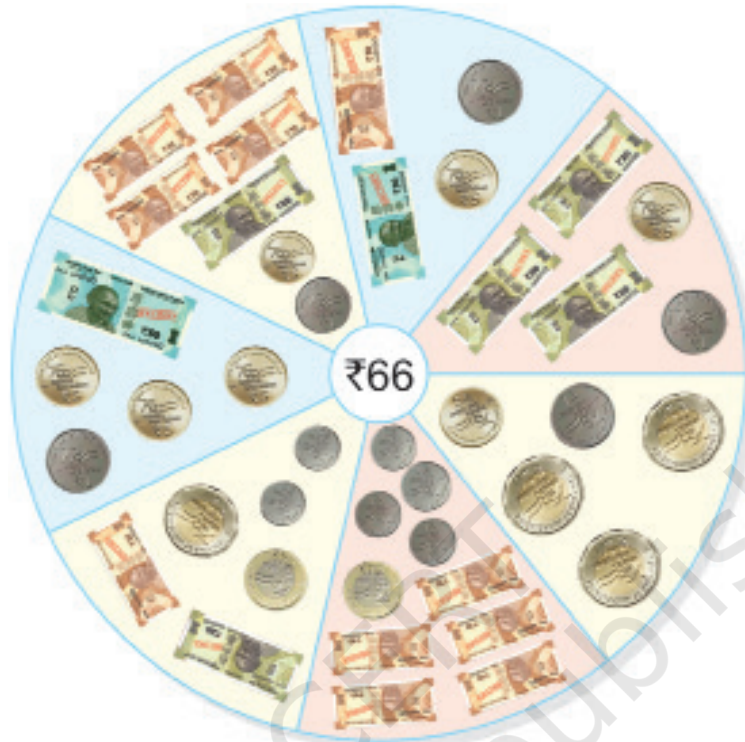
ਜਿੱਤੀ ਗਈ ਕੁੱਲ ਰਾਸ਼ੀ =





ਆਓ ਕਰੀਏ

ਆਓ ਦੇਖੀਏ ਕਿ ਅਸੀਂ 66 ਰੁਪਏ ਦਾ ਭੁਗਤਾਨ ਕਿਹੜੇ-ਕਿਹੜੇ ਤਰੀਕਿਆਂ ਨਾਲ਼ ਕਰ ਸਕਦੇ ਹਾਂ ।



ਦਿੱਤੀ ਰਕਮ ਨੂੰ ਬਣਾਉਣ ਲਈ ਵੱਖ-ਵੱਖ ਨੋਟਾਂ ਤੇ ਸਿੱਕਿਆਂ ਦੀ ਵਰਤੋਂ ਕਰੋ ।

ਰਕਮ (ਰਾਸ਼ੀ)	₹1	₹2	₹5	₹10	₹20	₹50
	—	2	—	3	1	—
₹54						
₹85						





ਆਓ ਖਰੀਦਦਾਰੀ ਕਰੀਏ



ਵਸਤੂ	ਖਰੀਦਣ ਲਈ ਜਿੰਨੇ ਰੁਪਿਆਂ ਦੀ ਲੋੜ	ਤੁਹਾਡੇ ਕੋਲ ਰੁਪਏ	ਬਚੇ ਹੋਏ ਰੁਪਏ/ਹੋਰ ਰੁਪਿਆਂ ਦੀ ਲੋੜ
	₹ _____		₹ _____
	₹ _____		₹ _____
	₹ _____		₹ _____



ਆਓ ਕਰੀਏ


$$\begin{array}{r} ₹ 18 \\ + ₹ 32 \\ \hline \end{array}$$

$$\begin{array}{r} ₹ 47 \\ + ₹ 50 \\ \hline \end{array}$$

$$\begin{array}{r} ₹ 15 \\ + ₹ 27 \\ \hline \end{array}$$

$$\begin{array}{r} ₹ 22 \\ + ₹ 35 \\ \hline \end{array}$$

ਕੀ ਤੁਸੀਂ ਦੇਖਿਆ ਹੈ ਕਿ ਕਈ ਵਾਰ ਅਸੀਂ ਮੋਬਾਈਲ ਫੋਨ ਦੀ ਵਰਤੋਂ ਕਰਕੇ ਭੁਗਤਾਨ ਕਰਦੇ ਹਾਂ ?



- A. ਜਯੰਤ ਨੇ ਪੈਨ 'ਤੇ 25 ਰੁਪਏ ਅਤੇ ਕਾਪੀ 'ਤੇ 40 ਰੁਪਏ ਖਰਚ ਕੀਤੇ । ਉਸ ਨੇ ਕੁੱਲ ਕਿੰਨੇ ਰੁਪਏ ਖਰਚ ਕੀਤੇ ?
- B. ਮੀਰਾ ਕੋਲ਼ 43 ਰੁਪਏ ਹਨ । ਕਨਿਕਾ ਕੋਲ਼ ਮੀਰਾ ਤੋਂ 14 ਰੁਪਏ ਵੱਧ ਹਨ । ਦੱਸੋ, ਕਨਿਕਾ ਕੋਲ਼ ਕਿੰਨੇ ਰੁਪਏ ਹਨ ?
- C. ਬਰੈਂਡ ਦੇ ਇੱਕ ਪੈਕੇਟ ਦੀ ਕੀਮਤ 30 ਰੁਪਏ ਅਤੇ ਇੱਕ ਚਾਕਲੇਟ ਦੀ ਕੀਮਤ 60 ਰੁਪਏ ਹੈ । ਵਿਵੇਕ ਨੂੰ ਇਹ ਚੀਜ਼ਾਂ ਖਰੀਦਣ ਲਈ, ਕਿੰਨੇ ਰੁਪਿਆਂ ਦੀ ਲੋੜ ਹੈ ?
- D. ਅਜੈ ਦੇ ਕੋਲ਼ 58 ਰੁਪਏ ਹਨ । ਉਸ ਨੇ ਬਜ਼ਾਰ ਵਿੱਚ 48 ਰੁਪਏ ਖਰਚ ਕਰ ਦਿੱਤੇ । ਹੁਣ ਉਸ ਕੋਲ਼ ਕਿੰਨੇ ਰੁਪਏ ਬਚੇ ਹਨ ?



ਪਰਿਯੋਜਨਾ ਕਾਰਜ

ਜਦੋਂ ਵੀ ਤੁਸੀਂ ਆਪਣੇ ਮਾਤਾ-ਪਿਤਾ ਨਾਲ਼ ਬਾਜ਼ਾਰ ਜਾਓ, ਤਾਂ ਖਰੀਦੀਆਂ ਗਈਆਂ ਵਸਤੂਆਂ ਦੀ ਸੂਚੀ ਬਣਾਓ ਅਤੇ ਖਰਚ ਕੀਤੇ ਗਏ ਰੁਪਿਆਂ ਦਾ ਹਿਸਾਬ-ਕਿਤਾਬ ਲਗਾਓ ।

ਅਜਿਹੇ ਹੋਰ ਵੀ ਸੰਦਰਭ ਬਣਾਓ ਤੇ ਸਵਾਲ ਪੁੱਛੋ ਕਿ, ਕੀ ਬੱਚੇ ਜੋੜ ਕਰਨਗੇ ਜਾਂ ਘਟਾਓ । ਗੱਲਬਾਤ ਰਾਹੀਂ ਬੱਚਿਆਂ ਨਾਲ਼ ਰੁਪਿਆਂ ਦੀ ਬਚਤ ਬਾਰੇ ਵੀ ਚਰਚਾ ਕਰੋ ।

