



ମେଳାରେ ମଜା ।



0224CH10

ରୁପାଲ ମେଳାକୁ ଯିବାକୁ ଭଲ ପାଆନ୍ତି । ସେ ନିଜ ସାଙ୍ଗମାନଙ୍କ ସହିତ ସ୍ଥାନୀୟ ମେଳା ପରିଦର୍ଶନ କରନ୍ତି । ତାଙ୍କ ମା ତାଙ୍କୁ 50 ଟଙ୍କା ଦେଇଥିଲେ । ସେ ଏହାର ଅଧିକାଂଶ ଅଂଶ ତାଙ୍କ ପ୍ରିୟ ଘୋଡ଼ା ଚଢ଼ିବା ପାଇଁ ଖର୍ଚ୍ଚ କରିଥିଲେ ।



ମେଳାରେ ପିଲାମାନେ ଉପଭୋଗ କରୁଥିବା ଜିନିଷଗୁଡ଼ିକ ବିଷୟରେ କଥାବାର୍ତ୍ତା କରନ୍ତୁ, ସେମାନେ କାହା ସହିତ ଯାଆନ୍ତି, ସେମାନେ କ'ଣ କିଣନ୍ତି ଏବଂ ସେଠାରେ କେତେ ଟଙ୍କା ଖର୍ଚ୍ଚ କରନ୍ତି ।



ମୁଁ କେତେ ଖର୍ଚ୍ଚ କଲି?



10 ଟଙ୍କା



ଘୋଡ଼ା ଚଢ଼ିବା ରେ ଖର୍ଚ୍ଚ ହୋଇଥିବା ମୋଟ ଟଙ୍କା =

<input type="text"/>	–	<input type="text"/>	=	<input type="text"/>
ରୁପଲଙ୍କ ମା ଦ୍ଵାରା ଦିଆଯାଇଥିବା ଟଙ୍କା ।		ଖର୍ଚ୍ଚ ହୋଇଥିବା ଟଙ୍କା		ରୁପଲଙ୍କ ପାଖରେ ଟଙ୍କା ବାକି ଅଛି ।

ରୁପଲଙ୍କ ଜଣେ ବନ୍ଧୁଙ୍କ ପାଖରେ ₹ 50 ଟଙ୍କା ରୁ ₹ 8 ଟଙ୍କା ବାକି ଅଛି । ସେ ଜାଣିବାକୁ ଚାହୁଁଥିଲେ ଯେ ସେ କେତେ ଟଙ୍କା ଖର୍ଚ୍ଚ କରିଛନ୍ତି । ଆସନ୍ତୁ ଜାଣିବା ତା'ର ଉପାୟ ।



ମୋ ବାକି ପାଖରେ ଅଛି
8 ଟଙ୍କା ଏବଂ ମୁଁ ଘୋଡ଼ା ଚଢ଼ିବା ପାଇଁ
ଖର୍ଚ୍ଚ କରିଛି 20 ଟଙ୍କା, ଯାହା କି 28 ଟଙ୍କା ଅଟେ ।
ତା'ପରେ, ମୁଁ ଜଳଖିଆ ରେ 20 ଟଙ୍କା ଖର୍ଚ୍ଚ କରିଛି,
ଯାହା କି 48 ଟଙ୍କା ହୁଏ ଏବଂ ମୁଁ ଚକଲେଟ୍‌ରେ
ଅଧିକ 2 ଟଙ୍କା ଖର୍ଚ୍ଚ କରିଛି, ଯାହା 50
ଟଙ୍କା । ମୋଟ, ମୁଁ 42 ଟଙ୍କା ଖର୍ଚ୍ଚ କରିଛି ।

$$\begin{aligned} ₹8 + ₹20 &= ₹28 \\ ₹28 + ₹20 &= ₹48 \\ ₹48 + ₹2 &= ₹50 \\ \hline &₹42 \end{aligned}$$

ଯଦି ତୁମର ବାପା ମେଳା ପାଇଁ 40 ଟଙ୍କା ଦେଇଥିଲେ, ତେବେ ତୁମ ପାଖରେ 3 ଟଙ୍କା ବାକି ରହିଲା, ତୁମେ କେତେ ଟଙ୍କା ଖର୍ଚ୍ଚ କଲ? ଖୋଜ ।





ଟାଲ କରିବା ।

କ. କିଣିବା ପାଇଁ କେତେ ଟଙ୍କା ଆବଶ୍ୟକ ହେବ?

ଘୋଡ଼ା ଚଢ଼ିବା	ଟିକେଟ୍ ସଂଖ୍ୟା	ଟଙ୍କା
	2	₹ _____
	_____	₹30
	2	₹ _____

ଖ. ଆମେ ରୁପଲ ଏବଂ ଡାକ୍ଷ ସାଙ୍ଗମାନଙ୍କ ଦ୍ଵାରା ବ୍ୟବହୃତ ବିଭିନ୍ନ ନୋଟ୍ ଏବଂ ମୁଦ୍ରା ଦେଖିଲୁ । ଆସନ୍ତୁ ଅନ୍ୟ ସାଧାରଣ ଭାବରେ ବ୍ୟବହୃତ ଭାରତୀୟ ମୁଦ୍ରାକୁ ଦେଖିବା ।



₹100




₹200



₹500



ଗ. 500 ଟଙ୍କା ନୋଟରେ 500 କେଡେଅର ଲେଖାଯାଇଛି ସଂଖ୍ୟା ଗଣନା କରନ୍ତୁ ।



i. ପାଞ୍ଚ ଶହ ଟଙ୍କା _____ ଅର
ଶବ୍ଦରେ ଲେଖାଯାଇଛି ।

ii. । 500 ସଂଖ୍ୟା ରେ କେଡେଅର
_____ ଲେଖାଯାଇଛି ।

500 ଟଙ୍କାର ନୋଟରେ
କେଉଁ ସ୍ଥାନକ ଛପାଯାଇଛି?
ଆପଣ ଏହି ସ୍ଥାନକ
ଦେଖୁଛନ୍ତି କି?



ପିଲାମାନଙ୍କୁ ଅନ୍ୟ ମୁଦ୍ରା ନୋଟ ଗୁଡ଼ିକୁ ନିରୀକ୍ଷଣ କରିବାକୁ କୁହନ୍ତୁ ଏବଂ ସେମାନଙ୍କର ବୈଶିଷ୍ଟ୍ୟ ବିଷୟରେ ଆଲୋଚନା କରନ୍ତୁ । ସେମାନଙ୍କ ସହ ନୋଟ ର ସୀମାରେ ଥିବା ଲାଇନ୍ ଏବଂ ଭିନ୍ନସମ୍ପର୍କ ପାଇଁ ପ୍ରତ୍ୟେକ ନୋଟ ରେ ସେମାନଙ୍କ ନମ୍ବର ଭଳି ସ୍ପେସିଫିକେସନ୍ (ନିର୍ଦ୍ଦିଷ୍ଟକରଣ) ବିଷୟରେ ଆଲୋଚନା କରନ୍ତୁ ।



ତେଜଲଙ୍କ ଜେଜେମା 'ତାଙ୍କୁ କିଛି ପୁରୁଣା ମୁଦ୍ରା ଦେଖାଇଲେ ଯାହା ସେ ପୂର୍ବରୁ ଦେଖି ନଥିଲେ । ଆସନ୍ତୁ ଏହି ମୁଦ୍ରାଗୁଡ଼ିକ ଉପରେ ମଧ୍ୟ ନଜର ପକାଇବା ।



25 ପଇସା ।



50 ପଇସା ।



10 ପଇସା ।



20 ପଇସା ।

ତାଙ୍କ ଜେଜେମା 1 ଟଙ୍କା ପାଇଁ 50 ପଇସା ର 2 ଟି ମୁଦ୍ରା ଦେଇଥିଲେ ।



50 ପଇସା ।

+



50 ପଇସା ।

=



₹1

100 ପଇସା = 1 ଟଙ୍କା ।

କ. କେତେ 25 ପଇସା ରେ 1 ଟଙ୍କା ହେବ? ତଳେ ଥିବା ବାକ୍ସରେ ମୁଦ୍ରା ଅଙ୍କନ କର ।

= 1 ଟଙ୍କା କିମ୍ବା

100 ପଇସା ।

ଖ. କେତେ ଟା 20 ପଇସା ରେ 1 ଟଙ୍କା ହେବ ?













ବେଲୁନ୍ ଫୁଟାଅ ।

ମାତୃ ଏକ 'ବେଲୁନ୍ ପପ୍' ଖେଳକୁ ଆସିଥାଏ । ସେ 10 ଟଙ୍କା ପାଇଁ 3 ଟି ସୁଯୋଗ ପାଇବେ । ଆସନ୍ତୁ ଦେଖିବା ମାତୃ କେତେ ଟଙ୍କା ଜିତିବୁ ।



କ. ଯଦି ସେ ନିମ୍ନ ବେଲୁନ୍ ଫୁଟାଇଲେ ମାତୃ କେତେ ଟଙ୍କା ପାଇବେ?

 	3 ଟଙ୍କା
  	
  	
 	

ଗ. ବେଲୁନ୍ ଆଙ୍କନ୍ତୁ ଏବଂ ରଙ୍ଗ ଦିଅନ୍ତୁ, ଯଦି ସେ ନିମ୍ନ ପରିମାଣ ର ଟଙ୍କା ପାଇବାକୁ ଚାହୁଁଛନ୍ତି ତେବେ ତାଙ୍କୁ ପୁଟେଇବାକୁ ପଡିବ ।

	₹17
	₹22
	₹31

ଗ. କେଉଁ ତିନୋଟି ଭିନ୍ନ ରଙ୍ଗର ବେଲୁନ୍ ଆପଣ ସର୍ବାଧିକ ପରିମାଣର ଟଙ୍କା ରୋଜଗାର କରିବାକୁ ଲକ୍ଷ୍ୟ କରିବେ? ସେଗୁଡ଼ିକୁ ଅଙ୍କନ ଏବଂ ରଙ୍ଗ କର ।

ସମୁଦାୟ ରାଶି ଜିତିବ =

ଘ. ଯଦି ମାଟୁଙ୍କର ଚାରୋଟି ସୁଯୋଗ ଥିଲା, କେଉଁ ଭିନ୍ନ ରଙ୍ଗର ବେଲୁନ୍ ପୁଟେଇ କରି ସେ ଅଧିକ ଟଙ୍କା ରୋଜଗାର କରିପାରିବେ? ସେଗୁଡ଼ିକୁ ଅଙ୍କନ ଏବଂ ରଙ୍ଗ କର ।

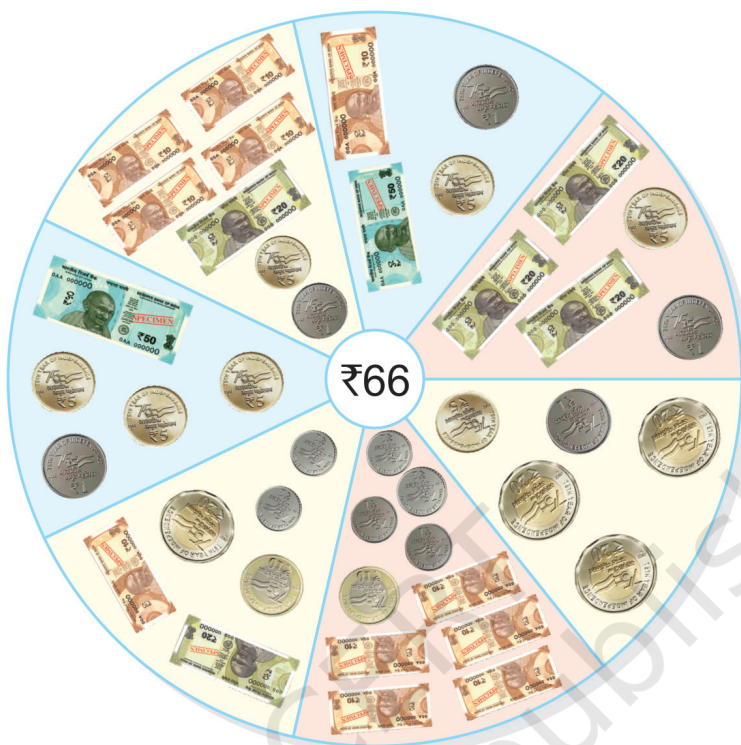
ସମୁଦାୟ ରାଶି ଜିତିବ =





ଚାଲ କରିବା ।

ବିଭିନ୍ନ ଉପାୟରେ କିପରି 66 ପ୍ରଦାନ କରାଯାଇପାରିବ ତାହା ଦେଖିବା ।




ପ୍ରଦତ୍ତ ପରିମାଣ ପ୍ରସ୍ତୁତ କରିବାକୁ ବିଭିନ୍ନ ସଂଯୋଗ ପ୍ରସ୍ତୁତ କରନ୍ତୁ ।

ପରିମାଣ	₹1	₹2	₹5	₹10	₹20	₹50
₹54	—	2	—	3	1	—
₹85						





ଟାଲ କିଣିବା ।



ବସ୍ତୁଗୁଡ଼ିକ	ଏହି ଜିନିଷ କିଣିବା ପାଇଁ ଟଙ୍କା ଆବଶ୍ୟକ ।	ତୁମର ଟଙ୍କା ଅଛି	ଟଙ୍କା ବାକି / ଅଧିକ ଟଙ୍କା ଆବଶ୍ୟକ ।
	₹ _____		₹ _____
	₹ _____		₹ _____
	₹ _____		₹ _____



ଟାଲ କରିବା ।


$$\begin{array}{r} ₹ 18 \\ + ₹ 32 \\ \hline \\ \hline \end{array}$$

$$\begin{array}{r} ₹ 15 \\ + ₹ 27 \\ \hline \\ \hline \end{array}$$

$$\begin{array}{r} ₹ 47 \\ + ₹ 50 \\ \hline \\ \hline \end{array}$$

$$\begin{array}{r} ₹ 22 \\ + ₹ 35 \\ \hline \\ \hline \end{array}$$

ଆପଣ ଦେଖୁଛନ୍ତି କି
ବେଳେବେଳେ ଆମେ ମୋବାଇଲ୍
ଫୋନ୍ ବ୍ୟବହାର କରି ଟଙ୍କା
ଦେୟ ଦେଇଥାଉ?



କ. ଜୟନ୍ତ କଲମରେ 25 ଟଙ୍କା ଏବଂ ନୋଟବୁକ୍ ଉପରେ 40 ଟଙ୍କା ଖର୍ଚ୍ଚ କରିଥିଲେ । ସେ ସମୁଦାୟ କେତେ ଟଙ୍କା ଖର୍ଚ୍ଚ କଲେ?

ଖ. ମୀରା ଙ୍କ ପାଖରେ 43 ଟଙ୍କା ଅଛି । କନିକା ପାଖରେ ମୀରା ଠାରୁ 43 ଟଙ୍କା ଅଧିକ ଅଛି । କନିକା ପାଖରେ କେତେ ଟଙ୍କା ଅଛି?

ଗ. ଏକ ପ୍ୟାକେଟ୍ ରୁଟି ର ମୂଲ୍ୟ 30 ଟଙ୍କା ଏବଂ ଚକୋଲେଟ୍ ର ମୂଲ୍ୟ 60 ଟଙ୍କା । ବିବେକ ଏହି ଜିନିଷ କିଣିବା ପାଇଁ କେତେ ଟଙ୍କା ଆବଶ୍ୟକ କରନ୍ତି?

ଘ. ଅଜୟଙ୍କ ପାଖରେ 58 ଟଙ୍କା ଅଛି । ସେ ବଜାରରେ 48 ଟଙ୍କା ଖର୍ଚ୍ଚ କରିଥିଲେ । ବର୍ତ୍ତମାନ ତାଙ୍କ ପାଖରେ କେତେ ଟଙ୍କା ବାକି ଅଛି?



ପ୍ରକଳ୍ପ କାର୍ଯ୍ୟ

ଯେତେବେଳେ ବି ଆପଣ ନିଜ ପିତାମାତାଙ୍କ ସହିତ ବଜାରକୁ ଯାଆନ୍ତି କିମ୍ବା ଜିନିଷ କିଣନ୍ତି, ଆପଣ କିଣିଥିବା ଜିନିଷଗୁଡ଼ିକର ଏବଂ ଆପଣ ଖର୍ଚ୍ଚ କରୁଥିବା ମୋଟ ଟଙ୍କା ର ଏକ ତାଲିକା ପ୍ରସ୍ତୁତ କରନ୍ତୁ ।

ଏହିପରି ଅଧିକ ପ୍ରସଙ୍ଗ ସୃଷ୍ଟି କରନ୍ତୁ ଏବଂ ପ୍ରଶ୍ନ ପଚାରନ୍ତୁ ଯେ ପିଲାମାନେ ଯୋଡ଼ିବେ କି ହ୍ରାସ କରିବେ । ଆଲୋଚନା ମାଧ୍ୟମରେ ପିଲାମାନଙ୍କ ମଧ୍ୟରେ ଟଙ୍କା ସଞ୍ଚୟ କରିବାର ମୂଲ୍ୟ ଜାଗ୍ରତ କରନ୍ତୁ ।

