



पसंदीदा रंग



आउ, हम सब करी।

चित्र के देखू। सारणी पूरा करू आ रिक्त स्थानक पूर्ति करू।

रंग	लाल	हरियर	नीला	पीयर
बच्चा सब के संख्या				

क. _____ सभ सँ बेशी पसीनक रंग छै।

ख. _____ सभ सँ कम पसीनक रंग छै।

ग. पीयर रंग बेशी पसीनक छै _____ सँ।

घ. _____ रंग हरियर सँ बेशी पसीनक छै।

ङ. _____ रंग ,कम पसीनक छै _____ सँ।





पिकनिक के दिन

बच्चा सभके फल भोज छैन्हि। ओ सभ अपन पसीनक फल खा रहल छथि।



आउ, हम सब करी।

सारणी पूरा करू आ रिक्त स्थानक पूर्ति करू।

फल				
बच्चा के संख्या				

क. चित्र मे कतेक बच्चा सभ छथि ? _____.

ख. सेव पसीन कर' बला बच्चा सभ के संख्या _____ छै।

ग. सभ सँ बेसी पसीनक फल छै। _____.

घ. सभ सँ कम पसीनक फल छै। _____.

ङ. बच्चा सभहक संख्या जिनका सभके लताम पसीन छैन्हि _____
(बेसी, कम, बराबर) छै बच्चा के संख्या सँ जिनका सेव नीक लगैत छैन्हि।

च. बच्चा सभके संख्या जिनका सेव नीक लगैत छैन्हि _____
(बेसी, कम, बराबर) छै, बच्चा सभ सँ जिनका केरा नीक लगैत छैन्हि।

छ. बच्चा सभके संख्या जिनका नारंगी नीक लगैत छैन्हि _____
(बेसी, कम, बराबर) छै, बच्चा सभ सँ जिनका किवी नीक लगैत छैन्हि।



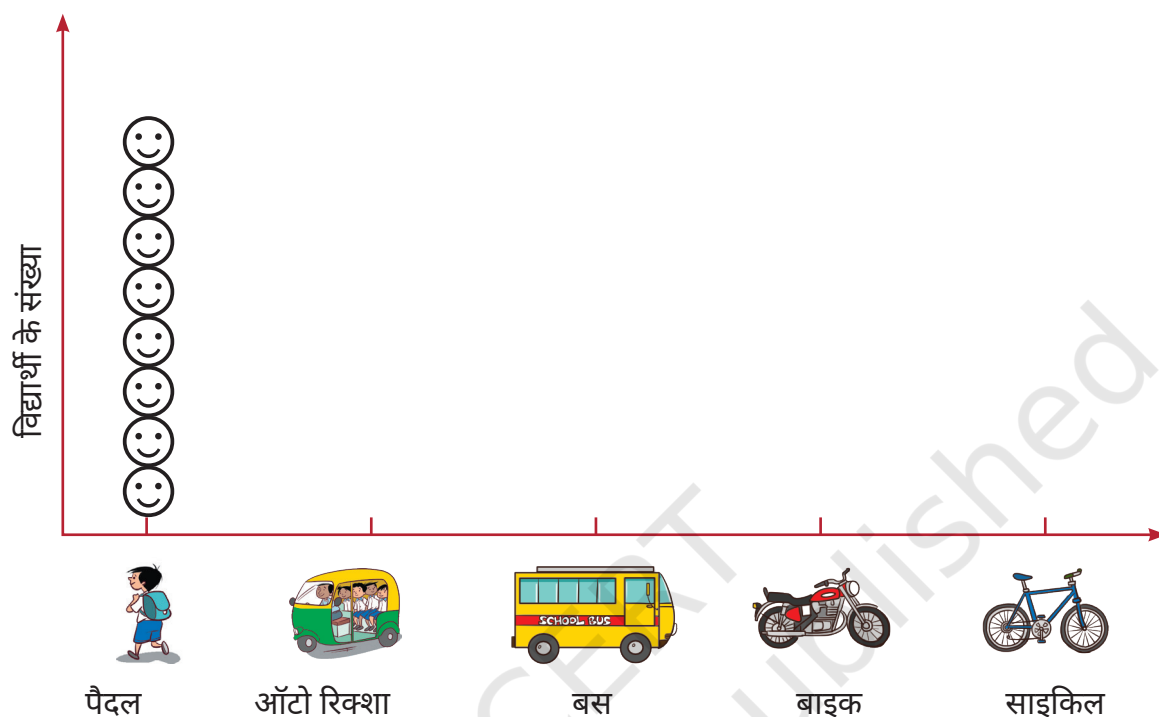
चित्रक चर्चा करू आ सारणी पूरा करू।



विद्यालय अयबाक साधन	विद्यार्थी के संख्या
	8

सारणी के पढ़ू आ नीचां देल गेल तालिका मे भिन्न भिन्न माध्यम सँ अबै बला बच्चा सभहक संख्या देखैबाक हेतु चेहरा (😊) बनाउ। (😊)=1 विद्यार्थी

तालिका देखू आ रिक्त स्थानक पूर्ति करू।



क. अधिकतर बच्चा सभ _____ सँ विद्यालय अबै छथि।

ख. किछु बच्चा सभ _____ सँ विद्यालय अबै छथि।

ग. बस सँ विद्यालय अबै बला बच्चा सभके संख्या _____ (कम/बेशी) छै बनिस्बत ऑटो रिक्शा सँ विद्यालय अबै बला बच्चा के संख्या के।

घ. बाइक सँ विद्यालय अबै बला बच्चा सभके संख्या _____ (कम/बेशी) छै बनिस्बत साइकिल सँ विद्यालय अबै बला बच्चा सभके संख्या के।

ङ. सँ विद्यालय अबै बला बच्चा सभके संख्या कम छै बनिस्बत _____ सँ अबै बला विद्यार्थी के। _____.

च. सँ विद्यालय अबै बला बच्चा सभके संख्या बेशी छै बनिस्बत _____ सँ अबै बला विद्यार्थी के। _____.








खेल जे हम सब खेलाइत छी।



आउ हम सब करी।

चित्र देखू आ सारणी भरू।

खेल	विद्यार्थी के संख्या
	
	
	
	
	

तालिका मे विद्यार्थीक संख्या देखैबाक लेल सारणी के उपयोग सँ चेहरा (😊) बनाउ।



क. _____ सभ सँ बेशी पसीनक खेल छै।

ख. _____ सभ सँ कम पसीनक खेल छै।

ग. पिठू बेशी पसीन कयल जाइत छैक _____ सँ।

घ. _____ फुटबॉल सँ बेशी पसीन कयल जाइत छैक ।



आउ करै छी।

क. अपन कक्षा मे चर्चा करू आ मित्र सभ सँ पुछियौन्ह जे हुनका सभ के कोन तरकारी सबसँ बेशी नीक लगैत छैन्हि। सारणी के पूरा करू।

पसंदीदा तरकारी

बच्चा के संख्या



ख. सारणी के पढ़ू आ रिक्त स्थानक पूर्ति करू।

- _____ सभ सँ बेसी पसीनक तरकारी छै।
- _____ सभ सँ कम पसीनक तरकारी छै।
- _____ बेसी पसीन कयल जाइत छैक _____ के बनिस्बत।
- _____ कम पसीन कयल जाइत छैक _____ के बनिस्बत।

ग. अपन मित्र सभ सँ हुनका परिवार मे रहय बला लोकक संख्या पुछियौन्ह। नीचां देल गेल सारणी के भरू।

- बेसी परिवार मे _____ लोक घर मे छै।

- एक घर मे रहय बला लोकक न्यूनतम संख्या _____ छै।

- 4 लोक बला परिवारक संख्या _____ छै।

- 4 सँ बेसी लोक बला परिवारक संख्या _____ छै।

संग रहय बला लोकक संख्या	कतेक परिवार
1 टा लोक	
2 टा लोक	
3 टा लोक	
4 टा लोक	
5 टा लोक	



परियोजना कार्य

आसपास रहय बला परिवार मे जाउ आ ओहि परिवारक संख्या पता करू जतय बाबा-बाबी संग रहैत छथिन्ह। सारणी के भरबा लेल सूचना के अभिलिखित करू।

संग रहय बला परिवार	दादा-दादी दुनू अथवा नाना-नानी दुनू	केवल दादी अथवा नानी	मात्र दादा अथवा नाना	दादा-दादी, नाना-नानी क्यो नहि
परिवारक संख्या				

अहाँ कतेक परिवारमे पता केलहुं ?

दादा-दादी अथवा नाना-नानी दुनू संग रहय बला परिवारक संख्या _____

कतेक परिवार मात्र दादा अथवा मित्र दादी संग रहैत छथि ? _____

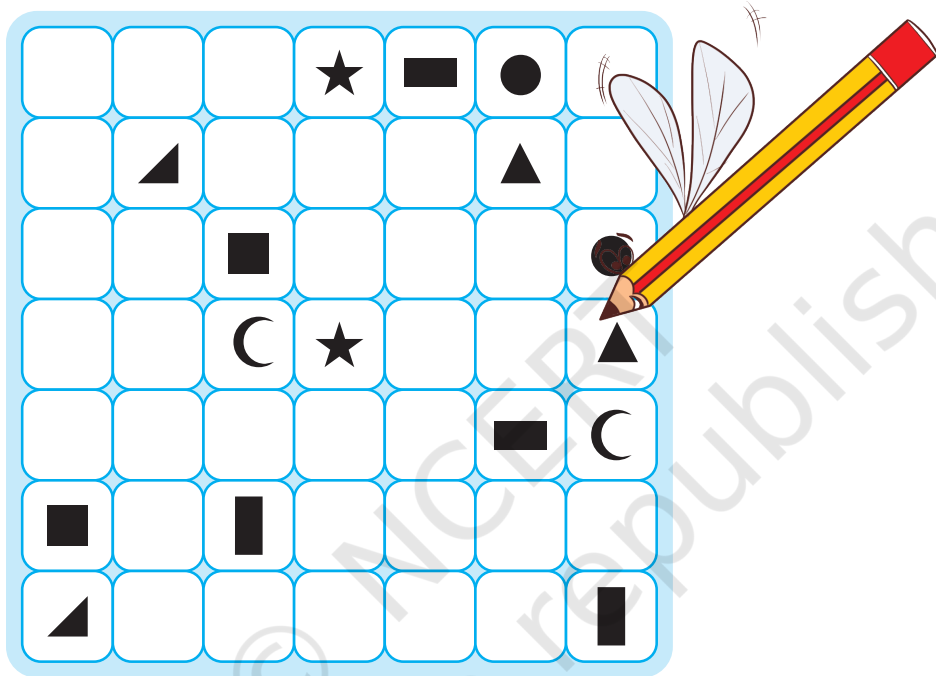
कतेक परिवार दादा-दादी अथवा नाना-नानी के बिना रहैत छथि ? _____

परिवार सब सऽ मुलाकातक पहिने, जे प्रश्न अहां हुनका सब सऽ पुछबा लेल जाइत छियैक, तकर चर्चा कक्षा मे बच्चा सब सऽ करू।

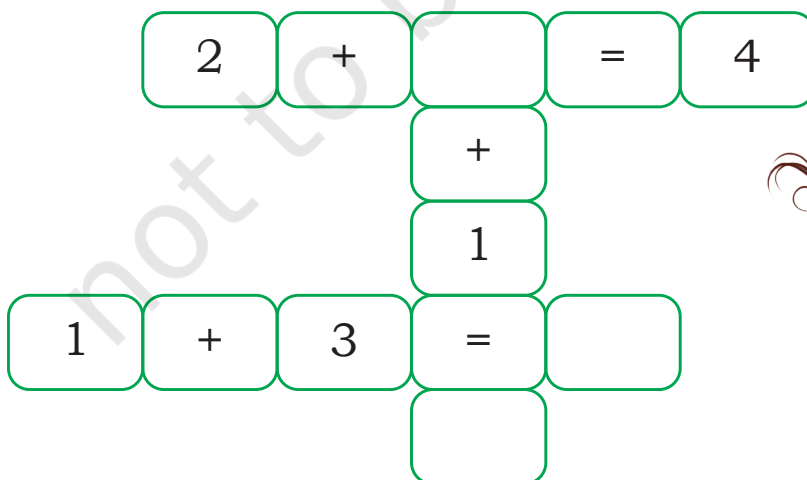




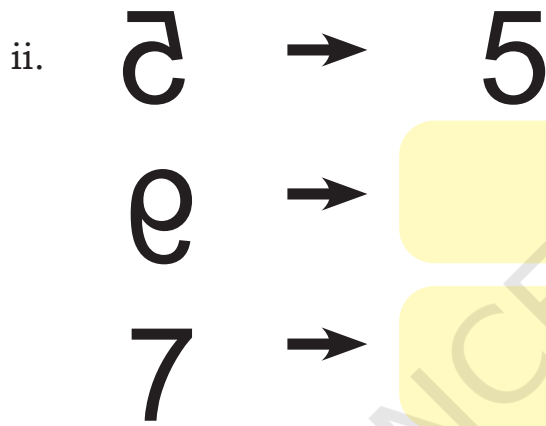
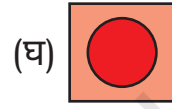
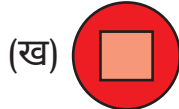
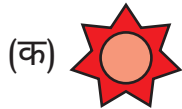
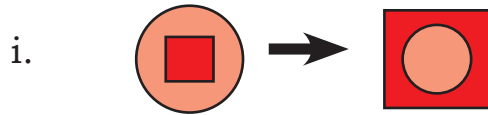
क. समान आकार के प्रत्येक युग्म के जोड़बा लेल रेखा बनाउ। रेखा एक दोसरा के पार नै करय विकर्ण रेखा के उपयोग नै करू।



ख. नमूना के पूरा करू।



ग. सोचू आ पूरा करू।



घ. संख्या के पता करू।

एकटा संख्या सोचू

ओहि संख्या के दुगुना करू


आठ जोड़ू

ओहि संख्या के आधा घटाउ

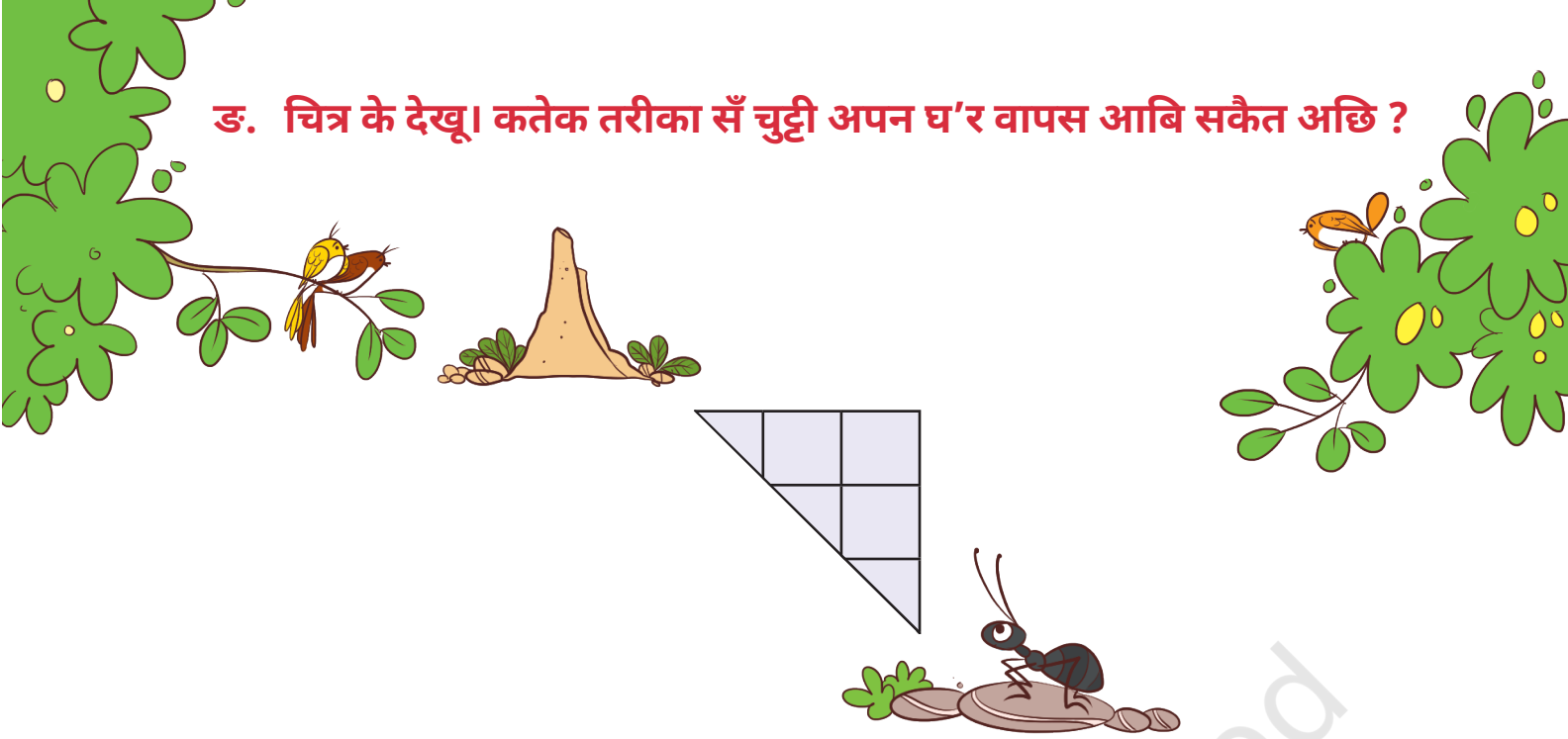
जाहि संख्या सऽ शुरू कयलहुं, तकरा घटाउ

की ओ संख्या 4 अछि ?

आब ई गणितक ट्रिक अपन मित्र सब संग खेलू।



ड. चित्र के देखू। कतेक तरीका सँ चुट्टी अपन घ'र वापस आबि सकैत अछि ?




च. नीचां तालिकाक अक्षर सभके मिला कए एगारह सऽ बीस धरिक संख्या लिखू ।

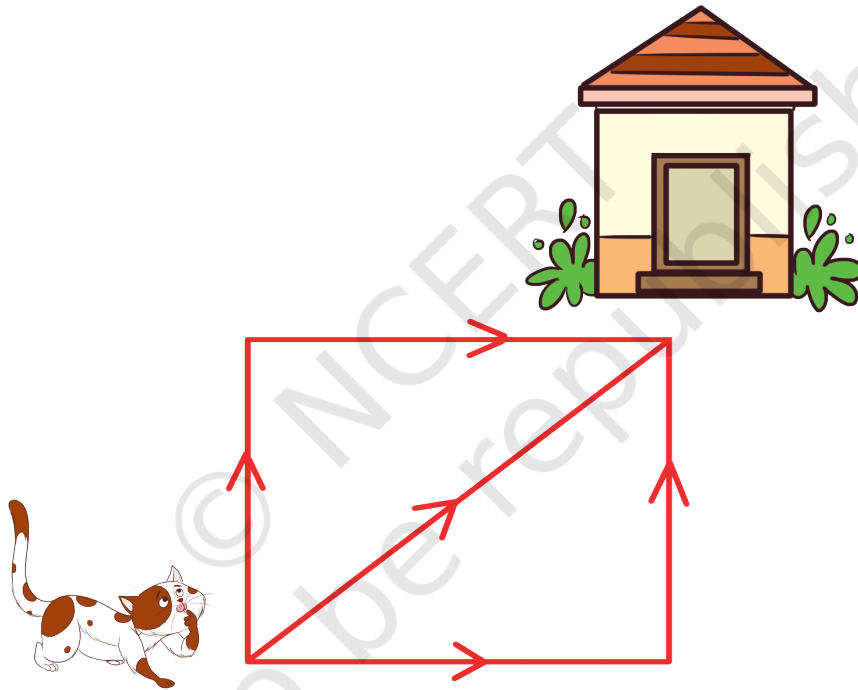
ए	चौ	द	ह	ए	चौ	द	ह	ते	गा	सो
ते	गा	ते	बा	ते	बा	उ	पं	द	र	स
उ	पं	द	र	सो	ल	ह	नै	सो	ल	ह
नै	सो	ल	ह	उ	पं	द	ते	ते	बा	ते
स	त	र	बी	पं	द	र	उ	पं	द	र
अ	ठा	नै	स	सो	ल	ह	ते	गा	ते	बा
ते	गा	ते	बा	नै	सो	ल	ह	उ	पं	सो
द	र	नै	सो	ल	ह	स	त	र	बी	अ
ठा	नै	स	ए	चौ	द	ह	ते	गा	ते	बा
उ	पं	द	र	नै	सो	ल	ह	ते	गा	ते



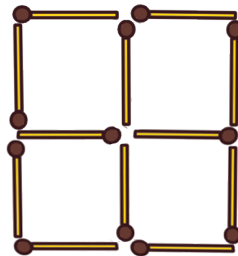
छ. उपयुक्त छाया चित्र के पहचान करू।



ज. कतेक तरीका सँ बिलाड़ि अपन घ'र वापस आबि सकैत अछि?



झ. दू टा दियासलाई के हटा क' दू टा वर्ग बनयबाक प्रयास करू।



ज. हम के छी ?

हम साइकिल मे छी,












आ कार मे आ बस मे

हम सब वाहन के चलबै छी

ओ नहि चलि सकैत छथि ,यदि हम छी समतल

की अछि,हमर आकार ?


ट. 30 बनयबाक लेल अहाँ कोन बॉल सभ के चुनबै ?

	+		+		= 30
					
					

ठ. एकाइ अंक के प्रयोग करैत ,दू अंकक दू टा भिन्न संख्या बनाउ।



ड. एकटा रस्ता बनाउ, जाहि सँ भूखल जिराफ गाछ तक पहुँच जाइ।



ढ. ऊपर देल गेल चित्र के देखू आ उत्तर लिखू।

- ओहि जानवर के नाम लिखू जकरा सँ रस्ता मे सभ सँ पहिने जिराफ के भेंट भेलै?


- ओहि जानवर के नाम लिखू जकरा सँ रस्ता मे सभ सँ अंत मे जिराफ के भेंट भेलै?

- की, अहाँ कहियो घ'रक रस्ता बिसरल छी ?

- अहाँ अपन घ'रक रस्ता याद राखबा लेल की करैत छी?

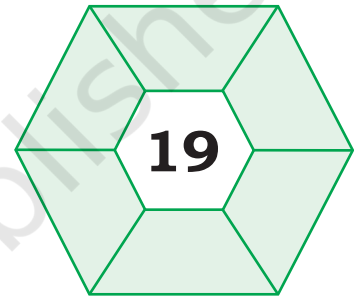
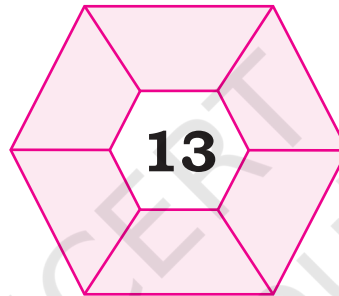
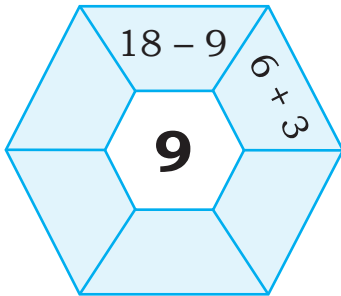


ण. नीचां देल गेल बिन्दु सभ के जोड़ला पर कतेक आयत बनि सकैत छै ?




संकेत: वर्ग सेहो एक तरहक आयत छै।

त. संख्या के जोड़ अथवा घटाव द्वारा एकरा पूरा करू।



थ. एकटा गड़ेड़िया ल'ग 4टा भेड़ आ 4 टा कुत्ता छै। बगीचा के 4 टा क्षेत्र मे एना बांटू कि प्रत्येक क्षेत्र मे एकटा गाछ, एकटा भेड़ आ एकटा कुत्ता रहय।



द. हम के छी ? (दर्पण अहाँक मदति क' सकैत अछि)

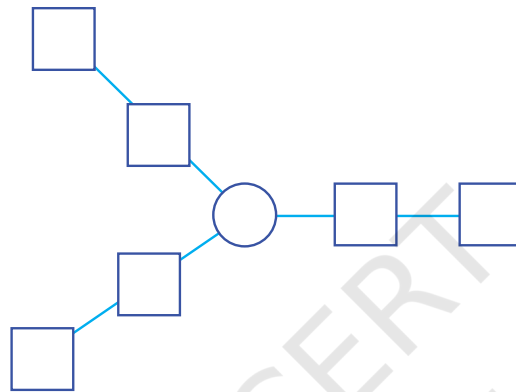
i. 42

ii. 88

iii. 99

iv. 17

न. संख्या 1 सँ 7 के अहाँ कोना व्यवस्थित करबै कि तीनू भुजा के योग बराबर होतैक?



प. आउ, हम सभ एकटा 6 मीटर लंबा कपड़ा के टुकड़ा में विभाजित करी। यदि सभ बेर 1 मीटर कपड़ा काटल जाइत छैक त' हमरा सभ के कतेक बेर एकरा काटबाक चाही ?

फ. हम एकटा संख्या सोचै छी आ ओकरा दुगुना क' दैत छियैक। यदि, हमर उत्तर 18 अछि त' संख्या की छलै ?

व. कएलकुलेटर के मात्र 10 टा बटन दबाक' 28 बनाउ।



© NCERT
not to be republished