

ڈاٹا ہینڈ لنگ

11

پسندیدہ رنگا



وُلو کرو

شکلہ کن وچھو۔ ٹیلبل کرو مکمل تہ غالی جایہ برو۔

رنگ	وول	سبز	نیول	لیڈر
پکن ہند تعداد				

- زیا پسند کرنے آمت رنگ چھ _____
- بہٹھے کم پسند کرنے آمت رنگ چھ _____
- لیڈر رنگ چھ _____ رنگہ کھوتہ زیا پسندوان کرنے۔
- رنگ چھ سبز رنگ کھوتہ زیا پسندوان کرنے۔
- رنگ چھ کم پسندوان کرنے۔ _____ رنگہ کھوتہ۔



سائلہ کہ دوہ

بچہ چھ اکھ موی پارٹی مناوان۔ تم چھ پنہن من پسند پوکھوان۔



ولو کرو




ٹیل کرو مکمل تہ غالی جایہ برو۔

				مو
				نچن ہند تعداد

- ا۔ شکلہ منہ کر تہ بچہ چھ؟
- ب۔ نچن ہند تعداد یمن ژونٹھی چھ خوش کران
- ج۔ زیاد پسند کر نہ آمت موچھ
- د۔ ٹھہے کم پسند کر نہ آمت میوہ چھ
- ه۔ نچن ہند تعداد یمن امرود چھ خوش کران چھ۔ تہن نچن ہند تعداد کھوتہ۔ (زیادہ کم / برابر) یمن ژونٹھی چھ خوش کران۔
- و۔ نچن ہند تعداد یمن ژونٹھی چھ خوش کران چھ۔ تہن نچن ہند تعداد کھوتہ۔ (زیادہ کم / برابر) یمن کیلچے خوش کران۔
- و۔ نچن ہند تعداد یمن۔ سنگتر چھ خوش کران چھ۔ تہن نچن ہند تعداد کھوتہ۔ (زیادہ کم / برابر) یمن کوی چھ خوش کران۔

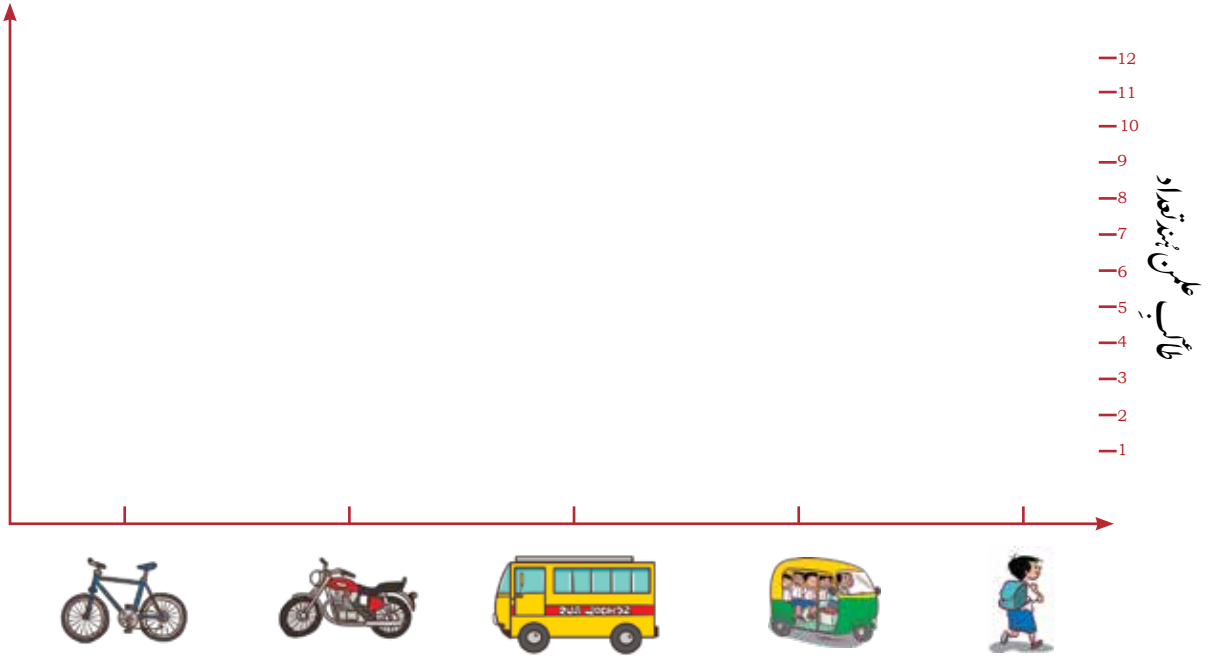


شکلہ پٹھ کر وکھتہ ٹیبل کریون پُر۔



پگن ہند تعداد	سکول گروہنک ذریعہ
8	

ٹیبلیک مطالعہ کرو تہ بنس چارٹس منز بناؤ و تہو (😊) تہ مختلف طریقو سکول گرہن والن طائب علمن ہند
تعدادیم ہاونہ۔ (1 طائب علم = 😊)
چارٹس کن وچھوتہ خانہ کروپر۔



- اکثر طائب علم چھ ذریعہ سکول یوان۔
- طائب علمن ہند کم تعداد چھ سکول بذریعہ یوان۔
- طائب علمن ہند تعداد یم گاڑی منز سکول چھ یوان چھ تہن طائب علمن ہند کھوتہ۔ (کم / زیادہ) یم آٹو گشاہک استعمال چھ کران۔
- طائب علمن ہند تعداد یم بائیکہ پٹھ چھ سکول یوان چھ تہن طائب علمن ہند کھوتہ۔ (کم / زیادہ) یم سائیکل استعمال چھ کران۔
- نچن ہند تعداد یم ہند ذریعہ سکول چھ یوان چھ کم تہن نچن ہند تعداد کھوتہ یم ہند ذریعہ سکول چھ یوان۔
- نچن ہند تعداد یم ہند ذریعہ سکول چھ یوان چھ زیادہ تہن نچن ہند تعداد کھوتہ یم ہند ذریعہ سکول چھ یوان۔



کھیلے ہم اُس گندان چھ۔

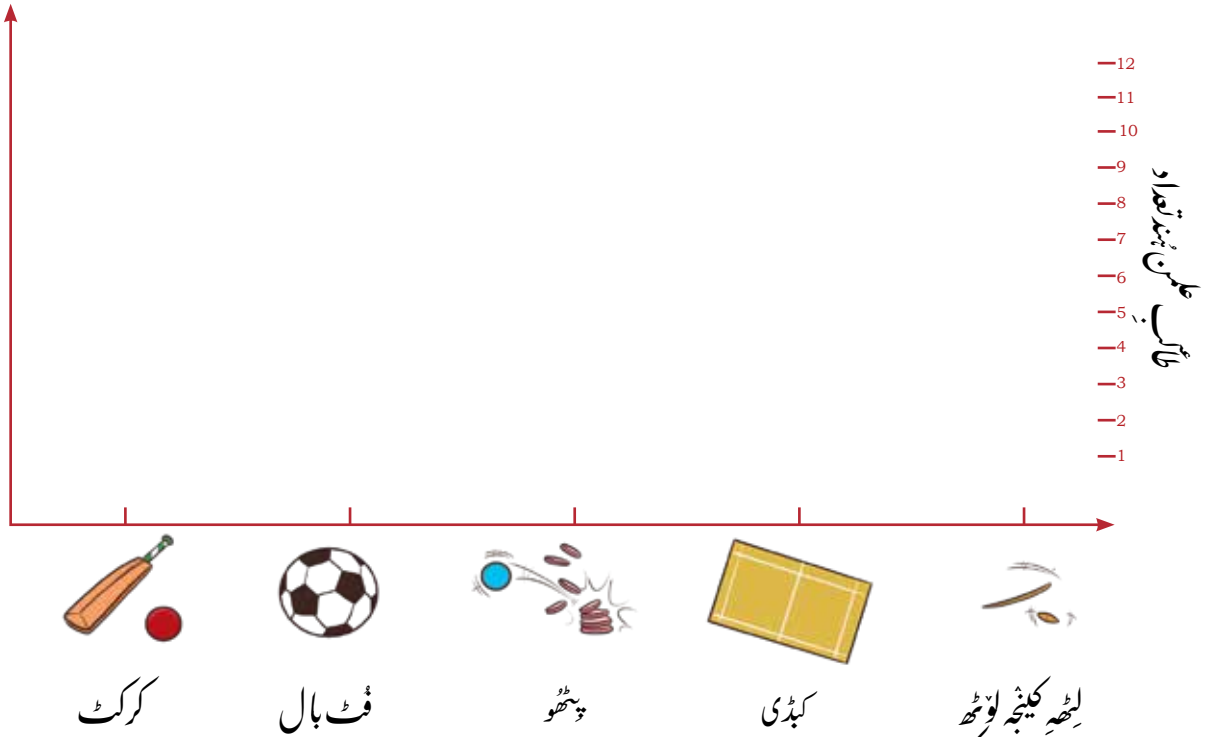


وَلَوْ كَرُو

شکل و چھوٹے ٹیبل کر ویز

کھیلے	ٹائپ علمن ہند تعداد

بچہ بناوئے باپتھ کرو ٹیبلک استعمال (😊) بیٹھ بنس چارٹس منز طاب علمن ہند تعداد ہا ونہ بیہ۔



- مٹھے پسندیدہ کھیل چھ۔
- سارے کھوتہ کم پسندیدہ کھیل چھ۔
- پٹھو چھوان کھوتہ زیادہ پسند کرنے۔
- چھ فٹ بالہ کھوتہ زیادہ پسندوان کرنے۔



- پنس کلاس منز کرو کتھ باتھ، پننن دوستن پڑھوز تمن کو سہ سبزی چھ زیادہ خوش کران۔
- ٹیبل کرو مکمل۔

				سبزی یوسہ تمن پسند چھ۔
				پنن ہند تعداد۔



ب۔ ٹیبل پُر و تہ خالی جاییہ کر و پُر۔

- 1۔ ٲٹھے پسندیدہ سبزی چھے۔
- 2۔ ساروے کھوتہ کم پسند کر نہ ینہ واجزی سبزی چھے۔
- 3۔ چھ زیادہ پسندوان کر نہ۔ کھوتہ۔
- 4۔ چھ کم پسندوان کر نہ۔ کھوتہ۔

ج۔ پننن دوستن پڑھو تہندن گر بائرن ہندس تعدادس متعلق۔ یونہ کنہ دینہ آمت ٹیبل بریوان۔

یکوٹے روزن واین بائرن ہند تعداد	کتیہ خاندان
1 بائر	
2 بائر	
3 بائر	
4 بائر	
5 بائر	

- 1۔ گرن منز چھ زیادہ تر خاندان منز بائر۔
- 2۔ گریتھ منز کم بائر چھ روزان چھ۔
- 3۔ 4 بائر وائی خاندان ہند تعداد چھ۔
- 4۔ خاندان ہند تعداد یمن منز 4 بائر و کھوتہ زیادہ بائر چھ روزان چھ۔




پننن ہمساین ہند گرو تہ معلوم کرو زکتی ہن چھ نانی بڈی بس پانس ٲتی روزان۔ ٹیبل پُر کر نہ باپتہ تھان ووزانکاری رڑھ تھ۔

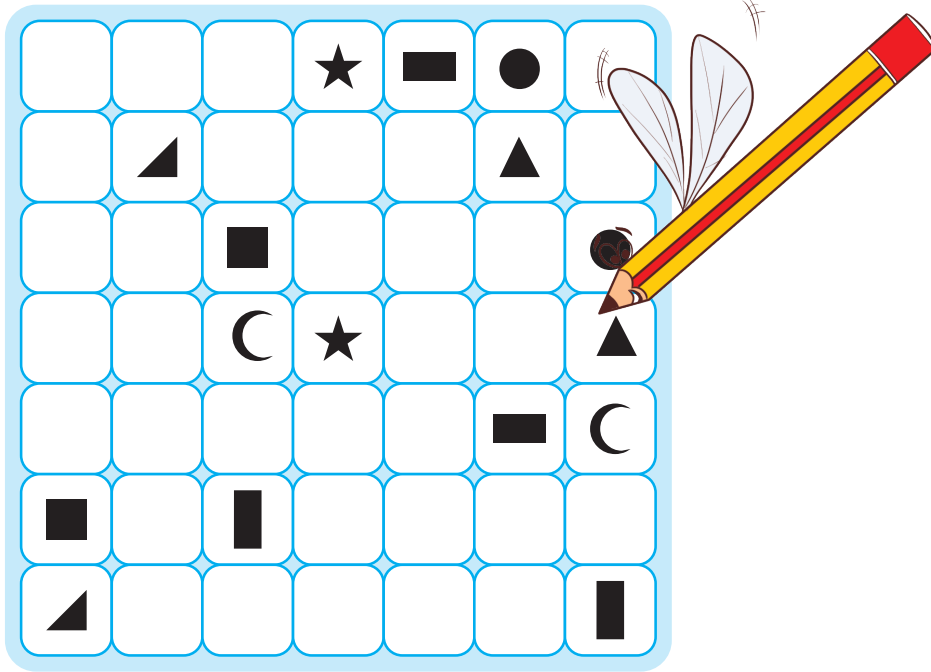
خاندان یمہ روزان چھ	دو شوئی نانی تہ بڈی بس ٲتی	صرف نانی ٲتی	صرف بڈی بس ٲتی	کانہہ نانی بڈی بس نہ
خاندان ہند تعداد				

- توبہ کون خاندان ہند دور کور؟
- خاندان ہند تعداد یم نانی بڈی بس ٲتی چھ روزان۔
- کرہ خاندان چھ اکے نانی یا بڈی بس ٲتی روزان؟
- کرہ خاندان چھ نانی بڈی بس ورآے روزان؟
- خاندان ہند دور کر نہ بزونہہ کرو گوڈ کلاس منز بحث ز شہی کم سوال پڑھو تھن۔

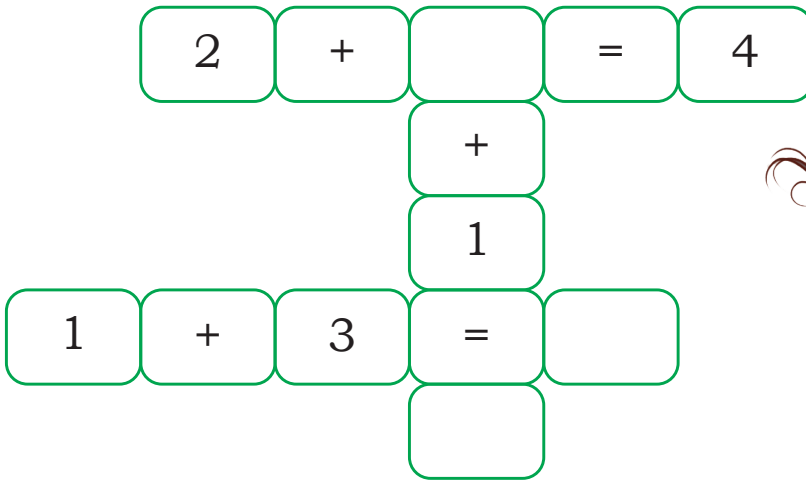




۱۔ ہستہ شکلیہ رلا ونہ باپتہ تڑاؤ و رکھہ۔ پکھہ گرہن نہ اکھ اُکس پٹھی پکنہ یا ٹچ کرنہ تہ وریبہ پکھن ہندا استعمال تہ چھنہ کرن۔

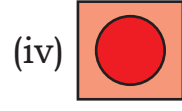
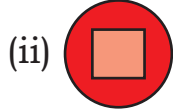
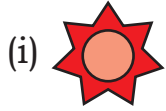
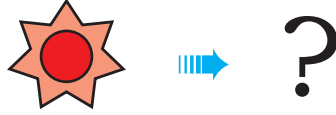


ب۔ نمونہ گر مکمل



ج۔ سوچو تہ مکمل کرو

A.



B.

2



5

9



?



?



د۔ نمبر کرو معلوم

نمبرس متعلق سوچو

تہ نمبرس کرو دو گنہ


اٹھ کریو س جمع

تمہ نمبرک نصف والوتہ

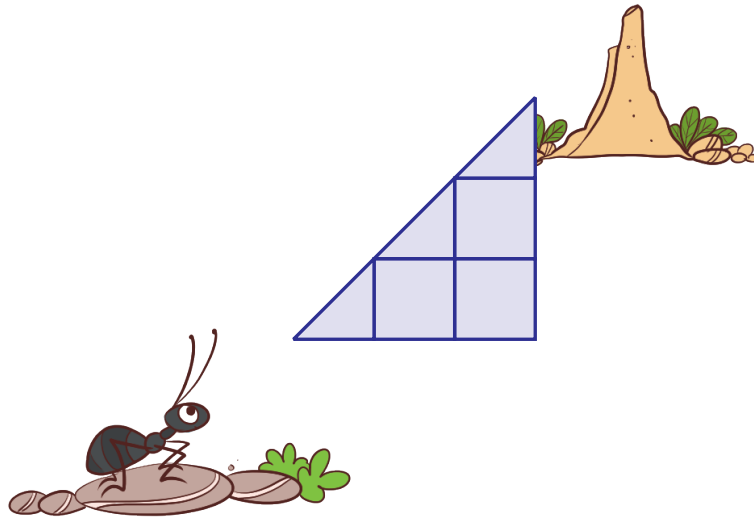
سہ نمبر والیو س یمہ ۷۷ توہہ شروع کو رو

یہ نمبر چھا 4؟

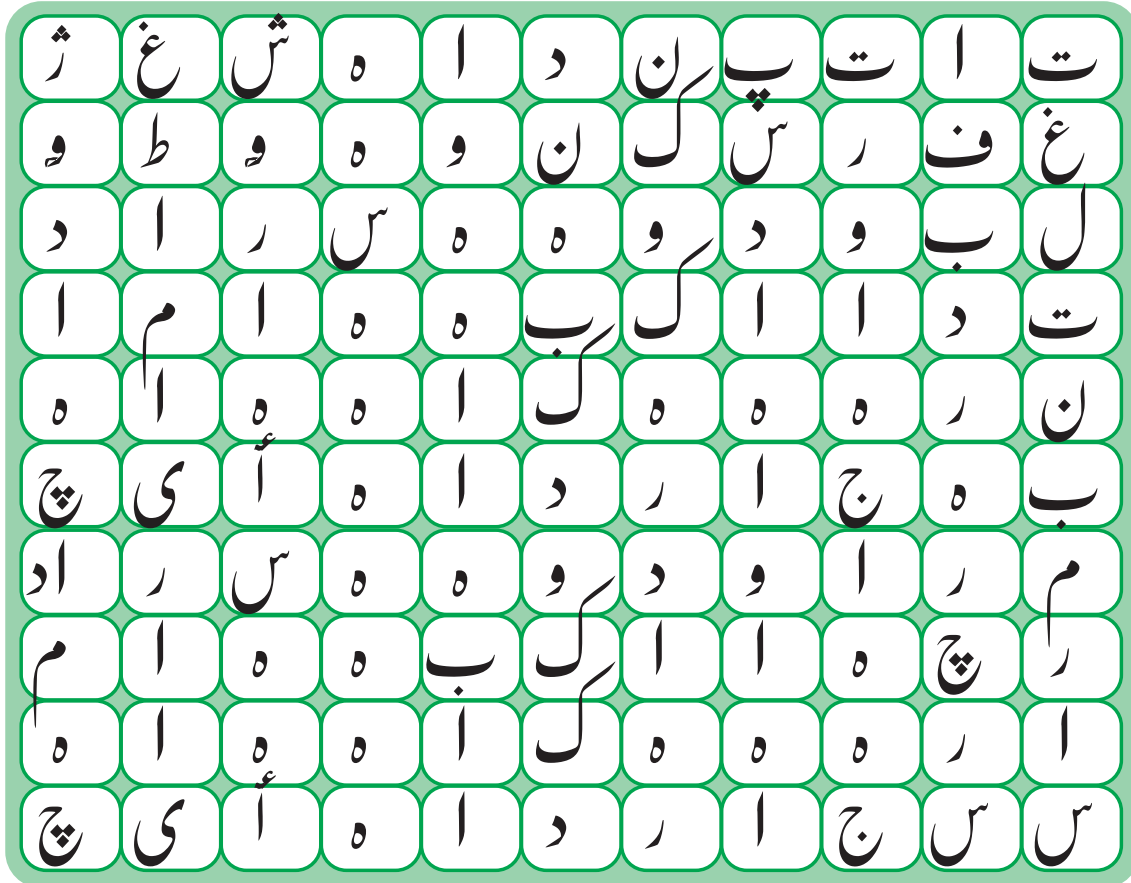
ووڑ گندو میہ حساب طر زینہن دوستن ۷۷



۵۔ شکلیہ کن وچھو۔ کتے ہو مختلف طریقو ہیکہ اکھریے پٹن گرواپس بیتھ (ریہ اول)؟



۶۔ 11 پٹھے 20 تام گرو نمبرنا وتلاش۔



ط۔ یہ کس چھس؟

یہ چھس سائیکلن پیٹھ،

تہ کارِ تہ بسہ منتر،

یہ چھسکھ سارے گاڑچلاوان،

تم ہیکن نہ پچھتہ اگر بہ چپٹل آسہ۔

میانِ شکل کر تھ چھے؟

ک۔ کل 30 بناونہ باپتھ کمن بالن ہندا انتخاب کرو تھی؟

$$\bigcirc = \bigcirc = \bigcirc = 30$$

1

4

5

7

9

11


13

15

ل۔ صرف اکہ عدد ک استعمال کر تھ بناؤ مختلف دوں عددن ہندی ز نمبر



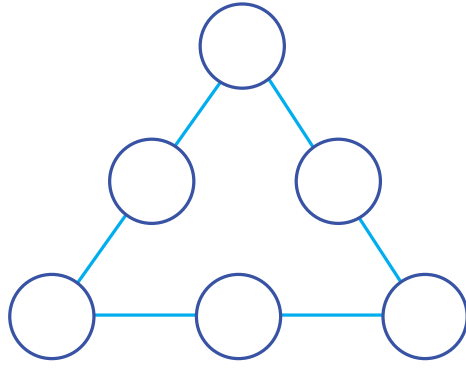
م۔ اکھوتہ پوڊ بناؤ ويٺه لوچھ هٻوت زراف کُل تام واٽه هيڪه۔



ن۔ هيرم شڪل وچھون ته جواب ليکھو۔

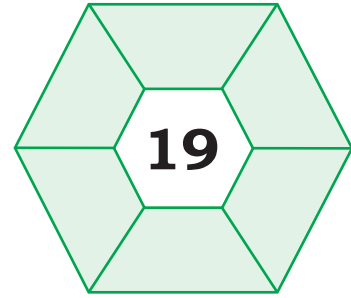
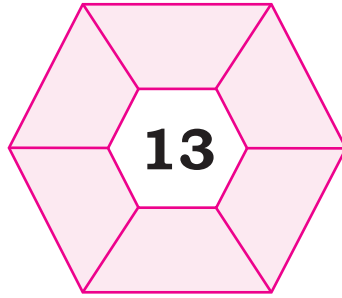
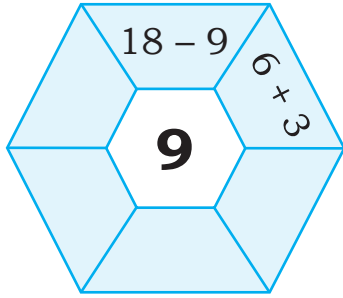
- 1۔ مَس جانور سندا وٺو مَس زراف وٽه پھڻ ڪوڏيٽھ سمڪھيو؟
- 2۔ مَس جانور سندا وٺو مَس زراف آخر سمڪھيو؟
- 3۔ توھه چھرا ٺهه ڪرڻ وٽھ راوڻ؟
- 4۔ پنھن ڪرڻ وٽھ ياد تھاونہ باپتھ ڪيا چھو شير ڪران؟

س۔ عِجم ڈاٹ رلاؤ تھ کر مستطیل ہیکن بناو یتھ؟




اشاء: مربع چھپانہ مستطیل کے اکھ قسم۔

ع۔ سیم کریو اکھ نمبرن جمع یا تفریق کہ ذریعہ پوڑ۔



ف۔ اُکس پھلس چھ 4 کھٹہ 4 ہوئی۔ باغ کریوُن 4 رو قبن منز تقسیم، یٹھیز تھ رو قبس منز اکھ گل، اکھ کھٹہ اکھ ہوُن روز۔



ص۔ یہ کس چھس؟ (اگھ اُنہ ہیکہ توہہ مدد کرتھ)

8 3

B.

2 4

A.

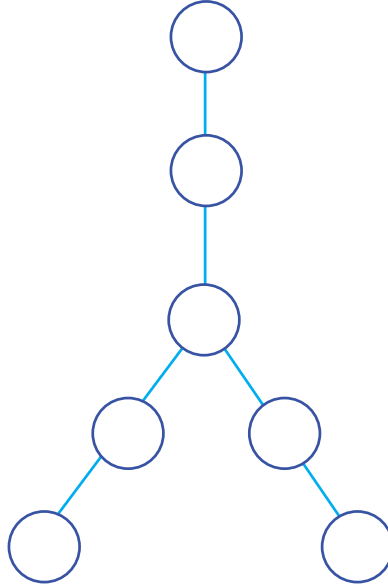
7 1

D.

6 9

C.

ق۔ مہر کتھ کئی ہیکو 1 پٹھ 7 نمبرن ترتیب دتھ تھ ترن ترن ہوئے ٹوٹل بنہ؟



ر۔ وُلواکھ 6 میٹر زیوٹھ کُپر کرون ٹکرن منز تقسیم۔ اگر پڑتھ ساتھ اکھ میٹر ژٹنہ آ، اسہ کُڑلٹہ پڑتیلہ یہ ژٹن؟

ش۔ مے سوچ اکھ نمبر تہ کور مس دوگنہ۔ اگر میوَن جواب چھ 81، تیلہ وُلوز نمبر کیا اوس؟

ت۔ 82 بنا ونہ باپتھ دباؤ وکلکولیٹرس پٹھ 01 بٹن۔

