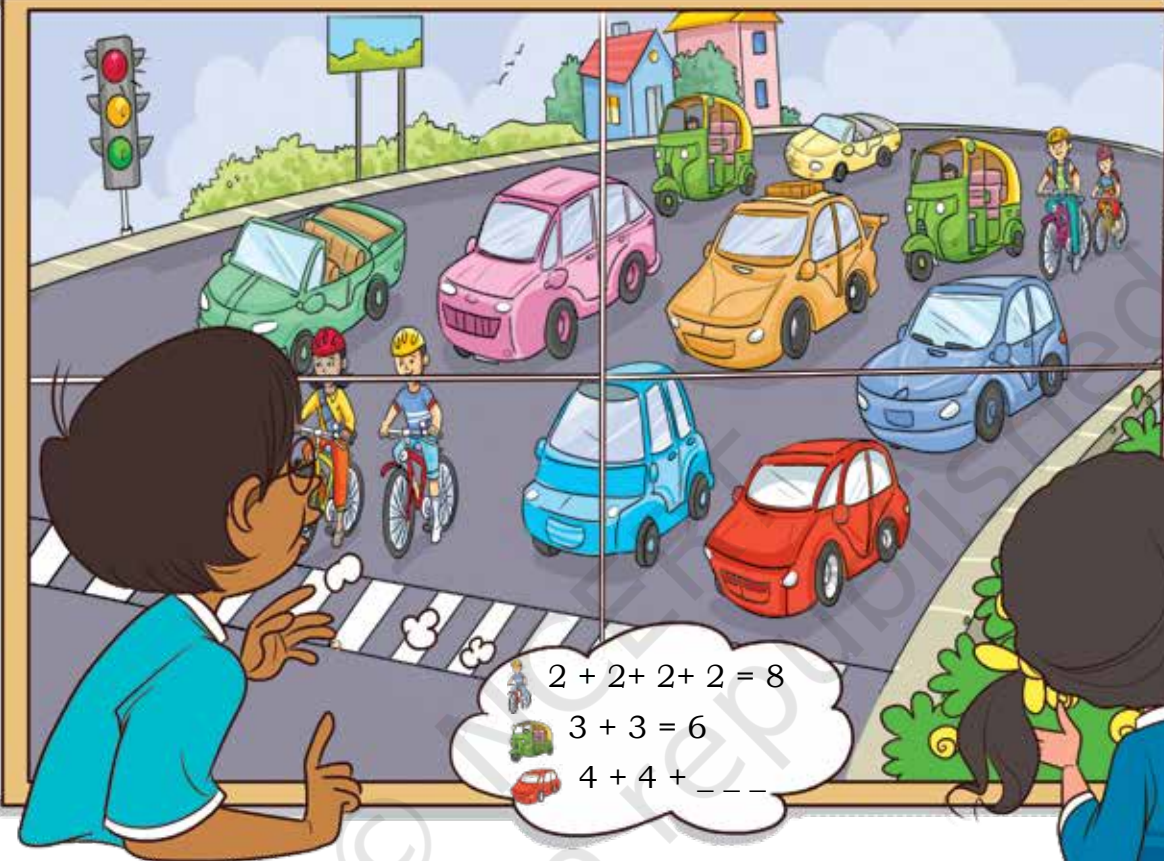


گڑوپ بندی تہ باگرن

8



$$2 + 2 + 2 + 2 = 8$$

$$3 + 3 = 6$$

$$4 + 4 + _ = _$$

ٹکیا چھکھ وچھان؟

یہ چھس آلوں تہ سائیکل ہندی ٹارگٹران جمع کرنہ موکھہ مگر
مے پیہہ کارا آتی تکیا زرمو لوگ پکرن۔

رامیا اٹے کتھہ کئی کورتھہ یہ؟
مہربانی کرتھہ ونکھنا مینہ؟

ٹھیک چھ! دولہ یہ ہا وے اٹے ٹارن ہند کل تعداد
معلوم کرنہ باہتھہ اکھ نوو طریقہ۔ یتن چھ 7 کارا تہ پرتھہ کار چھ 4
ٹار، لہذا ٹارن ہند کل تعداد چھ 7 گنہ 4، یعنی 28۔

ٹریفک قوانون ہند اس اہمیتس پٹھہ کرو پکرن۔



پتن چھ 4 سائیکل

پرتھ سائیکس چھ 2 ٹائر۔

کل ٹائر = $2+2+2+2=8$

اُسی چھ 4 لٹہ 2 جمع کران۔

تیلہ گوو، 4 لٹہ 2 تہ گوو 8 یا 2 دون ہندی 4 گروپ تہ گئی 8،
توہم چھالے، لٹہ / گنہ ہیکو اُسی مہ '×' نشانہ تہ لیکھتھ۔

$$4 \times 2 = 8$$

آلور کشن ہند تعداد = 2

پرتھ آلووس چھ 3 ٹائر

کل ٹائر = $3+3=6$

2 گنہ 3 گئی 6 یا 3

ہندی 2 گروپ گئی 6

$$2 \times 3 = 6$$

واہ! یہ چھ سہل۔ وُلو وونی
ورتا ون یہ یہ آلوون بابتھ۔



وُلویہ ورتا وو کارن بابتھتہ۔

کارن ہند تعداد =

پرتھ کار ہند ہن ٹائر ہند تعداد =

کل ٹائر = + + + + + +

=

گنہ 4 گوو

ہندی 7 گروپ گئی

$$\text{ } = \text{ } \times \text{ }$$

تہی کڈ ژور چھو جمع کران؟ اُسی ہیکون یہ بطور
7 ژور گنہ گئی 28 لیکھتھ۔





چھٹے پونہ ہند تعداد =

پڑتھا آکس چھٹے پونہ ہند تعداد =

پچھن ہند کل تعداد = + + =

یا 3 گروہن ہندی گئیہ

گنہ 2 گئیہ 6

3 ز ز گئیہ

= ×

آکٹوپہن ہند تعداد =

پڑتھا آکٹوپس زنگن ہند تعداد =


زنگن ہند کل تعداد = + =

2 گروپ ہندی

2 گنہ گئیہ 16

2 گنہ 8 گئیہ

= ×



لائن ہند تعداد =

پڑتھا لائنہ منہ پہن ہند تعداد =




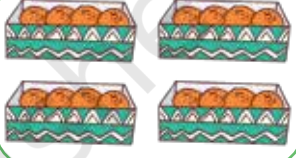


سپہن ہند کل تعداد = + + + =

گنہ گروہ 40

4 دہز گئیہ

= ×



$4 \times 3 = 12$ تارکھ	4 گنہ 3	$3 + 3 + 3 + 3$	
_____	_____	$5 + 5 + 5$	
_____	6 گنہ 3	_____	
$4 \times 4 = 16$ سنگر	_____	_____	
$2 \times 5 = 10$ پینسل	_____	_____	
$5 \times 3 = 15$ بالہ	_____	_____	

27

35

40

14

15

24

7 پزری گئی

4 گروپ 10 ہندس

3×9

3×8

2 ستہ گئی

5 گنہ 3

$9 + 9 + 9$

$5 + 5 + 5 + 5 + 5 + 5 + 5$

$3 + 3 + 3 + 3 + 3$











$10 + 10 + 10 + 10$

$8 + 8 + 8$











$7 + 7$



مکمل کرو 2 تک پہنچاؤ


$2 \times 1 = 2$	2 اونگڑ گیہ	
$2 \times 2 = 4$	2 دوونگڑ گیہ	
$2 \times 3 = 6$	2 تروونگڑ گیہ	
		
		
		
		
		
		
		

مکمل کرو 3 تک پہنچاؤ

$3 \times 1 = 3$	3 اونگڑ گیہ	
$3 \times 2 = 6$	3 دوونگڑ گیہ	
$3 \times 3 = 9$	3 تروونگڑ گیہ	
		
		
		
		
		
		
		



مکمل کرو 5 تک پہنچاؤ

$5 \times 1 = 5$	5 اونگڑ گیہ	
$5 \times 2 = 10$	5 دوونگڑ گیہ	
$5 \times 3 = 15$	5 تروونگڑ گیہ	
		
		
		
		
		
		
		

مکمل کرو 10 تک پہنچاؤ

$10 \times 1 = 10$	10 اونگڑ گیہ	
		
		
		
		
		
		
		
		
		

کتیاه؟



یہ 3 پوشہ گندی۔

4 پوشہ ہندی 3 پوشہ گندی

$$4 \times 3$$

گوپالن کری کلس منز 12 پوش استعمال۔



یہ 4 پوشہ گندی۔

3 پوشہ ہندی 4 گروپ

$$3 \times 4$$

رامن کری کلس منز 12 پوش استعمال۔

کیا تو ہم کو روانہ چیزک مشاید؟ کتھ باتھ کریو۔
پننس مشایدس کریو باقیو مثالوئی جانیج۔



4 ہندی 5 گروپ۔

_____ گنے 4 گنیہ

$$= 4 \times 5$$

یہ 4 پوشہ گلاب جامن۔

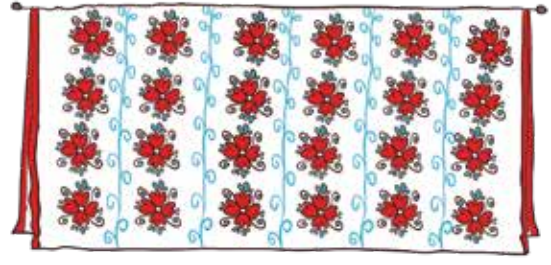

5 ہندی 4 گروپ

_____ گنے 4 گنیہ

$$= 5 \times 4$$

یہ 4 پوشہ گلاب جامن۔





6 ہندی 4 گروپ

_____ گنہ 6 گنہ _____

_____ = 6×4

یٹن چھ _____ پوش۔

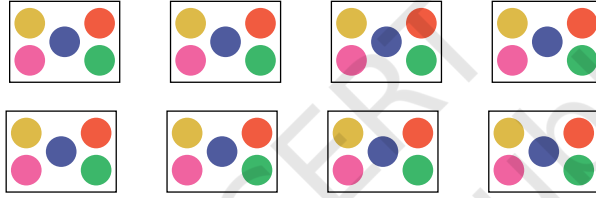
4 ہندی 6 گروپ

_____ گنہ 4 گنہ _____

_____ = 4×6

یٹن چھ _____ پوش۔

ا۔ یٹن چھ ہندی بن ہندی 8 پاکٹ۔ پڑتھ پاکٹس منز چھ 5 ہندی۔



پاکٹن ہندی تعداد = _____

پڑتھ پاکٹس منز ہندی بن ہندی تعداد = _____

_____ ہندی بن ہندی _____ گروپ۔

_____ ہندی = _____ \times _____

ب۔ بھارتی چھ پڑتھ کمیز 4 بٹن لاگان۔ سوچئے یڑھان 7 کمیز بن بٹن لاگئے۔

کمیز بن ہندی تعداد = _____

پڑتھ کمیز پڑتھ بٹن ہندی تعداد = _____

_____ بٹن ہندی _____ گروپ

_____ بٹن = _____ \times _____



ج۔ ریتا یہ 6 پینسل۔ پرتھ پینسل چھ 4 روپیہ۔ مس کتیاہ پوائنٹ چھ دوکاندارس ادا کرنی؟

پینسل ہندتعداد =

1 پینسل قیمتہ

6 پینسل ہند قیمتہ = $4 + 4 + 4 + 4 + 4 + 4$

= ×

تیلہ دیہ ریتا دوکاندارس روپیہ

د۔ اُس کار منز ہیکن پاڑھ نفر بہتہ۔ پڑھنے 8 کارن منز بکتر نفر ہیکن بہتہ؟

1 کار منز بہن والن نفرن ہندتعداد =

8 کارن منز بہن والن نفرن ہندتعداد =

= ×

نفریم 8 کارن منز ہیکن بہتہ۔

ضربک پہاڑ بناؤن

2 پہاڑک استعمال کرتھ چھ در 4 رک ضرب پہاڑ بناوان۔

20 18 16 14 12 10 8 6 4 2 (2 ہک پہاڑ)

20 18 16 14 12 10 8 6 4 2 +

40 36 32 28 24 20 16 12 8 4 (4 ہک پہاڑ)



یہ چھ د کچپ۔ ولو تیلہ بناوو کہ پہاڑ منز
6 ہک پہاڑ۔

میں 3 اور 4 کے پہاڑ سے 7 کا پہاڑ بننا
سکتا ہوں



30 (3 پہاڑ)	27	24	21	18	15	12	9	6	3	
40 (4 پہاڑ)	36	32	28	24	20	16	12	8	4	+
70 (7 پہاڑ)	63	56	49	42	35	28	21	14	7	

2 اور 6 کے پہاڑ سے 8 کا پہاڑ بنائیے۔

20 (2 پہاڑ)	18		14		10		4	2	
6 (6 پہاڑ)			48		36			6	+
8 (8 پہاڑ)	-	-	-	-	-	-	-	8	

پروجیکٹ کا نام



لوکٹی لوکٹی 24 چیز مثلاً لے بٹن، بوتل ٹھانڈ، کمنہ پھل بیتر کرو جمع یمن دیو مختلف ترتیب تہ پتہ لیکھو یہ ہندی باہمی ضرب
حقیقہ۔ یومنز کا حقیقہ ہیکو شہر معلوم کرتے۔ پتہ جواب کرو پتہ میں ٹیبل منزریکا رڈ۔

ضرب حقیقہ	گروپ ہند تعداد
3 × 4	4 ہندی 3 گروپ





نہ مہربانی کر تھمہ کر یہ! یہ تہ
چھس کھون یڑھان۔ وولہ یس
باگرا وولہ برابر

مگر کتھہ کنی؟

یہ چھس یڑھان یہ
کھیمہ بکھ یس ساری

واہ!

گلاب جامن۔

رٹھیا کھ 1۔ وونڑی 2 تے
تہ 2۔

یہ باگرا کھ یس 1 تہ 1 کڑتھ۔ وچھ 1
تہ 1۔

آہنہ بایا! یہ ہیکہ نہ وونڑی 4 گلاب جامن
کھیمس پیار تھ۔

4 تے، 4۔ وونڑی آہ یس مساوی
پاٹھی باگرا ونہ۔

3 گئی تے تہ 3 گئی
۔



ا۔ گل کتڑ گلاب جامن اُس؟


ب۔ تمباگراویا مساوی پائٹھی؟ آر نہ

ج۔ تمونہ کڑ گلاب جامن میلی پڑتھ اُس؟

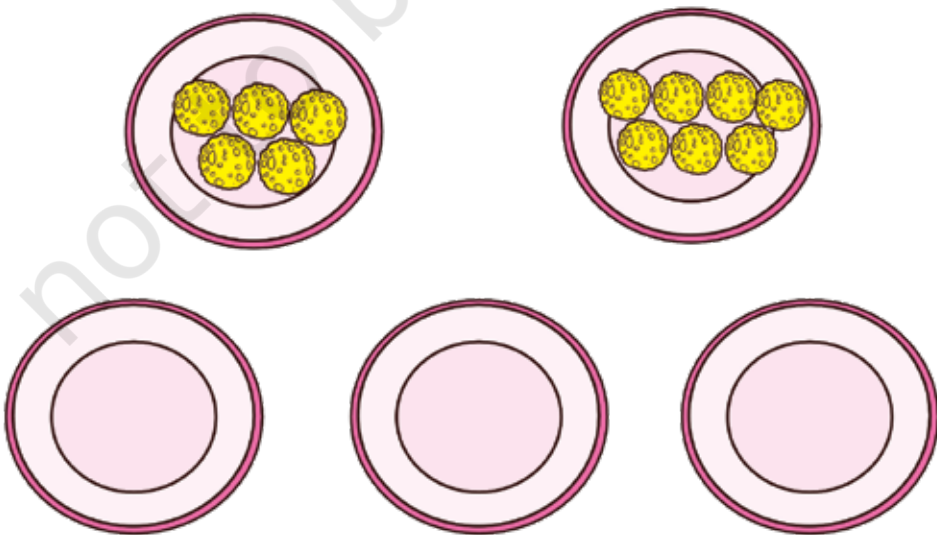
وَلو کرو



ا۔ ریٹو سُنڈ آرٹ تہ کرافٹ پروجیکٹ کرو مکمل۔ توہہ چھ 12 بندی یہ مساوی طور 2 آیس کریم کوئن منہر بطور گلاس ڈرا کر نہ۔



ب۔ پوجا ہس نیش چھڑ تھال۔ پڑتھ تھالس منہر چھ لڈو ون ہند مختلف تعداد۔ ٹس کرو مد دیٹھ سو 3 تھالن منہر لڈو مساوی طور باگراو۔ شہر ہیکو کھ لڈو بناوتھ تہ رنگتھ۔



کتیاہ گروپ؟

ہاے، یہ چھس گریا۔ مے نیش چھ 20 تارکھ
شکلہ ہندی موکھتہ تہ یہ کراکھ بازو بند بناونہ
باپتہ 5 موکھتہ استعمال۔



وچھو، 1 دستبند چھ تیار۔ کیا یہ چھنا
رنبہ ون؟



مے بناؤدی 2 بازو بند۔ وونی رودی 10 موکھتہ
باقی۔ ولو وچھو مزید کتہ ہیکو کھ اُس بناؤتھ۔



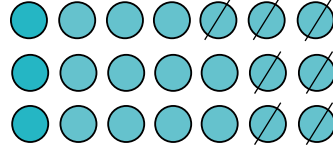
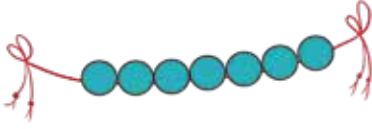
الائے! 3 بازو بند چھ تیار۔



چھیکرس گری مے ساری
موکھتہ استعمال۔




ا۔ اڪس مالہ منزچہ 7 موڪھتہ پھل۔



21 هو موڪھتہ پھلو ٿي کڙ مالہ ھيڪوڪھ اُسي بناو تھ؟


ب۔ پوش چھ 54۔ رلاو 9 پوش تہ بناو 1 بازوبند۔



54 هو پوشو ٿي کڙ بازوبند ھيڪوڪھ اُسي بناو تھ؟

ج۔ گلاب چھ 25۔ پاڙھ 5 گلاب ھيڪوڪھ 1 گل ۾نز تھو تھ۔ 25 پوش تھاونہ باپتھ ڪٿي ھن گلن ۾نز چھ


ضرورت؟



گلن ۾نز چھ ضرورت



د۔ شمع چھ 27۔ سیم تھآویکھ مسآوی طور 3 ڈبن منہ پڑتھ ڈبس منہ کچھ شمع مین؟




شمع آسن پڑتھ ڈبس منہ۔

ہ۔ اگر پٹرن لاگر آکس کمیز 6 بٹن۔ پٹن چھ 30 بٹن۔



سیم 30 بٹن ہییکہ پٹرن لاگتھ۔

و۔ 24 کیلہ باگر آویکھ مسآوی طور 3 پٹرن منہ۔



پڑتھ پٹرنس میلن کیلہ۔

