


مَالِہٖ بایٲٲہ سجاوٹھ

6




جشنِہٖ بایٲٲہ سجاوٹھ

جشنِہٖ تہٖ گر سجاوٹھ بایٲٲہ چھ روہن تہٖ تہٖ سُنْدِہٖن دوسْتَن پو شہٖ مالن ہنز ضرورت۔ پڑتھ اُکس
چھ 10 پوش۔ ہیر کنبہ۔ چہ شکلہ ہندِ مدتہ تہٖ کر و دِنہٖ اُمْت عیبل مکمل۔

ہندِ کُل تعداد	ہندِ تعداد	ہندِ تعداد	ناو
$10 + 2 = 12$	2	1	روہن
$30 + 7 = 37$	7	3	سمرن
$40 + 8 = 48$	8	4	اکاش
$50 + 3 = 53$		5	سوالی
			جاوید
			زویا

روہن تہ سؤالی گڑ پو ش گڑی کیوٹے استعمال؟



مے چھ
(2+10=12) پو ش

مے چھ
(3+50=53) پو ش

$$10 + 2 = 12$$

1  2 

روہن انی

$$50 + 3 = 53$$

5  3 

سؤالی انی

$$60 + 5 = 65$$

6  5 

سؤالی تہ روہن انی کیوٹے

$$\begin{array}{r} 12 \\ + 53 \\ \hline 65 \end{array}$$

$$\begin{array}{r} 12 \\ + 53 \\ \hline 65 \end{array}$$


$$\begin{array}{r} 12 \\ + 53 \\ \hline \end{array}$$

واہ! اسہ دوشونی

چھ 65 پو ش



زوہاتہ جاوید نہ دسی کل کرپوش گیہ استعمال؟



$$20 + 0 = 20$$



روہایہ انی

$$40 + 3 = 43$$



جاویدن انی

$$60 + 3 = 63$$



زوہایہ تہ جاویدن انی کیوٹے

$$\begin{array}{r} 43 \\ + 20 \\ \hline \end{array}$$

$$\begin{array}{r} 43 \\ + 20 \\ \hline \end{array}$$

$$\begin{array}{r} 43 \\ + 20 \\ \hline \end{array}$$

زوہاتہ آکاش نہ ذریعہ استعمال سپدی متین کل پوشن ہند تعداد کیا چھ؟

$$20 + 0 = 20$$



زوہایہ انی

آکاش انی

زوہایہ تہ آکاشن انی کیوٹے

$$\begin{array}{r} 48 \\ + 20 \\ \hline \end{array}$$



روہان تہ سمرن نہ دسی استعمال سپہ یتین پوشن ہند کل تعداد چھ؟


		سمرن انی
		روہان تہ سمرن انی یکوٹے
		روہان تہ سمرن انی



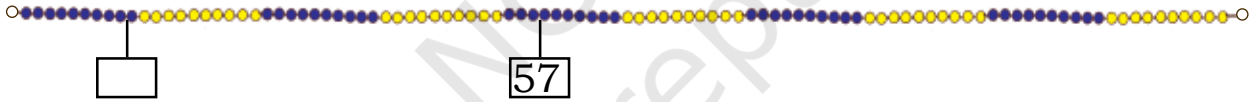
گنزدو 12 بطرف 25۔

ولویہ کرونگنلیڈی پٹھ

a. $\square = 12 + 25$



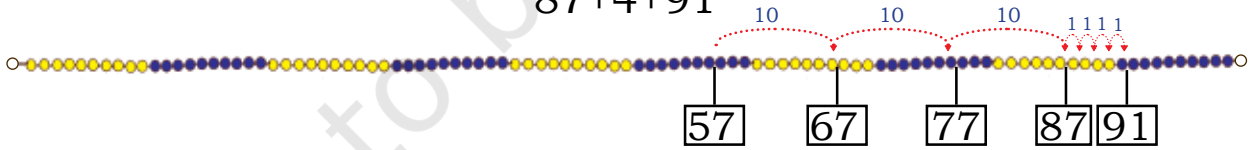
b. $\square = 34 + 57$



ولویہ سمجھون یمہ طریقہ۔

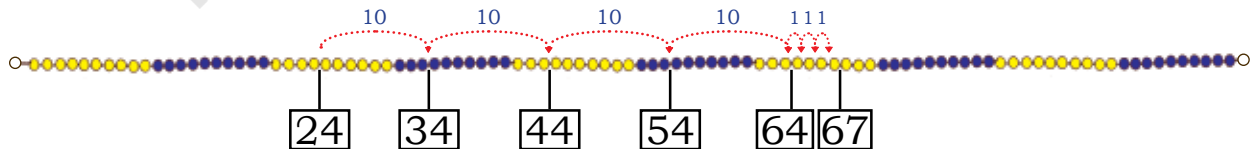
$57 + 34 = 57 + 30 + 4$

$87 + 4 + 91$



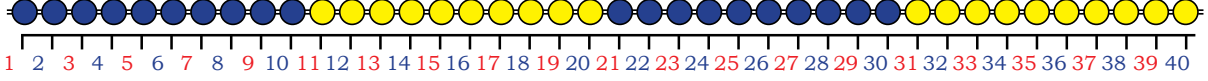
c. $\square = 43 + 24$

اسی ہی کو $3 + 40 + 24 = 3 + 64 = 67$ لیکھت



اسی ہیکون نمبر 34 بدل پاٹھی تہ لیکھت: $20+20+3$

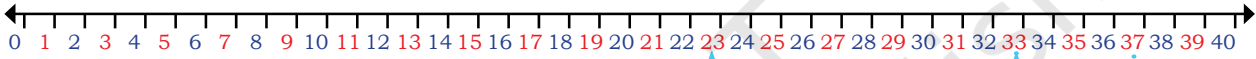
پڑتھ ساتھ گن لیڈی ہندی پھل گڑاؤنی چھ مشکل۔
مے دیل پھلن ہنز جایہ نمبر لیکھن۔



یہ چھس بیتھ نمبر لائن ونان۔

وڈی کرو نمبر لائن پٹھ نمبر جمع۔

a. $23 + 14 = 37$



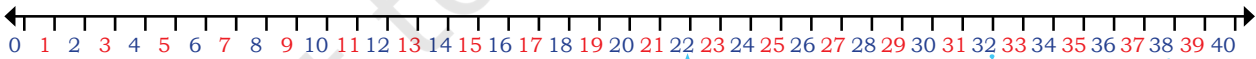
b. $24 + 16 =$



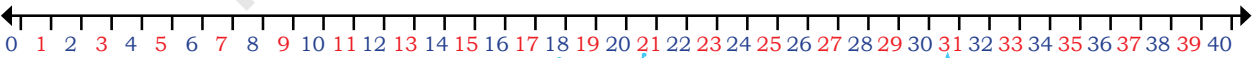
c. $11 + 22 =$



نمبر لائن پڑوتہ ڈبہ کرو پڑ۔

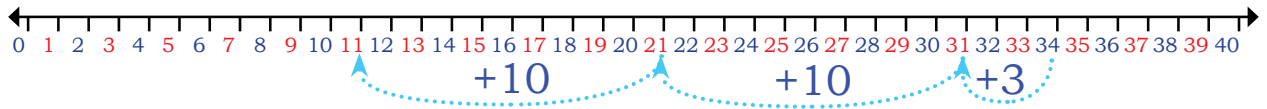


a. $22 +$ $= 38$



b. $18 +$ $=$





c.

$$\square + \square = \square$$

یمن نمبرن گرو جمع

$$\begin{array}{r} 52 \\ + 30 \\ \hline \end{array}$$

$$\begin{array}{r} 60 \\ + 25 \\ \hline \end{array}$$

$$\begin{array}{r} 56 \\ + 23 \\ \hline \end{array}$$

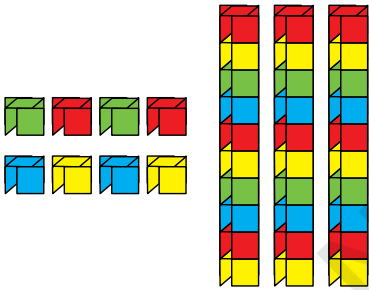
$$\begin{array}{r} 44 \\ + 23 \\ \hline \end{array}$$

بلاکن ۽ ٽي گنڊن

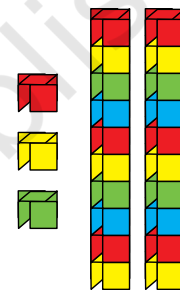
ماهي ڇهه کينه بلاڪ - ايشا ٽي آيه پني بلاڪ ٻه گنڊن - وٽمن ڪروگل بلاڪ گھراونس منڊند.

ايشا ٻه هندي بلاڪ

ماهي هندي بلاڪ



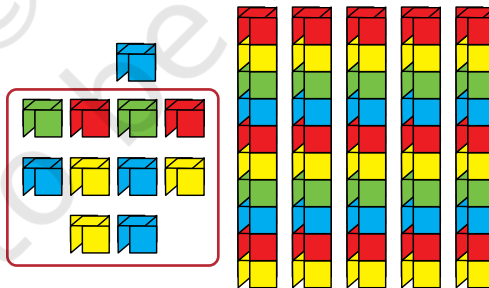
3 ڏهن 8 اکائي




2 ڏهن 3 اکائي



+




5 ڏهن 11 اکائي




6 ڏهن 1 اکائي



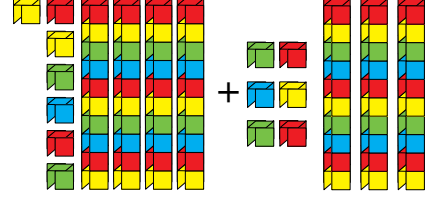
وُلوکل بلاکن ہندتعدادرہانڈو۔



$$80 + 3 = 83$$

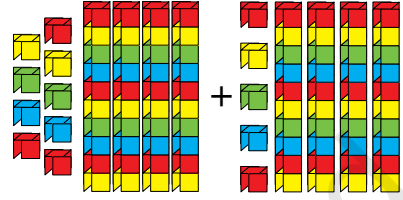


13 دہتر
1 اکائی




4 دہتر
7 اکائی

3 دہتر
6 اکائی



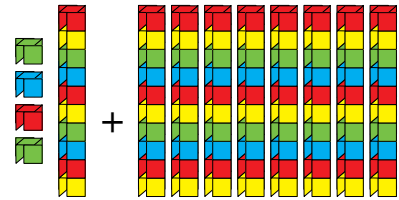
6 دہتر
9 اکائی

6 دہتر
5 اکائی



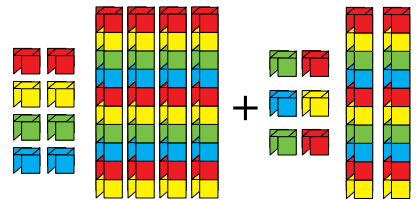
3 دہتر
2 اکائی

5 دہتر
8 اکائی



1 دہتر
4 اکائی

8 دہتر



4 دہتر
8 اکائی

2 دہتر
6 اکائی





ماہی ژے چھیا خبر! اسی ہیلو کہ
ساری ہلاک گھرنہ وراے پھری پھری جمع کرتھ؟

اوہ پزی ہا، اپشا! ژہیلکہ
کھائے ہاوتھ کتھ پائٹھ؟

دین جمع کرتھ

$$\begin{array}{r} \text{T O} \\ 36 \\ + 47 \\ \hline 83 \end{array} \quad (3 + 4 + 1 = 8) \quad \xrightarrow{\text{دہز 8}} \begin{array}{r} \text{T O} \\ 36 \\ + 47 \\ \hline 3 \end{array}$$

دین ہند تبادلہ کرتھ

اکائیہ جمع کرتھ

$$\begin{array}{r} \text{T O} \\ 36 \\ + 47 \\ \hline \end{array} \quad (6 + 7 = 13) \quad \xrightarrow{\text{ادین تہ 3 اکائی}} \begin{array}{r} \text{T O} \\ 36 \\ + 47 \\ \hline \end{array}$$

جمع

$$\begin{array}{r} 45 \\ + 35 \\ \hline \end{array} \quad \begin{array}{r} 30 \\ + 58 \\ \hline \end{array} \quad \begin{array}{r} 36 \\ + 8 \\ \hline \end{array} \quad \begin{array}{r} 56 \\ + 19 \\ \hline \end{array} \quad \begin{array}{r} 46 \\ + 39 \\ \hline \end{array}$$



الف رحیم بناؤ 43 رنہ اکس میچس منزہ 58 رنہ بیس میچس منزہ تمی کر رنہ بناو
دو شطنی میچن منزیکوٹے؟



ب۔ سمرپریٹس  چھ 12 رنگہ پینسل  - مہ سبز ماجہ دتی مٹس مزیدہ 36 رنگہ پینسل بطور تحفہ۔ ووڈی

کڑ رنگہ پینسل چھ تمس نش کل؟

ج۔ حنا یہ  لڑی 34 ووڈرل  بانٹہ تہ 57 نیلی  بانٹہ جمع۔ ووڈی کڑ بانٹہ چھ تمس نش

کل؟

د۔ سار کاہن  خرچاوی مٹس منز 56 روپیہ بیلیہ زن منیشن خرچاوی مٹس منز 35 روپیہ۔ تمو

دو شوے کوتاہ رقم خرچہ و مٹس منز کل؟

ه۔ اگس گاڑ منز چھ  36 مرد  تہ 47 زنہ ۔ کل کتیاہ لوکھ چھ گاڑ منز؟

ولوڑا نگو گزراو

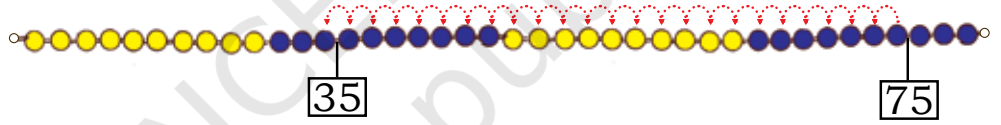


مے دیو گزراو نہ زکڑ ژا نگو رودی باقی؟
1, 2, 3...



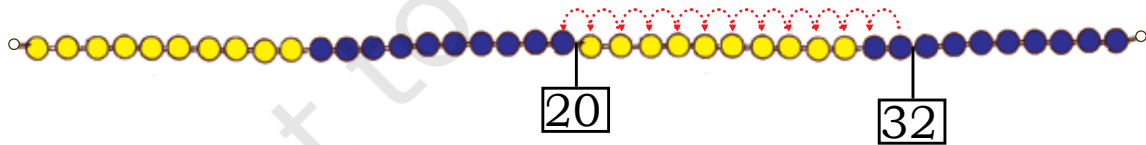
مے بناؤی اگس دوہس منز 75 ژا نگو
تہ امہ منز گنم 35۔





تمیک مطلب گوواگر 75 منہ 35 کڈو کھ، تیلہ آسہ جواب 40۔

$$75 - 35 = 40$$



یہیلہ 32 منہ 12 کڈو کھ نہرتہ روزن 20 باقی۔

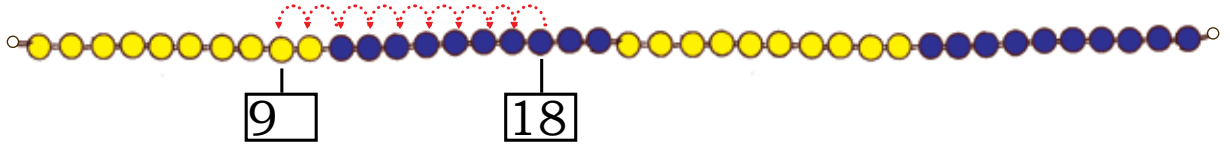
$$32 - 12 = 20$$



اُسی ہیکلو نوے کنہ دینہ آیتن ہند جواب گن لیڈی پھٹتہ معلوم۔

$18 - 9 =$

18 ہن والو 9



$12 - 8 =$

12 ہن والو 8



$30 - 18 =$

30 ہن والو 18



$23 - 14 =$

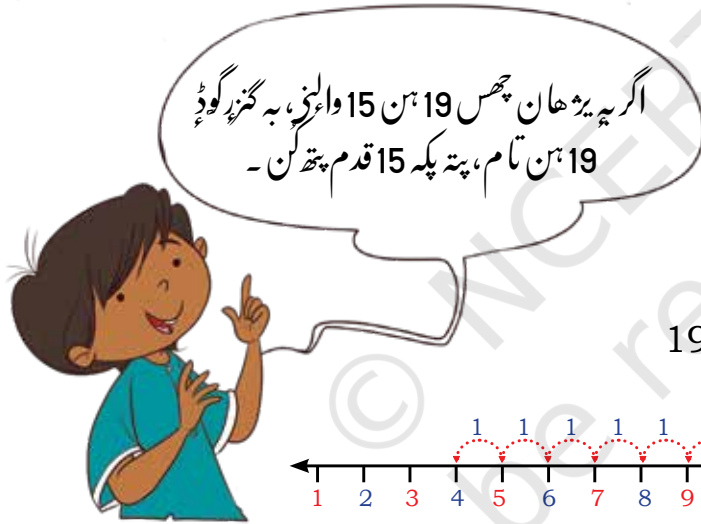
23 ہن والو 14



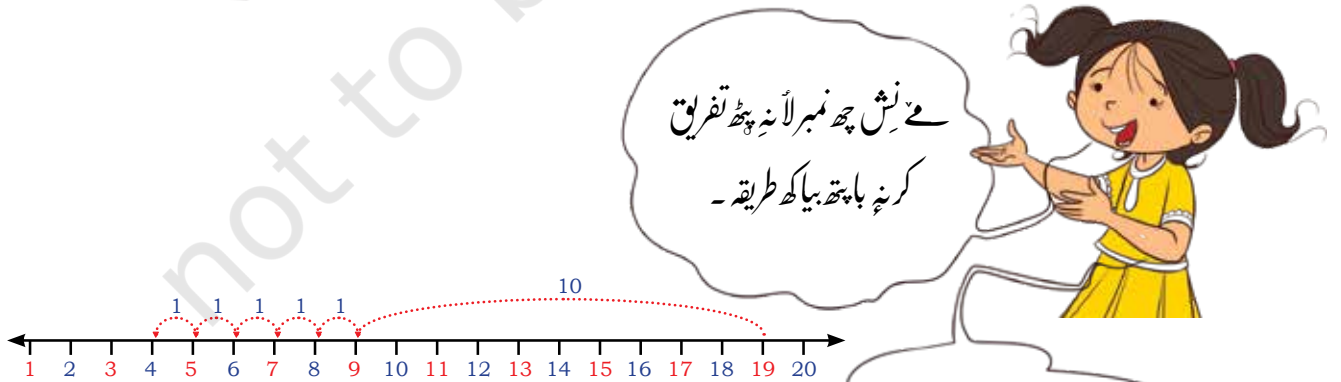
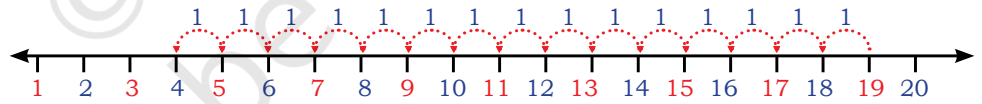
$26 - 17 =$

26 ہن والو 17





$$19 - 15 = 4$$



مے نش چھ نمبر لائے پھٹ تفریق
کرنہ باپتہ بیا کھ طریقہ۔

اس ہنکو سیوڈے 10 قدم پتھ کن ووٹھ دتھ
پتہ گڑھو بیہ 5 قدم پتھ تہ واتو 4 پھٹ۔



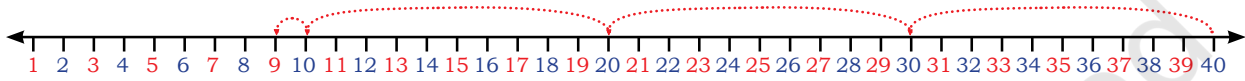
وَلَوْ نَمْبِرُ لَأَنبِطُوهَا مَشَقَّ -
نَمْبِرُ لَأَنبِطُوهَا مَشَقَّ تَهْ دِيَهْ كَرِيهْ كَرِيهْ -



a. $26 - \boxed{} = \boxed{}$



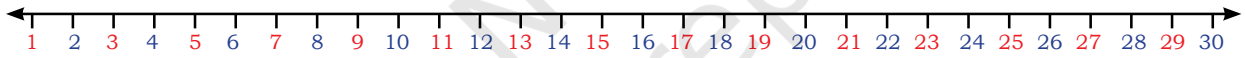
b. $39 - 28 = \boxed{}$



c. $\boxed{} - \boxed{} = \boxed{}$



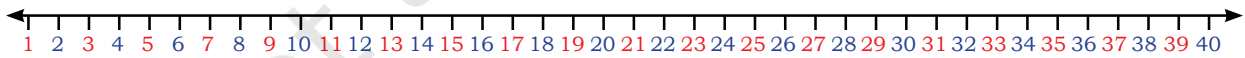
d. $38 - 27 = \boxed{}$



e. $22 - 22 = \boxed{}$



f. $14 - 0 = \boxed{}$



g. $35 - 12 = \boxed{}$

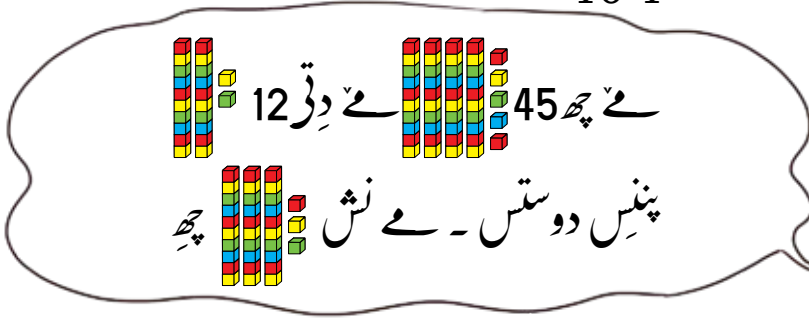
بچن ٽي ڪرو صفر وائس ته پائي پائس نمبر وائس متعلق ڪهه - شهر ٻيڪور روزمره زندگي ٻه ٻه صورت حالو ٽي مثال ڏيکارڻ مثالي
ساري پوئس خرابو ٿي ٻي پوئس خرابو ٿي ٻي پوئس خرابو ٿي -





10 1

بلاکن سے گندن



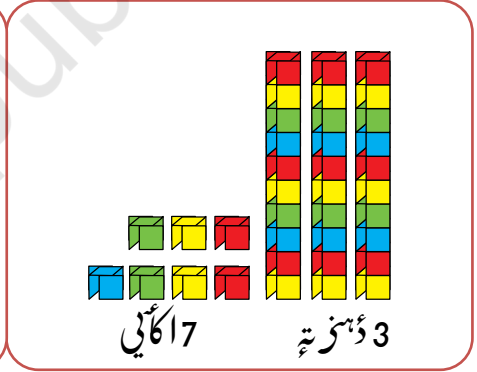
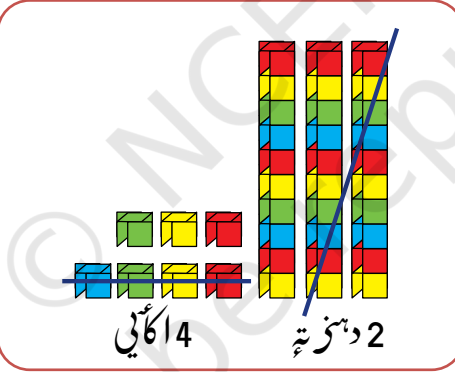
$$\begin{array}{r} \text{T O} \\ 45 \\ - 12 \\ \hline 33 \end{array}$$

$$\begin{array}{r} \text{T O} \\ 45 \\ - 12 \\ \hline 3 \end{array}$$

$$\begin{array}{r} \text{T O} \\ 45 \\ - 12 \\ \hline \end{array}$$

پیٹھ کر 24 تفریق 37

$$\begin{array}{r} \text{T O} \\ 37 \\ - 24 \\ \hline \end{array}$$



و لو کرو

$$\begin{array}{r} 46 \\ - 34 \\ \hline \end{array}$$

$$\begin{array}{r} 32 \\ - 12 \\ \hline \end{array}$$

$$\begin{array}{r} 54 \\ - 31 \\ \hline \end{array}$$

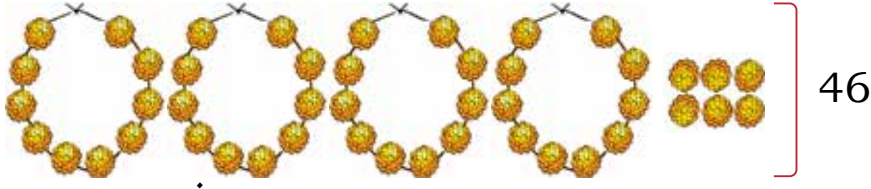
$$\begin{array}{r} 24 \\ - 13 \\ \hline \end{array}$$

ا۔ شکھا س چھ 82 روپیہ۔ ٹمرا 22 بن روپین پنسل۔ ٹمس نش کوتاہ پونسہ پچو؟

ب۔ روبا چھ 60 روپیہ۔ ٹمرا 20 روپین اکھ کاپی۔ ٹمس نش کوتاہ پونسہ پچو؟

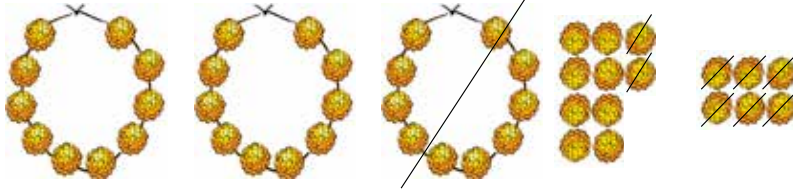






18 دَنی

46



$$\begin{array}{r} \text{T} \quad \text{O} \\ 46 \\ - 18 \\ \hline 28 \end{array}$$

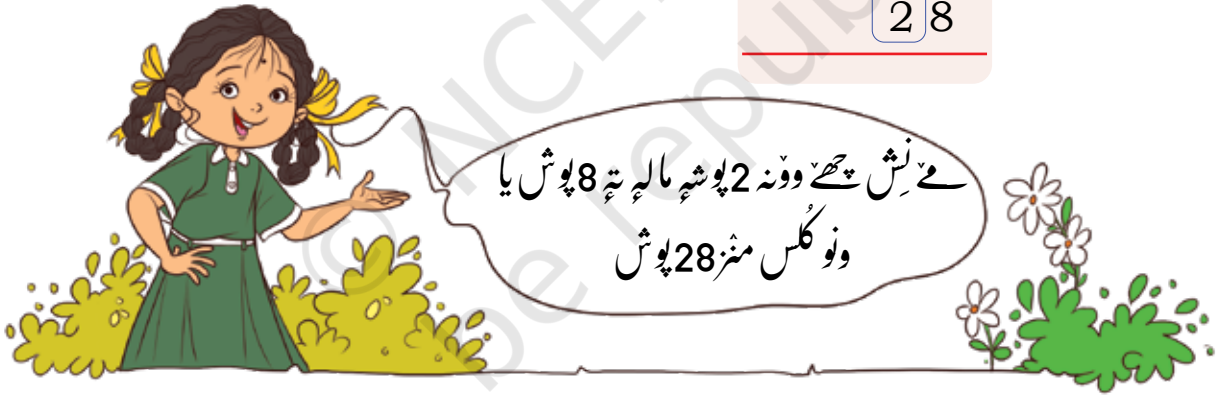
$$\begin{array}{r} \text{T} \quad \text{O} \\ 46 \\ - 18 \\ \hline \end{array}$$

$$\begin{array}{r} \text{T} \quad \text{O} \\ 3 \quad 16 \\ 4 \quad 6 \\ - 1 \quad 8 \\ \hline 8 \end{array}$$

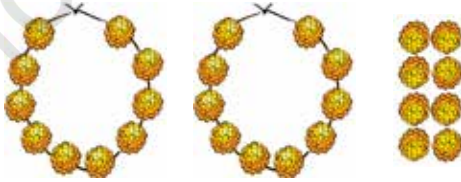
16 = کھولن

$$16 - 8 = 8$$

$$\begin{array}{r} \text{T} \quad \text{O} \\ 3 \quad 16 \\ 4 \quad 6 \\ - 1 \quad 8 \\ \hline 28 \end{array}$$

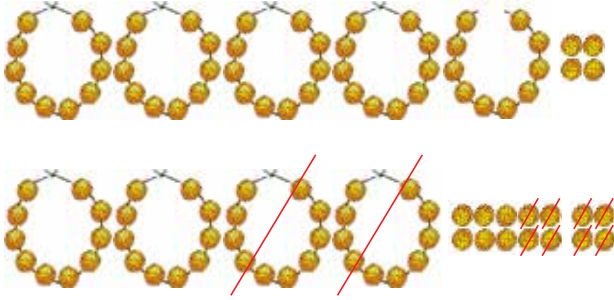


جیوتی نیش چھ ووئی کل 28 پوش۔ تمہ دئی امہ منتر 5 پننہ ویسہ۔ جیوتی کرویہ معلوم کرنس منتر دز تمس نیش کتیاہ پوش رو دی باقی۔



$$\begin{array}{r} 28 \\ - 5 \\ \hline \end{array}$$

جیوتی نش چھ ووڈی کل 54 پوش۔ تمہ دتی امہ منہ 28 پنہ ماجہ ٹس نش کڑ پوش رودی باقی۔



$$\begin{array}{r} 54 \\ - 28 \\ \hline \end{array} \rightarrow \begin{array}{r} 4 \quad 14 \\ \cancel{5} \quad \cancel{4} \\ - 28 \\ \hline 6 \end{array} \rightarrow \begin{array}{r} 4 \quad 14 \\ \cancel{5} \quad \cancel{4} \\ - 28 \\ \hline 26 \end{array}$$

اوہ! مے تجھے اکھ پوش مال ہڑ اونچ
ضرورت۔ مے روزن پتہ 4 پوش مالہ تہ 14
پوش، امہ منہ ہنیکہ یہ 8 پوش دتھ۔

$$14 - 8 = 6$$



مے نش روز 2 پوش مالہ تہ 6 پوش یا ونو
کلس منہ 26 پوش۔



جیوتی چھ کل 73 پوش۔ تمہ دتی 47 پنہ ماجہ۔ ٹس نش کڑ پوش رودی باقی؟



پوش	پوشہ مالہ	
3	7	جیوتی چھ
7	4	جیوتی دتی
		جیوتی نش رودی



$$\begin{array}{r} 93 \\ - 48 \\ \hline \\ \hline \end{array}$$

$$\begin{array}{r} 27 \\ - 27 \\ \hline \\ \hline \end{array}$$

$$\begin{array}{r} 65 \\ - 45 \\ \hline \\ \hline \end{array}$$

$$\begin{array}{r} 84 \\ - 37 \\ \hline \\ \hline \end{array}$$

$$\begin{array}{r} 45 \\ - 18 \\ \hline \\ \hline \end{array}$$

رزگندن

امان تہ آونی چھ رزگندان تہ ووٹہ تلان۔
دو شونی چھ 20 ووٹہ مکمل کرنہ۔ پیلہ رز
کھوروئلیر اتھ ہیکو اکھ سکپ یا ووٹہ وختہ۔
تمن میلن ووٹہ تلتنکر ز موقعہ۔ اگر کائسہ
گوڈنچہ لٹہ کانہہ ووٹہ اتھ گئیہ تمس میلہ
تیلہ 20 ووٹہ تلتنک بناکھ موقعہ۔



ا۔ امانن تہ گودنکس داوس منز 14 ووٹہ۔ 20 ووٹہ مکمل کرنہ باپتہ کر لٹہ چھ تمس سکپ کرن؟

$$14 + \underline{\quad} = 20$$

$$20 - 14 = \underline{\quad}$$

ب۔ آونی تہ گودنکس داوس منز 12 ووٹہ۔ 20 ووٹہ مکمل کرنہ خاطرہ کر لٹہ چھ تمس سکپ کرن؟

$$12 + \underline{\quad} = 20$$

$$20 - 12 = \underline{\quad}$$



اُسی ہینکو جواب — معلوم کرنے باپتھ کانہہ تہ طریقہ استعمال کرتھ گن لیڈی، نمبر پتر، نمبر بلاک یا موکھتہ مال۔

ا۔ انوشکا یہ کری 63 صدف 🍪 جمع۔ تمہ دتی 26 صدف 🍪 پنس بائیس۔ تیس اتھہ کڑ صدف رودی؟

ب۔ 54 سوار آسہ اُکس گاڑ منز بہتہ 16 وڑھہ بس سٹینڈس پٹھ لوٹ۔ ووٹی کڑ سوار چھ گاڑ اندر؟

ج۔ 40 پھوکہ بالہ آسہ تہ 13 مچھہ۔ ووٹی کڑ پھوکہ بالہ روز باقی؟

د۔ کنیکا بہ بنا و 72 بنگر ۔ تمہ پنے 36 بنگر۔ ووٹی کڑ بنگر روز کنیکا بہ نش؟

ه۔ 56 جانا وار اُسی کُلس پٹھ بہتہ۔ بیہ تہ کینہہ جانا وار رلیہہ۔ تمن ٲٲ۔ ووٹی چھ تم 87 جانا وار۔ تمن جانا وارن ہند تعداد کُرو معلوم یم۔ تمن ٲٲ رلیہہ۔

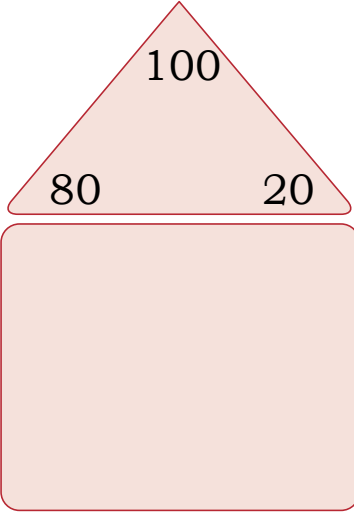
و۔ ارمان دتی بالہ 18 ٹاس۔ تیس کڑ ٹاس چھ مزید بالہ دتی ٲٲ 35 ٹپہ مکمل

گرہن۔

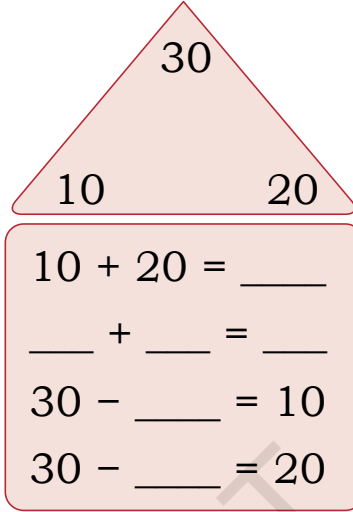


جمع تہ تفریق حقیقہ
فیکٹ فیملی مکمل کرنے باہتہ کڑ اور اوہتی نمبر پور۔

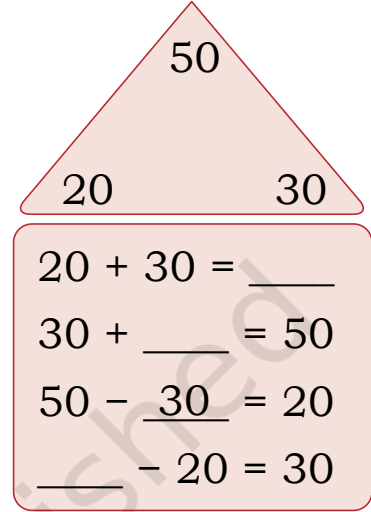
20, 80, 100



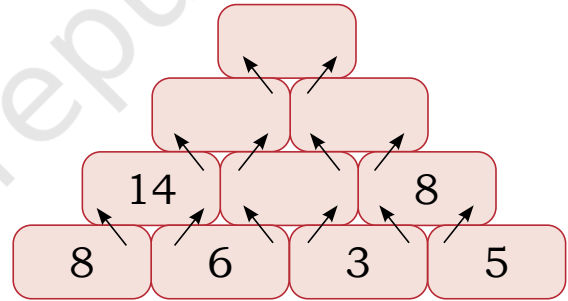
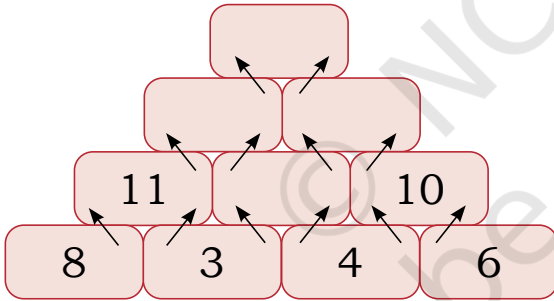
10, 20, 30



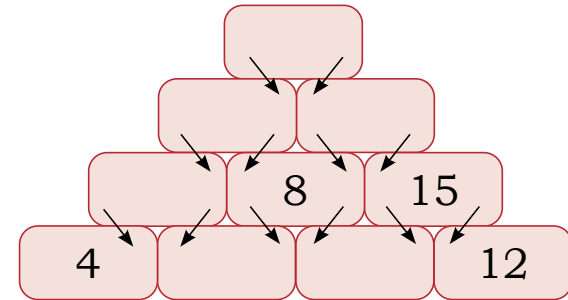
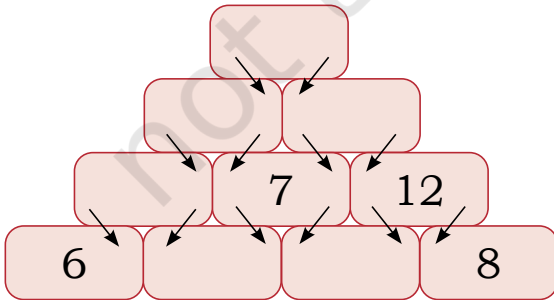
20, 30, 50



جمع تہ تفریق اہرام (Pyramid)



جمع اہرام



تفریق اہرام



یہ جدول سن وچھو۔

3 + 9 = 12 9 + 6 = 15

9 12 3

6 + 5 = 11 5 + 3 = 8

15 8
6 11 5

وڈی گروپم جدول مکمل۔

(b) 10 9
13 12

(a) 5 1 9
10 14

ہانیاتہ مانسی ہند تحفہ

ہانیاتہ مانسی اسے پنہ ماجہ اکھ تحفہ یڑھان دین۔ امہ کہ سجاوٹ باپتھ اُنی تموکینہ ربن تہ اکھ گفٹ رپر۔

پرس منزچہ 78۔ گفٹ رپرک قیمتہ چہ 24 تہ ربنک مول چہ 37۔

ا۔ تموکڑ روپیہ خرچاؤ؟

ب۔ تم نیش کڑ روپیہ روز؟



دبجتن کڑی کینہ سوال حل تہ پتہ لیکنھن تہند جواب۔ توہہ کیا چہ باسان؟ تم چھا صحیح؟ جوابن کڑو جانچ۔

$$\begin{array}{r} 30 \\ - 17 \\ \hline 27 \end{array}$$

$$\begin{array}{r} 57 \\ - 78 \\ \hline 21 \end{array}$$

$$\begin{array}{r} 35 \\ - 17 \\ \hline 22 \end{array}$$

$$\begin{array}{r} 37 \\ + 58 \\ \hline 131 \end{array}$$

$$\begin{array}{r} 25 \\ + 36 \\ \hline 511 \end{array}$$

