

# نمبرن گنڈن

3

گن لیڈی گن وچھو

- ا۔ اگس گن لیڈی منتر کر موکھتہ دانہ چھ؟
  - ب۔ گن لیڈی پٹھ چھ کینہہ کارڈ۔ موکھتہ دانن ہند تعداد گنرتھ لیکھو یمن کارڈن پٹھ تم نمبر۔
  - ج۔ بنی من نمبرن باپتہ بناؤ نمبر کارڈ پتہ تھاؤ لوکھ تم پنہ گن لیڈی پٹھ۔
- ان پر صحیح اعداد لکھیے
- مندرجہ ذیل اعداد کے عددی کارڈس بنائیے اور ان کو گن لڑی میں رکھیے۔

98, 65, 58, 44, 38

نمبر پتر وچھتہ کر و خالی جا یہ پوڑ۔

- ا۔ کھ چھٹہ پوڑ چھ گلابی پوش نیش واتنہ باپتہ \_\_\_\_\_ قدم تان۔
- ب۔ اکھ مانچھ تیر چھ ووزل پوش نیش واتنہ باپتہ \_\_\_\_\_ قدم تہ لیدرس پوش نیش واتنہ باپتہ \_\_\_\_\_ قدم تان۔
- ج۔ اکھ گلہری پچ وٹھ دتھ 2 قدم پتہ، 5 قدم برو نہہ تہ بیہ 3 قدم پتہ۔  
یہ واتہ \_\_\_\_\_ پٹھ۔
- د۔ \_\_\_\_\_ پٹھ واتنہ باپتہ تلی اکھ نہہ مونڈجہ 2 قدم برو نہہ رتھ قدم پتہ تہ بیہ 3 قدم پتہ۔



## میانہ نمبر لگاؤ وانداز

اگچہ سوچے اُس نمبرس متعلق تہ باقی بچہ لگاؤن تہ متعلق انداز۔ بچہ ہینکن سوال پڑھتہ مثالے یہ چھا 50 کھوتہ زیادہ؟ نمبر کدو شوے عدد چھا ہوی؟ سوال یمن ہند جواب "آرنہ" ہس منز دہ ہیکہ یتہ۔ تم ہینکن انداز لگاؤنہ باپتہ زیادہ کھوتہ زیادہ 10 سوال پڑھتہ۔



## میانہ مقابلک لگاؤ وانداز

ترے رینیہ چھ نمبر لائہ پٹھ بہتہ۔ یمن رینین باپتہ لیکھو نمبر۔



کڑہنی ریے چھ بہتہ  نمبرس پٹھ

وہنج ریے چھ بہتہ  نمبرس پٹھ

دالچینی ریے چھ بہتہ  نمبرس پٹھ

نمبر لائہ ہندس نمبر 65 پٹھ بناؤ ریے یتہ کئی ہیر کنہ باؤتھ چھ۔

نمبر لائہ ہندس نمبر 79 پٹھ بناؤ وکھنڈ مکعب ☐ یتہ کئی ہیر کنہ باؤتھ چھ۔







ا۔ نمبر چارٹس پٹھ کر دو دن منر سکپ گریز ہندا استعمال تہ پتہ بناؤ و○ نمبر۔ وڈی گروپاٹرن منر سکپ گریز ہندا استعمال تہ پتہ بناؤ و نمبر چارٹس Δ منر نمبر۔

10	9	8	7	6	5	4	3	2	1
20	19	18	17	16	15	14	13	12	11
30	29	28	27	26	25	24	23	22	21
40	39	38	37	36	35	34	33	32	31
50	49	48	47	46	45	44	43	42	41
60	59	58	57	56	55	54	53	52	51
70	69	68	67	66	65	64	63	62	61
80	79	78	77	76	75	74	73	72	71
90	89	88	87	86	85	84	83	82	81
100	99	98	97	96	95	94	93	92	91

ب۔ تم نمبر لیکھو یم دون تہ پاٹرن ہندن سکپ منر مشترکہ چھ۔؟

ج۔ تم نمبر لیکھو یم دون، ترہن تہ پاٹرن ہندن سکپ منر مشترکہ چھ۔

د۔ تم نمبر لیکھو یم پاٹرن تہ ستن ہندن سکپ منر مشترکہ چھ۔

ووٹھ تلوتہ جواب رانڈو۔ آ یا ہا لیکھو۔

پتھر س پٹھ بناؤ واکھ نمبر لائن تہ پتہ تراؤ واکھ پٹھ ووٹھ۔

ا۔ اگر تھی 10 پٹھ شروع کرو تہ ووٹھ تلوتہ ہی ن ہنز گریز منر، تھی ہیواکنہ وقتہ 100 پٹھ واکھ؟

ب۔ ووٹھ تلوتہ معلوم کرو اگر تھی 5 پٹھ شروع کرو تہ پاٹرن منر گزراؤ، تھی ہیواکنہ وقتہ 40 پٹھ واکھ؟

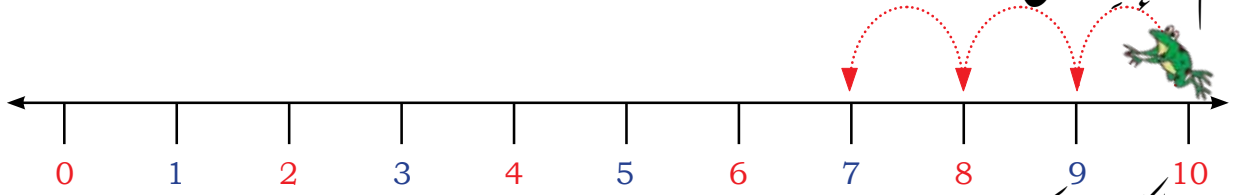
ج۔ اگر توہہ 0 پٹھ شروع کرو تہ پاٹرن منر گزراؤ، تھی ہیواکنہ ساہ 55 پٹھ ووٹھ تراؤ تھ؟

د۔ اگر تھی 4 پٹھ آغاز کرو تہ دون منر گزراؤ، تھی ہیواکنہ ساہ 17 پٹھ ووٹھ تراؤ تھ؟

ه۔ اگر تھی 13 پٹھ دسلاہ کرو تہ ترہن منر گزراؤ، تھی ہیواکنہ تہ وقتہ 24 پٹھ ووٹھ لایتھ؟



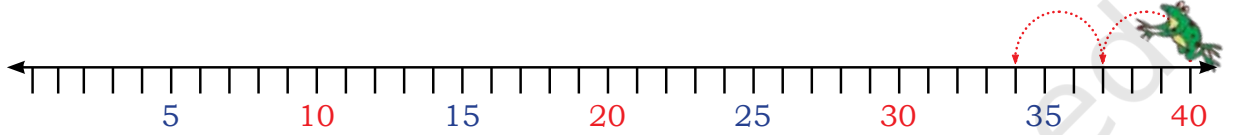
وُلپتھ کُن دِمووٹھ۔  
عِئم نمونہ کُرو مکمل



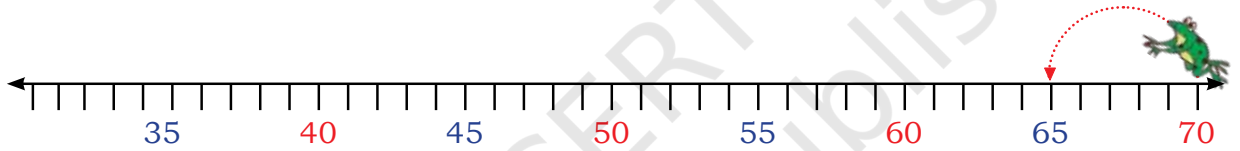
10 بالکل بروٹھ کیا چھووان؟

9 بالکل بروٹھ کیا چھووان؟

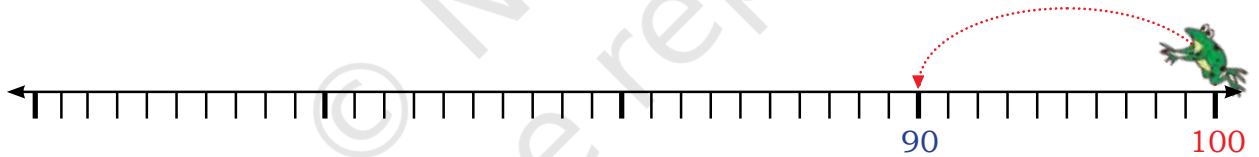
10, 9, 8, , , , , ,



a. 40, 37, 34, , , ,



b. 70, 65, 60, , , ,



c. 100, 90, , ,



d. 100, 80, ,

دنہ آتین نمبرن منزچھا کا نہہ نمونہ؟ اگر نہ، تیلہ کُروڈا لو نمبرتہ اکھ نمونہ کُرو پاد۔ بییہ دیواتھ وہراو۔

100, 90, 80, 75, 60, , ,





- ا۔ رضوان چھ 20 پتہ پنہ والی نمبر گزراوان۔ پنہ گریز منز بنیائے نمبر 19 ہک ناو؟ وضاحت کرو کیا ز؟
- ب۔ چاوی چھ 10 پتہ پنہ والی نمبر دون منز گزراوان۔ سوونیا 43؟ وضاحت کرو کیا ز؟
- ج۔ مالا چھ 20 پتہ پنہ گریز کران۔ 0 ہس نش وانس تام کڑ قدم چھ تئس؟ وضاحت کرو کیا ز؟
- د۔ وراج چھ 20 پتہ دون منز پنہ کُن گریز کران۔ 0 ہس نش وانس تام کڑ قدم چھ تئس؟ کتھ بات کرو۔

### نمبر چارٹن منز نمونہ

1	2	3	4	5	6	7	8	9	10
11	12	13	14	15	16	17	18	19	20
21	22	23	24	25	26	27	28	29	30
31	32	33	34	35	36	37	38	39	40
41	42	43	44	45	46	47	48	49	50
51	52	53	54	55	56	57	58	59	60
61	62	63	64	65	66	67	68	69	70
71	72	73	74	75	76	77	78	79	80
81	82	83	84	85	86	87	88	89	90
91	92	93	94	95	96	97	98	99	100







نمبر چارٹ وچھوٹے سوالن دیلے جواب۔

چھلوان 20 ہوبرونٹ

چھوٹا 10 ہوبرونٹ

چھوٹا ان 40 ہو بر ونٹ

چھ لوان 30 ہو بر ونٹھ

توہمہ وچھو کا نہہ نمونہ؟ نمبر چارٹس پٹھ نمبرن کر و سایہ۔ یہ نمونہ روزیا باقین نمبرن باپتھتہ جاری۔ اگر آ، تیدہ لیکھو  
سہ نمونہ۔

\_\_\_\_\_, \_\_\_\_\_, \_\_\_\_\_, \_\_\_\_\_, \_\_\_\_\_, \_\_\_\_\_, \_\_\_\_\_, \_\_\_\_\_, \_\_\_\_\_,

ووزو چھو نمبر چارٹس پٹھ سبز سے رنگت نمبر۔ تم لیکھو ٹوک۔

1, 12, 23, \_\_\_\_\_, \_\_\_\_\_, \_\_\_\_\_, \_\_\_\_\_,

توہمہ کچھ نمونک کرو مشاہدہ؟ بحث کرو۔

لکشا یہ بناؤا کہ نمبر وندو پتہ تھا ورنہ تھے پاٹھی بونیس نمبر چارٹس پٹھ۔

۱۔ اگر دارِ ہند مرکز 28 ہس پتھ تھا ووتیلہ

10	9	8	7	6	5	4	3	2	1
20	19			16	15	14	13	12	11
30	1 19	28	1 19	26	25	24	23	22	21
40	10 19			36	35	34	33	32	31
50	49	48	47	46	45	44	43	42	41
60	59	58	57	56	55	54	53	52	51
70	69	68	67	66	65	64	63	62	61
80	79	78	77	76	75	74	73	72	71
90	89	88	87	86	85	84	83	82	81
100	99	98	97	96	95	94	93	92	91

کس نمبر آسہ اُمیچہ تالہ پٹھ؟

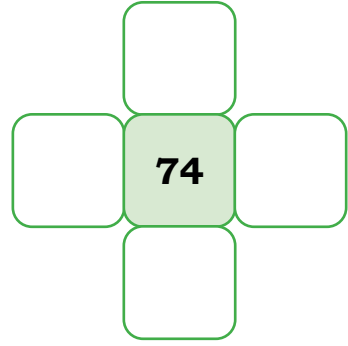
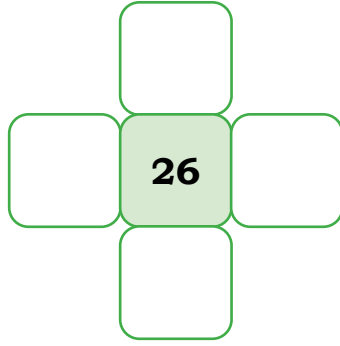
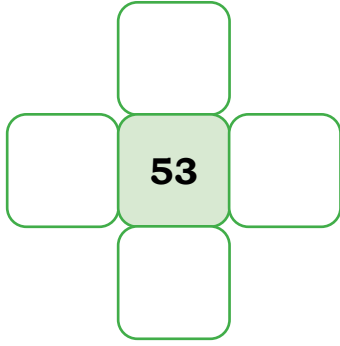
ب۔ کس نمبر آسہ اٹھ تلے کنہ؟

ج۔ کس نمبر آسہ اتھ دچھنہ پاسہ؟

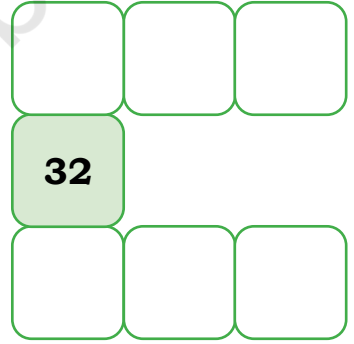
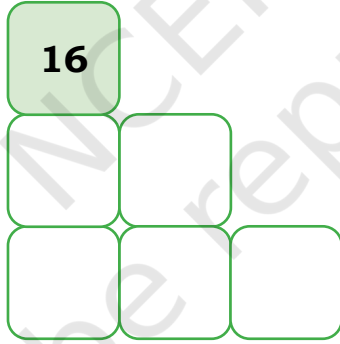
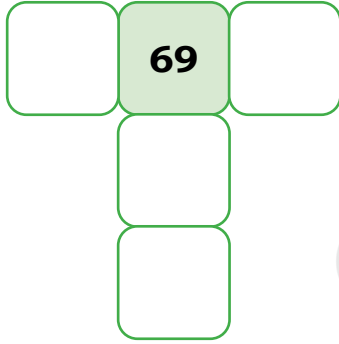
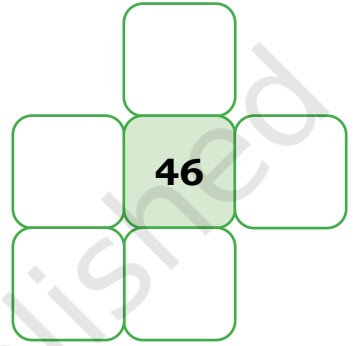
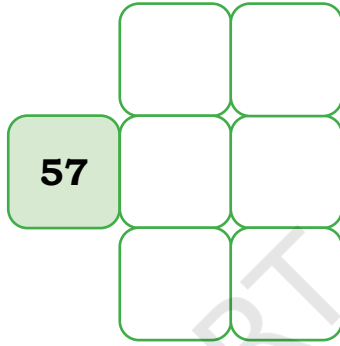
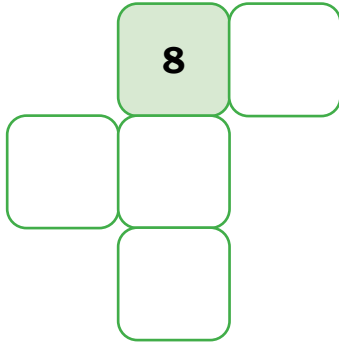
د۔ کس نمبر آسہ اتھ کھو وِ پاسہ؟



ہ۔ وُلویہ کُرو باقین نمبرن باپتھ۔

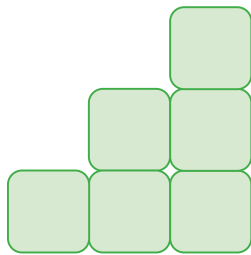


و۔ اُتھی نمبر گردس پٹھ بسوط، رَاو مٹی نمبر کُریو کھلور۔

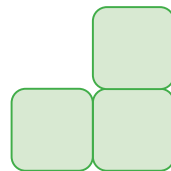


نمون ہنز تلاش

بُئمن شکلن منکر و مشا پدز کتھ کنی چھ بلا کن ہند تعداد بران تہ نمونس دیو و ہراو۔



6



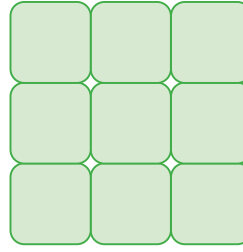

3



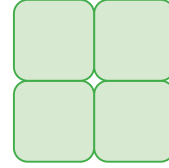
1







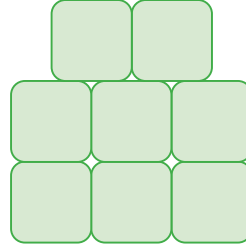

9



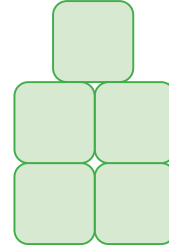
4



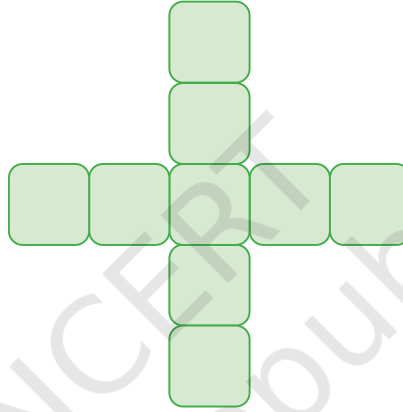
1



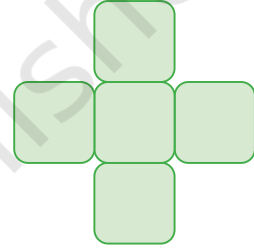
8



5



9

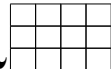


5

وُلُگندو — بنگو!




بنگو گندنہ باپتہ بناؤ 4x3 گرڈ



گرڈ کڑیہ 2 پٹھہ 12 تام کُنہ تہ نمیر تہ۔ نمبرن ہینکو تکرار تہ کرتھ۔

اکھ بچہ چھکے زڈا یس تہ ڈا یس پٹھ ڈاٹ کن نمبرن ہند جمع ونہ۔ باقی بچہ دن پنہن گرڈن پٹھ تھ نمبرن کراس۔ یہ تھاووت تام جاری یوت تام نہ بچہ سارے نمبرن کراس دن۔ بنگو!



پن بڈاو ووصلہ اکھ حکمت علی پاد کر نیچہ تہ تم گرڈس پٹھ لیکھنہ باپتہ نمبرن ہند انتخاب کرتھ یکن۔

