



ہیر مہ شکلہ کن ووجھو۔ لونہ کنہ دنہ آہن چرن ہند تعداد گزراووتہ لیکھو۔

ناو

کھوچھ

سنگتر

شری

توہر کتھہ پاٹھی گزراووتیم؟ توہر گزراووتیم اکھ اکھ کنہ کچھن یا گروہن منز؟

یکن ستری کروکتہ بات زم چھا زانہہ سمندر بٹھس یادیا و بٹھس پٹھ گمیتی و پھمٹ۔ تہن کم جانورتہ کل گٹی چھ عام  
طور لبہ یوان۔ گروہن منز گزراونس منز کروتھن مدد۔



ا۔ شکلیہ مندرجہ آیتیں دوکان کن وچھوتہ غالی جابہ برو۔

- (i) یتن چھ صدف ہندی \_\_\_\_\_ ہارتہ پرتھ ہارس منزچہ 10 صدف۔
- (ii) یتن چھ پھوکہ بالن ہندی \_\_\_\_\_ گزوپ تہ پرتھ گزوپس منزچہ \_\_\_\_\_ پھوکہ بالہ تہ \_\_\_\_\_ یلہ پھوکہ بالہ۔
- (iii) یتن چھ کیلن ہندی گچھ \_\_\_\_\_ تہ پرتھ گچھس منزچہ \_\_\_\_\_ کیلہ تہ یلہ کیلہ۔
- ب۔ سُرہی کُری کینہہ صدف جمع۔ سوچھے پننہ ماجہ بازوبند تہ ہار بناونس منزند دکن یرہان۔



ج۔ سُرہی بناوی بازوبندن باپتھ کاو صدف ہندی \_\_\_\_\_ گزوپ تہ پرتھ گزوپس منزچہ صدفن ہند تعداد \_\_\_\_\_



د۔ تمہ سُرہی ماجہ بناوی ہارن باپتھ صدف ہندی \_\_\_\_\_ گزوپ تہ پرتھ گزوپس منزچہ صدفن ہند تعداد \_\_\_\_\_

(تہ زبانی ورس (tongue  
twister) گرواد کرچ کوشش

”سوچھے صدف سمندر عیش  
پٹھ کنان“







تمن چیزن ہند فہرست گروتیاریم دہن ہندس پیکس منز چھوان۔۔

a. \_\_\_\_\_ b. \_\_\_\_\_ c. \_\_\_\_\_

مزدار چیکو!

منوج چھ پنس مائس چیکو گنٹس منز مدکران یہ تری مجمن منز بجائو تھ چھ تھاوی ہتی۔



اُس مجمن منز چھ \_\_\_\_\_ چیکو۔

کل کڑ چیکو چھ یم؟

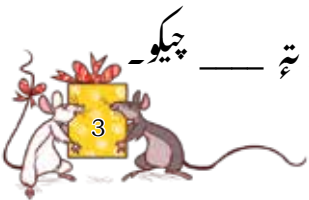
وونی گرو منوجس تمام چیکو ٹرین منز تراؤنس منز مدکنہ خاطر۔

ا۔ 25 چیکو دہن چیکو ہندی \_\_\_\_\_ مجمہ تہ \_\_\_\_\_ چیکو۔

ب۔ 43 چیکو: دہن چیکو ہندی \_\_\_\_\_ مجمہ تہ \_\_\_\_\_ چیکو۔


ج۔ 35 چیکو: دہن چیکو ہندی \_\_\_\_\_ مجمہ تہ \_\_\_\_\_ چیکو۔

د۔ 58 چیکو: دہن چیکو ہندی \_\_\_\_\_ مجمہ تہ \_\_\_\_\_ چیکو۔





80 چیکو



72 چیکو



56 چیکو



28 چیکو

بلاکن تہ پترن گنڈن

میانہ بلاک لور کن  
وچھو۔


شہی ہنیکو اوٹھ زبہ بلاک لور منز کر بلاک چھ؟

1۔ بلاک لور = بلاکن

میانہ ڈھنہ پتر کن وچھو۔

شہی ہنیکو اوٹھ زبہ ڈھنہ پتر منز کر یونٹ چھ؟

1۔ ڈھنہ پتر = یونٹ





بلاک لورِ تہ \_\_\_\_\_ بلاک گمہ  
کل \_\_\_\_\_ بلاک

بلاک لورِ تہ \_\_\_\_\_ بلاک گمہ  
کل \_\_\_\_\_ بلاک

بلاک لورِ تہ \_\_\_\_\_ بلاک گمہ  
کل \_\_\_\_\_ بلاک

داه پترِ تہ \_\_\_\_\_  
یونٹ گمہ \_\_\_\_\_  
کل \_\_\_\_\_ یونٹ

داه پترِ تہ \_\_\_\_\_  
یونٹ گمہ \_\_\_\_\_  
کل \_\_\_\_\_ یونٹ

داه پترِ تہ \_\_\_\_\_  
یونٹ گمہ \_\_\_\_\_  
کل \_\_\_\_\_ یونٹ

ہونہ کنہ دینہ آمنت ٹیبل گروپن مکمل۔



یونٹ	داه پتر	کل بلاک ریونٹ
4	2	24
		36
		72
		69
		46

لوریا لورین ہندی بندل یا تھتے کا نہہ پتر پتر گروپ بنن ٲنتہ، کرو استعمال تاکہ بچن اندر گروہ عددی جس پاؤ

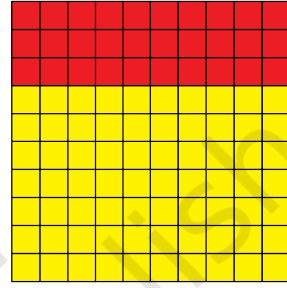


سَم چھ کل 100 یونٹن  
ہندی بنیا متری۔


وچھو! رلاؤ 10  
پتریکوٹ۔




— لیڈری یونٹ تہ — ووزلی یونٹ — لیڈر دہی پتر تہ  
— ووزجہ دہی پتر — کل — یونٹ یا — دہی پتر —



— لیڈری یونٹ تہ — ووزلی یونٹ — 7 لیڈر دہی پتر تہ  
3 ووزجہ دہی پتر — کل — یونٹ — دہی پتر —



— لیڈری یونٹ تہ — ووزلی یونٹ — لیڈر دہی پتر  
تہ — ووزجہ دہی پتر — کل — یونٹ یا — دہی پتر —



— لیڈری یونٹ تہ — ووزلی یونٹ — لیڈر دہی پتر  
تہ — ووزجہ دہی پتر — کل — یونٹ یا — دہی پتر —



دہن پترن ہنزن باقین ترکیبن سَم 100 یونٹن ہندی گڑ بناوان آسن پھٹ کر وکھتہ۔



## وُلویہ 100 بناو! ۱

وُلویہ گیم گندو 5 یا 6 ہندسں گروپں منز۔ اکہ ممبر بنہ بینک کارکن۔ پرتھ ٹیمک ممبر تراودون ڈايسن یکوٹے تہ تیتی یونٹ ہنیہ بینکس۔ ییلہ تیتی یونٹ جمع گروہن یم برابر 10 یا تمہ کھوتہ زیاد آسن، تیلہ کرن تم بینک کارکنس ۱۰ پترن 10 یونٹن ہند تبادلہ۔ تیتھے کنز گندوتہ 10 ڈہنی پتر کر یو کہ جمع تہ تمہن بناؤ و 100 یونٹن ہند گزڈ۔ اُسی ہیکو دوہمن چیزن مثالے رازماہ، کتر، چنہ، بیترتہ نکشیتہ یونٹ استعمال کر تھ۔

## کارڈوز ریم گزیند۔

...21, 20, 19, 18

اوہ! مے کو وینیہ مر تھ گزرن۔

...4, 3, 2, 1

وُلویہ ہا ووتوہہ یم صدف  
گزراونک نوو طریقہ۔



مے تھاوی اکہ گروپ کن 10 صدفن باپتھ ▲  
کارڈ تہ اکہ صدف باپتھ ● کارڈ۔



بچن بڈا و حوصلہ ز تم کرن دمن تہ اکا یین باپتھ مختلف کارڈ استعمال۔





بُونَم كَرُو مَكْمَل

●	▲
ا	د
1	3

يا

$$1 + 30 =$$

1 اکاڻي

3 ڏهن

تيلہ چھ کل 31 صدف

ا	د

يا

$$\square + \square =$$

اکاڻي

ڏهن

ا	د

يا

$$\square + \square =$$

اکاڻي

ڏهن

ا	د

يا

$$\square + \square =$$

اکاڻي

ڏهن

بناو ڏهن (▲) تہ اکاڻي (●) کارڊ تہ بروغائي جايہ -

ا	د

يا

$$3 + 90 =$$

ڏهن اکاڻي

ا	د
5	7

يا

$$\square + \square =$$

ڏهن اکاڻي

ا	د
9	2

يا

$$\square + \square =$$

ڏهن اکاڻي







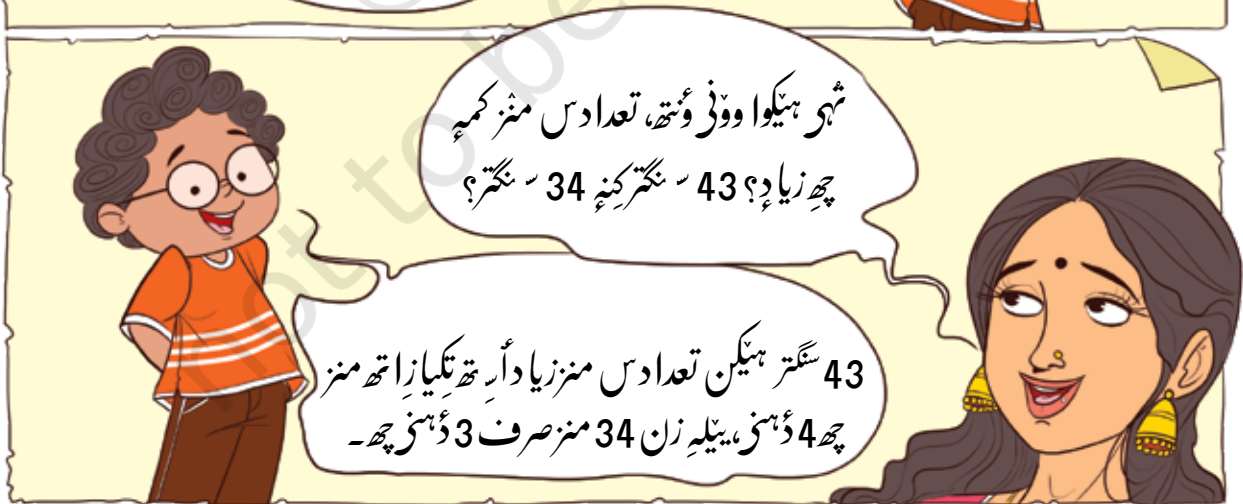

بچہ ہیکن مختلف نمبر کارڈو چاہے دہنیا اکائیو ۲۰ نمبر بناوتھ۔ اُستادچھ اکہ نمبرک مثالے 52 ہک ناوہوان۔  
50 تہ 2 نمبر کارڈوالی بچہ پن یکوٹہ بزوتھ کُن تہ بناون بنم پاٹھ 52۔ گیم روزباقین نمبرن مثالے 27 تہ جاری۔



73	$70 + 3$	د	ا
		7	3

بچہ کرن دہن تہ اکائین ہندن نمبر مختلف قسمو ترتیب دینچ  
مشق۔ مثالے، 73 چھ 70 تہ 3 ہک بنتھیا ولو 7 دہن تہ 3  
اکائی۔ پن دیوز عددی نمبرن ہندی پنہن ورک شیت بناونہ۔





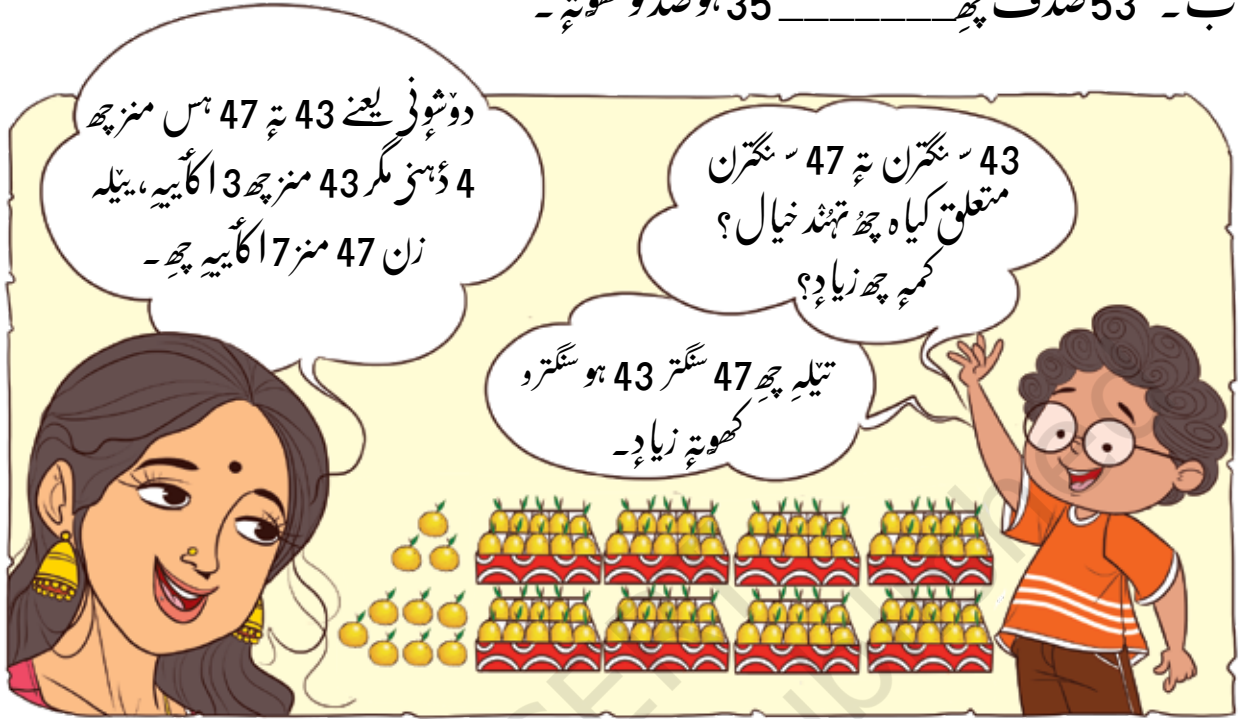
کس بیو چھ کم 27 سنگتر کینہ 72 سنگتر؟ کیا ز؟



## غالی جابہ گرو کم یا زیادہ دے تی پڑے۔

ا۔ 67 چیکو چھ 76 چیکو و کھوتہ۔

ب۔ 53 صدف چھ 35 ہوصد فو کھوتہ۔



و لو کرو



## غالی جابہ برو

ا۔ 29 تہ 20 کھوتہ زیادہ۔

ج۔ 76 کھوتہ کم۔

ہ۔ 25 چھ کھوتہ کم۔

ز۔ 36 چھ کھوتہ زیادہ۔

ب۔ 41 کھوتہ کم۔  
د۔ 49 چھ کھوتہ کم۔  
و۔ 2 کھوتہ زیادہ  
ح۔ چھ کھوتہ زیادہ

پکن ے ترو تھن صورتِ حالن متعلق کتھ پتن تم دون مقدارن مقابلہ کرتھ ہیکن۔ پکن و نوز تم بناون ٹھوس چیزن مثالے کنہ پھل، بانٹ، بوتلہ، ٹھانڈ، بیالے پھل بیترن ہندی گروپ۔ تہ پتہ لگا ون انداز کتھ گروپس منز چھ چیزن ہند تعداد زیادہ۔ وونی دیو تمن چیز گزرتھ پنہ اندازک جانچ کرنہ۔








## فلش کارڈ گیم

۱۔ ۰ پچھلے ۹ تمام نمبرن ہندی فلش کارڈ بنائو۔ ہونہ کنہ دینہ آمتواصولو مطابق بنائو ویتیم کارڈ صحیح پائٹھی دہی زن تہ اکائین ہنزن جاین تھاوتھا اکھ من پسند نمبر۔



1۔ اکھ نمبر 50 کھوتہ بوڈ۔

2۔ اکھ نمبر 30 کھوتہ کم۔

3۔ اکھ نمبر 47 تہ 59 درمیان۔

4۔ سہ کس لوکٹہ کھوتہ لوکٹ ز عددی نمبر چھ یس شہی بنائوتھا ہینکوان؟

5۔ سہ کس بڈ کھوتہ بوڈ ز عددی نمبر چھ یس شہی بنائوتھا ہینکوان؟

شہی کیا ز چھو سو نچان ز یس نمبر توہہ بنو وچھ ساروے کھوتہ بوڈ؟

ب ر کانہہ تہ زہ فلاش کارڈ ژاروتہ بناو و د عددی نمبر۔ وونی دیو بیا کہ نمبر حاصل کرنہ خاطرہ چھانٹ۔ معلوم کرو ز یہ چھاپرانہ نمبرہ کھوتہ بوڈ کنہ لوکٹ۔ ہومی نمبر استعمال کرتھ کتھ کنی کورو توہہ بوڈ نمبر حاصل؟

دہی	اکائی	دہی	اکائی
3	5	5	3



## وہ پکان تزاو نشان

وسہ وئس ترتیبس منزکر وید نمبر پٹھ لوکٹس نمبرس تام وانچ کوشش۔ خیال تھاؤز لوڑ پڑتھ نمبر کنی چھ توہہ کم سے کم اکہ لہ پکن۔

73				65
			92	
			53	
			32	20

	53			34
76			91	
11			14	
19				
				23

	51			
				58
43	63			
	86			75
34				29

## نمبرن ڑگند وپہ کس چھس؟

- یہ چھس ساروے کھوتہ بوڈڑ عددی نمبر۔
- یہ چھس ساروے کھوتہ بوڈڑ عددی نمبر یتن نہ کُنہ عددس تکرار چھ سپدان۔
- یہ چھس ساروے کھوتہ لوکٹ ڑ عددی نمبر۔
- یہ چھس ساروے کھوتہ لوکٹ ڑ عددی نمبر، میانن عددن چھ تکرار سپدان۔
- یہ چھس ساروے کھوتہ لوکٹ ڑ عددی نمبر، میانن دہئس دہئس مقاس پٹھ چھ 3۔
- یہ چھس ساروے کھوتہ لوکٹ ڑ عددی نمبر، میانن اکائی ہندس مقاس پٹھ چھ 2۔

تمہی بنا ووپانہ پنی یتھی ہی سوال۔



## والم کالی

کیرالا ہس منزچہ اونم مائے مشہور سرفہ ناو دور ہند ذریعہ مناوہ یوان۔ اتھچہ والم کالی ونان۔ دورچہ ووئی تقریبین اختتامس واثرہ۔ شکلہ کن وچھتہ یو پرتھ ناو ہندس مقامس سام۔



- دور منز کوسہ رنگہ نا وایہ اول؟
  - کھتہ ہشہ رنگہ نا وچھ ترشیم ینک امکان؟
  - بیچ تہ سہز نا وکھتہ مقامس پٹھچہ؟
  - شکلہ ہندس بنیادس پٹھ لیکھو گلابی تہ سنگتری نا ون ہند مقام۔
- بنہ کنہ دینہ آئیس کیلنڈرس منز وچھواگست ریت۔

آٹھوار	ژندہوار	بوموار	بودوار	برہوار	جمعہ	بہوار
		1	2	3	4	5
6	7	8	9	10	11	12
13	14	15 یوم آزادی	16	17	18	19
20	21	22	23	24	25	26
27	28	29 اونم	30 رکشا بندن	31		

2023 ہک کلینڈر



## کلینڈر روئے عزی من سوالن دیلے جواب۔

ا۔ ریتہ کہ کمہ دوہہ ییہ اونم مناوہ؟

ب۔ یوم آزادی کرچھ مناوہ یوان؟

ج۔ رکشابندن چھ یتہ ریتہ نہ  بریسوار۔

معلوم کروڑ تہندی کاتہ دوستن منواپٹن زایہ دوہہ اگست کس رتس منز۔ تہہ دوہس تراو و کلینڈرس پٹھ نشانہ۔

## جری نمبر 17

یہ چھ آریہ، میوان پسندیہ  
کھلاڑی۔

17 نمبر جری لاگتھ کھلاڑی چھ  
زبرگندان۔



یکن یت کر باقین جاسن متعلق کتہ، یتن تم پانس اندی پکھی نمبر بحیثیت لیل یا ناو وچھتہ ہیکن۔ مثالے مکان نمبر، پلر نمبر، رول نمبر، بس یا ٹرین نمبر بیتہ۔ یکن ونوزیہ خوبصورت طریقہ یتہ منز اس از کل نمبر لیکنجان چھ مثالے 0 تہ 1 پٹھ 9، چھ رتہ بندوستانی اگر کر۔

