



म्हायती सांबाळप



आवडटे रंग



आता करया

चित्राक पळयात आनी तकटो पुराय करून रित्यो सुवाती भरात.

रंग	तांबडो	पांचवो	निळो	हळडुळो
एकूण भुरगीं				

- A. सगळ्यांत चड आवडिल्लो रंग म्हणल्यार _____.
- B. सगळ्यांत कमी आवडलेलो रंग म्हणल्यार _____.
- C. हळडुळो रंग हो _____. परस चड आवडटा.
- D. _____ हो रंग पांचव्या परस चड आवडीचो.
- E. _____ हो रंग _____ रंगा परस कमी आवडटा.





आता करया

भुरगीं फळांची पार्टी करतात. तीं तांचीं आवडटां फळां खातात.



आता करया

तकटो पुराय करून रित्यो सुवाती भरात.






फळां				
एकूण भुरगीं				

- A. चित्रांत कितलीं भुरगीं आसात? _____.
- B. सफरचंद आवडपी भुरग्यांची संख्या _____ आसा.
- C. सगळ्यांत चड आवडीचें फळ म्हणल्यार _____.
- D. सगळ्यांत कमी आवडीचें फळ म्हणल्यार _____.
- E. पॅर आवडपी भुरग्यांची संख्या सफरचंद आवडपी भुरग्यां परस _____ आसा. (चड, कमी, समान)
- F. सफरचंद आवडपी भुरग्यांची संख्या केळीं आवडपी भुरग्यां परस _____ आसा. (चड, कमी, समान)
- G. संत्र आवडपी भुरग्यांची संख्या किवी आवडपी भुरग्यां परस _____ आसा. (चड, कमी, समान)



चित्राचेर भासाभास करात आनी तकटो पुराय करात.



शाळेंत येवपाचो मार्ग	एकूण भुरगीं
	8
	
	
	
	

विविध मार्गांनी (😊) शाळेंत येवपी भुरग्यांविशींचें तकटो वाचात आनी दिल्ल्या जाग्यार तोंडां काडात. (😊) (= 1विद्यार्थी)

म्हायतीपत्रक पळयात आनी रित्यो सुवाती भरात.



- A. चडशे विद्यार्थी शाळेंत _____ येता.
- B. खूप कमी विद्यार्थी शाळेंत _____ येता.
- C. बशींतल्यान शाळेंत येवपी विद्यार्थ्यांची संख्या रिक्शेन येवपी विद्यार्थ्यां परस _____ (कमी, चड) आसा.
- D. मोटारसाकलीन येवपी विद्यार्थ्यांची संख्या सायकलीन येवपी विद्यार्थ्यां परस _____ (कमी, चड) आसा.
- E. शाळेंत _____ सावन येवपी विद्यार्थ्यांची संख्या _____. सावन येवपी विद्यार्थ्यां परस कमी आसा.
- F. शाळेंत _____ सावन येवपी विद्यार्थ्यांची संख्या _____. सावन येवपी विद्यार्थ्यां परस चड आसा.



आमी खेळटा ते खेळ



आतां करुया

चित्राक पळयात आनी तकटो पुराय करात.

खेळ	एकूण भुरगीं

पत्रकांत दिल्ल्या एकूण विद्यार्थ्यांची (😊) संख्या जाणा जावपा पासत आनी तोंडां काडपा पासत तकट्याचो वापर करात



- A. हो सगळ्यांत आवडीचो खेळ. _____.
- B. हो सगळ्यांत कमी आवडीचो खेळ. _____.
- C. पिटू हो खेळ _____ परस चड आवडीचो.
- D. _____ हो खेळ फुटबॉला परस चड आवडीचो.



आतां करुया

A. तुमच्या वर्गांत भासाभास करात आनी तुमच्या इश्टांक कसली भाजी आवडटा तें पळयात. तकटो पुराय करात.

तांकां आवडपी भाजी

एकूण भुरगीं



B. टेबल वाचात आनी रित्यो सुवाती भरात.

- ही सगळ्यांत चड आवडटी भाजी. _____.
- ही सगळ्यांत कमी आवडटी भाजी _____.
- _____ ही भाजी _____ परस चड आवडटा.
- _____ ही भाजी _____ परस कमी आवडटा.

C. तुमच्या इश्टांक तांच्या घरांत कितलीं जाणां रावतात तें सांगपाक लायात. सकयल दिल्लें तकटे पुराय करात.

- चडश्या घरांनी _____ लोक रावतात.

- घरांत सगळ्यांत कमी रावपी लोक म्हणल्यार _____.

- घरांत 4 मनशां आशिल्लीं _____ घराबें आसात.

- घरांत 4 परस अदीक मनशां आशिल्लीं _____ घराबें आसात.

वांगडा रावपी लोक	कितले घराबे?
1 लोक	
2 लोक	
3 लोक	
4 लोक	
5 लोक	



प्रकल्पाचे काम

तुमच्या लागसारच्या घरांनी भेट दिवन घरांनी कितलीं जाणटीं रावतात तें पळयात. म्हायती एकठांय करून तकटो पुराय करात.

रावपी घराबे	फक्त आजी	फक्त आजो	कोणूच ना	एकूण घराबे
दोगांय आजो-आजी				

कितल्या घरांनी तुमी भेट दिली?

आजो-आजी दोगांय सयत रावपी घराबे _____

आजो-आजी मदल्या कोणाय एकट्या सयत रावपी घराबे _____

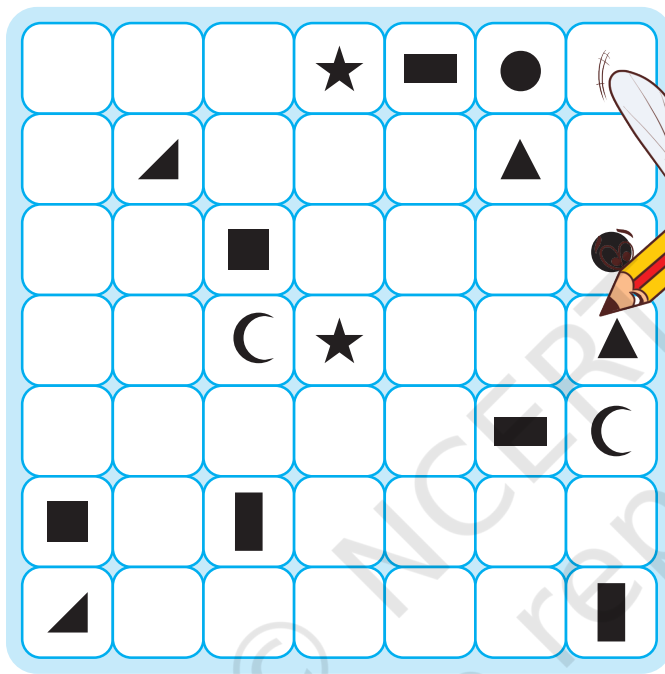
आजो-आजी मदल्या कोणाच्याच बरोबर न रावपी घराबे _____

घराब्यांक भेट दिवच्या पयलीं, तुमी तांकां खंयचे प्रस्न विचारतलीं तें थारायात.

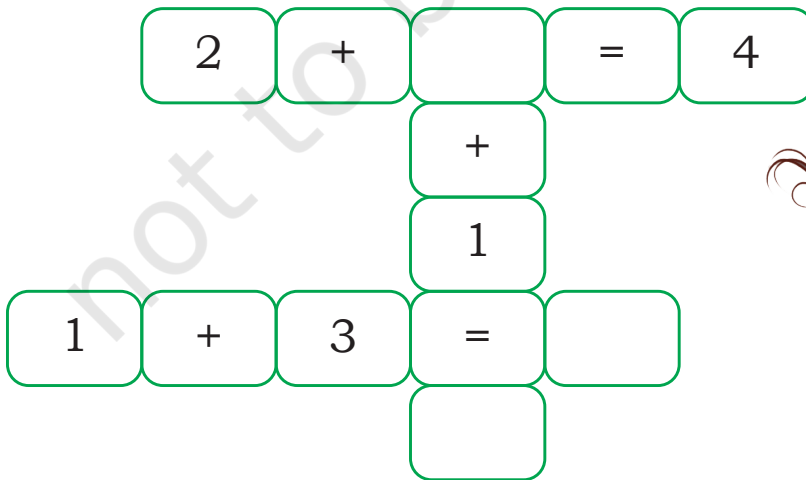




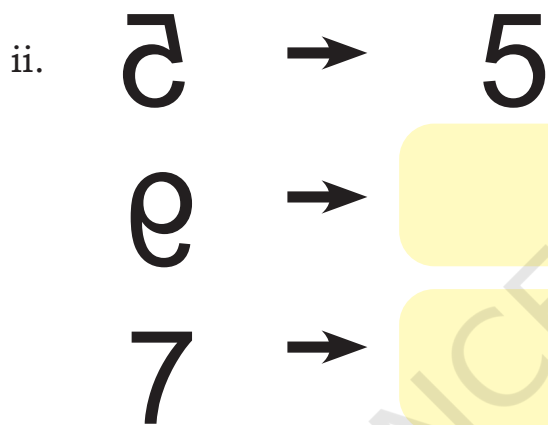
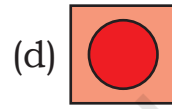
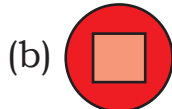
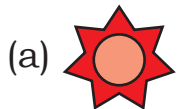

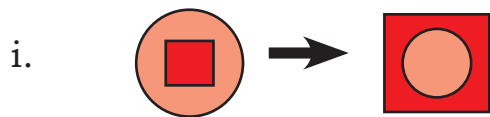
A. आकृत्यो जोडपा पासत वळींचो वापर करात. वळ एकामेकाक तेंकपाक जायना आनी वांकड्यो वळी वापरच्यो न्हय.



B. आकृती पुराय करात



C. चिंतात आनी पुराय करात



D. आंकडो सोदात.

एक खंयचोय आंकडो चिंतात

तो आंकडो दोनान गुणात


आठ जोडात

आंकड्याची अर्दी संख्या वजा करात.

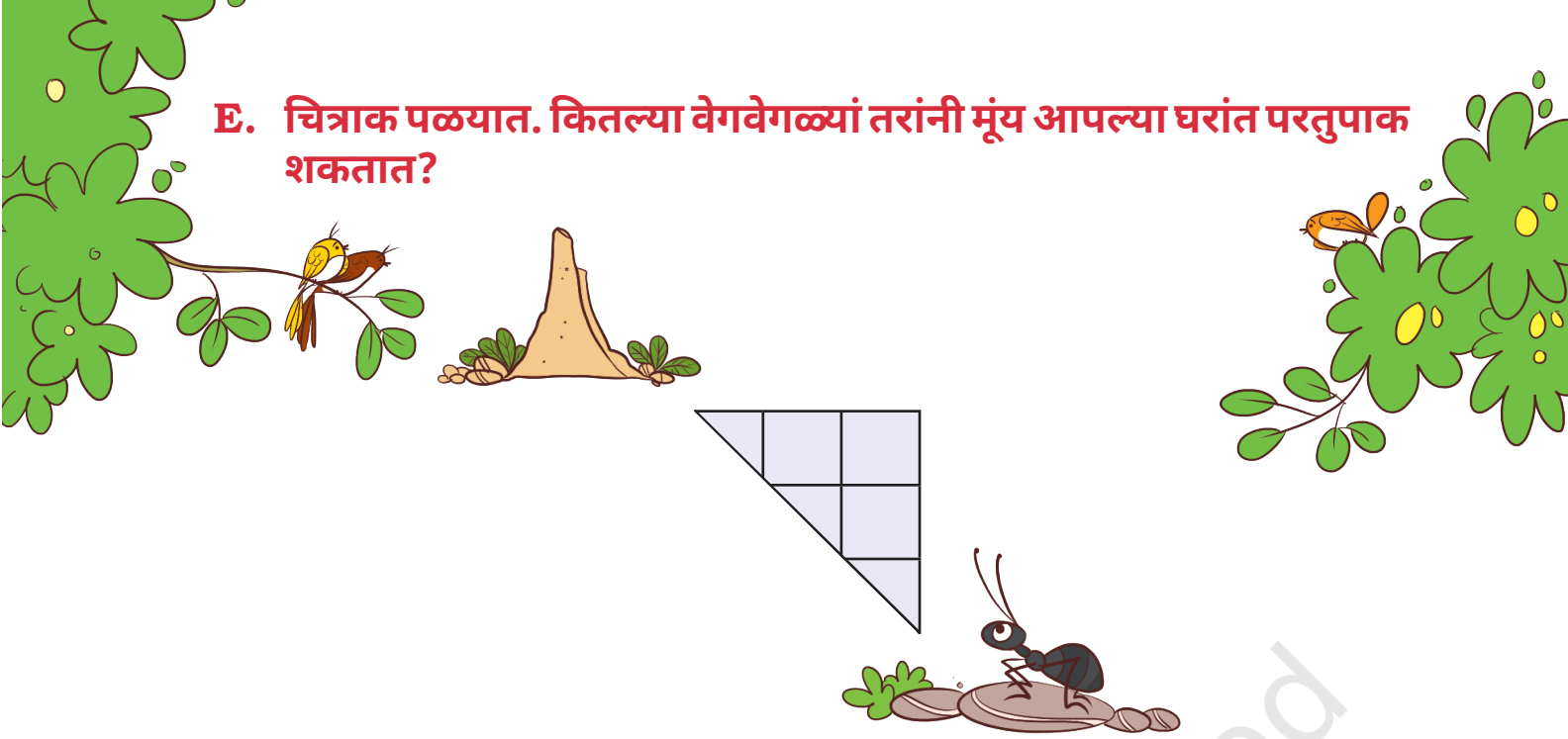
सुरवात केल्लो आंकडो घेवन वजा करात

तो आंकडो 4?

आतां ह्यो गणीतांतल्यो योजना वापरून तुमच्या इश्टां सयत खेळात.



E. चित्राक पळयात. कितल्या वेगवेगळ्यां तरांनी मूंय आपल्या घरांत परतुपाक शकतात?




F. 11 सावन 20 मेरेनचे आंकडे मेजात.

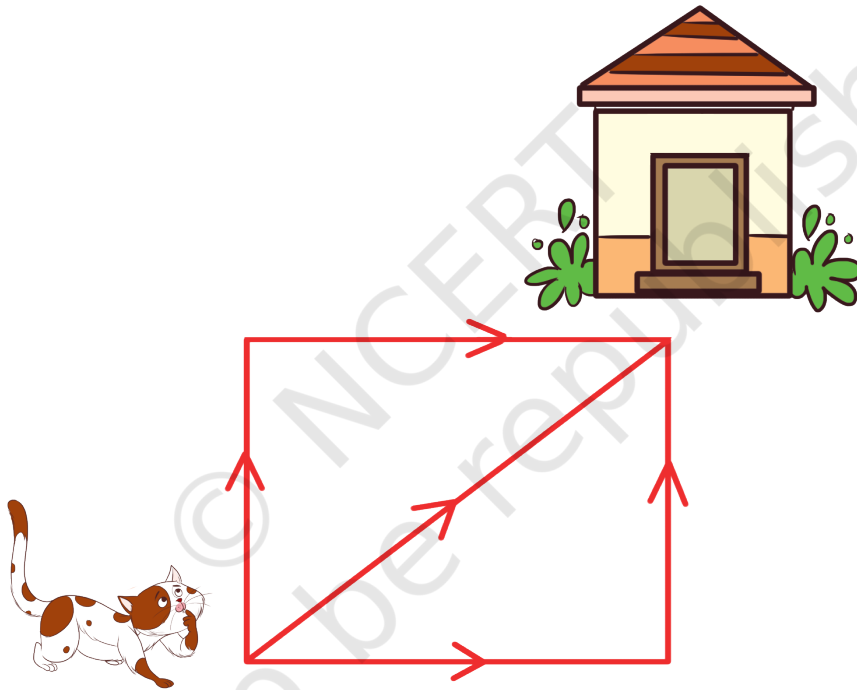
क	पा	नो	ब	वी	ही	ती	पि	रै	ते	आ
ख	स	क	ख	ह	स	ख	खा	पै	रा	ण
इ	द	ई	आ	रा	र	सा	ती	रू	बु	बो
च	व	दा	से	र	ती	ग	दै	तू	प	प
त	ता	ती	डा	ड	ढ	अ	ज	दी	र	सो
ए	को	णी	स	पौ	पं	रै	ठ	सै	पो	तै
ग	गौ	गो	गं	रा	ख	खा	खी	रा	खू	जो
बा	म	मा	त	मी	मि	मू	मु	मौ	मे	रा
रा	रे	स	रू	ए	क	रा	तू	तै	पं	ता
हा	कू	के	का	की	ळा	तै	क	ध	ने	बा



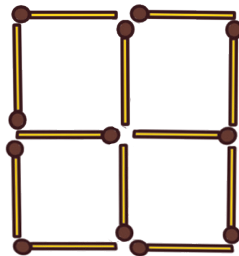
G. सावळी चित्राचो अभ्यास करात.



H. मांजर आपल्या घरान कितल्या तरांनी येवपाक शकता?



I. दोन फस्काकाडयो काडून 2 चौकोन करपाचो यत्न करात.



J. Who am I?

हांव कोण ?

हांव सायकलीचेर आसा

तशेंच गाडयेन आनी बशीन

हांव सपाट जालों जाल्यार त्यो मुखार वचपाक शकनात.

म्हजो आकार कितें?

K. एकूण 30 आंकडो जावपा पासत तुमी खंयचे चेंडू वेंचतले?


$$\bigcirc + \bigcirc + \bigcirc = 30$$

1	4	5	7
9	11	13	15

L. एक आंकडो वापरून दोन आंकडे आशिल्ले दोन आंकडे तयार करात.



M. एक अशी वाट काडात जेणे करून भुकेल्लो जिराफ झाडा मेरेन पावतलो.



N. वयर दिल्ल्या चित्रांक पळयात आनी जापो बरयात.

- वाटेर वतना जिराफ सगळ्यांत पयलीं कोणाक मेळ्ळो?


- वाटेर वतना जिराफ सगळ्यांत निमणे कडेन कोणाक मेळ्ळो?

- तुमी केन्ना तुमच्या घरा कडेन वतना वाटेर शेणल्यांत?

- तुमी तुमच्या घराचो रस्तो याद दवरपा पासत कितें करतात?

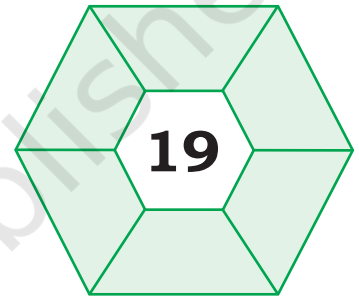
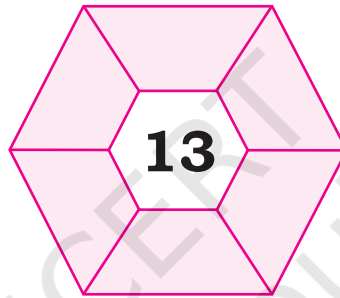
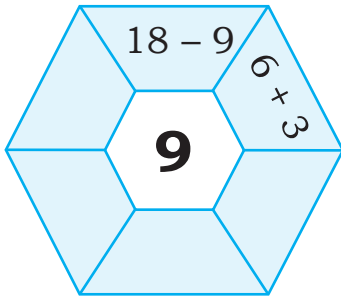


O. दिल्ले टिपके घेवन कितले समकोन (rectangle) तयार करपाक जातात?




Hint: टीप- चौकोन हो लेगीत एके प्रकारचो समकोन

P. बेरीज वा वजाबाकीचो वापर करून हें पुराय करात.



Q. एका गवळ्या कडेन 4 बकड्यो आनी 4 सुणो आसात. फुलबाग 4 वाट्यांनी विभागणी करात जेणे करून दर एका जाग्या भितर एक झाड, एक बकडी आनी एक सुणो आसतलो.



R. हांव कोण? (तुमकां हारसो आदार करपाक शकता)

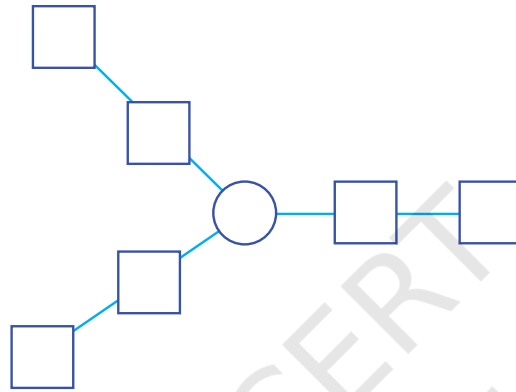
i. 4 7

ii. 8 8

iii. 9 9

iv. 1 7

S. तुमी 1 ते 7 आंकडे कशे तरेन मांडटले जेणे करून तिनूय वटांनी एकूण सारकी जातली?



T. एक 6 मिटरचो कपडो कुडक्यांनी कांपया. जर एक मिटर दर वेळा कांपला जाल्यार आमकां कितले फावटीं तो कांपचो पडटलो?

U. हांव मनांत एक आंकडो थारायतां आनी ताचो दुप्पट करता. जर म्हजी जाप 18 आसा, जाल्यार आंकडो कितें आसतलो?

V. कॅलकुलेटराचे 10 बटणां मारात जेणे करून ते 28 जातलें.



© NCERT
not to be republished