



## फेरयेची मजा



0224CH10

रुपलाक फेरयेक वचपाक खूप आवडटा. तें थळाव्या जाग्यार आशिल्ल्या फेरयेक आपल्या इश्टिणीं सयत वता. ताच्या आवयन ताका 50 रुपया दिले. ताणें तांतूतले चडशे पयशें रायड्सांचेर खर्च केलें.




भुरगीं फेरयेक कसल्या गजालींनी मजा करतात, ताचे विशीं उलयात. तीं कोणा बरोबर वतात, कितें घेतात आनी कितले पयशें मोडटात तें पळयात.



## हांवेन कितले मोडले?



₹10



रायड्सांचेर केल्लो एकूण खर्च =

रुपलाच्या आवयन  
दिल्ले पयशें

—

खर्च केल्ले पयशें

=

रुपला कडेन  
उरिल्ले पयशें

रुपलाच्या इश्टा कडेन 50सांतले 8 रुपया उरल्यात. ताका आपणें कितले खर्च केले ते जाणा जावपाक जाय आशिल्लें. तें कशें सोदून काडटा तें पळोवया.



म्हजे कडेन 8 रुपया उरल्यात आनी हांवें रायड्सांचेर 20 रुपया मोडल्या, जे एकूण 28 रुपया जातात. हांवें नाश्ट्याचेर 20 रुपया मोडले जे ताका जोडल्यार 48 रुपया जाता आनी हांवे 2 रुपया चॉकलेटींचेर मोडले जे जोडल्यार 50 रुपया जाता.

$$₹8 + ₹20 = ₹28$$

$$₹28 + ₹20 = ₹48$$

$$₹48 + ₹2 = ₹50$$

**₹42**

जर तुमकां बापायन 40 रुपया दिवन तुमचे कडेन आदीं 3 रुपया उरतात, तुमी कितले रुपया खर्च केले? सोदून काडात.





## आता करया

### A. कितले पयशे लागतले?

रायड	एकूण टिकेटी	पयशे
	2	₹ _____
	_____	₹30
	2	₹ _____

### B. आमी वेगवेगळ्या तरेच्यो नोटी आनी नाणीं पळयलीं जीं रुपल आनी ताच्या इश्टांनी वापरिल्लीं. आतां सामान्यपणान वापरिल्ल्या हेर भारतीय चलना विशीं उलोवया.



₹100



₹200




₹500





C. '500' हो आंकडो 500 रुपयांच्या नोटीचेर कितले फावटीं बरयला तें सोदून काडात.



- i. पांचशीं रुपया \_\_\_\_\_ फावटीं  
आंकड्यांनी बरयल्ले आसा.
- ii. 500 रुपया आंकड्यांनी \_\_\_\_\_  
फावटीं बरयल्ले आसा.

खंयच्या स्मारकाचें चित्र 500  
रुपयांच्या नोटीचेर आसा? तुमी  
केन्ना तें चित्र पळयलां?



भुरग्यांक हेर चलनां नियाळपाक लायात आनी तांच्या खाशेलपणांचेर चर्चा करपाक सांगात. तांचे कडेन चलन नोटींच्या देगेर आशिल्ल्यो वळी तशेंच दृश्टीहीन लोकांच्या वळखी खातीर केल्ली तजवीज वळखुपाक लायात.



तेजलाच्या आजयेन ताका कांय पयलीचीं नाणीं दाखयलीं जीं ताणें केन्नाच पळोवना. हीं नाणीं लेगीत आमी पळोवया.



25 पयशे



50 पयशे



10 पयशे



20 पयशे

तेजलाच्या आजयेन ताका कांय पयलीचीं नाणीं दाखयलीं जीं ताणें केन्नाच पळोवना. हीं नाणीं लेगीत आमी पळोवया.



50 पयशे

+



50 पयशे

=



एक रुपया

100 पयशे=

A. 25 रुपयांचीं कितलीं नाणीं म्हणल्यार एक रुपया जातलो? सकयल दिल्ल्या जाग्यार नाणें काडात.

= ₹1 1

काय 100 पयशे

B. 20 रुपयांचीं कितलीं नाणीं मेळून 1 रुपया जातलो?













## बोमाडो फोडात

मत्रूक बोमाडो फोडपाच्या खेळा बद्दल कळ्ळें. ताका 10 रुपयांक तीन संदी मेळटल्यो. मत्रू कितले पयशे जिकता तें पळोवया.



A. मत्रून बोमाडे फोडले जाल्यार ताका कितले पयशे मेळटले?

 	₹3
  	
  	
 	

B. जे बोमाडे तो फोडपाक सोदता ते बोमाड्यांक रंगयात जर ताका दिल्ली रक्कम जाय जाल्यार.

	₹17
	₹22
	₹31

C. खंयचे तीन रंगीत बोमाडे तुमी फोडपाक सोदतलीं जेणे करून तुमकां अदीक रक्कम फाव जातली? काडात आनी रंगयात.

एकूण रक्कम जिकली=

D. जर मत्रू कडेन चार संदी आशिल्ल्यो, जाल्यार खंयच्या रंगाचे बोमाडे चड फोडल्यार ताका चड पयशे मेळपाचे? काडात आनी रंगयात.

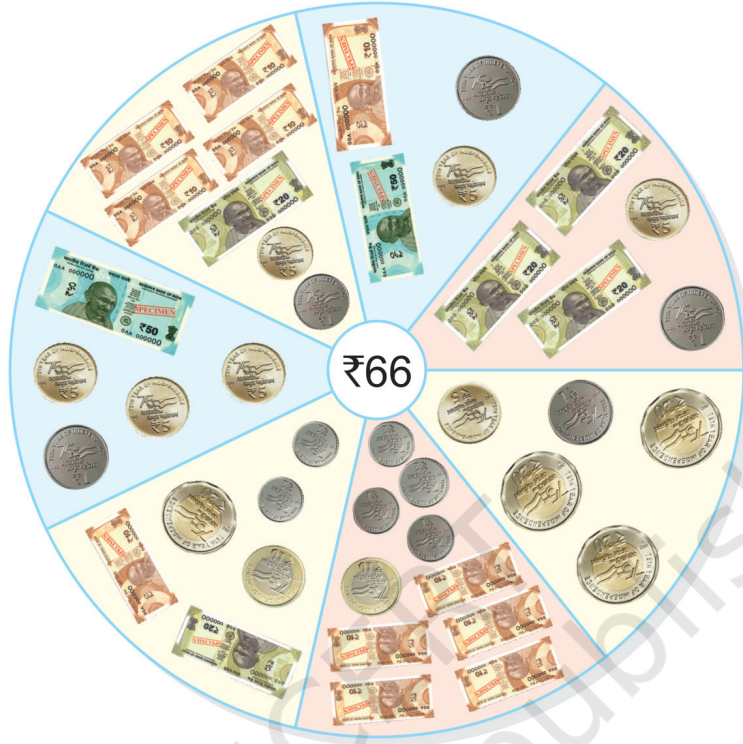
एकूण रक्कम जिकली=





## आता करया

66 रुपया कितल्या वेगवेगळ्या तरांनी मोडपाक जातात तें पळोवया.



दिल्ली रक्कम घेवन तांची वेगवेगळी एकटावणी करात.


रक्कम	₹1	₹2	₹5	₹10	₹20	₹50
₹54	—	2	—	3	1	—
₹85						







## विकतें घेवया



नग	वस्तूं घेवपा पासत लागपी पयशे	तुमचे कडेन आशिल्ले पयशे	उरिल्ले पयशे/ गरज आशिल्ले पयशे
	₹ _____		₹ _____
	₹ _____		₹ _____
	₹ _____		₹ _____





## आता करया

₹ 18

+ ₹ 32

\_\_\_\_\_

\_\_\_\_\_

₹ 15

+ ₹ 27

\_\_\_\_\_

\_\_\_\_\_

₹ 47

+ ₹ 50

\_\_\_\_\_

\_\_\_\_\_

₹ 22


+ ₹ 35

\_\_\_\_\_

\_\_\_\_\_

केन्ना केन्ना आमी मोबायला वयल्यान पयशे फारीक करतात तें तुमी जाणा?

- A. केन्ना केन्ना आमी मोबायला वयल्यान पयशे फारीक करतात तें तुमी जाणा?
- B. मिरा कडेन 43 रुपया आसात. कनीका कडेन 14 रुपया चड आसा. कनिका कडेन एकूण कितले पयशे आसात?
- C. ब्रॅडाचें पाकीटाक 30 रुपया पडटात आनी चॉकलेटींक 60 रुपया पडटात. विवेकाक कितले रुपया हें सगळें सामान घेवपाक जाय?
- D. अजया कडेन 58 रुपया आसात. तांणें 48 रुपया बाजारान मोडले. आतां ते कडेन कितले पयशे उरले?



## प्रकल्पाचे काम

जेन्ना जेन्ना तुमी बाजारान वा दुकानार तुमच्या आवय-बापाय सयत वतात, तुमी कितें घेतात आनी ताका कितले पयशे पडटात हाची नोंद दवरात.

अशे तरेचे आनीकूय गजाली तयार करात आनी भुरगीं बेरीज काय वजाबाकी करतलीं हें तांकां विचारात. भुरग्यां भितर पयशे सांबाळून मोडपाची वृत्ती चालीक लायात.

