



आंकड्या बरोबर मजा करात.



0224CH03

22

गिनलाडी पळयात.

A. गिनलाडीचेर कितले मणीं आसात?

B. गिनलाडीचेर कांय रिकामी कार्डां आसात. मणयांची संख्या मेजून तांचेर आंकडे बरयात.

C. सकयल दिल्ल्या क्रमांकांक नंबर कार्ड तयार करून तुमच्या गिनलाडीचेर दवरात.

38, 44, 58, 65, 98

क्रमांक पट्टी पळयात आनी रित्यो सुवाती भरात.


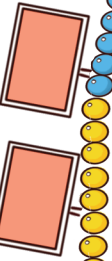
A. फुलपाखरूक गुलाबी फुलामेरेन पावपाखातीर _____ पावलां फुडें वचपाक जाय.

B. म्होंवां मूसांक तांबड्या फुलामेरेन पावपाखातीर _____ पावलां आनी हळडुव्या फुलामेरेन पावपाखातीर _____ पावलां फुडें वचपाक जाय.

C. चानी 2 पावलां फाटीं, पांच पावलां फुडें आनी परतून 3 पावलां फाटीं उडी मारता. तो पावता. _____.

D. बेबो दोन पावलां फुडें, सात पावलां फाटीं आनी परतून 3 पावलां फाटीं उडी मारून पावता _____.

Ginadi

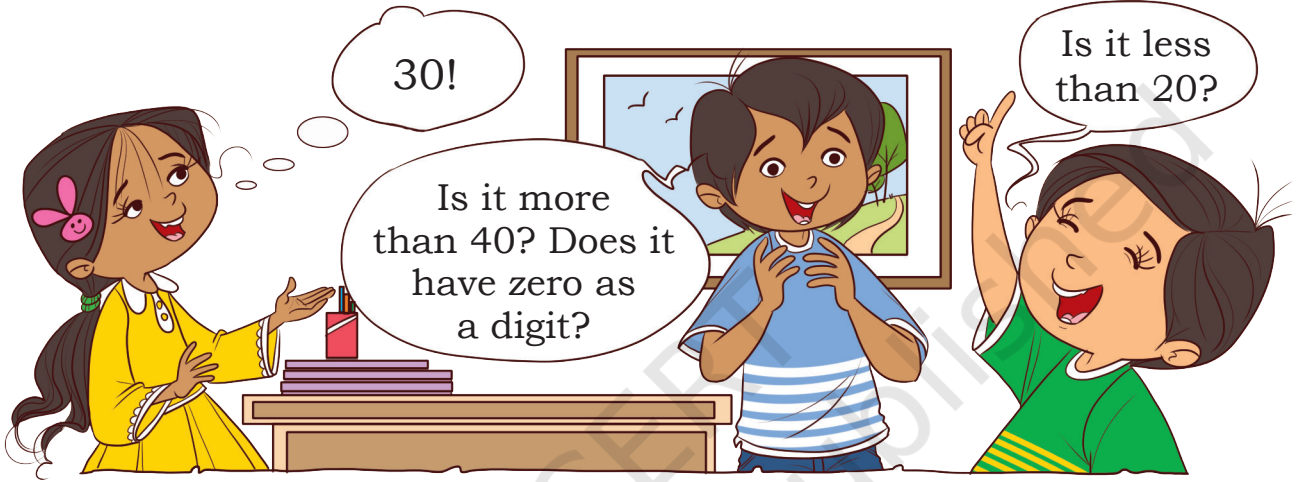




आनी खेळां.

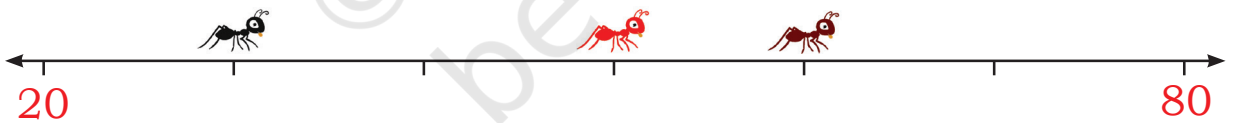
म्हजो आंकडो चिंतात.

एक भुरगो एक आंकडो चिंतात आनी हेर भुरग्यांनी तांचो अदमास घवंचो पडटा. भुरगीं अशे प्रस्न विचारतलीं, 50 परस चड आसा काय? एकाच आंकड्याचे दोनी अंक सारके आसात? 'हय/ना' अशी जाप दिवंक मेळपीच प्रस्न. तांकां चडांत चड 10 प्रस्न विचारून संख्या अदमास घेवंक येतात.



म्हजी सुवात चिंतात.

तीन मूंयो क्रमांक रेशेचेर बसल्या. ह्या मूंया खातीर आंकडो बरयात.



काळी मूंय आंकड्याचेर बसल्या.

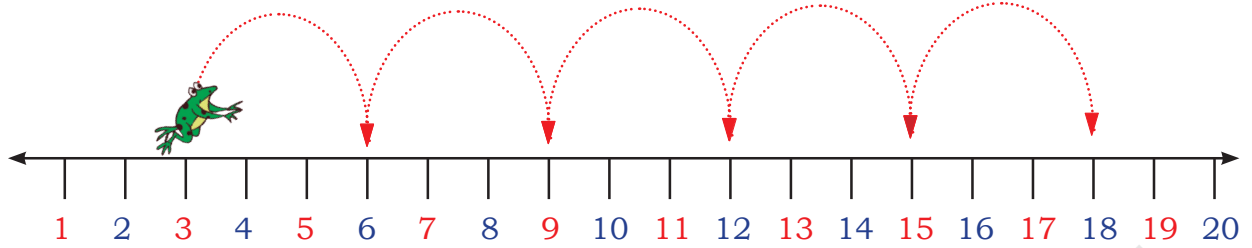
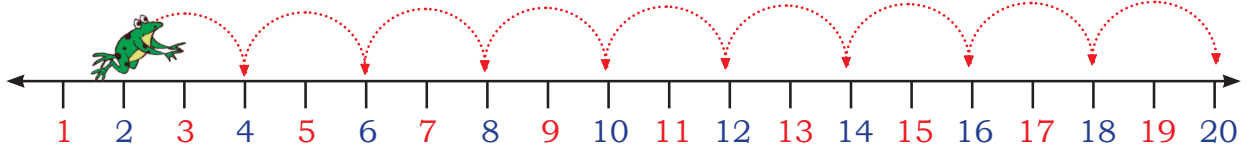
तांबडी मूंय आंकड्याचेर बसल्या.

तपकिरी रंगाची मूंय आंकड्याचेर बसल्या.

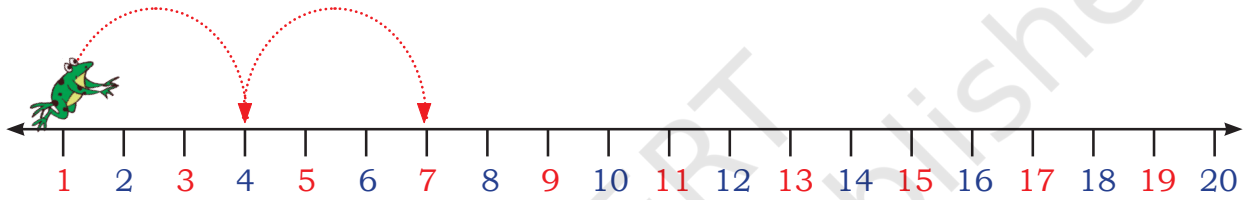
वयर दाखयल्ले क्रमांक रेशेचेर 65 क्रमांकाचेर एक मूंय काडची



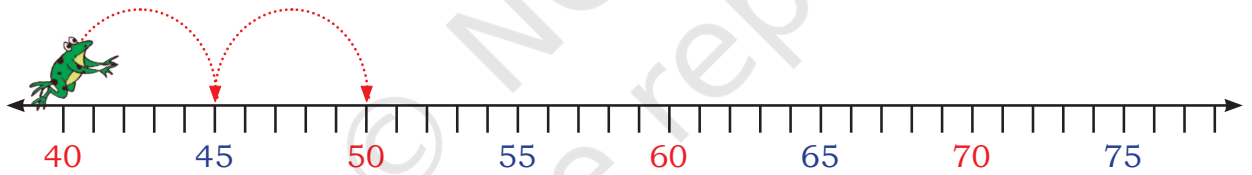
पळय! कितलो उडी मारता, बेबो उडी मारता. हांगा तुमकां नमुनो दिसता?



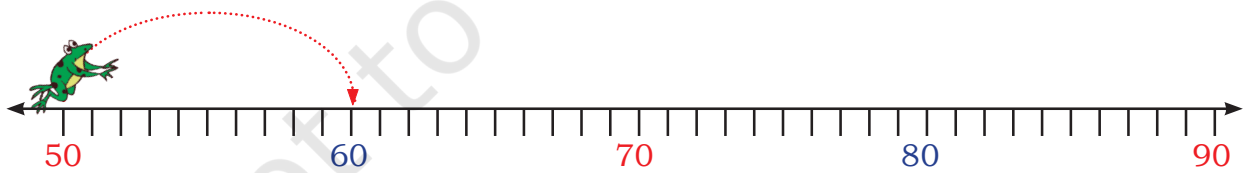
सकयल दिल्ले नमुने पुराय करात.



A. 1, 4, 7, _____, _____, _____, _____



B. 40, 45, 50, _____, _____, _____, _____



C. 50, 60, _____, _____, _____

भुरग्यांक जमनीचेर स्वताची नंबर रेखा तयार करपाक प्रोत्साहीत करप आनी ताचेर उडी मारपाक सांगप. तांकां प्रस्न विचारात जशे की तुमी दोन पावलांनी उडी मारतात जाल्यार, खंयच्या आंकड्याचेर पावल दवरतले, आदी.





आमी करया

वयर दाखयल्ले क्रमांक रेशेचेर 79 क्रमांकाचेर साकरेचो कण काडचो.

A. संख्या आकृतीबंधाचेर, दोन सोडून मेजप आनी संख्याचेर रेखांकन करात ● आतां पाच सोडून मेजात आनी ▲ संख्या आकृतीबंधांतल्या आंकड्यांचेर काडात.

B. दोन आनी पांच हांच्या मदीं सोडून घेतिल्लो सामान्य आंकडे बरोवचे.

C. दोन, तीन आनी पांच हांच्या मदीं सोडून सामान्य आंकडे बरोवचे.

D. पांच आनी सात हांच्या मदीं सोडून घेतिल्लो सामान्य आंकडे बरोवचे.

1	2	3	4	5	6	7	8	9	10
11	12	13	14	15	16	17	18	19	20
21	22	23	24	25	26	27	28	29	30
31	32	33	34	35	36	37	38	39	40
41	42	43	44	45	46	47	48	49	50
51	52	53	54	55	56	57	58	59	60
61	62	63	64	65	66	67	68	69	70
71	72	73	74	75	76	77	78	79	80
81	82	83	84	85	86	87	88	89	90
91	92	93	94	95	96	97	98	99	100

उडी मारून जापो सोडून काडात. हय वा ना अशें बरयात.

जमनीर संख्या रेखा तयार करून ताचेर उडी मारची

A. 10 जर तुमी धा तल्यान सुरवात केली आनी दशकांतल्यान उडी मारली जाल्यार तुमी खंयच्याय वेळार 100 क्रमांकाचेर देंवतले?

B. उडी मारून सोडून काडात 5 वयल्यान सुरू करून पांचांत मेजल्यार खंयच्याय वेळार 40 क्रमांकाचेर उडी मारतले?

C. 0 पासून सुरू करून पांचांत मेजल्यार खंयच्याय वेळार 55 क्रमांकाचेर उडी मारतले?

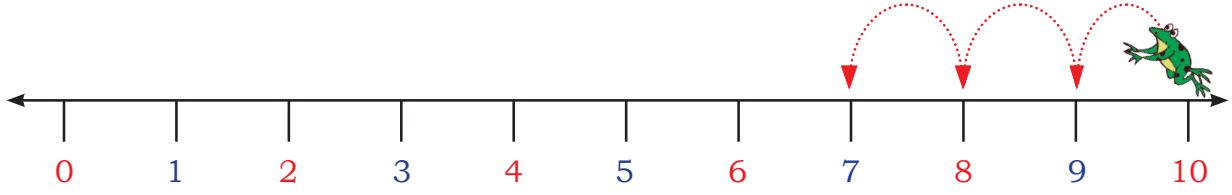
D. वयल्यान सुरवात करून दोनांन मेजल्यार खंयच्याय वेळार 17 क्रमांकाचेर उडी मारतले?

E. 13 वयल्यान सुरवात करून तीनांन मेजल्यार खंयच्याय वेळार 24 क्रमांकाचेर उडी मारतले?



आमी फाटल्यान उडी मारया.

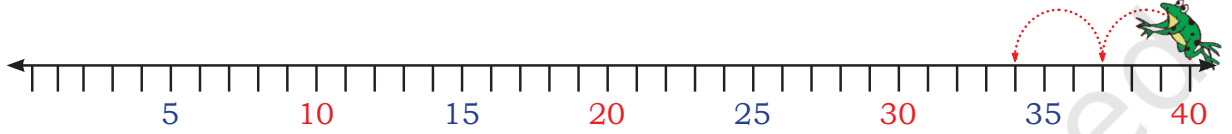
सकयल दिल्ले नमुने पुराय करात.



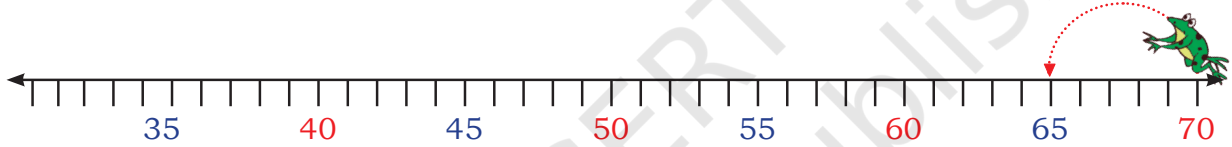
10 च्या पयलुनव कितें येता?

9 पयली कितें येता?

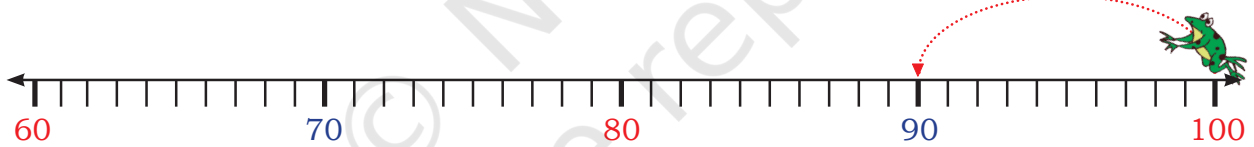
10, 9, 8,



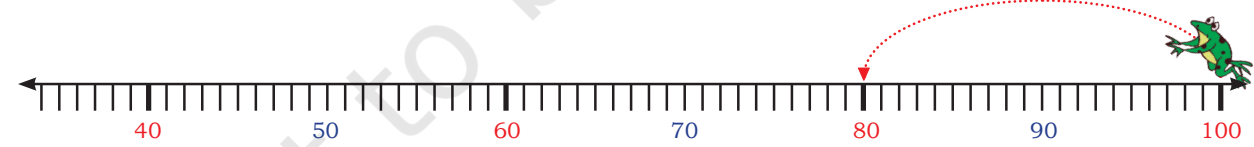
A. 40, 37, 34,



B. 70, 65, 60,



C. 100, 90,



D. 100, 80,

दिल्ल्या आंकड्यांनी नमुनो आसा काय? ना जाल्यार नमुनो तयार करपाक आंकडे बदलात. तशेंच ताचो विस्तार करचो.

100, 90, 80, 70, 60,





आमी उलोवया.

- A. रिजवान 20 उपरांतचे आंकडे मेजता. तो आपल्या गणनेंत 19 क्रमांक म्हणटलो काय? कित्याक तें सांगात.
- B. छवी 10 पासून दोनांत फाड्यांनी मेजता. तें 43 म्हणटलें? कित्याक तें सांगात.
- C. माला 20 पासून फाटी मेजता. 0 मेरेन पावपाक कितली पावलां लागतलीं? कित्याक तें स्पश्ट करचें?
- D. विराज 20 पासून दोनांत फाटीं मेजता. 0 मेरेन पावपाक कितलीं पावलां जाय पडटलीं? चर्चा करात.

संख्या आकृतीबंधांतले नमुने.

1	2	3	4	5	6	7	8	9	10
11	12	13	14	15	16	17	18	19	20
21	22	23	24	25	26	27	28	29	30
31	32	33	34	35	36	37	38	39	40
41	42	43	44	45	46	47	48	49	50
51	52	53	54	55	56	57	58	59	60
61	62	63	64	65	66	67	68	69	70
71	72	73	74	75	76	77	78	79	80
81	82	83	84	85	86	87	88	89	90
91	92	93	94	95	96	97	98	99	100





आमी करया

संख्या आकृतीबंध पळयात आनी संख्या बरयात.

10च्या पयली येता

20च्या पयली येता

30 च्या पयली येता

40 च्या पयली येता

तुमकां खंयचो नमुनो दिसता? संख्या आकृतीबंधाचेर आशिल्ल्या क्रमांकांक कोरांचे कुरु करात. हेर आंकड्यां खातीर नमुनो चालूच उरता काय? हय जाल्यार नमुनो बरयात.

____, ____ , ____ , ____ , ____ , ____ , ____ , ____ , ____ , ____

आतां, संख्या आकृतीबंधांत पावच्या रंगाचे आंकडे पळयात. त्यो बरोवया.

1, 12, 23, ____ , ____ , ____ , ____ , ____ , ____

तुमकां खंयचो नमुनो दिसता? चर्चा करात.

लक्ष्यान एक संख्या जनेल तयार करून ती सकयल दाखयल्ले प्रमाण संख्या आकृतीबंधाचेर दवरली.

A. जनेलाचें केंद्र 28 चेर दवरल्यार खंयचो आंकडो ताचे वयर आसतलो.

B. खंयचो आंकडो ताचे सकयल आसतलो.

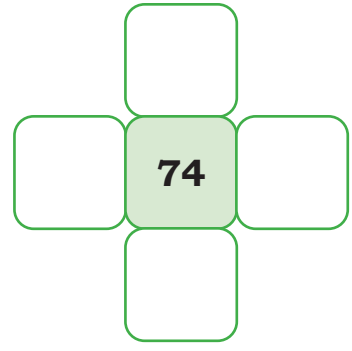
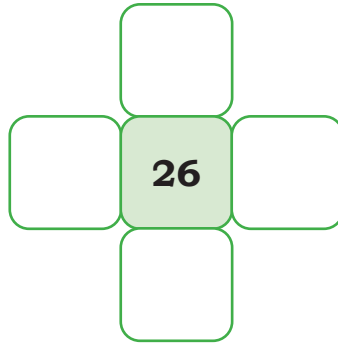
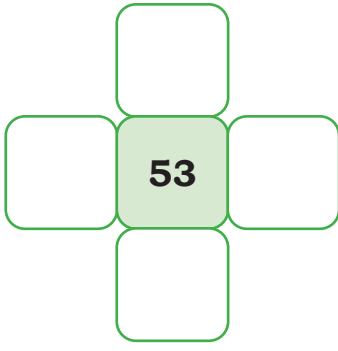
C. खंयचो क्रमांक ताचे उजवे वटेन आसतलो.

D. खंयचो क्रमांक ताचे दावे वटेन आसतलो.

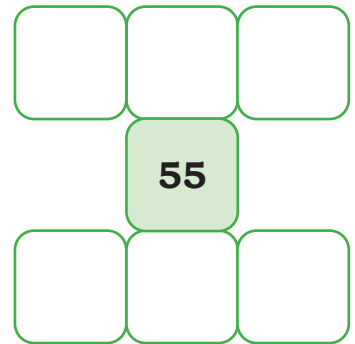
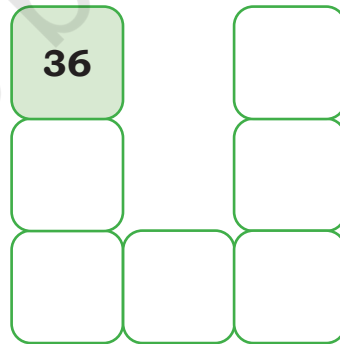
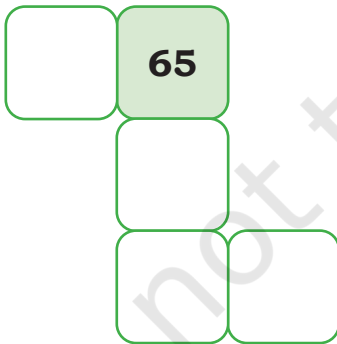
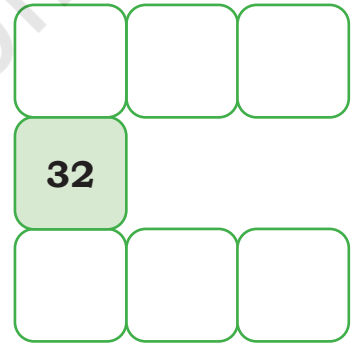

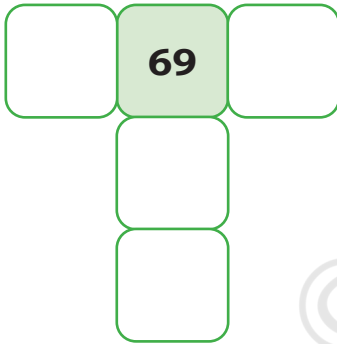
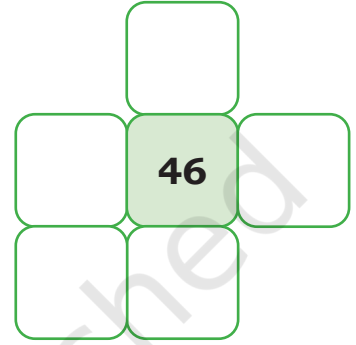
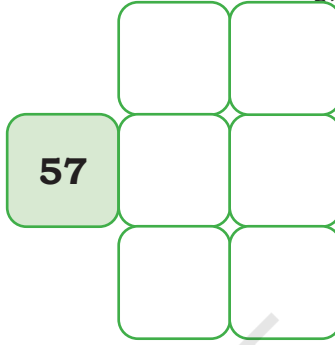
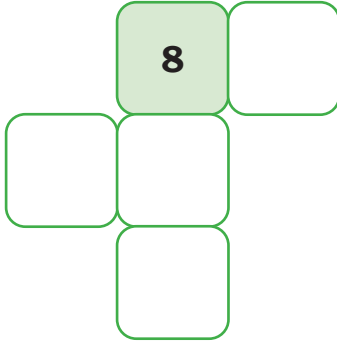
E. हेर आंकड्यां खातीर करया.

1	2	3	4	5	6	7	8	9	10
11	12	13	14	15	16	10 कमी			20
21	22	23	24	25	26	1 कमी	28	1 चड	30
31	32	33	34	35	36	10 चड			40
41	42	43	44	45	46	47	48	49	50
51	52	53	54	55	56	57	58	59	60
61	62	63	64	65	66	67	68	69	70
71	72	73	74	75	76	77	78	79	80
81	82	83	84	85	86	87	88	89	90
91	92	93	94	95	96	97	98	99	100



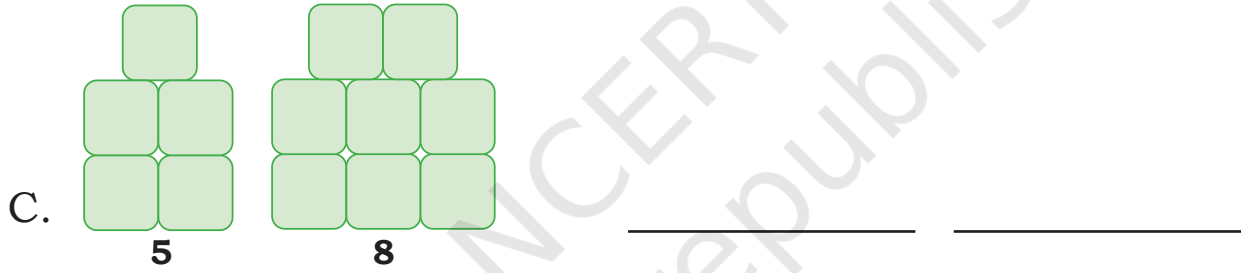
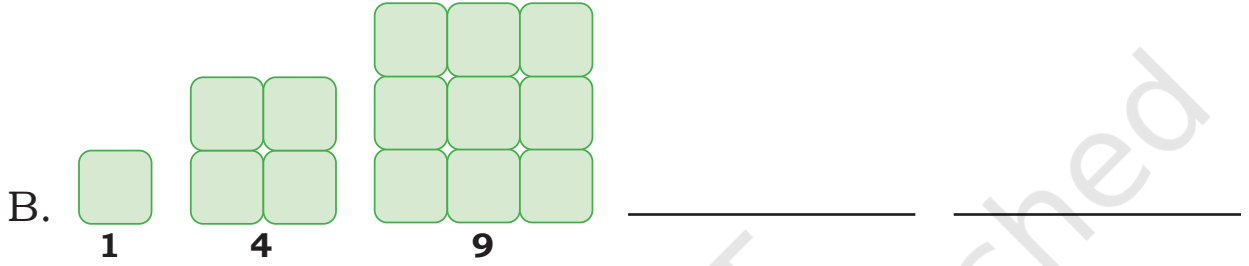
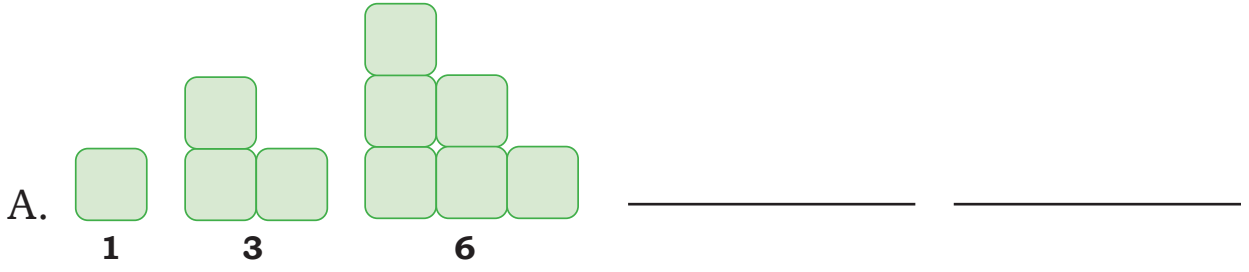


F. त्याच क्रमांत जाळीचेर आदारीत गळून पडपी क्रमांक भरात.



नमुन्यांचो सोद घेवप

सकयल दिल्ल्या आकारांत ब्लॉकांची संख्या कशी वाडटा ते पळयात आनी नमुनो वाडयात.



आतां बिंगो खेळया

बिंगो खेळपा खातीर एक 3×4 चो चौकट काडात

जाळयेच्यो पेटी 2-12 मेरेन खंयच्याय आंकड्यान भरात. आंकडे परत परत येवं येतात.

एका भुरग्यांक दोन पाशें वा गडगडे उडोवंक दिवंचे आनी पासावयल्यान बिंदूच्या संख्येची बेरीज करपाक सांगची. हेर भुरगीं आपल्या जाळयेचेर आशिल्लो आंकड्याक चूक अशी कुरु करतली. भुरगो सगळे आंकडे पार करता मेरेन हें चालूच दवरात. बिंगो!

ग्रिडाचेर बरोवपाचे आंकडे वेंचपा खातीर विध्याथ्यांक आपली रणनिती तयार करपाक प्रोत्साहीत करात.

