



2

आमचे भोंवतणचे आकार







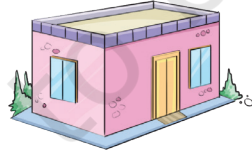
चल करया.

A. चित्र पळयात आनी वेगवेगळ्या वाद्यांचें निरिक्षण करात.


- आकारासारक्या ○ ढोलाच्या  वाद्यांचें वर्तुळ करचें
- मटकाच्या  आकारान आशिल्ल्या संगीतांतल्या वाद्या भोंवतणी  अशी खूण करात.
- शेहनाईच्या  आकारान आशिल्ल्या  वाद्या भोंवतणी खूण करात. (, , ).
- पेटयेच्या आकार ड्रमाच्या  आकारा परस  कसो वेगळो आसा?

B. तुमी खंयचेंय वाद्य पळयलां वा वाजयलां? तुमचे अणभव तुमच्या वर्गांतल्या इश्टांक सांगात.






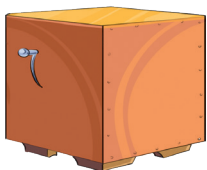
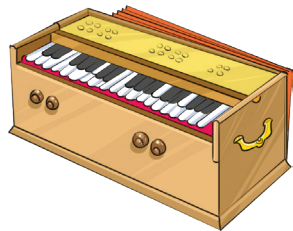
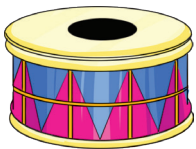
C. विचित्र दिसपी वस्तू भोंवतणी चूक अशी खूण करुन भायर काडात.



वेगवेगळ्या वाद्यांच्या आकारांतल्या सारकेपणाचेर चर्चा सुरू करात आनी थळाव्यान उपलब्ध आशिल्ल्या वाद्यांचेर आनी त्यो वाजोवपाचे पद्दती विशीं उलयात. देखीक- ढोल आनी तबला तांकां मारून वाजयतात, जाल्यार गिटार आनी सितार तांचो तार वापरून वाजयतात आनी शेहनाय, बांसरी तोंडांतल्यान हवा भायर फूंक मारून वाजयतात.



वाद्य आनी वस्तू तांच्या घट्ट आकाराकडेन जुळोवप. तुमचे खातीर एक केलां.



हिना आनी अतीफ

म्हाका म्हज्या
इश्टाच्या
वाडदिसाक ही भेट
पेटी सजोवपाची
आसा.

हांवेन फिती, नखेत्रां
आनी पोम्पोम बॉल्स
हाडल्यात. आता हें
सजवया.




आमी दर एका
पेटीच्या तोंडार एक
नखेत्र लायतले.

वा! तें खूब बरें दिसता.
आमकां आनीक कितली
नखेत्रां जाय तीं मेजया.
ताका 6 तोंड आसात म्हणून
आमकां 6 नखेत्रां जाय.




तें खरेंच खूब सोबीत
दिसता. ताच्या कुशीक
हांव फिती घालतां.



हय! मागीर, आमकां दरेक वटेन वा
कडे खातीर 12 फिती जाय पडटात.
कांय ल्हान आनी कांय लांब
आसतली.





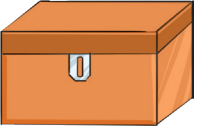
खडू पेटी, डस्टर, खडू आदी वस्तूंचे पृश्ठभाग, कांठ आनी कोणसो भुरग्यांक अणभवूंक दिवंचें.





चल करया.

तशेंच सकयल दिल्ल्या आकारांकय नखेत्रां, फिती पट्ट्यो आनी पोम्पोम बॉलांनी अशेच तरेन सजोवचे पडले जाल्यार तुमकां ह्या कितल्या वस्तूंची गरज पडटली?

वस्तू	तोंडांखातीर नखेत्रांची संख्या	कांठां/बाजूंखातीर फिती पट्ट्यांची संख्या	कोनशां खातीर पोम्पोम बॉलांची संख्या
			
			
			





आमी विचार करूया

वस्तू पळयात आनी पाडो पुराय करात.

वस्तू	हांव अशें दिसता	तोंडां	धार वा कड	कोनशें
	शंकू			
	घनरूप			
	शंकू			
	सिलेंडर			
	गोल			
	घनरूप			
	शंकू			
	सिलेंडर			





आमी खेळूया

स्पर्श करात आनी सांगात. हांव कोण?

तोंडां, कोनशें आनी कांठां वा कडां हातूंत फरक आशिल्लीं वेगवेगळीं वस्तू एकठांय करात. भुरग्यांचे दोळे धांपून हेर भुरग्यांनी दिल्ल्या तपशीला प्रमाण एक वस्त उखलपाक सांगप. देखीक- भुरग्याक एक कोनसो आशिल्ली वस्त काडपाक सांगूं येता. तेच प्रमाण हेर वस्तू कडेन चालू दवरात.



चल करया.

ज्या वस्तूक----आसतात तांकां नांव दियात.

कोनशे ना.

- A. _____
B. _____
C. _____

एक कोनसो.

- A. _____
B. _____
C. _____

तीन कोनशे.

- A. _____
B. _____
C. _____

_____ कोनशे

- A. _____
B. _____
C. _____



प्रकल्पाचें काम.

पुठ्याचें पत्रक घेवन चार तोंड आशिल्ली वस्तू तयार करपाचो यत्न करात. आतां, एकाच तोंडान वस्तू तयार करपाचो यत्न करात.

एक, दोन, तीन वा कसलेच कोनशे नात अशा वस्तूंचेर चर्चा करात आनी ते सोदून काडपाक भुरग्यांक प्रोत्साहित करात. मातयेचो वा पिठाचो उपेग करून अशो वस्तू तयार करूं येतात.

