



दर्यावेळेर एक दीस



Q224CH01



सकयल दिल्ल्या वस्तूंचो आंकडो मेजात आनी बरयात.

नाल्ल व्हडीं

भुरगीं संत्रां

तुमी कशें मेजले? एक एक करून मेजले काय गुच्छांनी काय गटांनी?

भुरग्यांनी दर्यावेळ वा न्हंयची देग जर पळयल्या आसत जाल्यार तांणी थंय कसलीं जनावरां वा कसली वनस्पत पळयल्या ताचे विशीं तांचे कडेन चर्चा करात. गटानीं मेजपाक तांकां उर्बा दियात.






चल करया.

1. सकयल दिल्ल्या चित्रांत दुकान पळोवन रित्यो सुवाती बरात.

- थंय _____ शिंपयांचे हार आसात दर एका हाराक 10 शिंपयो.
- थंय _____ फुग्यांच्या गट आसात दर गटांत _____ फुगें आसात आनी _____ मेकळे फुगे आसात.
- . थंय _____ केळींचे फेणें आसात दर फेण्यांत _____ केळीं आसात आनी _____ मेकळीं केळीं आसात.

2. सुरबीन कांय दर्यांतल्यो शिंपयो पुंजायल्यांत. ताका ताचे आवयक हार आनी माशकांत तयार करूंक आदार करपाक जाय.



C. सुरबीन माशकांत करपाक शिंपयांचे _____ गट केल्या आनी दरेका गटांत _____ शिंपयो आसात.



D. ताचे आवयन हार तयार करपाक शिंपयांचे _____ गट केल्या आनी दरेका गटांत _____ शिंपयो आसात.



जीब घुंवंडावपी ही क्रिया करात.

"शी सॅल्स सी शॅल्स ऍट द सिशोर"





आमी विचार करया.

धा वस्तूंच्या पुड्यांची वळेरी करात.

A. _____ B. _____ C. _____

रुचीक चिकू!

मनोज आपल्या बापायक ट्रेयींत मांडून दवरिल्ले चिकू विकपाक आदार करता.




एके ट्रेयींत _____ चिकू आसात.

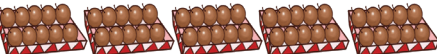
एकूण कितले चिकू आसात? _____

Now help Manoj in placing all the *chikoos* in the trays for selling.

A. 25 चिकू:  : _____ चिकूंच्यो धा ट्रे आनी _____ चिकू.

B. 43 चिकू:  : _____ चिकूंच्यो धा ट्रे आनी _____ चिकू.

C. 35 चिकू:  : _____ चिकूंच्यो धा ट्रे आनी _____ चिकू.

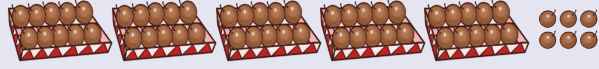
D. 58 चिकू:  : _____ चिकूंच्यो धा ट्रे आनी _____ चिकू.






जोड्यो लावया


A. 80 चिकू



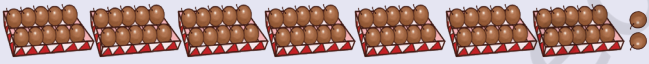
B. 72 चिकू



C. 56 चिकू



D. 28 चिकू



ब्लॉक आनी पट्ट्यां बरोबर मजा




म्हजी ब्लॉकांची काडी पळय.



तुमी ह्या ब्लॉकाचे काडयेक कितले ब्लॉक आसात तें सांगशात?

1 ब्लॉकाची काडी = _____ ब्लॉक.



म्हजी ही धांची पट्टी पळयात.



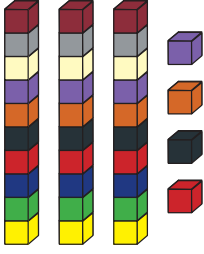
हे धांचे पट्टेंत कितले युनीट आसात ते सांगूंक शकता?

1 धांची पट्टी = _____ युनीट







चल करया.



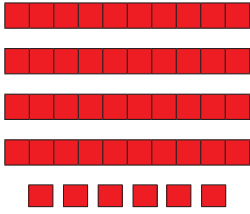
3 ब्लॉक काडयो
आनी 4 ब्लॉक्स
वट्ट ब्लॉक्स



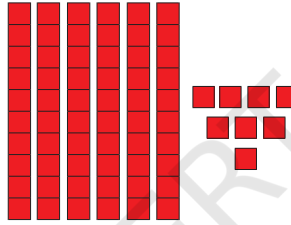
___ ब्लॉक काडयो आनी
___ ब्लॉक्स
___ वट्ट ब्लॉक्स



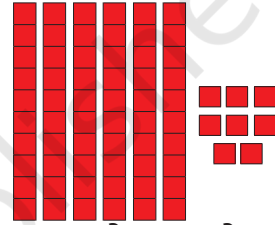
___ ब्लॉक काडयो आनी
___ ब्लॉक्स
___ वट्ट ब्लॉक्स



___ धांच्यो पट्ट्यो आनी
___ युनीट
___ वट्ट युनीट्स



___ धांच्यो पट्ट्यो आनी
___ युनीट
___ वट्ट युनीट्स



___ धांच्यो पट्ट्यो आनी
___ युनीट
___ वट्ट युनीट्स

सकयल दिल्लो तकटो पुराय करात

वट्ट ब्लॉक्स/युनीट	धांच्यो पट्ट्यो	युनीट
24	2	4
36		
72		
69		
46		

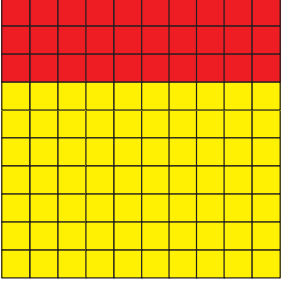



भुरग्यांमदी संख्या संवेदना तयार करपा खातीर काडयो वा काडयेंचें गुच्छे वा समान सामुग्री वापरात.



100 करया!

पळय! हांवें 10 पट्ट्यो एकठांय जोडल्या.

हें वट्ट 100 युनिटांनी तयार केलां.

 <p>70 हळडुवे युनीट्स आनी 30 तांबडे युनीट्स. 7 हळडुव्यो धाच्यो पट्ट्यो आनी 3 तांबड्यो धाच्यो पट्ट्यो. वट्ट युनीट वा 10 धाच्यो पट्ट्यो.</p>	 <p>___ हळडुवे युनीट्स आनी ___ तांबडे युनीट. ___ हळडुव्यो धाच्यो पट्ट्यो आनी ___ तांबड्यो धाच्यो पट्ट्यो. ___ वट्ट युनीट वा ___ धाच्यो पट्ट्यो.</p>
 <p>___ हळडुवे युनीट आनी ___ तांबडे युनीट. ___ हळडुव्यो धाच्यो पट्ट्यो आनी ___ तांबड्यो धाच्यो पट्ट्यो. वट्ट ___ युनीट वा ___ धाच्यो पट्ट्यो.</p>	 <p>___ हळडुवे युनिट्स आनी ___ तांबडे युनीट्स. ___ हळडुव्यो धाच्यो पट्ट्यो आनी ___ तांबड्यो धाच्यो पट्ट्यो. वट्ट ___ युनिट्स वा ___ धाच्यो पट्ट्यो.</p>

100 एककांची जाळी तयार करपी धा पट्ट्यांच्यो हेर कांय संयोजनांचेर भासाभास करात.



100 करया!

हो खेळ 5 वा 6 जाणांच्या गटांनी खेळूया, एक वांगडी बँकर जातलो. दरेक पंगड वांगडी दोन पासा एकठांय घुंवडायतलो आनी बँके कडल्यान इतले एकक घेतले. जेन्ना जेन्ना 10 इतले वा ताचे परस चड एकक आसतले तेन्ना ते धा एककांची अदलाबदल बँकरा कडल्यान धा पट्टे खातीर करतले. तशेंच खेळात आनी 10 धा पट्ट्यो एकठांय करून 100 एककांची जाळी तयार करपाक दवरात. राजमा, कोंड्या, चना आदी वस्तूय आमी एकक म्हूण वापरूंक येतात.

कार्डां वरवीं मेजप



भुरग्यांक एकक आनी दशका खातीर वेगवेगळीं कार्डां वापरपाक प्रोत्साहन दियात.





विचार करया

सकयल दिल्लें पुराय करात.



$$= 30 + 1 \text{ or}$$


T	O
3	1

तर, हांगां 31 शिंपयो आसात.



$$= \square + \square \text{ or}$$

T	O



$$= \square + \square \text{ or}$$

T	O



$$= \square + \square \text{ or}$$

T	O

धाय आनी (▲) एके हीं (●)कार्डा चित्रावन रित्यो सुवाती भरात.

$$= 90 + 3 \text{ or}$$

T	O

___ धाय ___ एके

$$= \square + \square \text{ or}$$

T	O
7	5

___ धाय ___ एके

$$= \square + \square \text{ or}$$

T	O
2	9

___ धाय ___ एके





चल खेळया

आंकडे तयार करात

भुरग्यांक धा वा एक अशी वेगवेगळीं क्रमांकाचीं कार्ड वापरून क्रमांक तयार करूंक येतात. शिक्षक एक नंबर म्हणटा, म्हणल्यार 52. 50 आनी 2 चें नंबर कार्ड आशिल्लीं भुरगीं एकठांय येवन सकयल दाखयल्ले प्रमाण 52 क्रमांक तयार करतली. अशा 27 आंकड्यां खातीर हो खेळ चालू आसतलो.



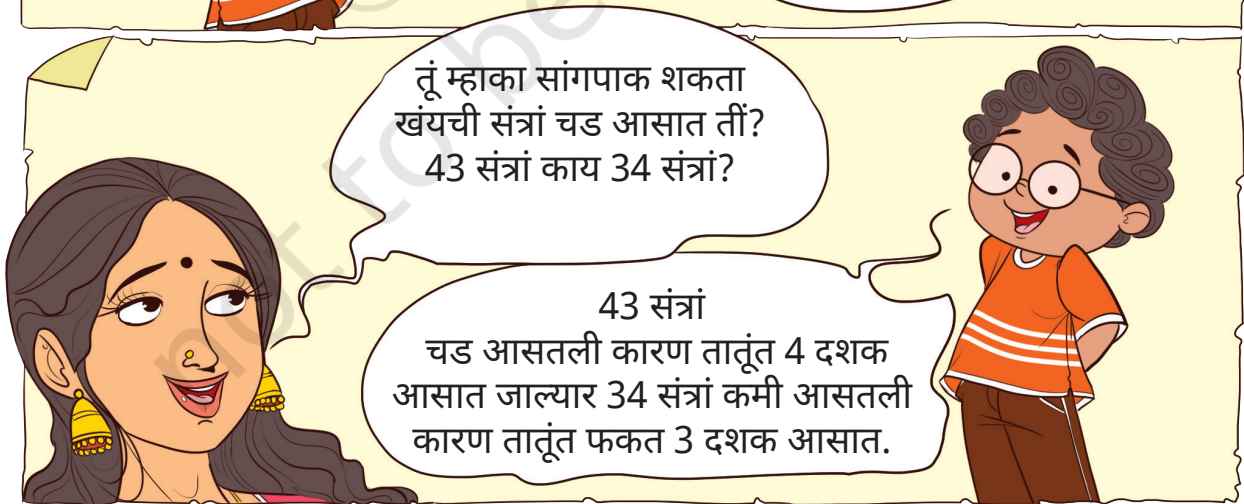

संत्रांच्यो ट्रे



भुरग्यांक एकक आनी दशकाचे गट करपाचो खूब सराव करचो. देखीक- 73 हें 70 आनी 3 वा 7 धा आनी 3 एक हांचो आस्पाव जाता. भुरग्यांक दोन अंकांच्या आंकड्यांची स्वताचीं कार्यपत्रकां तयार करपाक दिवचीं.

73	$70 + 3$	T	O
		7	3






खंयचीं संत्रां कमी आसात 27 संत्रां काय 72 संत्रां आनी कित्याक?



खंयचीं संत्रां कमी आसात 27 संत्रां काय 72 संत्रां आनी कित्याक?

- A. 67 चिकू हे 76 चिकू परस _____ आसात.
B. 53 शिंपयो ह्यो 35 शिंपयां परस _____ आसात..



चल करया.

रित्यो सुवाती भरात.

- A. 29 हो 20 परस चड. B. _____ हो 41 परस कमी
C. _____ हो 76 परस कमी. D. हो _____ परस चड आसा. _____
E. हो _____ परस कमी आसा. _____ F. _____ हो 2 परस कमी आसा.
G. हो _____ परस चड आसा. _____ H. _____ परस चड आसा. _____

भुरग्यां कडेन दोन प्रमाणांची तुळा करपाक मेळपी परिस्थितीचेर भासाभास करात. भुरग्यांक कोंड्याचे, संगमरवरी, बाटलेचीं टोप्यां, बियो आदी काँक्रीटाच्यो वस्तूंचे दोन गट तयार करपाक सांगात आनी खंयच्या गटांत चड वस्तूंचो आंकडो आसा हाचो अदमास करपाक सांगात.

उपरांत तांणी वस्तू मेजून आपलो अदमास सत्यापीत करूं.





चल खेळया.

फ्लॅश कार्ड गेम

A. 0 ते 9 मेरेनच्या क्रमांकांचे फ्लॅश कार्ड तयार करात, हीं कार्डां योग्य रितीन धा आनी एक सुवातेर दवरून सकयल दिल्ल्या नेमा प्रमाण जाय आशिल्लो क्रमांक तयार करचो.

- A 50 परस चड आंकडो.
- A 30 परस उणो आंकडो.
- A 47 ते 59 मदलो आंकडो.
- तुमी तयार करपाक शकतात तो सगळ्यांत ल्हान दोन अंकांचो 7 क्रमांक खंयचो?
- तुमी तयार करपाक शकतात तो सगळ्यांत व्हडलो दोन अंकांचो आंकडो खंयचो? तुमी



केल्लो आंकडो सगळ्यांत व्हडलो अशें तुमकां कित्याक दिसता?

B. खंयचेय दोन फ्लॅश कार्ड निवडात आनी दोन अंकांचो क्रमांक तयार करात. आतां हे फ्लॅश कार्ड स्वॅप करून दुसरो क्रमांक मेळोवचो आनी तो आदल्या क्रमांकापरस व्हडलो काय ल्हान आसा तें सोदून काडात. समान अंक वापरून तुमकां सगळ्यांत व्हडलो आंकडो कसो मेळटलो?

Tens	दशक	दशक	एकक
3	5	5	3



मार्ग पास करून चित्र करचें

सगळ्यांत व्हडल्या संख्येंतल्यान उण्यांत उणें एक फावट दर एका आंकड्यांतल्यान वचून उण्यांत उण्या क्रमांकान ल्हान क्रमांकाचेर पावपाचो यत्न करात.

65			73
	92		
	53		
20		32	

34			53
	91		76
	14		11
			19
23			

			51	
58				
			63	43
75			86	
29				34

संख्यां कडेन

खेळात हांव कोण

- A. हांव सगळ्यांत व्हडलो दोन अंकांचो आंकडो.
- B. हांव सगळ्यांत व्हडलो दोन अंकांचो आंकडो जंय खंयचोच अंक परत परत येनात.
- C. हांव सगळ्यांत ल्हान दोन अंकांचो आंकडो.
- D. हांव सगळ्यांत ल्हान दोन अंकांचो आंकडो, म्हजे अंक परत परत येतात.
- E. धा जाग्यार 3 आशिल्लो सगळ्यांत ल्हान दोन अंकांचो आंकडो हांव.
- F. हांव सगळ्यांत व्हडलो दोन अंकांचो आंकडो आसून तातूंत एक सुवातेर 2 आसात.

अशे प्रस्न स्वताच करात.



वल्लम काली

केरळांत वल्लम काली अशें नांवाचे नामनेचे नाग बोटीचे सर्तींतल्यान ओनम मनयतात. ही सर्त जवळजवळ सोंपपाक लागल्या. चित्र पळयात आनी दरेक बोटीची सुवात पळयात.



- A. सर्तींत खंयची रंगाची बोट पयली आयली? _____
- B. खंयची रंगाची बोट तिसरे सुवातेर येवपाची शक्यताय आसा? _____
- C. निळी आनी पाचवीं बोटी खंयच्या सुवातेर आसतात? _____
- D. चित्राच्या आदाराचेर गुलाबी आनी संत्रे रंगाच्या बोटींची सुवात खंयची ती बरोवची. _____

सकयल दिल्ल्या पंचांगांत ऑगस्ट म्हयनो पळयात.

आयतार	सोमार	मंगळार	बुधवार	बिरेस्तार	शुक्रार	शेनवार
		1	2	3	4	5
6	7	8	9	10	11	12
13	14	15 स्वातंत्र्य दीस	16	17	18	19
20	21	22	23	24	25	26
27	28	29 ओनम	30 रक्षाबंधन	31		

2023 वर्साचेर आदारीत कॅलेंडर



कॅलेंडर वाचून सकयल दिल्ल्या प्रस्नांक जाप दिवची.

A. ओनम म्हयन्याच्या खंयच्या दिसा मनयतले?

B. स्वातंत्र्य दीस केन्ना मनयतात?

C. रक्षाबंधन ह्या म्हयन्याच्या बुधवाराक आसा.

तुमच्या खंयच्याय इश्टान ऑगस्ट म्हयन्यांत आपलो वाडदीस मनयलो काय ना तें सोदून काडात. कॅलेंडराचेर चिन्न करचें.

जर्सी क्रमांक 17

17 नंबराची जर्सी घालपी
खेळगडो खूब बरो खेळटा.

तो आर्य, म्हजो
आवडीचो खेळगडो.

विद्यार्थ्यां कडेन हेर वेगवेगळ्या सुवातेर तांकां दिसपी क्रमांकाचे लेबल वा भोंवतणीं नांवां आशिल्ली पळोवंक मेळटात त्या विशीं चर्चा करात. देखीक घर क्रमांक, खांब्याचो क्रमांक, रोल क्रमांक, बस वा गाडयेचो क्रमांक आदी भुरग्यांक भारतांतल्यान सुरु जाल्ली पद्दत आमी सगळे 0 आनी 1-9 अंक वापरून क्रमांक बरोवपाची आसात हे सांगात.

