



QRickit

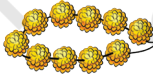


0224CH06


6

त्यहार उपर सजावट




उत्सव आस्तै सजावट

रोहन ते ओह्दे दोस्तें गी त्यहार  उपर घर सजाने आस्तै फुल्लें  दियें मालें दी जरूरत ऐ। हर इक माला च 10 फुल्ल न। . उपर दस्सी गेदी तस्वीर दे अनुसार तालिका गी पूरा करो।

नां	मालें दी संख्या 	फुल्लें दी संख्या 	कुल फुल्ल 
रोहन	1	2	$10 + 2 = 12$
सिमरन	3	7	$30 + 7 = 37$
आकाश	4	8	$40 + 8 = 48$
सुआली	5		$50 + 3 = 53$
जावेद			
जोहा			


रोहन ते सुआली न आस्सेआ किट्टे 🌼 रलियै कुल किन्ने फुल्लें बरते गे।




मेरे कोल
 $10+12=12$ फुल्ल
न।

मेरे कोल $50+3=53$
फुल्ल न।


रोहन दे फुल्ल

1  2 

$10 + 2 = 12$ 


सुआली दे फुल्ल

5  3 

$50 + 3 = 53$ 

रोहन ते सुआली दौनें दे कुल
फुल्ल

6  5 

$60 + 5 = 65$ 

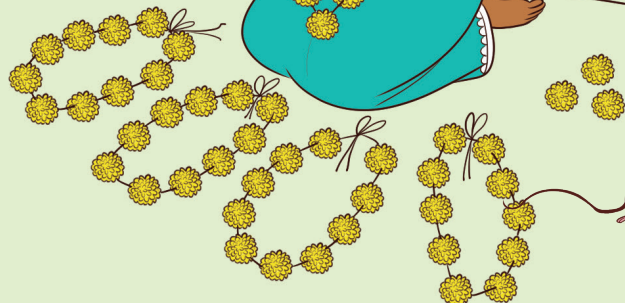
दहाई (द) ते इकाई (इ)

$\begin{array}{r} 1 \quad 2 \\ + 5 \quad 3 \\ \hline \end{array}$


$\begin{array}{r} \text{T} \quad \text{O} \\ 1 \quad 2 \\ + 5 \quad 3 \\ \hline 5 \end{array}$

$\begin{array}{r} \text{T} \quad \text{O} \\ 1 \quad 2 \\ + 5 \quad 3 \\ \hline 6 \quad 5 \end{array}$

बाह! साढ़े दौनें कोल 65
फुल्ल न।




जोहा ते जावेद ने मिलियै 🌼 कुल किन्ने फुल्ल बरते ।

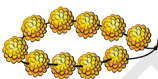




जोहा दे फुल्ल

2  0 


$20 + 0 = 20$ 


जावेद दे फुल्ल

4  3 

$40 + 3 = 43$ 

जोहा ते जावेद दौनें दे कुल फुल्ल

6  3 

$60 + 3 = 63$ 

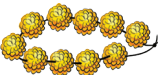

$$\begin{array}{r} \text{T O} \\ 43 \\ + 20 \\ \hline \end{array}$$


$$\begin{array}{r} \text{T O} \\ 43 \\ + 20 \\ \hline \end{array}$$

$$\begin{array}{r} \text{T O} \\ 43 \\ + 20 \\ \hline \end{array}$$

जोहा ते आकाश दौनें मिलियै कुल किन्ने फुल्ल बरते ।

जोहा दे फुल्ल

2  0 

$20 + 0 = 20$ 

आकाश दे फुल्ल

जोहा ते आकाश दे कुल फुल्ल

$$\begin{array}{r} \text{T O} \\ 48 \\ + 20 \\ \hline \end{array}$$



रोहन ते सिमरन दौनें ● मिलियै कुल किन्ने फुल्ल बरते ।

रोहन दे फुल्ल / सिमरन दे फुल्ल

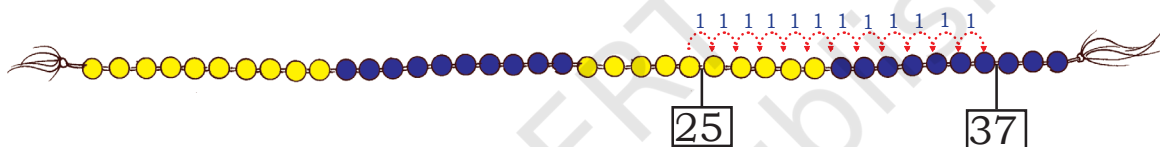
रोहन ते सिमरन दे कुल फुल्ल

आओ गिनलड़ी कन्नै करचै

आओ गिनलड़ी कन्नै करचै

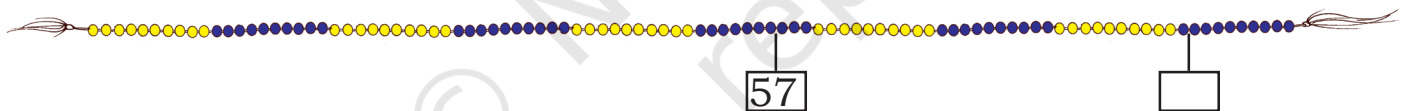
25 दे अगें 12 गिनो

A. $25 + 12 =$



B. $57 + 34 =$

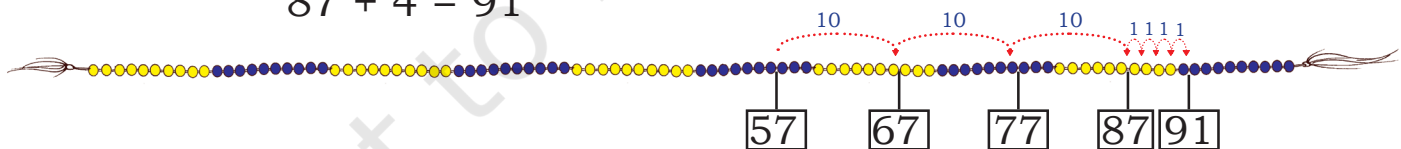
दे अगें _____ गिनो _____



इसगी इ'यां बी करी सकने आं।

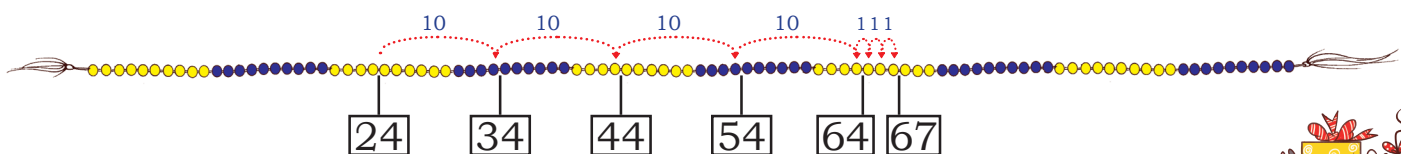
$57 + 34 = 57 + 30 + 4$

$87 + 4 = 91$



C. $24 + 43 =$

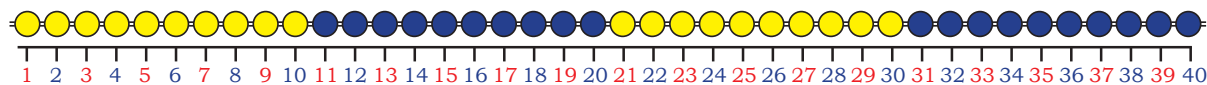
अस्स $24 + 40 + 3 = 64 + 3 = 67$ बी लिखी सकने आं।



अस्स 43 दी गिनतरी गी होर तरीके कन्नै बी हासल करी सकने आं- $20 + 20 + 3$



हर बारी गिनलडी दे मोतियें गी गिनना
मुश्कल होंदा ऐ मिगी मोतियें दे थाहरै पर
संख्यां लिखन देओ।



इस संख्या रेखा पर संख्यां जोड़ो-

एह मेरी संख्या रेखा ऐ।



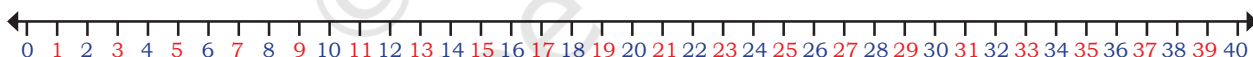
A. $23 + 14 = 37$



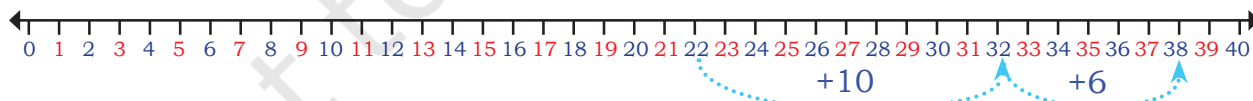
B. $24 + 16 =$



C. $11 + 22 =$



संख्या रेखा गी दिक्खियै खाल्ली थाहर भरौ।

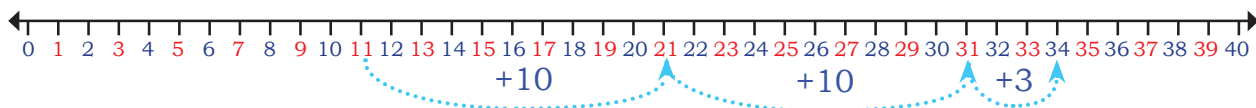


A. $22 + = 38$



B. $18 + =$





C. + =

इ'नें गी बी जोड़ो

$$\begin{array}{r} 44 \\ + 23 \\ \hline \end{array}$$

$$\begin{array}{r} 56 \\ + 23 \\ \hline \end{array}$$

$$\begin{array}{r} 60 \\ + 25 \\ \hline \end{array}$$


$$\begin{array}{r} 52 \\ + 30 \\ \hline \end{array}$$

ब्लाक्स कन्नै खेढ

माही के कोल किश ब्लाक्स न। ईशा, ओहदे ब्लाक्स खेढन आई। उं'दे कोल किन्ने ब्लाक्स न, एह पता करने च उं'दी मदद करो-



माही दे ब्लाक्स

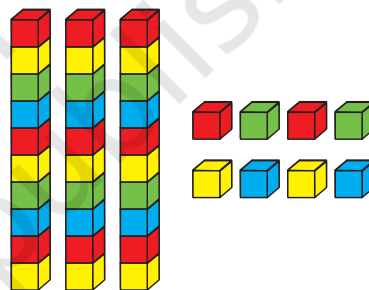


2 दहाई 3 इकाई


ते

+


ईशा दे ब्लाक्स।



3 दहाई 8 इकाई



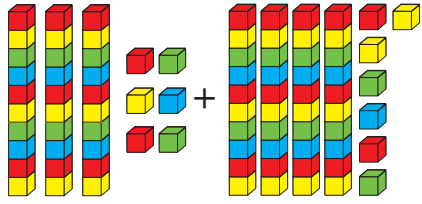
5 दहाई 11 इकाई (1 दहाई 1 इकाई)



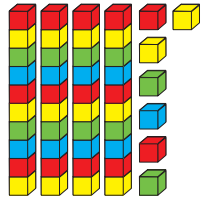
6 दहाई ते 1 इकाई



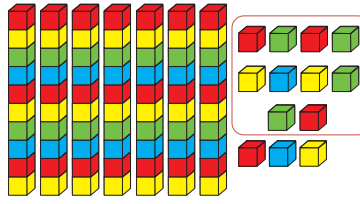
ਆਓ ਪਤਾ ਕਰਚੈ ਜੇ ਕੁਲ ਕਿੰਨੇ ਬਲਾਕਸ ਨ?




3 ਦਹਾਈ
4 ਇਕਾਈ



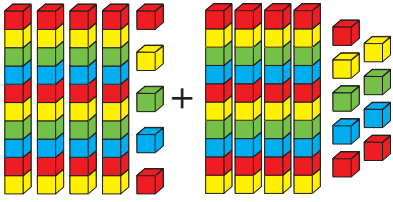
4 ਦਹਾਈ
7 ਇਕਾਈ



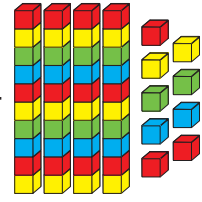
7 ਦਹਾਈ 13 ਇਕਾਈ
8 ਦਹਾਈ ਤੇ 3 ਇਕਾਈ



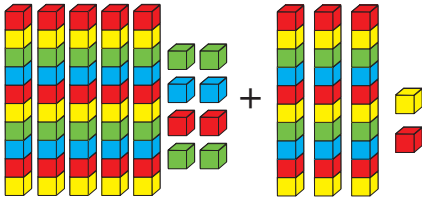
$80 + 3 = 83$




4 ਦਹਾਈ
5 ਇਕਾਈ



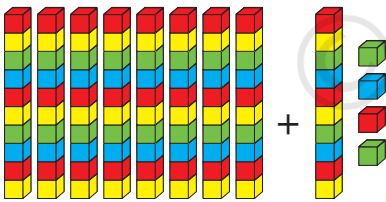
4 ਦਹਾਈ
9 ਇਕਾਈ



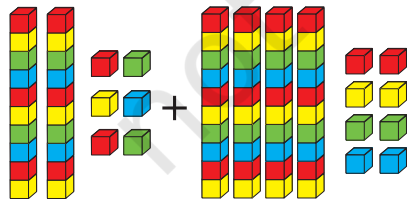
5 ਦਹਾਈ
8 ਇਕਾਈ



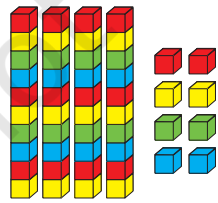
3 ਦਹਾਈ
2 ਇਕਾਈ



8 ਦਹਾਈ
1 ਦਹਾਈ
4 ਇਕਾਈ



2 ਦਹਾਈ
6 ਇਕਾਈ



4 ਦਹਾਈ
8 ਇਕਾਈ





T	O
3	6
+	4
<hr/>	
<hr/>	

इकाइयें दा जोड़

$$(6 + 7 = 13)$$

1 दहाई 3 इकाई

¹ T	O
3	6
+	4
<hr/>	
<hr/>	

दहाइयें दा जोड़

$$(3 + 4 + 1 = 8)$$

8 दहाई

¹ T	O
3	6
+	4
<hr/>	
<hr/>	

दहाइयें दा जोड़

जोड़ो

46	
+	
39	
<hr/>	
<hr/>	

56	
+	
19	
<hr/>	
<hr/>	

36	
+	
8	
<hr/>	
<hr/>	

30	
+	
58	
<hr/>	
<hr/>	

45	
+	
35	
<hr/>	
<hr/>	












आओ करचै

A. रहीम ने इक मैच च 43 रन
उसने दौने मैचें च कुल किन्ने रन बनाए?



बनाए ते दुए मैच च 58 रन बनाए।



- B. सिमरप्रीत  कोल 12 रंगीन पैसलां न । ओह्दी माऊ नै उसगी 36 पैसलां होर दित्तियां। हुन ओह्दे कोल कुल किन्नियां पैसलां न?
- C. हिना  ने 34 लाल बांटे  ते 57 नीले बांटे किट्टे कीते । आह्दे कोल हुन कुल किन्ने बांटे न।
- D. सारिका  नै मेले च 56 रपे खर्च कीते ते मनीष ने मेले च 35 रपे खर्च कीते। दौनें मेले च कुल किन्ने रपे खर्च कीते।
- E. बस्सै  च 36 मर्द ते 4 जनानियां न।  बस्सै  च कुल किन्नियां सवारियां न?



आओ दीये गिनचै





में पैल्लें 75 गिने ते फही में 35 कदम पिच्छें गिनेआ।

40

75

एहदा मतलब एह ऐ जे जेकर अस्स 35एं गी 75एं चा कड्डी लैचे तां ओहदा जवाब 40 होग।

$$75 - 35 = 40$$



20

32

जेकर अस्स 32एं चा 12 कड्डी लैचे, तां साढ़े कोल 20 बचदे न।

$$32 - 12 = 20$$

जेकर बडलै साढ़े कोल 32 दीये हे ते शामी तगर 12 बेच्ची दित्ते तां किन्ने दीये बचे?

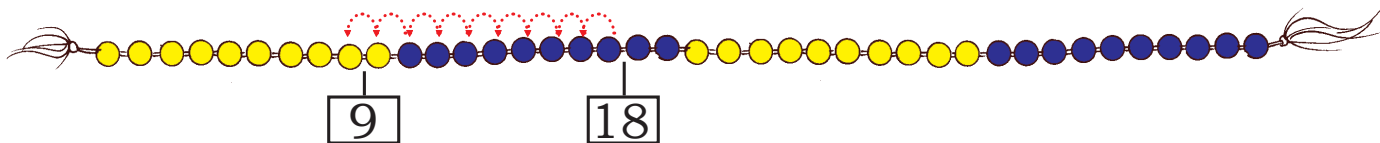


इं'दा पता लाने आस्तै बी अस्स गिनलड़ी दा इस्तेमाल करी सकने आं।

A.

18एं चा 9 घट्ट करने पर

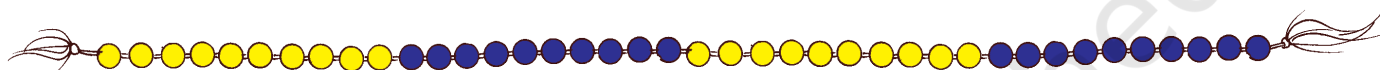
$18 - 9 =$



B.

12एं चा 8 घट्ट करने पर

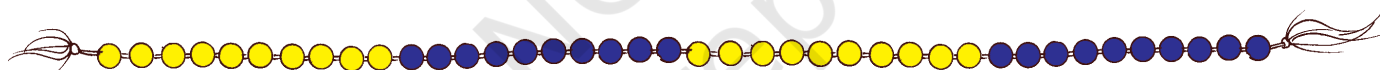
$12 - 8 =$



C.

30एं चा 18 घट्ट करने पर

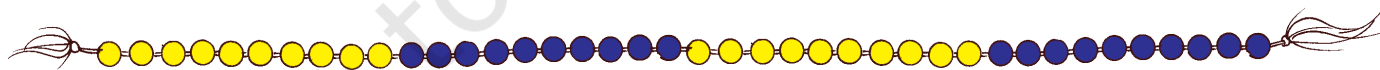
$30 - 18 =$



D.

23एं चा 14 घट्ट करने पर

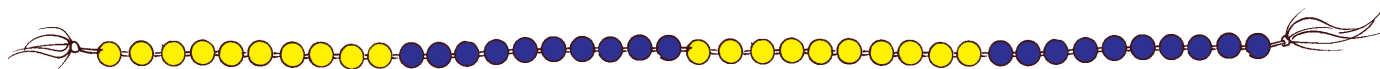
$23 - 14 =$



E.

26एं चा 17 घट्ट करने पर

$26 - 17 =$



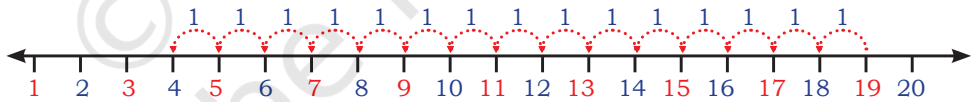
कल असें बचे दे दीयें गी
गिनलड़ी पर गिनेआ हा।

सनाओ, तुसें एह कि'यां कीता
हा? कीजे मेरे घर ते गिनलड़ी
नेई ऐ।

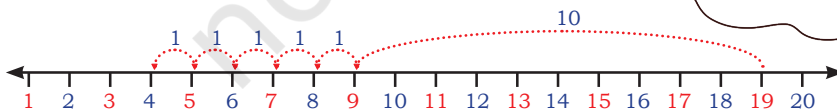
कोई गल्ल नेई गिनलड़ी
कागजै उप्पर बनाई लैने
आं।

जेकर मिगी 19एं चा 15 घट
करने न तां अ'ऊं पैह्लें 19 तगर
गिनगा, ओहदे बाद 15 कदम
पिछड़ा औगा।

$$19 - 15 = 4$$



मेरे कोल गिनलड़ी पर
घटाने दा इक होर
तरीका ऐ

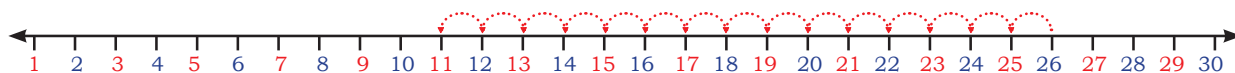


अस्स सिद्धे 10 कदम पिछड़े
जाई सकने आं ते फही 5
कदम पिछड़े जाइयै 4 तगर
पुज्जी सकने आं।

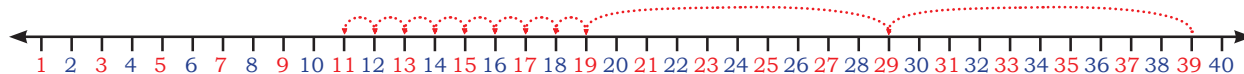


आओ, संख्या रेखा उप्पर किश होर अभ्यास करचै

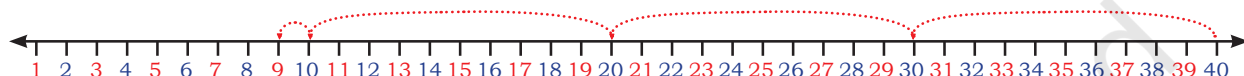
संख्या रेखा गी दिक्खियै खाल्ली थाहूर भरो।



A. $26 - \boxed{} = \boxed{}$



B. $39 - 28 = \boxed{}$



C. $\boxed{} - \boxed{} = \boxed{}$



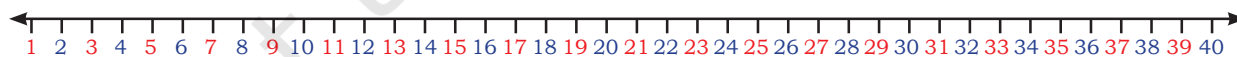
D. $38 - 11 = \boxed{}$



E. $22 - 22 = \boxed{}$



F. $14 - 0 = \boxed{}$



G. $35 - 12 = \boxed{}$

रोजमर्रा दे जीवन चा उदाहरण लैदे होई बच्चें कन्नै सिफर घटाने ते संख्याएं गी घटाने बारै चर्चा करो, जि'यां के सारा पैसा खर्च करना जां कोई बी पैसा खर्च नेई करना।



ब्लॉक्स कन्नै खेड




10

1



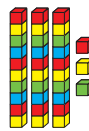
मेरे कोल 45 ना।



में 12



अपने दोस्तै गी दित्ते। मेरे कोल बचे दे ना।

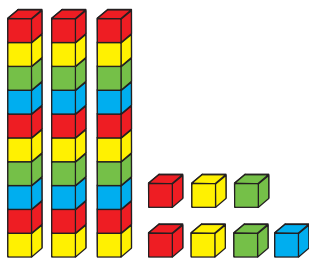


$$\begin{array}{r} \text{T O} \\ 45 \\ - 12 \\ \hline \end{array}$$

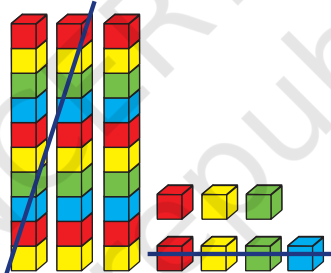
$$\begin{array}{r} \text{T O} \\ 45 \\ - 12 \\ \hline 3 \end{array}$$

$$\begin{array}{r} \text{T O} \\ 45 \\ - 12 \\ \hline 33 \end{array}$$

37एं चा 24 घटाओ



3 दहाई 7 इकाई



2 दहाई 4 इकाई

$$\begin{array}{r} \text{T O} \\ 37 \\ - 24 \\ \hline \end{array}$$



आओ करचै

$$\begin{array}{r} 24 \\ - 13 \\ \hline \end{array}$$

$$\begin{array}{r} 54 \\ - 31 \\ \hline \end{array}$$

$$\begin{array}{r} 32 \\ - 12 \\ \hline \end{array}$$

$$\begin{array}{r} 46 \\ - 34 \\ \hline \end{array}$$

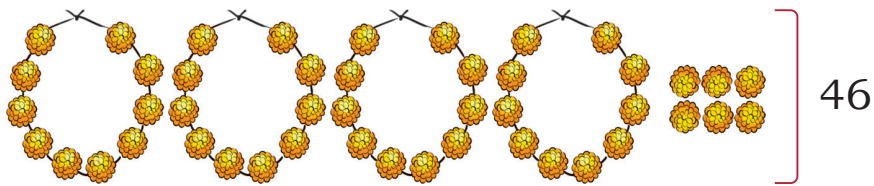
A. शिखा के कोल 82 रपे ना। उसने 22 रपे दियां पैसलां खरीदियां। हुन ओहदे कोल किन्ने पैसे बचे दे ना।

B. रूबी के कोल 60 रपे ना। उसने 20 रपे दी इक काप्पी खरीदी। हुन ओहदे कोल किन्ने पैसे बचे दे ना ?

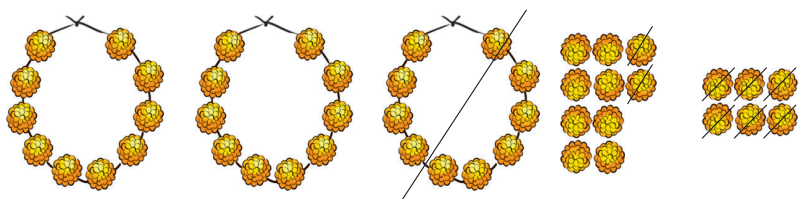


मालें कन्नै सजाओ





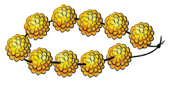

46



18 देने न

T	O
4	6
-	18
<hr/>	

T	O
3	16
4	6
-	18
<hr/>	
	8

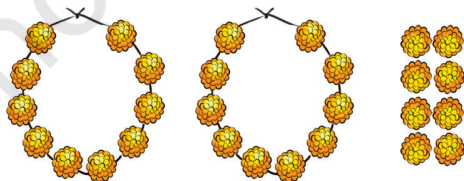
खुल्ली 1  = 16 
 $16 - 8 = 8$

T	O
3	16
4	6
-	18
<hr/>	
	28



मेरे कोल 2 मालां ते 8 फुल्ल
जां कुल मलाइयै 28 फुल्ल बचे
दे न।

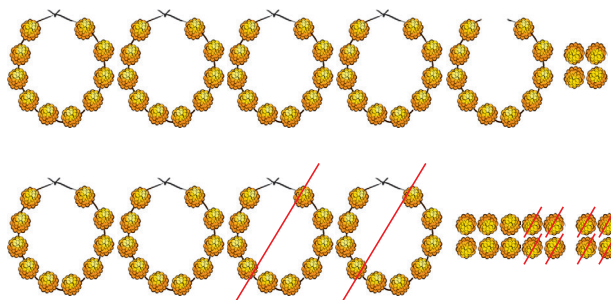
हुन, ज्योति दे कोल कुल मलाइयै 28 फुल्ल न। ओह् अपने दोस्तै गी 5 फुल्ल देई ओड़दी ऐ। ज्योति गी एह् पता करने च मदद करो जे ओह्दे कोल किन्ने फुल्ल बचे दे न?



28
- 5
<hr/>



જ્યોતિ દે કોલ 54 ફુલ્લ ના। ઓહ અપની માં ગી 28 ફુલ્લ દેઈ ઓઢદી એ। ઓહ્દે કોલ કિન્ને ફુલ્લ બચે ન ?



$$\begin{array}{r} 54 \\ - 28 \\ \hline \end{array} \rightarrow \begin{array}{r} 4 \quad 14 \\ \cancel{5} \quad \cancel{4} \\ - 28 \\ \hline 6 \end{array} \rightarrow \begin{array}{r} 4 \quad 14 \\ \quad \cancel{5} \quad \cancel{4} \\ - \quad 28 \\ \hline 26 \end{array}$$

ઓહ્ હો! મિગી ઇક માલા ખોલને પૌની એ। પહી મેરે કોલ 4 માલાં તે 14 ફુલ્લ હોઈ જાડન। ઇ'ને 14 ફુલ્લેંં ચા અ'ઁ 8 ફુલ્લ દેઈ સકની આં।

$$14 - 8 = 6$$



મેરે કોલ 2 માલાં તે 6 ફુલ્લ બચે દે ન જાં કુલ મલાઈયૈ 26 ફુલ્લ બચે દે ન।



જ્યોતિ દે કોલ કુલ 73 ફુલ્લ ના। ઓહ્ 47 ફુલ્લ અપની માં ગી દેઈ ઓઢદી એ । ઓહ્દે કોલ કિન્ને ફુલ્લ બચે ન।



	માલાં	ફુલ્લ
જ્યોતિ દે કોલ ન	7	3
જ્યોતિ ને દિત્તે	4	7
જ્યોતિ દે કોલ બચે		





आओ करचै

$$\begin{array}{r} 45 \\ - 18 \\ \hline \\ \hline \end{array}$$

$$\begin{array}{r} 84 \\ - 37 \\ \hline \\ \hline \end{array}$$


$$\begin{array}{r} 65 \\ - 45 \\ \hline \\ \hline \end{array}$$

$$\begin{array}{r} 27 \\ - 27 \\ \hline \\ \hline \end{array}$$

$$\begin{array}{r} 93 \\ - 48 \\ \hline \\ \hline \end{array}$$

रस्सी टप्पना

अमन ते अवनि रस्सी टप्पा दे न।
दौनें गी 20 बारी रस्सी टप्पनी
ऐ। इक बारी रस्सी टप्पने दी
गिनती उसलै होग जिसलै रस्सी
पैरें खल्ला निकलग। उ'नेंगी
टप्पने दे द'ऊं मौके दित्ते जाडन।
जेकर पैल्ले मौके च 20 बारी नेई
टप्पी सकडन तां उ'नेंगी टप्पने
आस्तै फही इक होर मौका दित्ता
जाग। एह्दा मतलब एह ऐ जे
जेर ओह् पैल्ले बारी 12 बारी
लगातार टपदे न तां 8 बारी
टप्पने आस्तै उ'नेगी इक होर
मौका दित्ता जाग।



A. अमन नै इक्कै बारी च 12 बारी टप्पेआ। हुन 20 बारी टप्पे पूरे करने आस्तै उसगी
किन्ने बारी होर टप्पना पौग।

$$20 - 14 = \underline{\quad}$$

$$14 + \underline{\quad} = 20$$

B. अवनि पैल्ले बारी च 12 बारी टप्पी। दूई बारी च उसगी किन्नी बारी होर टप्पना ऐ?


$$20 - 12 = \underline{\quad}$$






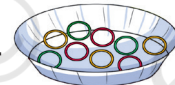


$$12 + \underline{\quad} = 20$$





आओ करचै



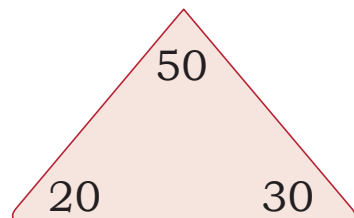
- A. अनुष्का  ने 63 सैंख किट्टे कीते।  उसने 26 सैंख अपने भ्राऊ  गी दित्ते। हुन ओहदे कोल किन्नै सैंख बचे दे न?
- B. इक बस्स च 54 सवारियां  बैट्टी दियां न। 16 सवारियां बस्स अड्डै पर उत्तरी गेइयां। हुन बस्सै च किन्नियां सवारियां न?
- C. कुल 40 फलूस न।  13 फलूस फट्टी गे। हुन किन्नै फलूस बचे दे न?
- D. कनिका ने 72 बंगां  बनाइयां, उसने 36 बंगां बेची दित्तियां। कनिका कोल किन्निया बंगां बची दियां न?
- E. इक बूहटे उप्पर 56 पक्खरू बैट्टे दे न।  किश होर पक्खरू आह्लियै बूहटे उप्पर बेही गे। हुन बूहटे उप्पर 87 पक्खरू बैट्टे दे न। पता करो जे बाद च किन्ने पक्खरू बूहटे पर आह्लियै बैट्टे हे?
- F. अरमान गी इक बाल 35 बारी  उछालना ऐ। पैह्ली बारी उसने बाल गी 18 बारी



किन्नी बारी होर बाल गी उछालना ऐ?

जोड़ना ते घटाना कन्नै- कन्नै

20, 30, 50



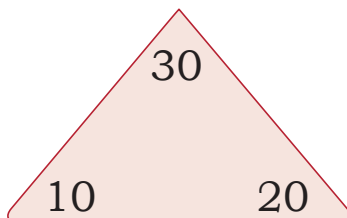
$$20 + 30 = \underline{\quad}$$

$$30 + \underline{\quad} = 50$$

$$50 - \underline{30} = 20$$

$$\underline{\quad} - 20 = 30$$

10, 20, 30



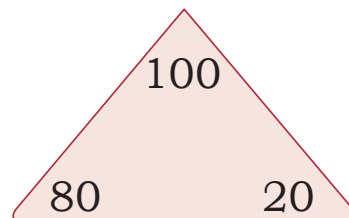
$$10 + 20 = \underline{\quad}$$

$$\underline{\quad} + \underline{\quad} = \underline{\quad}$$

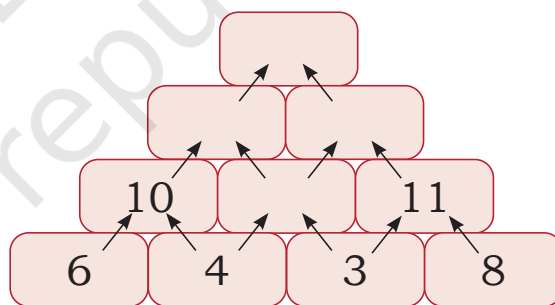
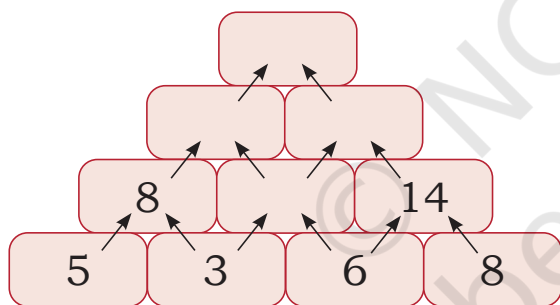
$$30 - \underline{\quad} = 10$$

$$30 - \underline{\quad} = 20$$

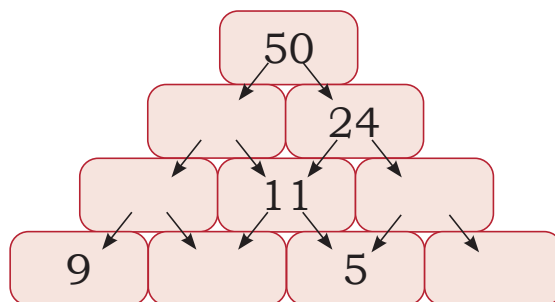
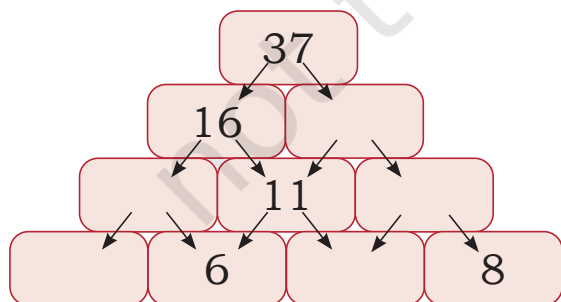
20, 80, 100



जोड़ना जां घटाना पूरा करने आस्तै खाल्ली थाहरें गी भरो।



जोड़ने-घटाने दे पिरामिड गी पूरा करो।



जोड़ने दा पिरामिड



ध्यान कर्तै दिक्खो।

3	12	9
8		15
5	11	6

Here,

$3 + 9 = 12$

$9 + 6 = 15$

$6 + 5 = 11$

$5 + 3 = 8$

हुन तुस करियै दिक्खो।

A.

1	5	
9		10
	14	

B.

	10	
9		13
	12	

हानिया ते मानसी दा तोहफा

हानिया ते मानसी अपनी मां गी तोहफा देना चाहेंदे न। उसी सजाने आस्तै उ'नें किश फीते ते रंग बरंगे कागज खरीदे।

पर्स च कुल 78 रपे हे। रंग-बरंगे कागज 24 रपे दे आए ते फीते 37 रपे दे हे।

A. उ'नें कुल किन्ने रपे खर्च कीते।

B. उं'दे कोल कुल किन्ने रपे बचे।



परियोजना कम्म

दलजीत ने किश सुआल हल्ल कीते ते उं'दे जवाब लिखे। क्या दलजीत दे जवाब सहेई न? पता करो। जेकर गल्ल न तां ठीक करो।

$$\begin{array}{r} 25 \\ + 36 \\ \hline 511 \end{array}$$

$$\begin{array}{r} 37 \\ + 58 \\ \hline 131 \end{array}$$

$$\begin{array}{r} 35 \\ - 17 \\ \hline 22 \end{array}$$

$$\begin{array}{r} 57 \\ - 78 \\ \hline 21 \end{array}$$

$$\begin{array}{r} 30 \\ - 17 \\ \hline 27 \end{array}$$

