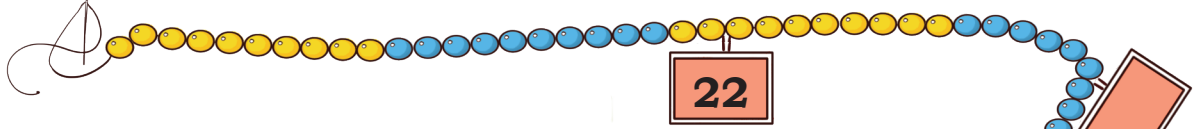




संख्याएं कन्ने खेढ



0224CH03

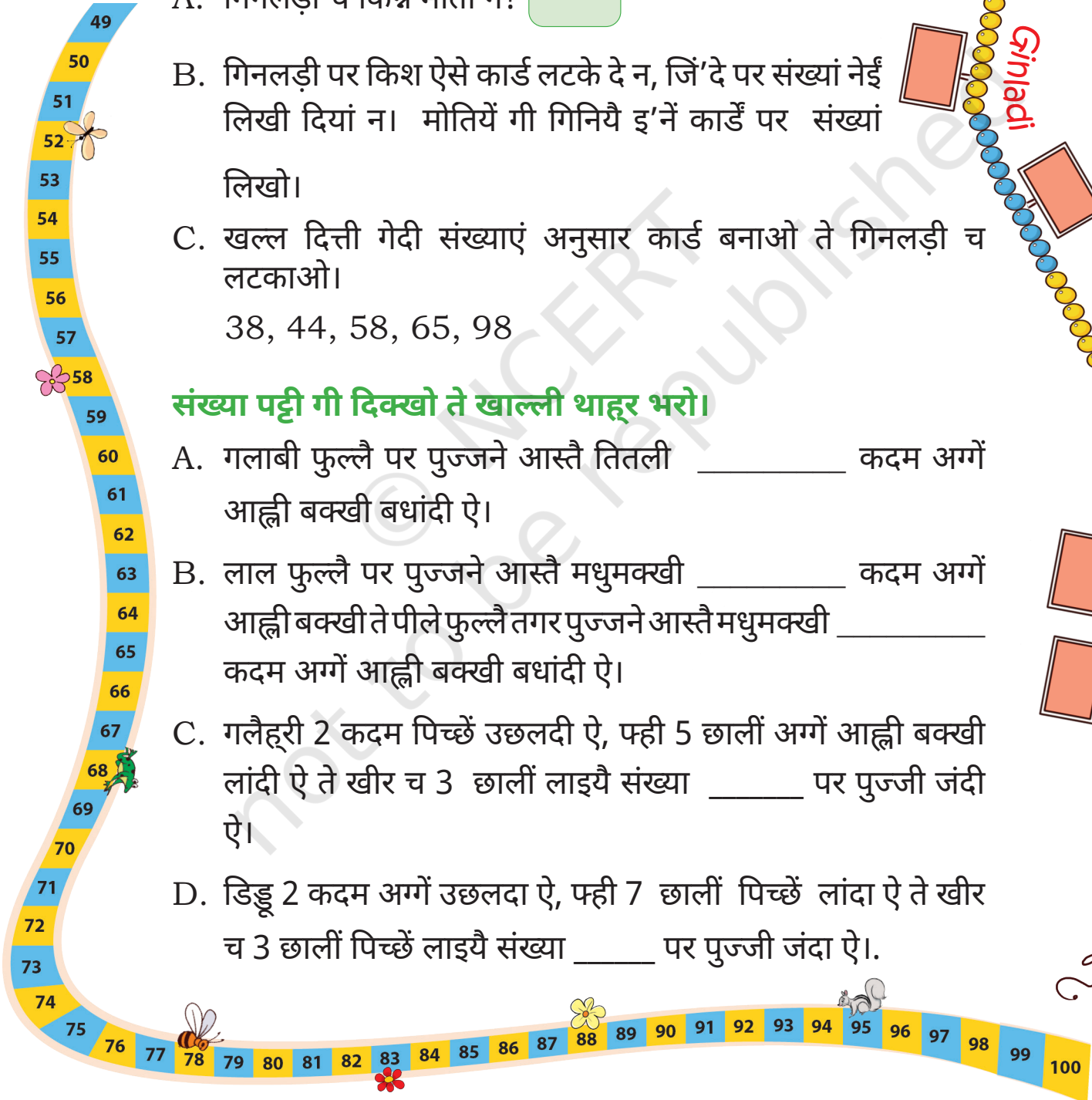


गिनलड़ी गी दिक्खो ते सनाओ।

- A. गिनलड़ी च किन्ने मोती न?
- B. गिनलड़ी पर किश ऐसे कार्ड लटके दे न, जिं'दे पर संख्यां नेई लिखी दियां न। मोतियें गी गिनियै इ'नें कार्डें पर संख्यां लिखो।
- C. खल्ल दित्ती गेदी संख्याएं अनुसार कार्ड बनाओ ते गिनलड़ी च लटकाओ।
38, 44, 58, 65, 98

संख्या पट्टी गी दिक्खो ते खाल्लीं थाहर भरो।

- A. गलाबी फुल्लै पर पुज्जने आस्तै तितली _____ कदम अगें आह्ली बक्खी बधांदी ऐ।
- B. लाल फुल्लै पर पुज्जने आस्तै मधुमक्खी _____ कदम अगें आह्ली बक्खी ते पीले फुल्लै तगर पुज्जने आस्तै मधुमक्खी _____ कदम अगें आह्ली बक्खी बधांदी ऐ।
- C. गलैहरी 2 कदम पिच्छें उछलदी ऐ, फही 5 छालीं अगें आह्ली बक्खी लांदी ऐ ते खीर च 3 छालीं लाइयै संख्या _____ पर पुज्जी जंदी ऐ।
- D. डिड्डू 2 कदम अगें उछलदा ऐ, फही 7 छालीं पिच्छें लांदा ऐ ते खीर च 3 छालीं पिच्छें लाइयै संख्या _____ पर पुज्जी जंदा ऐ।





आओ खेढचै


मेरी संख्या सनाओ

इक बच्चा कोई इक संख्या सोचदा ऐ ते दुएं बच्चें गी उस संख्या दा पता लाना ऐ। बच्चे इस खेढ च किश ऐसे सुआल पुच्छी सकदे न, जिंदा जबाव सिर्फ हां जां नां च होऐ, जि'यां क्या एह 50 कोला मते न? क्या इस संख्या दे दोऐ अंक इक जनेह न? ओह अंदाजा लाने आस्तै मते शा मते 10 सुआल पुच्छी सकदे न।



मेरा थाहर सनाओ।

त्रै मकोड़ियां संख्या रेखा पर बैठी दियां न। इ'नें मकोड़ियें दे थाहरें अनुसार गिनतरी लिखो।




काली मकोड़ी संख्या पर बैठी दी ऐ।

लाल मकोड़ी संख्या पर बैठी दी ऐ।

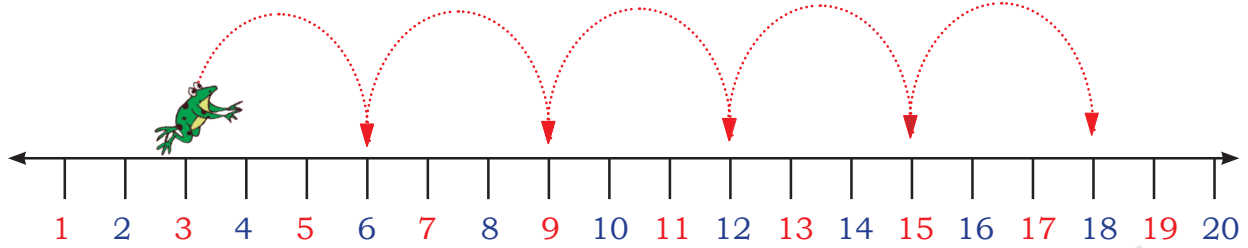
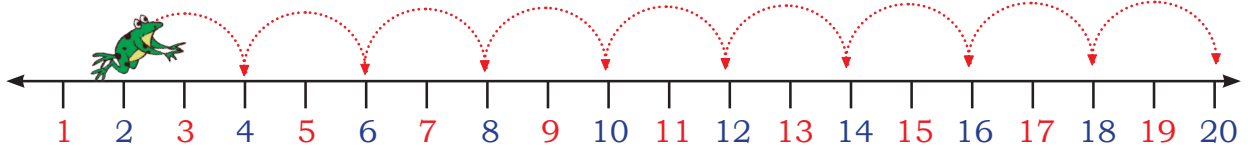
भूरी मकोड़ी संख्या पर बैठी दी ऐ।

संख्या 65 पर इक मकोड़ी बनाओ।

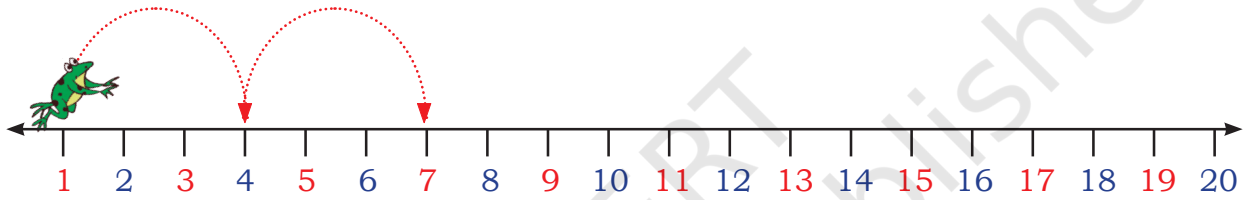
संख्या  79 पर इक खंडु दा दाना बनाओ।



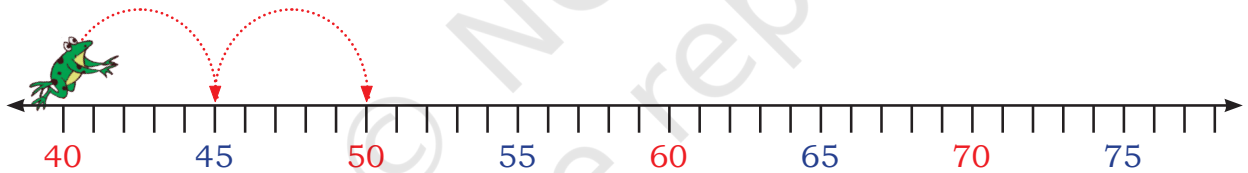
दिक्खो पुड़कना डिङ्गु कि'यां छालीं ला करदा ऐ। क्या एह्दे च कोई पैटर्न ऐ?



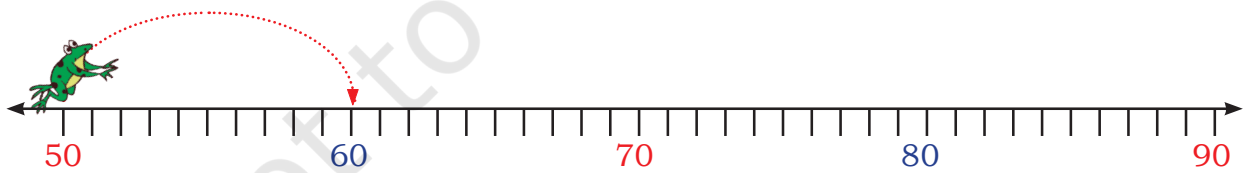
इ'नें पैटर्न गी पूरा करो।



A. 1, 4, 7, _____, _____, _____, _____



B. 40, 45, 50, _____, _____, _____, _____, _____



C. 50, 60, _____, _____, _____

बच्चें गी अपनी संख्या रेखा जमीन पर बनाने आस्तै आक्खो। हुन बच्चें गी किश सुआलें दे आधार पर संख्या पर छाल मारने आस्तै आक्खो, जि'यां- जेकर तुस द'ऊं छालीं मारदे हो, तां तुस केहड़ी - केहड़ी संख्या पर छाल मारगे हो।





આઓ કરચે

- A. સંખ્યા ચાર્ટ પર ઇક-ઇક સંખ્યા છુડે હોઈ સંખ્યાएं પર ● બનાઓ। હુન ચાર-ચાર સંખ્યાં છુડે હોઈ સંખ્યા ચાર્ટ ચ દિત્તી ગેદી સંખ્યાएं પર ▲ બનાઓ
- B. ऐसी संख्यां केहिड़ियां न, जेहिड़ियां 2 ते 5 दी छाल च औंदी ऐ?

- C. સંખ્યા ચાર્ટ દી મદદ કનૈ ऐसियां संख्यां लिखो, जेहिड़ियां 3 ते 5 दी छाल च औंदियां न?

- D. ऐसियां संख्यां केहिड़ियां न, जेहिड़ियां 5 ते 7 दी छाल च औंदियां न?

1	2	3	4	5	6	7	8	9	10
11	12	13	14	15	16	17	18	19	20
21	22	23	24	25	26	27	28	29	30
31	32	33	34	35	36	37	38	39	40
41	42	43	44	45	46	47	48	49	50
51	52	53	54	55	56	57	58	59	60
61	62	63	64	65	66	67	68	69	70
71	72	73	74	75	76	77	78	79	80
81	82	83	84	85	86	87	88	89	90
91	92	93	94	95	96	97	98	99	100

छाल मारो ते संख्या दा पता लाओ।

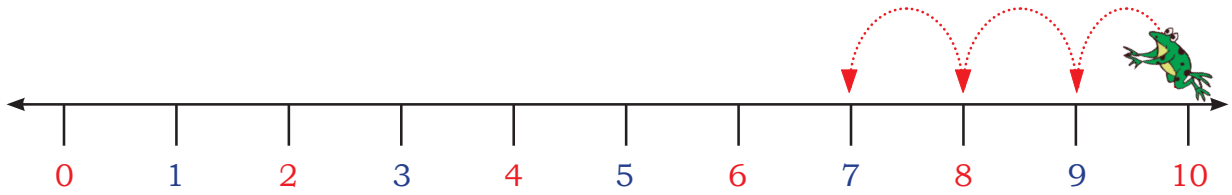
जमीन पर संख्या रेखा बनाओ ते उसगी पूरा करो।.

- A. जेकर तुस संख्या 10 उप्पर हो ते दस्स-दस्स छालीं मारदे हो, तां क्या तुस 100 उप्पर छाल मारगे हो?
- B. जेकर तुस संख्या 5 उप्पर हो ते पंज-पंज छालीं मारदे हो, तां क्या तुस संख्या 40 उप्पर छाल मारगे हो?
- C. जेकर तुस संख्या 0 उप्पर हो ते पंज-पंज छालीं मारदे हो, तां क्या तुस संख्या 55 उप्पर छाल मारगे हो?
- D. जेकर तुस संख्या 4 उप्पर हो ते दो-दो छालीं मारदे हो, तां क्या तुस संख्या 17 उप्पर छाल मारगे हो?
- E. जेकर तुस संख्या 13 उप्पर हो ते त्रै - त्रै छालीं मारदे हो, तां क्या तुस संख्या 24 उप्पर छाल मारगे हो?



आओ पिछड़े छाल मारचै

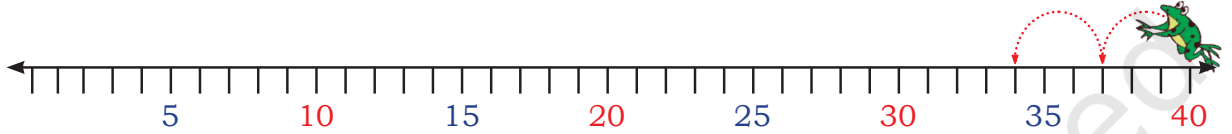
खल्ल दित्ते गेदे पैटर्न्स गी पूरा करो



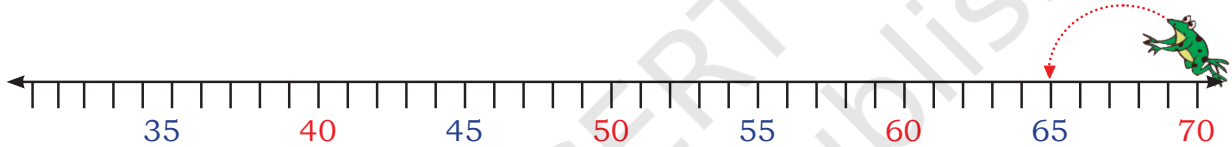
10 कोला ठीक पैह्लें केह् औंदा ऐ?

9 कोला ठीक पैह्लें केह् औंदा ऐ?

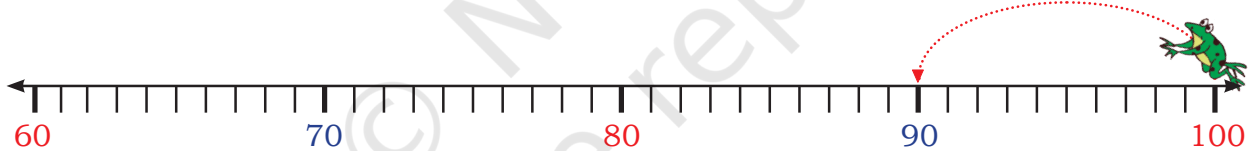
10, 9, 8,



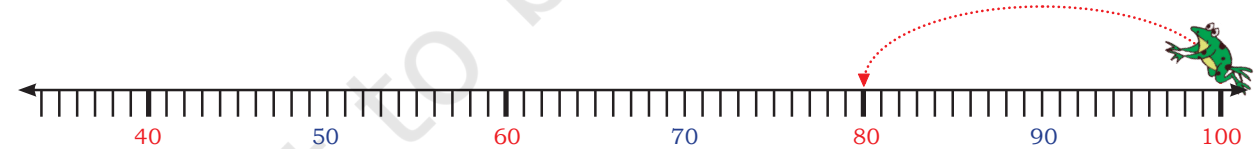
A. 40, 37, 34,



B. 70, 65, 60,



C. 100, 90,



D. 100, 80,

क्या एह् पैटर्न् ठीक ऐ? अगर नेई ऐ, तां ठीक करो ते अगले खाल्ली थाहरें पर सहेई संख्या भरो

100, 90, 80, 70, 60,





चर्चा करचै

- रिज़वान 20 कशा अगली संख्यां गिना दा ऐ, क्या ओह् अपनी गिनतरी च संख्या 19 बोल्लग ? क्या तुस सनाई सकदे हो जे, की?
- छवि 10 कशा अगली संख्यां दो-दो छुड़ियै गिना दी ऐ, क्या ओह् संख्या 43 बोल्लग? क्या तुस सनाई सकदे हो जे, की?
- माला 20 कशा पिच्छें संख्यां गिना दी ऐ, 0 तगर पुज्जने आस्तै किन्ने कदम लगडन ? क्या तुस सनाई सकदे हो जे, की?
- विराज 20 कशा दो-दो संख्याएं गी छुड़ियै पिट्टी गिनतरी करने गी जा दा ऐ। 0 तगर पुज्जने आस्तै उसगी किन्ने कदम लगडन। क्या तुस सनाई सकदे हो, की?

संख्या चार्ट च पैटर्न

1	2	3	4	5	6	7	8	9	10
11	12	13	14	15	16	17	18	19	20
21	22	23	24	25	26	27	28	29	30
31	32	33	34	35	36	37	38	39	40
41	42	43	44	45	46	47	48	49	50
51	52	53	54	55	56	57	58	59	60
61	62	63	64	65	66	67	68	69	70
71	72	73	74	75	76	77	78	79	80
81	82	83	84	85	86	87	88	89	90
91	92	93	94	95	96	97	98	99	100





ਆਓ ਕਰਚੈ

ਸੰਖਿਆ ਚਾਰਟ ਗੀ ਦਿਕਿਖੈ ਖਾਲੀ ਥਾਹੁ ਭਰੋ।

10 ਕਸ਼ਾ ਠੀਕ ਪੈਲੈਂ ਔਂਦਾ ਏ?

20 ਕਸ਼ਾ ਠੀਕ ਪੈਲੈਂ ਔਂਦਾ ਏ?

30 ਕਸ਼ਾ ਠੀਕ ਪੈਲੈਂ ਔਂਦਾ ਏ?

40 ਕਸ਼ਾ ਪੈਲੈਂ ਔਂਦਾ ਏ?

ਕਿਆ ਇੰਦੇ ਚ ਕੋਈ ਪੈਟਰਨ ਏ? ਜੇਕਰ ਏ, ਤਾਂ ਉਸਗੀ ਸੰਖਿਆ ਚਾਰਟ ਪਰ ਰੇਖਾਂਕਿਤ ਕਰੋ। ਪਤਾ ਕਰੋ ਜੇ ਏਹ ਪੈਟਰਨ ਅਗਲੀ ਸੰਖਿਆ ਚ ਏ ਜਾ ਨੇੜੈ ? ਜੇਕਰ ਏ ਤਾਂ ਪੈਟਰਨ ਲਿਖੋ।

_____, _____, _____, _____, _____, _____, _____, _____, _____, _____

ਹੁਨ ਸੈਲੇ ਰੰਗੇ ਦੀ ਸੰਖਿਆਏਂ ਗੀ ਸੰਖਿਆ ਚਾਰਟ ਚ ਦਿਕਿਖੋ ਤੇ ਖਾਲੀ ਥਾਹੁ ਭਰੋ।

1, 12, 23, _____, _____, _____, _____, _____, _____

ਏਹਦੇ ਚ ਤੁਸੇਂਗੀ ਕੇਹੜਾ ਪੈਟਰਨ ਲਭਾ।

ਲਖਨਿਆ ਨੈ ਇਕ ਸੰਖਿਆ ਖਿਡਕੀ ਬਨਾਇ ਦੀ ਏ ਤੇ ਉਸਗੀ ਸੰਖਿਆ ਚਾਰਟ ਉੱਪਰ ਤਸਵੀਰ ਦੇ ਅਨੁਸਾਰ ਰਕਖੇ ਦਾ ਏ। ਹੇਠ ਦਿੱਤੇ ਗੇਦੇ ਸੁਆਲੇ ਦੇ ਜਵਾਬ ਦੇਓ।

A. ਜੇਕਰ ਸੰਖਿਆ ਖਿਡਕੀ ਦੇ ਬਸ਼ਕਾਰ 28 ਲਿਖੇ ਦਾ ਏ, ਤਾਂ ਏਹਦੇ ਉੱਪਰ ਆਲੇ ਖਾਨੇ ਚ ਸੰਖਿਆ ਲਿਖੀ ਦੀ ਏ।

B. ਏਹਦੇ ਥਮਾਂ ਖਲਕੇ ਖਾਨੇ ਚ ਸੰਖਿਆ ਲਿਖੀ ਦਿ ਏ।

C. ਏਹਦੇ ਸਜ਼ੀ ਬਕਸ਼ੀ ਦੇ ਸੰਖਿਆ ਖਾਨੇ ਚ ਸੰਖਿਆ ਲਿਖੀ ਦੀ ਏ।

D. ਏਹਦੇ ਖਬੀ ਬਕਸ਼ੀ ਦੇ ਸੰਖਿਆ ਖਾਨੇ ਚ ਸੰਖਿਆ ਲਿਖੀ ਦੀ ਏ।

1	2	3	4	5	6	7	8	9	10
11	12	13	14	15	16		10 ਘਟ		20
21	22	23	24	25	26	1 ਘਟ	28	1 ਜ਼ਿਆਦਾ	30
31	32	33	34	35	36		10 ਜ਼ਿਆਦਾ		40
41	42	43	44	45	46	47	48	49	50
51	52	53	54	55	56	57	58	59	60
61	62	63	64	65	66	67	68	69	70
71	72	73	74	75	76	77	78	79	80
81	82	83	84	85	86	87	88	89	90
91	92	93	94	95	96	97	98	99	100



E. हुन इसी दूइयें संख्याएं कन्नै करो।

	53	

	26	

	74	

F. छुड़की दियें संख्याएं गी संख्या ग्रिड च भरो।

	8	

57		

	46	

	69	

	16	

	32	

	65	

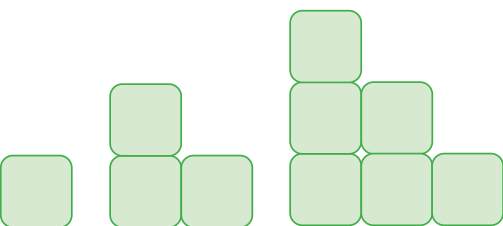
	36	

	55	

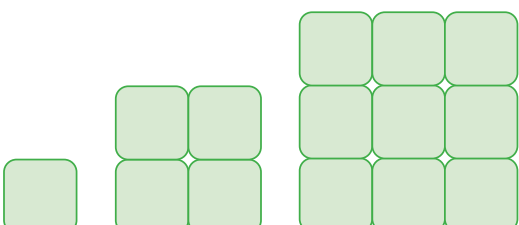


पैटर्न तुप्पो

पता करो जे हेठ दिती गेदी आकृतियों च ब्लाकें दी संख्या कि'यां बधा करदी ऐ ते इसगी होर अगें बधाओ।

A.  _____

1 3 6

B.  _____

1 4 9

C.  _____

5 8



आओ बिंगो खेढचै

बिंगो खेढने आस्तै 3 x 4 दी इक गिड

 बनाओ।

गिड दे खान्ने च 2 कशा 12 तगर दी कोई बी संख्या लिखो। इक संख्या दो जां दो कशा मते बारी बी लिखी जाई सकदी ऐ।

इक बच्चा दो पासे किट्टे सुट्टग ते दौनें पासें दे बिंदुएं गी जोड़दे होई संख्या बोल्लग। दुए बच्चे गिड च उस संख्या पर X लाडन। इस्सै चाल्ली खेढ उसलै तगर चलदी रौह्ग, जिसलै तगर कोई बच्चा सभनें संख्याएं पर X लाइयै बिंगो नेई बोलदा ऐ।

बच्चें गी गिड च लिखने आस्तै संख्याएं दा चुना करने लेई अपनी योजना बनाने आस्तै प्रेरित करो।

