



## মেলাত মজা



0224CH10

ৰূপালে মেলালৈ গৈ ভাল পায়। বন্ধু-বান্ধৱীৰ সৈতে তাই স্থানীয় মেলাখনলৈ গৈছে। মাকে তাইক 50 টকা দিছিল। ইয়াৰ বেছিভাগ তাই নিজৰ পচন্দৰ জোলনাত উঠাত খৰচ কৰিছিল।




মেলাত ল'ৰা-ছোৱালীয়ে ভাল পোৱা বস্তুবোৰৰ বিষয়ে, তেওঁলোক ক'ৰ লগত যায়, কি কিনি আৰু তাত কিমান টকা খৰচ কৰে, সেইবোৰৰ বিষয়ে কথা পাতক।



## কিমান খৰচ কৰিলোঁ?



₹10



জোলনা খেলাত ব্যয় কৰা মুঠ ধন =

<input type="text"/>		<input type="text"/>		<input type="text"/>
ৰূপালৰ মাকে দিয়া টকা	–	খৰচ কৰা ধন	=	ৰূপালৰ হাতত বাকী থকা টকা

ৰূপালৰ এজন বন্ধুৰ 50 টকাৰ ভিতৰত 8 টকা বাকী আছে। কিমান টকা খৰচ কৰিলে তাই জানিব বিচাৰিছিল। তাইৰ কেনেকৈ হিচাপ উলিয়ালে চাওঁ আহা।



মোৰ হাতত 8 টকা বাকী আছে  
আৰু মই ৰাইডত 20 টকা খৰচ  
কৰিলো, মুঠ 28 টকা। তাৰ পিছত,  
জলপানত 20 টকা খৰচ কৰিলো,  
মুঠ 48 টকা আৰু মিঠাইত 2 টকা  
বেছি খৰচ কৰিছো, মুঠ 50 টকা।  
মুঠতে, মই 42 টকা খৰচ কৰিলো।

$$\begin{aligned} ₹8 + ₹20 &= ₹28 \\ ₹28 + ₹20 &= ₹48 \\ ₹48 + ₹2 &= ₹50 \\ \hline &₹42 \end{aligned}$$

দেউতাই তোমাক মেলাৰ বাবে 40 টকা দিছিল সময়ত তোমাৰ ওচৰত এতিয়া 3 টকা বাকী থাকিল, তেন্তে তুমি কিমান টকা খৰচ কৰিলে?





## কৰি চাওঁ আহা

খ) কিনিবলৈ কিমান টকাৰ প্ৰয়োজন হ'ব?

জোলনা খেলাত	টিকটত	ধনৰাশি
	₹2	₹_____
	_____	₹30
	2	₹_____

খ) ৰূপাল আৰু তাইৰ বন্ধুসকলে ব্যৱহাৰ কৰা বিভিন্ন নোট আৰু মুদ্ৰা আমি দেখিলোঁ। আহাচোন আনটো সাধাৰণভাৱে ব্যৱহৃত ভাৰতীয় মুদ্ৰা চাওঁ।



₹100



₹200




₹500





গ) 500 টকাত 500 সংখ্যাটো কিমানবাৰ লিখা হয় গণনা কৰা।



i. পাঁচশ টকা শব্দৰে লিখা হয়  
\_\_\_\_\_ বাৰ।

ii. 500 সংখ্যাটো সংখ্যাৰে  
\_\_\_\_\_ বাৰ লিখা হয়।

500 টকীয়া নোটত কোনটো  
কিৰ্তীচিহ্নৰ ছবি ছপা হৈছে?  
এই কিৰ্তীচিহ্নটো তুমি  
দেখিছানে?



শিশুসকলক অন্যান্য মুদ্ৰাৰ নোটসমূহ পৰ্যবেক্ষণ কৰিবলৈ কওক আৰু ইয়াৰ বৈশিষ্ট্যসমূহৰ বিষয়ে আলোচনা কৰিবলৈ কওক। তেওঁলোকৰ সৈতে মুদ্ৰাৰ বৈশিষ্ট্যসমূহৰ বিষয়ে আলোচনা কৰক, যেনে মুদ্ৰাৰ নোটৰ সীমাত থকা ৰেখাসমূহ, আৰু বিশেষভাৱে সক্ষম লোকসকলৰ বাবে প্ৰতিখন নোটত লিখা সংখ্যাবোৰ।



তেজলৰ আইতাই তাইক আগতে নেদেখা পুৰণি মুদ্রা কেইটামান দেখুৱাইছে।  
এই মুদ্রাবোৰো চাওঁ আহা।



25 পইচা



50 পইচা



10 পইচা



20 পইচা

আইতাই 1 টকাৰ বিনিময়ত 50 পইচাৰ 2টা মুদ্রা দিছিল।



50 পইচা

+



50 পইচা

=



₹1

100 পইচা = 1 পইচা

ক) 1 টকাত 25 পইচা কিমান হ'ব? তলৰ বাকচটোত থকা মুদ্রাবোৰ  
আঁকা।

= ₹1 বা  
100 পইচা

খ) 1 টকাত 20 পইচা কিমান হ'ব ?













## বেলুন ফুটোরা

মাত্রোরে 'বেলুন ফুটোরা' খেল খেলিছে। তেওঁ 10 টকাত বাবে 3 টা সুযোগ পাব। মাত্রোরে কিমান টকা জিকে চাওঁ আহা।



ক) তলৰ বেলুনবোৰ ফুটালে মাত্রোরে কিমান টকা পাব?

 	₹3
  	
  	
 	

যদি তেওঁ তলত দিয়া ধনৰাশি পাব বিচাৰে তেন্তে তেওঁ কোনটো বেলুন ফুটোৱাৰ লাগিব সেইয়া আঁকা আৰু ৰং কৰা

	₹17
	₹22
	₹31

গ) তুমি কোন তিনিটা বেলেগ ৰঙৰ বেলুনক লক্ষ্য কৰি সৰ্বাধিক ধন উপাৰ্জন কৰিব পাৰিবা? সেইবোৰ আঁকা আৰু ৰং কৰা।

মুঠ জয়ী হোৱা ধনৰাশি =

ঘ) যদি মাত্ৰোৰ চাৰিটা সুযোগ থাকিলহেঁতেন, তেন্তে কোনবোৰ বেলেগ ৰঙৰ বেলুনফুটোৱাই তেওঁ সৰ্বাধিক টকা উপাৰ্জন কৰিব পাৰিব? সেইবোৰ আঁকা আৰু ৰং কৰা।

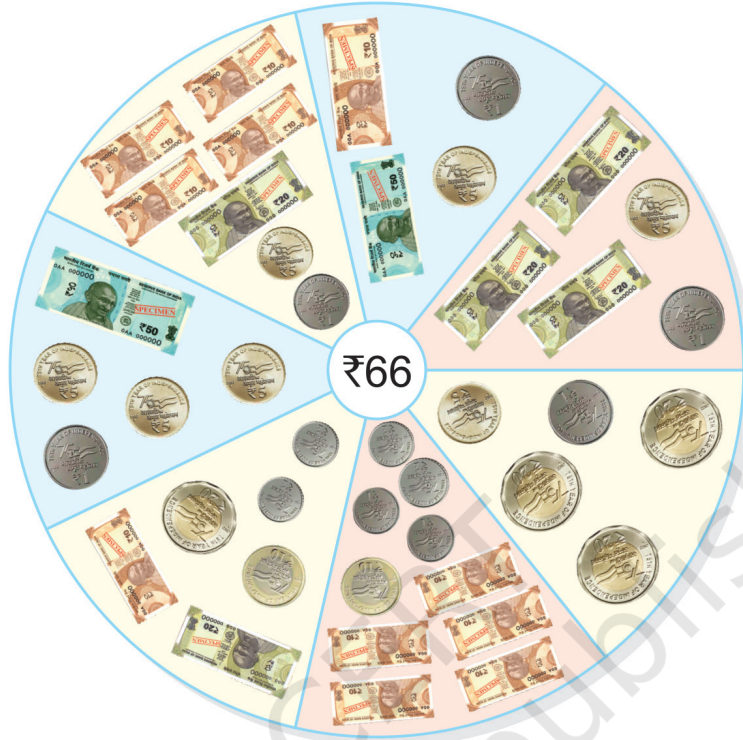
মুঠ জয়ী হোৱা ধনৰাশি =





## কৰি চাওঁ আহা

৬৬ টকা কেনেকৈ বিভিন্ন ধৰণে দিব পাৰি চাওঁ আহা।



উল্লেখ কৰা পৰিমাণটো বনাবলৈ বিভিন্ন সংমিশ্ৰণ বনোৱা।


পৰিমাণ	₹1	₹2	₹5	₹10	₹20	₹50
₹54	—	2	—	3	1	—
₹85						







## কিনো আহা



সামগ্রীসমূহ

এই বস্তুবোৰ কিনিবলৈ  
টকাৰ প্ৰয়োজন হৈছিল

তোমাৰ হাতত  
থকা টকা

টকা বাকী থাকিল/  
অধিক টকাৰ প্ৰয়োজন



₹ \_\_\_\_\_



₹ \_\_\_\_\_



₹ \_\_\_\_\_



₹ \_\_\_\_\_



₹ \_\_\_\_\_



₹ \_\_\_\_\_





## কৰি চাওঁ আহা

₹ 18

+ ₹ 32

\_\_\_\_\_

₹ 15

+ ₹ 27

\_\_\_\_\_

₹ 47

+ ₹ 50


\_\_\_\_\_

₹ 22

+ ₹ 35

\_\_\_\_\_

তুমি দেখিছানে যে  
কেতিয়াবা আমি মোবাইল  
ফোন ব্যৱহাৰ কৰি ধন  
পৰিশোধ কৰো?



ক) জয়ন্তই কলমৰ বাবদ 25 টকা আৰু বহীৰ বাবদ 40 টকাৰ খৰচ কৰিছিল। মুঠতে কিমান টকা খৰচ কৰিলে?

খ) মীৰাৰ হাতত 43 টকা আছে। মীৰাতকৈ কণিকাৰ হাতত টকা 14 বেছি আছে। কণিকাৰ হাতত কিমান টকা আছে?

গ) ব্ৰেডৰ পেকেট এটাৰ দাম 30 টকা আৰু চকলেটৰ দাম 60 টকা। এইবোৰ বস্তু কিনিবলৈ বিবেকক কিমান টকা লাগিব?

ঘ) অজয়ৰ হাতত 58 টকা আছে। বজাৰত 48 টকা খৰচ কৰিছিল। এতিয়া তেওঁৰ লগত কিমান টকা বাকী আছে?



## প্ৰকল্পৰ কাম

যেতিয়া তুমি বজাৰলৈ যোৱা বা মাক-দেউতাৰ সৈতে বজাৰ কৰা তেতিয়া তুমি কিনা বস্তু আৰু খৰচ কৰা মুঠ টকাৰ তালিকা এখন বনাবা।

এনে ধৰণৰ অধিক আলোচনা কৰক আৰু শিশুৱে যোগ কৰিব নে বিয়োগ কৰিব সেই প্ৰশ্ন সুধিব। আলোচনাৰ জৰিয়তে ল'ৰা-ছোৱালীৰ মাজত ধন সঞ্চয়ৰ মূল্যৰ বীজ সিঁচিব।

