



QRickit

0224CH09




ঋতুবোৰ



বছৰত পাঁচটা ঋতু বসন্তৰ
আৰম্ভণি হয় ফুলৰ সুবাসেৰে,
হেপাহৰ বসন্তত চৰাইবোৰে
গান গায়

প্ৰথম ব'দ লৈ গ্ৰীষ্মকাল
আহে আৰু দীঘল
দিনবোৰ ল'ৰা-ছোৱালীয়ে
খেলিবৰ বাবে।



বৰষুণৰ টোপালৰ লগত
বাৰিষা আহে; ময়ূৰে নাচে
আৰু বেঙে জপিয়ায়।

সৰাপাতে তল ভৰি থাকে।
সুখৰ বতাহজাকৰ সৈতে
বহাগ আহে।



শীতকালত সকলো
ফালৰ পৰা বৰফেৰে
আৱৰি ৰাখে।



আলোচনা কৰোঁ আহা

- খ) কোনটো ঋতুত তুমি বন্ধ পোৱা?
- খ) তোমাৰ জন্মদিন বছৰৰ কোনটো ঋতুত পৰে?
- গ) তোমাৰ প্ৰিয় ঋতু কোনটো? কিয়?
- ঘ) তোমাৰ প্ৰিয় ঋতুৰ বিশেষত্ব কি?

কবিতাটো অংগী ভংগীৰে জোৰেৰে পঢ়ক। বিভিন্ন ঋতুত তেওঁলোকে কৰা বিশেষ কামবোৰৰ বিষয়ে আলোচনা কৰক। লগতে স্থানীয়ভাৱে উপলব্ধ বিভিন্ন খাদ্য আৰু কাপোৰৰ বিষয়েও কওক, যেনে কাশ্মীৰৰ ফেৰাণ আদিও, ঋতুৰ স্থানীয় তাৰতম্যই মানুহৰ দৈনন্দিন জীৱনত কেনে প্ৰভাৱ পেলায় সেই বিষয়েও আলোচনা কৰক।



ঋতুবোৰৰ নাম আৰু উৎসৱৰ লগত মিলোৱা।



শৰত্

বিজয়া দশমী, শাৰদী
পূৰ্ণিমা




গ্ৰীষ্ম

গুৰু পূৰ্ণিমা, বুদ্ধ পূৰ্ণিমা,
ৰাম নৱমী, মহাবীৰ
জয়ন্তী



বসন্ত

গুড়ী পড়ৱা, শিৱৰাত্ৰি,
বৈশাখী, হোলী



শীতকাল

লোহৰী, বৰদিন,
গণৰাজ্য দিৱস,
গুৰুনানক জয়ন্তী
বিহুBihu



বাৰিষা

জন্মাষ্টমী, ৰাখী বন্ধন,
স্বাধীনতা দিৱস

হিন্দী ভাষাত, যেনে- বসন্ত, শিশিৰ ইত্যাদি, আৰু অন্যান্য আঞ্চলিক ভাষাতো ঋতুৰ নাম আলোচনা কৰা। ঈদৰ দৰে আন আন উৎসৱৰ কথা কওক, যিবোৰ ঋতুভিত্তিক নহয়।



কেলেঙাৰ মজা

জানুৱাৰী

S	M	T	W	T	F	S
1	2	3	4	5	6	7
8	9	10	11	12	13	14
15	16	17	18	19	20	21
22	23	24	25	26	27	28
29	30	31				

ফেব্ৰুৱাৰী

S	M	T	W	T	F	S
			1	2	3	4
5	6	7	8	9	10	11
12	13	14	15	16	17	18
19	20	21	22	23	24	25
26	27	28				

মাৰ্চ

S	M	T	W	T	F	S
			1	2	3	4
5	6	7	8	9	10	11
12	13	14	15	16	17	18
19	20	21	22	23	24	25
26	27	28	29	30	31	

এপ্ৰিল

S	M	T	W	T	F	S
30						1
2	3	4	5	6	7	8
9	10	11	12	13	14	15
16	17	18	19	20	21	22
23	24	25	26	27	28	29

মে

S	M	T	W	T	F	S
	1	2	3	4	5	6
7	8	9	10	11	12	13
14	15	16	17	18	19	20
21	22	23	24	25	26	27
28	29	30	31			

জুন

S	M	T	W	T	F	S
				1	2	3
4	5	6	7	8	9	10
11	12	13	14	15	16	17
18	19	20	21	22	23	24
25	26	27	28	29	30	

জুলাই

S	M	T	W	T	F	S
30	31					1
2	3	4	5	6	7	8
9	10	11	12	13	14	15
16	17	18	19	20	21	22
23	24	25	26	27	28	29

আগষ্ট

S	M	T	W	T	F	S
		1	2	3	4	5
6	7	8	9	10	11	12
13	14	15	16	17	18	19
20	21	22	23	24	25	26
27	28	29	30	31		

ছেপ্টেম্বৰ

S	M	T	W	T	F	S
					1	2
3	4	5	6	7	8	9
10	11	12	13	14	15	16
17	18	19	20	21	22	23
24	25	26	27	28	29	30

অক্টোবৰ

S	M	T	W	T	F	S
1	2	3	4	5	6	7
8	9	10	11	12	13	14
15	16	17	18	19	20	21
22	23	24	25	26	27	28
29	30	31				

নৱেম্বৰ

S	M	T	W	T	F	S
			1	2	3	4
5	6	7	8	9	10	11
12	13	14	15	16	17	18
19	20	21	22	23	24	25
26	27	28	29	30		

ডিচেম্বৰ

S	M	T	W	T	F	S
31					1	2
3	4	5	6	7	8	9
10	11	12	13	14	15	16
17	18	19	20	21	22	23
24	25	26	27	28	29	30

*2023 চনৰ কেলেণ্ডাৰ

কেলেণ্ডাৰখন চাই টেবুলখন পূৰ কৰা।

মাহ	দিনৰ সংখ্যা
জানুৱাৰী, মাৰ্চ, মে', জুলাই, আগষ্ট, অক্টোবৰ, ডিচেম্বৰ	
ফেব্ৰুৱাৰী	
এপ্ৰিল, জুন, ছেপ্টেম্বৰ, নৱেম্বৰ	






কথা পাতো আহা

- ক) আমি কিয় কেলৈগাৰ ব্যৱহাৰ কৰো?
- খ) প্ৰতি বছৰে ফেব্ৰুৱাৰী মাহত একে সমান দিন থাকে নেকি? আলোচনা কৰা।
- গ) এসপ্তাহত কিমান দিন থাকে? দিন।
- ঘ) আগৰ পৃষ্ঠাত দিয়া কেলৈগাৰত এপ্ৰিল মাহত কিমান দেওবাৰ থাকে? দেওবাৰে।
- ঙ) কোনবোৰ মাহত 5টা দেওবাৰ থাকে? _____, _____, _____, _____, _____.
- চ) গৰমৰ বন্ধ _____ আৰু _____ মাহত।
- ছ) শীতৰ বন্ধ _____ আৰু _____ মাহত।
- H. এপ্ৰিল আৰু মাৰ্চ মাহত মুঠ দিনৰ সংখ্যা বিচাৰি উলিওৱা।
 দিন + দিন = দিন



প্ৰকল্পৰ কাম

তোমাৰ জন্মদিনৰ মাহৰ নিজৰ কেলৈগাৰ বনোৱা আৰু তাত তোমাৰ জন্মদিনটো চিহ্নিত কৰা।



S	M	T	W	T	F	S

আমাৰ দৈনন্দিন জীৱনত কেলৈগাৰৰ গুৰুত্বৰ বিষয়ে আলোচনা কৰা।



কিমান সময় লাগে?

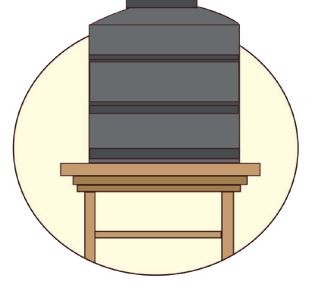
কাৰ্য্যকলাপটো সম্পূৰ্ণ হ'বলৈ প্ৰয়োজন হোৱা সময়ৰ সৈতে মিলোৱা।




ৰন্ধা



গৰম বন্ধ



পানীৰ টেংকি
ডৰোৱা



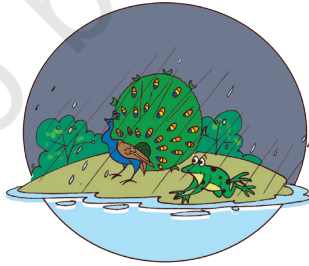
চুৱেটাৰ গোঠা



খেল



বীজৰ পৰা গছ
গজিবলৈ



ঋতুৰ পৰিৱৰ্তন



যোগাসন

আন আন কামবোৰৰ আলোচনা কৰা যিবোৰ সম্পূৰ্ণ হ'বলৈ বেলেগ বেলেগ সময় লাগে।



তাৰিখ: 24 নৱেম্বৰ।
সময়: পুৱা 8:25 বজাত"

বিজয়ৱাডালৈ যাত্ৰা

08:25

সোনকাল কৰা! ৰেলখন
যাবলৈ ওলাইছে

তাৰিখ: 24 নৱেম্বৰ।
সময়: 1:15 বজাত"

1:15 PM বাজিছে ককা,
আইতাৰ ঘৰ পাবলৈ
আৰু কিমান সময়
লাগিব?

বিজয়ৱাড়া ৰেলৱে ষ্টেচন
পাবলৈ আৰু মাত্ৰ 1 ঘণ্টা।

তাৰিখ: 25 নৱেম্বৰ।
সময়: নিশা 10:00 জাত"

মা! আজি আমি বহুত
আনন্দ কৰিলোঁ আৰু
মামালৈ চাওক, তেওঁক বহুত
ধুনীয়া দেখা গৈছে।

হয় প্ৰিয়তম! যিহেতু
তেওঁৰ আজি বিয়া।

ভগৱানে তেওঁক
মংগল কৰক।

তাৰিখ: 26 নৱেম্বৰ।
সময়: পুৱা 8:00 বজাত"

মা! আমাৰ ৰেল পহৰিলৈ
আছে। আমি ঠাইবোৰ
চাবলৈ যাব পাৰোনে?

হয়, আমি ৰাতিপুৱা 11:00
বজাত মংগলগিৰি
পাহাৰলৈ যাম।

তাৰিখ: 26 নৱেম্বৰ।
সময়: সন্ধিয়া 5:00 বজাত”।

চাওক আইতা, এই গছ-
গছনিবোৰ কিমান ধুনীয়া।
ইমানবোৰ ধুনীয়া ফুলো
আছে।

ল’ৰা-ছোৱালীবোৰ,
5:00 বাজিল, দেৰি হব।
আহা আমি উভতি যাওঁ।

আমি 8 ঘণ্টাৰ পিছত
আহিম।

তাৰিখ: 27নৱেম্বৰ।
সময়: পুৱা 9:00 বজাত”

পৰিয়ালটোৱে ৰাতিপুৱা 9
বজাত বাছেৰে কোণাৱলী
গড়লৈ যোৱাৰ সিদ্ধান্ত লয়।

ঠিক আছে ছাৰ, আপুনি কিল্লাটো চাই আহক। 8
ঘণ্টাৰ পিছত আহিম আপোনালোক সকলোকে
ল’বলৈ। শুভেচ্ছা থাকিল।

তাৰিখ: 27নৱেম্বৰ।
সময়: পুৱা 9:00 বজাত”।

অ’ দেউতা আমাৰ ভ্ৰমণ শেষ হৈ
গ’ল আৰু এতিয়া ঘৰলৈ উভতি
যাব লাগিব। কিন্তু, ভাৰতৰ
আটাইতকৈ দ্ৰুততম ৰেলখনেৰে
উভতি যাবলৈ পাই মই
আশ্বাহাৰ হৈ পৰিছো, যাৰ নাম
বন্দে ভাৰত।

হয়

ৰাঃ!

তাৰিখ: 28 নৱেম্বৰ।
সময়: নিশা 11:30 বজাত”।

মা, এই ৰোমাঞ্চকৰ ভ্ৰমণৰ
কথা বন্ধুসকলক কেতিয়া য়ে
ক’বলৈ পাম।

হয়, আমি অতি সোনকালে
আকৌ এনেকুৱা ভ্ৰমণ কৰিম!



কথা পাতো আহা


- ক) পৰিয়ালটোৱে কিয় ভ্ৰমণৰ পৰিকল্পনা কৰিছিল? ভ্ৰমণৰ বাবে তেওঁলোক কোন ঠাইলৈ গৈছিল? তেওঁলোকৰ ভ্ৰমণত তোমাৰ কি ভাল লাগিল?
- খ) কোন দিনাৰ পৰা তেওঁলোকে যাত্ৰা আৰম্ভ কৰিছিল? কেতিয়া ঘূৰি আহিল? তেওঁলোকৰ যাত্ৰা কিমান দীঘলীয়া আছিল?
- গ) তেওঁলোকে ভ্ৰমণত কোনবোৰ ঠাই ভ্ৰমণ কৰিছিল?
- ঘ) তেওঁলোকৰ দিনটোৰ ভ্ৰমণ কিমান দীঘলীয়া আছিল:
- মংলাগিৰি পাহাৰ _____ ঘণ্টা
 - কোণপল্লী দুৰ্গ _____ ঘণ্টা
তাৰ পৰা কেতিয়া উভতি আহিল? _____
- ঙ) তেওঁলোক কিমান ঘণ্টা ৰেলত আছিল—
- বিশাখাপটনমৰ পৰা বিজয়ৱাড়ালৈ
_____ লৈ _____ ঘণ্টা
 - বিজয়ৱাড়াৰ পৰা বিশাখাপটনমলৈ
_____ লৈ _____ ঘণ্টা
- দুয়োটাৰ ভিতৰত কোনটো যাত্ৰাত বেছি সময় লাগিছিল?
- চ) শেহতীয়াকৈ তুমি ভ্ৰমণলৈ গৈছানে? ভ্ৰমণৰ বিষয়ে তোমাৰ কি বেছি ভাল লাগিল



আচৰিত তথ্য

জানেনে?

ভাৰতৰ আটাইতকৈ দ্ৰুততম ৰেল বন্দে ভাৰত। কেৱল ভাৰতত ডিজাইন কৰা এই ৰে'লখন ভাৰতৰ প্ৰথমখন ৰে'ল য'ত ইন্টিগ্ৰেটেড ইঞ্জিন আছে আৰু পৃথক ইঞ্জিন ডবা নাই।



দিন আৰু ঘণ্টাৰ হিচাপত সময়ৰ ধাৰণাটোৰ সৈতে পৰিচিত হ'বলৈ শিশুসকলৰ সৈতে তেওঁলোকৰ ভ্ৰমণ অভিজ্ঞতাৰ বিষয়ে কথা পাতক। লগতে তেওঁলোকৰ চহৰবোৰৰ বিশেষত্ব কি সেই বিষয়েও আলোচনা কৰক।



গাৰ্গীৰ দিনচৰ্চা।

এদিনত গাৰ্গীয়ে কি কৰে চাওঁ আহা। প্ৰতিখন ছবিৰ বাবে সময় লিখা।



___ টা বাজিছে



শুবলৈ যায়



6 বজাত



সাৰ পায়



পানী আনে



7 বজাত



___ বাজিছে



বন্ধুৰ সৈতে
খেলে




গাৰ্গীৰ দিনচৰ্চা।



স্কুললৈ যায়



___ বাজিছে



___ বাজিছে



দুপৰীয়াৰ আহাৰ খায়



___ বাজিছে



অধ্যয়ন কৰে



___ বাজিছে



ঘৰলৈ উভতি
আহে



কথা পাতো আহা

চুটি কাঁটা (ঘণ্টাৰ কাঁটা) আৰু দীঘল কাঁটা (মিনিটৰ কাঁটা)ৰ অৱস্থান চোৱা, আৰু নিৰীক্ষণ কৰা যে গাৰ্গীয়ে দিনটোত কিমান সময়ত এই কামবোৰ কৰে।

ক) কিমান সময়ত তাই সাৰ পায়?

খ) তাই কেতিয়া স্কুললৈ যায়?

গ) কিমান বজাত তাইৰ দুপৰীয়াৰ আহাৰ খায়?





কৰি চাওঁ আহা

ক) ঘড়ীৰ সময় কোৱা।



__ বাজিছে



__ বাজিছে




__ বাজিছে



__ বাজিছে

খ) ঘড়ীটোত ঘণ্টাৰ কাঁটা আৰু মিনিটৰ কাঁটা আঁকা।



3 বাজিল



11 বাজিল



4 বাজিল



9 বাজিল



12 বাজিল



6 বাজিল



গ) তলত দেখুওৱা কামবোৰ তুমি কেতিয়া কৰা?

ঘড়ীৰ কাঁটা আৰু মিনিটৰ কাঁটা আঁকি ঘড়ীত সেইবোৰ চিহ্নিত কৰা।




অধ্যয়ন কৰা



খেলা



দুপৰীয়াৰ আহাৰ

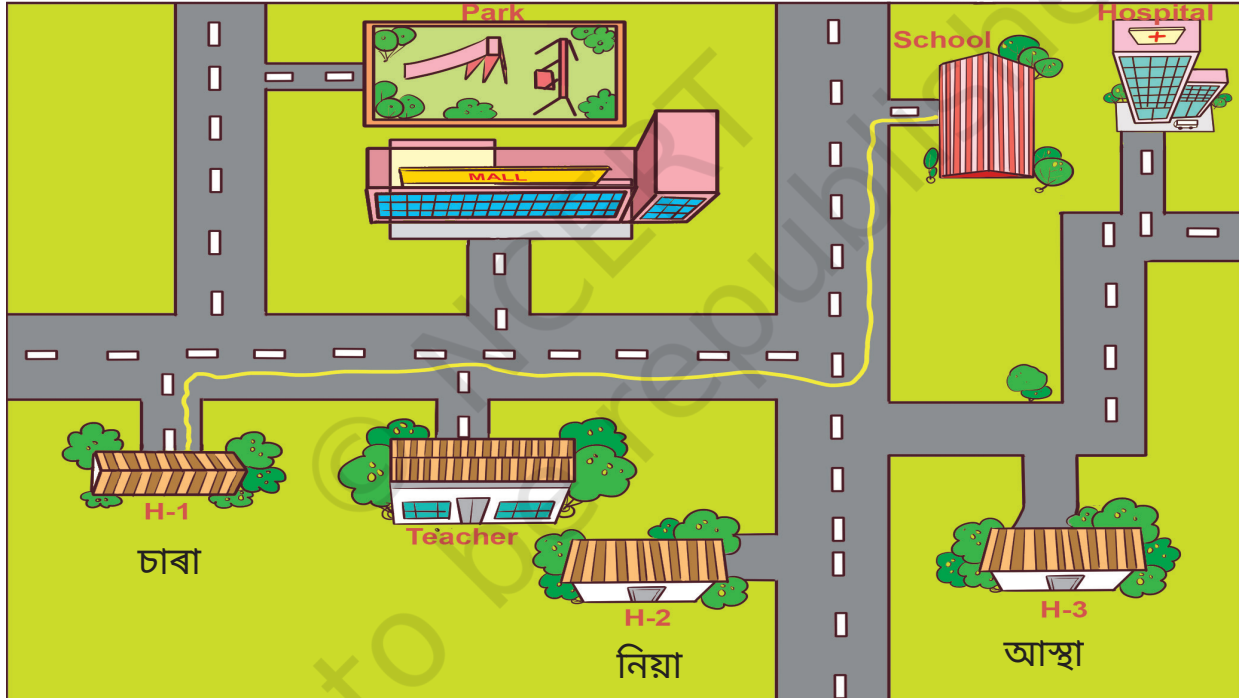




খেলা আহা — দিশবোৰ জানিবলৈ

শ্ৰেণীকোঠাৰ পৰা এজন শিশুক নিজৰ ইচ্ছা অনুসৰি আহিবলৈ কওক। তেওঁৰ চকুত পটি বান্ধি দিয়ক। চকুত পটি থকা শিশুটিক এটা ঠাইৰ পৰা আন এটা ঠাইলৈ যাবলৈ নিৰ্দেশনা দিয়ক (উদাহৰণস্বৰূপে, শেষৰ বেঞ্চৰ পৰা ব্লেকবৰ্ডলৈ যাবলৈ)। দিশ নিৰ্দেশনাৰ বাবে কেৱল এই শব্দবোৰ ব্যৱহাৰ কৰক— সোঁ, বাওঁ বা পোনে পোনে।

খেলখন 5-7ৰাউণ্ডলৈ চলিব আৰু বিভিন্ন শিশুৱে নিজেই স্বেচ্ছাসেৱী হিচাপে কাম কৰিব। শ্ৰেণীকোঠাত বস্তুৰ খুন্দা খাবলৈ ওলোৱাৰ সময়ত শিশুসকলক 'বিপদ'ৰ দৰে নিৰাপদ শব্দ এটা সিদ্ধান্ত ল'বলৈ কওক। (অসুবিধাৰ মাত্ৰা বৃদ্ধি কৰিবলৈ আপুনি শ্ৰেণীকোঠাৰ পৰিৱেশ সলনি কৰিব পাৰে বা বাটত নিৰাপদ বাধা ৰাখিব পাৰে)।



ছাৰাৰ স্কুললৈ যোৱাৰ পথ

গ্ৰীণ লাইন হৈছে ছাৰাই স্কুল পোৱাৰ পথ। এতিয়া আস্থা আৰু নিয়াক ঘৰৰ পৰা স্কুললৈ নিবলৈ বিভিন্ন ৰঙৰ ৰেখা আঁকক।

নেভিগেচনৰ বাবে অৰ্থাৎ বিভিন্ন ঠাইৰ স্থান নিৰ্ণয়ৰ বাবে মোবাইল এপৰ ব্যৱহাৰৰ বিষয়ে আলোচনা কৰা।



পূব, পশ্চিম, উত্তৰ বা দক্ষিণ

আমি থিয় হওঁ আহা

সূৰ্য উদয়ৰ ফালে।

এইটোৱেই হৈছে...পূব দিশ।



পাছফালে তুমি পশ্চিম দিশটো পাবা।

বাওঁহাতৰ বুঢ়া আঙুলিটো ওপৰলৈ দিয়া আৰু সেয়া হ'ল উত্তৰ।

তোমাৰ সোঁফালে দক্ষিণ দিশ।

গতিকে, যেতিয়া আমি খোজ কাঢ়ি ওলাই যাওঁ আৰু ইফালে
সিফালে যাওঁ,

আমি জানো কোন দিশলৈ যাব লাগে

পূব, পশ্চিম, উত্তৰ বা দক্ষিণ।



কবিতাটো অংগী ভংগীৰে গাব। শিশুসকলক দিশ চিনাক্ত কৰাত সহায় কৰিব।
নিৰ্দেশনাত শিক্ষকে গুৰুত্ব দিব লাগিব, আৰু ল'ৰা-ছোৱালীক তেওঁলোকৰ ওচৰৰ
চৌপাশৰ পৰা উদাহৰণ দিব লাগে যাতে তেওঁলোকে এই শব্দবোৰৰ স্থানীয়
প্ৰাসংগিকতা বুজি পায়।





কৰি চাওঁ আহা

তলৰ শ্ৰেণীকোঠাটো চোৱা আৰু উত্তৰ, দক্ষিণ, পূব আৰু পশ্চিম শব্দ দুটা ব্যৱহাৰ কৰি প্ৰশ্নবোৰৰ উত্তৰ দিয়া (কম্পাছ চাই)।



ক) হানীতৰ ডেস্কখন ছাৰাৰ ডেস্কৰ _____ ৰ ওচৰত।

খ) আলমাৰীটো আলীৰ ডেস্কৰ _____ দিশত।

গ) ব্লেকবৰ্ডত উপনীত হ'বলৈ মীৰাই _____ দিশত আৰু তাৰ পিছত _____ ৰ ফালে আগবাঢ়িব লাগিব।

ঘ) খিৰিকীৰ চৰাইবোৰক খুৱাবলৈ নিতিনে _____ ফালে আৰু তাৰ পিছত _____ লৈ খোজ কাঢ়িব লাগে।

কম্পাছ আৰু ইয়াৰ ব্যৱহাৰৰ বিষয়ে আলোচনা কৰক। লগতে শিশুসকলক কম্পাছ ব্যৱহাৰ কৰি বিভিন্ন ৰেফাৰেন্স বিন্দুৰ পৰা বস্তুৰ দিশ জানিবলৈ দিয়ক।

