



QRickit

0224CH06




6

উৎসৱ বাবে সজ্জা



উদযাপনৰ বাবে সজ্জা!

ৰোহন আৰু তেওঁৰ বন্ধুসকলক উৎসৱ উপলক্ষে ঘৰ সজাবলৈ মালাৰ প্ৰয়োজন।  প্ৰত্যেকৰে  ওচৰত 10 পাহ ফুল  আছে।
ওপৰৰ ছবিখনৰ সহায়ত টেবুলখন সম্পূৰ্ণ কৰক।

নাম	মালাৰ সংখ্যা 	ফুলৰ সংখ্যা 	মুঠ সংখ্যা 
ৰোহন	1	2	$10 + 2 = 12$
ছিমৰান	3	7	$30 + 7 = 37$
আকাশ	4	8	$40 + 8 = 48$
সৱালী	5		$50 + 3 = 53$
জাভেদ			
জোহা			



ৰোহন আৰু সূৰালীয়ে একেলগে কিমান ফুল ব্যৱহাৰ কৰে?




মৰ
 $10 + 2 = 12$
পাহ ফুল আছে।



মৰ
 $50 + 3 = 53$
পাহ ফুল আছে।


ৰোহনে আনে

1  2 



$10 + 2 = 12$ 


সূৰালীয়ে আনে

5  3 

$50 + 3 = 53$ 

সূৰালী আৰু ৰোহনে
একেলগে আনে

6  5 

$60 + 5 = 65$ 

দহক (দহ) একক (এক)

$\begin{array}{r} 1 \quad 2 \\ + 5 \quad 3 \\ \hline \end{array}$


$\begin{array}{r} \text{T} \quad \text{O} \\ 1 \quad 2 \\ + 5 \quad 3 \\ \hline 5 \end{array}$

$\begin{array}{r} \text{T} \quad \text{O} \\ 1 \quad 2 \\ + 5 \quad 3 \\ \hline 6 \quad 5 \end{array}$

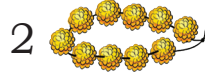
ৰাঃ! আমাৰ দুয়োৰে
65 পাহ ফুল আছে।



জোহা আৰু জাভেদে মুঠতে কিমান ফুল ব্যৱহাৰ কৰে?



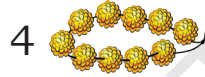
জোহাই আনে



0

$$20 + 0 = 20$$

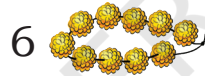
জাভেদে আনে



3

$$40 + 3 = 43$$

জোহা আৰু জাভেদ
একেলগে আনে



3

$$60 + 3 = 63$$

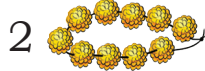
$$\begin{array}{r} \text{T O} \\ 43 \\ + 20 \\ \hline \end{array}$$

$$\begin{array}{r} \text{T O} \\ 43 \\ + 20 \\ \hline \end{array}$$

$$\begin{array}{r} \text{T O} \\ 43 \\ + 20 \\ \hline \end{array}$$

জোহা আৰু আকাশে ব্যৱহাৰ কৰা মুঠ ফুলৰ সংখ্যা কিমান?

জোহাই আনে



0

$$20 + 0 = 20$$

আকাশে আনে

জোহা আৰু আকাশে
একেলগে আনে

$$\begin{array}{r} \text{T O} \\ 48 \\ + 20 \\ \hline \end{array}$$



ৰোহন আৰু ছিমিৰনে ব্যৱহাৰ কৰা মুঠ ফুলৰ  সংখ্যা কিমান?

ৰোহনে আনে

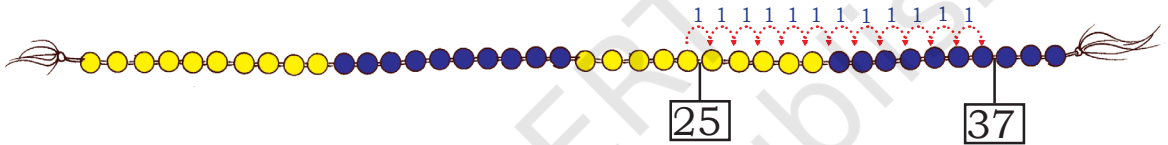
ছিমিৰনে আনে

ৰোহন আৰু ছিমিৰনে
একেলগে আনে

**আহাঁ আমি গনিলাভি (গণনাৰ
মালা)ৰ ওপৰতো কৰোঁ!**

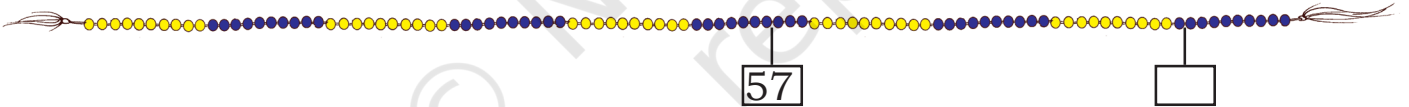
25ৰ আগৰ 12 গণনা
কৰা।

A. $25 + 12 =$



B. $57 + 34 =$

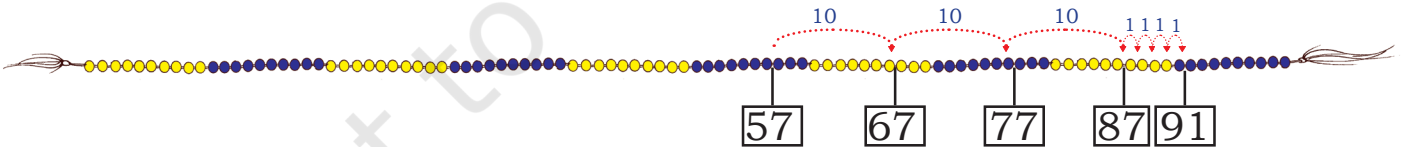
ৰ আগত _____ গণনা কৰক। _____



এইদৰে বুজি লওঁ আহক।

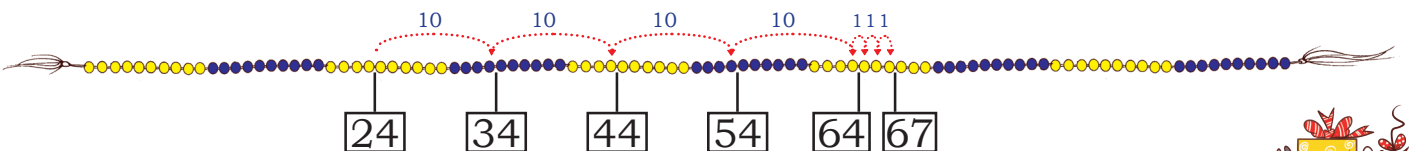
$$57 + 34 = 57 + 30 + 4$$

$$87 + 4 = 91$$



C. $24 + 43 =$

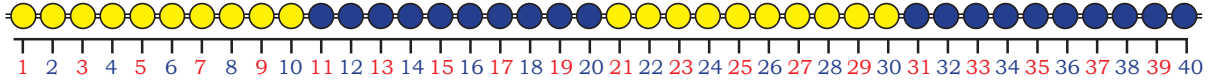
আমি $24 + 40 + 3 = 64 + 3 = 67$ এনেদৰে লিখিব পাৰো



আমি 43 সংখ্যাটো আন এক ধৰণে পাব পাৰো: $20 + 20 + 3$



প্রতিবাৰেই গিনলাডিৰ গুটি গণনা
কৰাটো কঠিন। গুটিৰ ঠাইত সংখ্যাবোৰ
লিখি দিওঁ।



এতিয়া সংখ্যাবেখাত সংখ্যা
যোগ কৰা।

ইয়াক মই সংখ্যা
ৰেখা বুলি কৈছো।



A. $23 + 14 = 37$



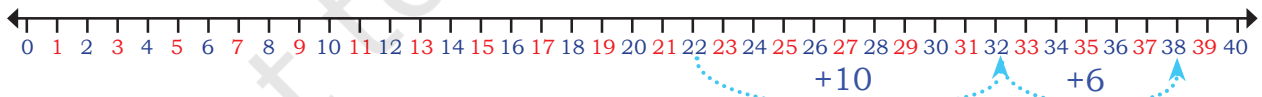
B. $24 + 16 =$



C. $11 + 22 =$



সংখ্যা ৰেখা পড়ি বাকচবোৰ পূৰণ কৰক।

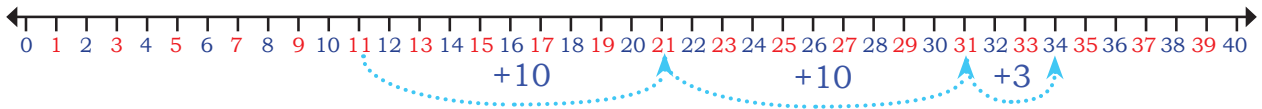


A. $22 + = 38$



B. $18 + =$





C. + =

এই সংখ্যাবোৰ যোগ কৰা

$$\begin{array}{r} 44 \\ + 23 \\ \hline \end{array}$$

$$\begin{array}{r} 56 \\ + 23 \\ \hline \end{array}$$

$$\begin{array}{r} 60 \\ + 25 \\ \hline \end{array}$$


$$\begin{array}{r} 52 \\ + 30 \\ \hline \end{array}$$

ব্লকৰ সৈতে খেলা

মাহীৰ কিছুমান ব্লক আছে। ঈশাই খেলিবলৈ ব্লক লৈ আহিছিল। তেওঁলোকৰ মুঠ কিমান ব্লক আছে সেইটো বিচাৰি উলিওৱাত আমি তেওঁলোকক সহায় কৰোঁ আহক।



মাহীৰ ব্লক।

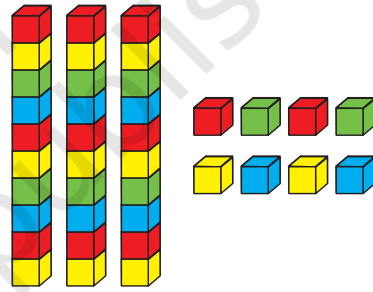


2 দহ 3 একক

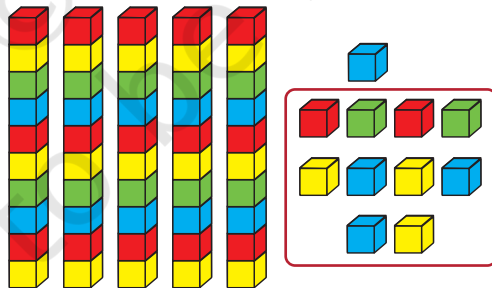
আৰু

+


ইছাৰ ব্লক।



3 দহ 8 একক



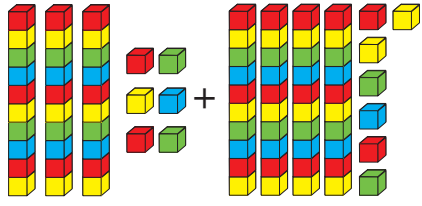
5 দহ 11 একক (1 দহ 1 এক)



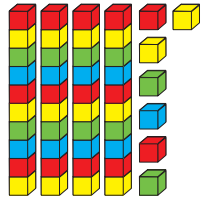
6 দহ 1 একক



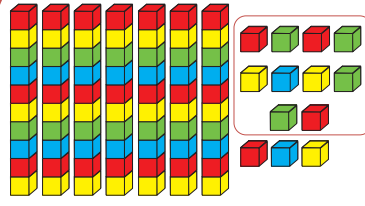
মুঠ ব্লকৰ সংখ্যা বিচাৰি উলিয়াওঁ আহাঁ।




3 দহ
6 একক



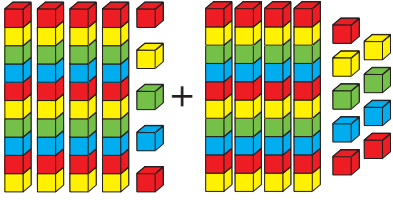
4 দহ
7 একক



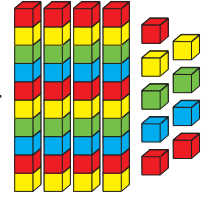
7 দহ 13 ones
8 দহ আৰু 3 একক



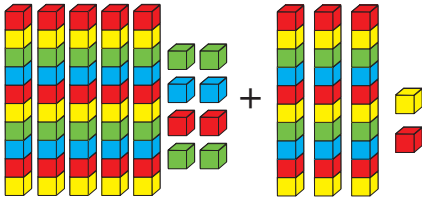
$80 + 3 = 83$




4 দহ
5 একক



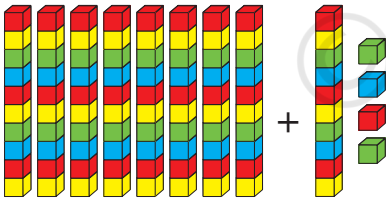
4 দহ
9 একক



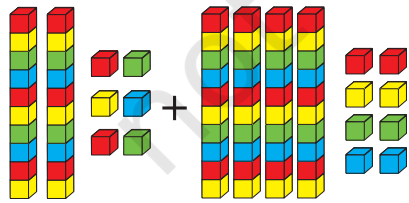
5 দহ
8 একক



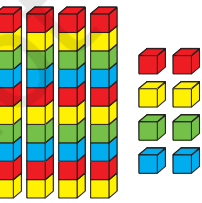
3 দহ
2 একক



8 দহ
1 দহ
4 একক



2 দহ
6 একক



4 দহ
8 একক





T	O
3	6
+	4
<hr/>	

একক কইটা
যোগ কৰা
(6 + 7 = 13)
1 দহ আৰু 3
একক

¹ T	O
3	6
+	4
<hr/>	
3	

দহ যোগ কৰি
(3 + 4 + 1 = 8)
8 দহ

¹ T	O
3	6
+	4
<hr/>	
83	

দহকৰ স্থানান্তৰিতকৰণ

যোগ কৰা

46	
+	
39	
<hr/>	

56	
+	
19	
<hr/>	

36	
+	
8	
<hr/>	

30	
+	
58	
<hr/>	



45	
+	
35	
<hr/>	







কৰি চাওঁ আহাঁ




ক) ৰহিমে  এখন মেচত 43 ৰান আৰু আন এখন মেচত 58 ৰান কৰে। দুয়োখন মেচত একেলগে কিমান ৰান কৰিলে?



খ) ছিমৰপ্ৰীতৰ  হাতত 12 ডাল ৰং পেঞ্চিল আছিল।  মাকে তাইক আৰু 36 ডাল ৰং পেঞ্চিল উপহাৰ দিলে। তাইৰ হাতত এতিয়া মুঠ কিমান ৰং পেঞ্চিল আছে?

গ) হিনাই  34টা ৰঙা মাৰ্বল  আৰু 57টা নীলা মাৰ্বল সংগ্ৰহ কৰিছিল . তাইৰ হাতত এতিয়া মুঠ কিমান মাৰ্বল আছে?

ঘ) ছাৰিকাই  মেলাত 56 টকা খৰচ কৰিছিল, আনহাতে মনীষে মেলাত 35 খৰচ কৰিছিল। দুয়োজনে মেলাত খৰছ কৰা মুঠ টকা কিমান?

ঙ) বাছখনত 36 জন  পুৰুষ আৰু 47জন মহিলা।  বাছত . কিমান মানুহ আছে?



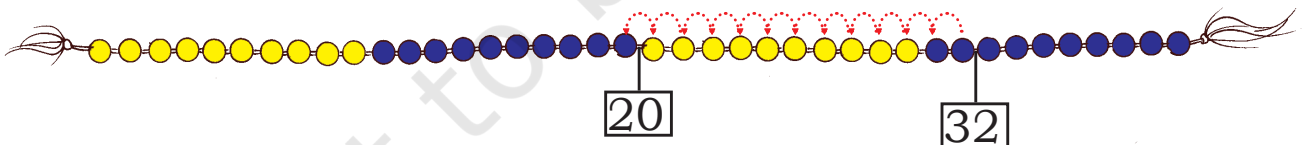
চাঁকি গণনা কৰো আহাঁ





অৰ্থাৎ 15ৰ পৰা 35টা আঁতৰাই দিলে
তেতিয়া উত্তৰ হ'ব 40।

$$75 - 35 = 40$$



32ৰ পৰা 12 টা আঁতৰাই আনিলে আমি
20 টা পাওঁ।

$$32 - 12 = 20$$

যদি আমাৰ ৰাতিপুৱা 32
টা থাকে আৰু
গধূলিলৈকে 12 টা চাঁকি
বিক্ৰী হয়। কিমান চাঁকি
বাকী থাকিব?

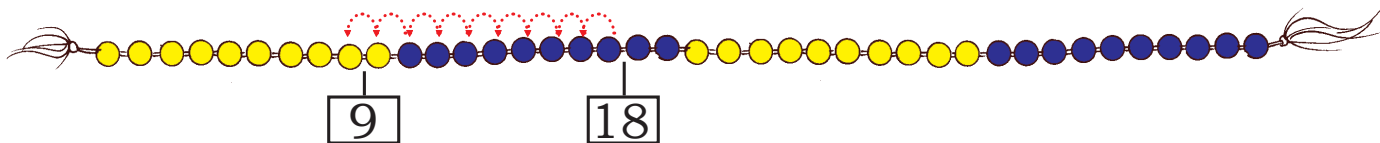


আমিও গিনলাডি ব্যৱহাৰ কৰি তলত দিয়া উত্তৰ বিচাৰিব পাৰো।

A.

18ৰ পৰা 9 টা লৈ যোৱা

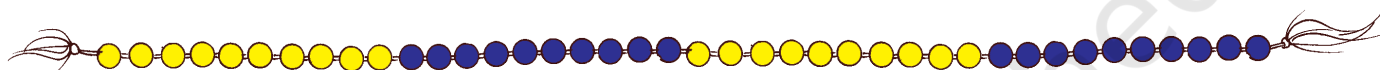
$18 - 9 =$



B.

12ৰ পৰা 8 টা লৈ যোৱা

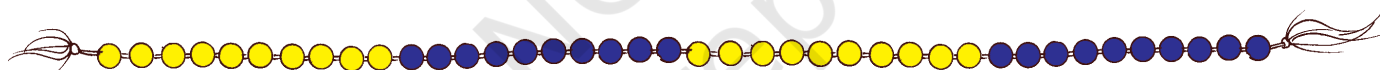
$12 - 8 =$



C.

30ৰ পৰা 18 টা লৈ যোৱা

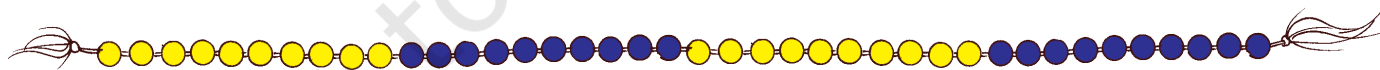
$30 - 18 =$



D.

23ৰ পৰা 14 টা লৈ যোৱা

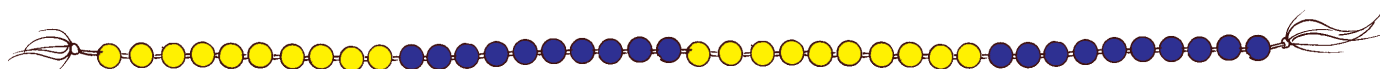
$23 - 14 =$

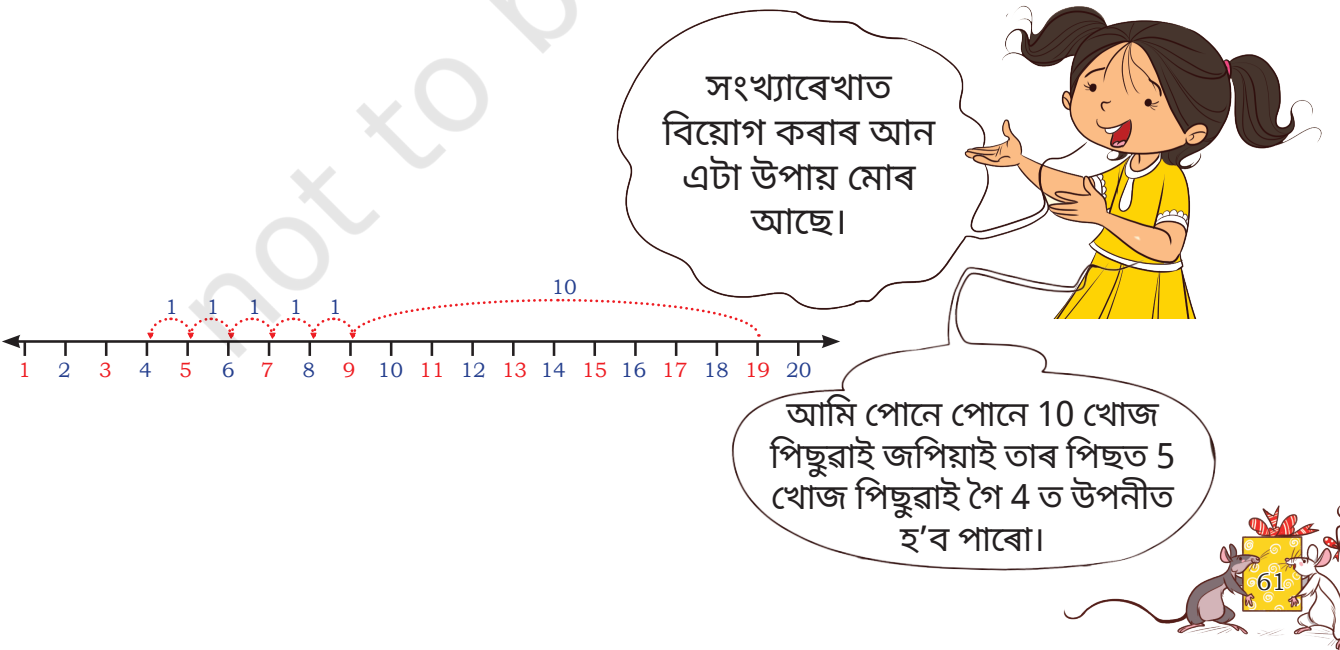
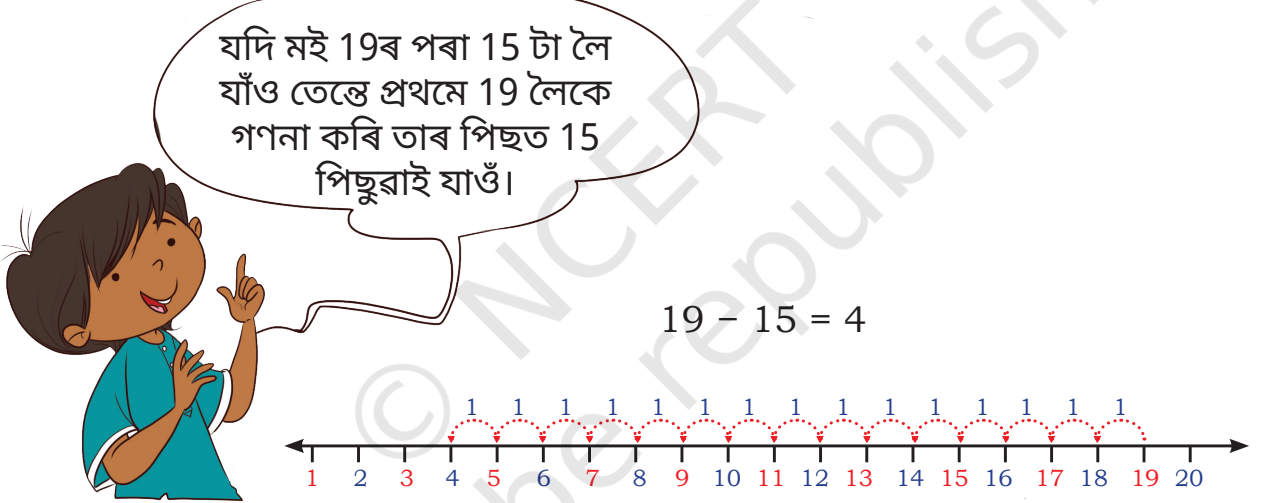


E.

26ৰ পৰা 17টা লৈ যোৱা

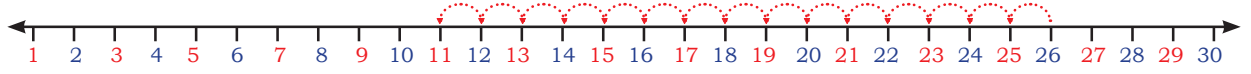
$26 - 17 =$



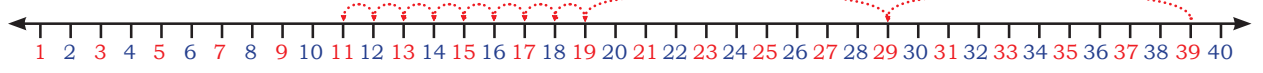


সংখ্যাৰখোত অলপ অনুশীলন কৰোঁ আহাঁ।

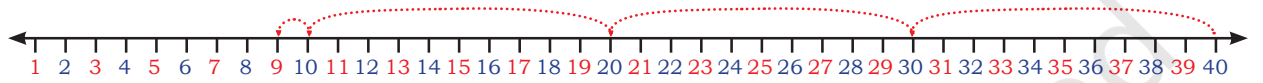
নম্বৰখো পঢ়িবাকচবোৰ পূৰণ কৰা।



A. $26 - \boxed{} = \boxed{}$



B. $39 - 28 = \boxed{}$



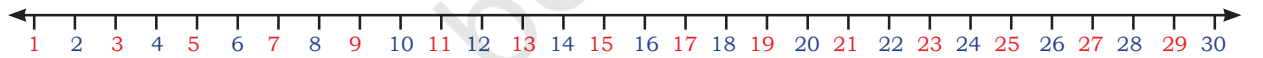
C. $\boxed{} - \boxed{} = \boxed{}$



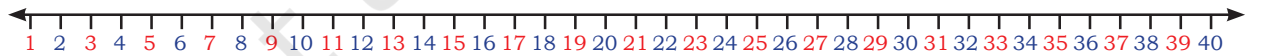
D. $38 - 11 = \boxed{}$



E. $22 - 22 = \boxed{}$



F. $14 - 0 = \boxed{}$



G. $35 - 12 = \boxed{}$

দৈনন্দিন জীৱনৰ পৰা উদাহৰণ লৈ শূন্য বিয়োগ আৰু নিজৰ সৈতে সংখ্যাটো বিয়োগ কৰাৰ বিষয়ে শিশুৰ সৈতে আলোচনা কৰক, যেনে, সকলো ধন খৰচ কৰা বা কোনো ধন খৰচ নকৰা।



ব্লকৰ সৈতে খেলা




10



1



মোৰ 45 আছে



মই 12 টা মোৰ বন্ধুক

দিলো মোৰ ওচৰত বাকী থাকিল

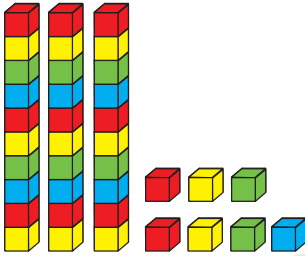


$$\begin{array}{r} \text{T O} \\ 45 \\ - 12 \\ \hline \end{array}$$

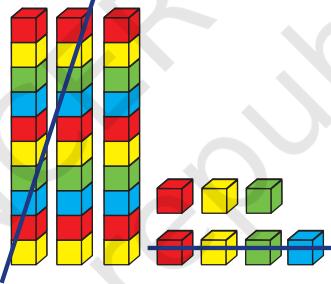
$$\begin{array}{r} \text{T O} \\ 45 \\ - 12 \\ \hline 3 \end{array}$$

$$\begin{array}{r} \text{T O} \\ 45 \\ - 12 \\ \hline 33 \end{array}$$

24 ৰ পৰা 37 বিয়োগ কৰক



3 দহ 7 একক



2 দহ 4 একক

$$\begin{array}{r} \text{T O} \\ 37 \\ - 24 \\ \hline \end{array}$$



কৰা চাওঁ আহাঁ

$$\begin{array}{r} 24 \\ - 13 \\ \hline \end{array}$$

$$\begin{array}{r} 54 \\ - 31 \\ \hline \end{array}$$

$$\begin{array}{r} 32 \\ - 12 \\ \hline \end{array}$$

$$\begin{array}{r} 46 \\ - 34 \\ \hline \end{array}$$

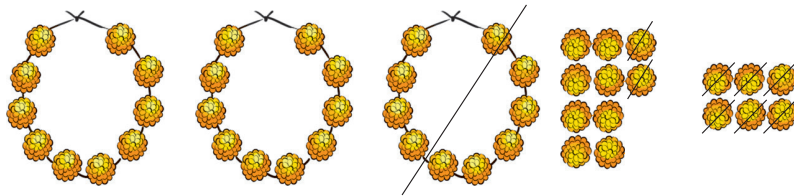
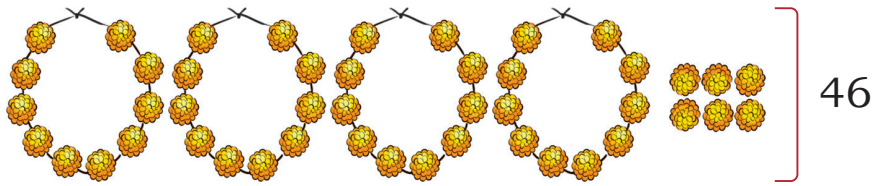
ক) শিখাৰ ওচৰত 82 টকা আছিল। তাই 22 টকাৰ পেঞ্চিল কিনিলে। তাইৰ হাতত কিমান টকা বাকী আছে?

খ) ৰুবীৰ 60 টকা আছিল। তাই 20 টকাৰে এখন বহী কিনিলে। তাইৰ হাতত কিমান টকা বাকী আছে?



মালাৰে সৌন্দৰ্য বৰ্ধন

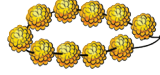





18 দৰিলৈ

T	O
4	6
-	18
<hr/>	

T	O
3	16
4	6
-	18
<hr/>	
	8

খোল খায় 1  = 16 )

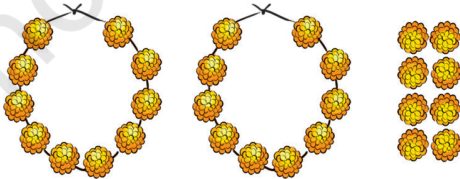
$16 - 8 = 8$

T	O
3	16
4	6
-	18
<hr/>	
	28



মোৰ হাতত 2 ডাল মালা
আৰু 8 পাহ ফুল, মুঠ 28
পাহ ফুল বাকী আছে।

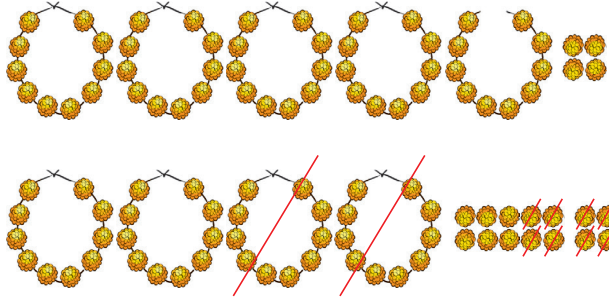
এতিয়া জ্যোতিৰ মুঠ 28 পাহ ফুল আছে। তাই 5 পাহ তাইৰ বান্ধৱীক
দিয়ে। জ্যোতিৰ লগত কিমান ফুল বাকী আছে জানিবলৈ সহায় কৰা?



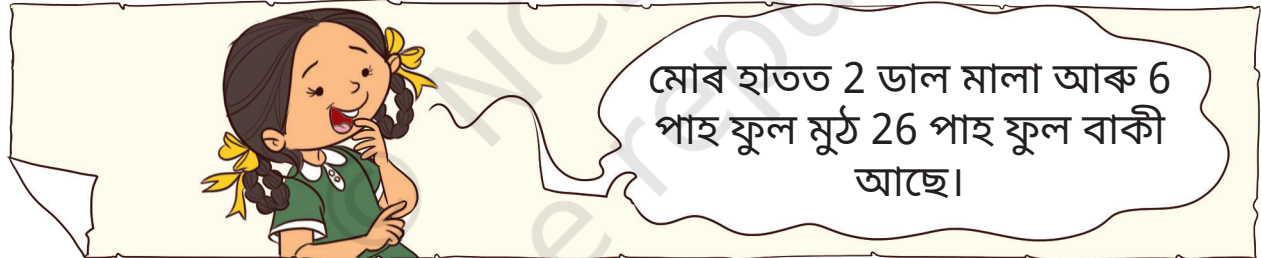
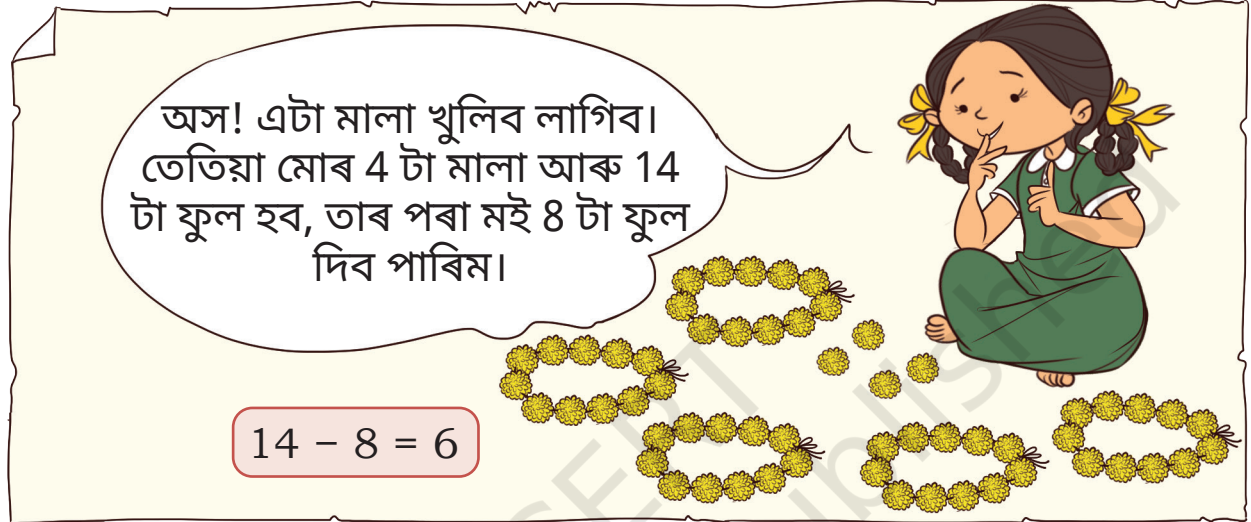
28
- 5
<hr/>




এতিয়া জ্যোতিৰ ওচৰত মুঠ 54 পাহ ফুল আছে। তাই মাকক 28 পাহ দিয়ে।
তাইৰ ওচৰত কিমান ফুল বাকী আছে?



$$\begin{array}{r} 54 \\ - 28 \\ \hline \end{array} \rightarrow \begin{array}{r} 4 \quad 14 \\ \cancel{5} \quad \cancel{4} \\ - 28 \\ \hline 6 \end{array} \rightarrow \begin{array}{r} 4 \quad 14 \\ \phantom{\cancel{5}} \quad \cancel{4} \\ - \phantom{\cancel{5}} 28 \\ \hline 26 \end{array}$$



জ্যোতিৰ মুঠ 13 পাহ ফুল আছে। তাই মাকক 47পাহ দিয়ে। তাইৰ ওচৰত
কিমান ফুল বাকী আছে?



	মালা	ফুল
জ্যোতিৰ আছে	7	3
জ্যোতিয়ে দিয়ে	4	7
জ্যোতিৰ ওচৰত বাকী আছে		



কৰা চাওঁ আহাঁ

$$\begin{array}{r} 45 \\ - 18 \\ \hline \\ \hline \end{array}$$

$$\begin{array}{r} 84 \\ - 37 \\ \hline \\ \hline \end{array}$$


$$\begin{array}{r} 65 \\ - 45 \\ \hline \\ \hline \end{array}$$

$$\begin{array}{r} 27 \\ - 27 \\ \hline \\ \hline \end{array}$$

$$\begin{array}{r} 93 \\ - 48 \\ \hline \\ \hline \end{array}$$

ৰছীৰে জপওৱা

অমন আৰু অভনীয়ে
'ৰছীৰে জপিওৱা' খেল
খেলি আছে। দুয়োজনে
20টা জাপ সম্পূৰ্ণ কৰিব
লাগিব। ভৰিৰ তলেৰে
ৰছীডাল পাৰ হ'লে এটা
স্কিপ গণনা কৰিব পাৰি।
তেওঁলোকে জপিওৱাৰ
বাবে দুটা সুযোগ পাব। যদি
কোনোবাই প্ৰথমবাৰ
যিকোনো জাপ ভুল কৰে
তেন্তে তেওঁলোকে 20টা
জাপ সম্পূৰ্ণ কৰাৰ আৰু
এটা সুযোগ পাব।



ক) আমানে প্ৰথম সুযোগতে 14 টা জাপ সম্পূৰ্ণ কৰে। 20টা জাপ সম্পূৰ্ণ
কৰিবলৈ তেওঁ আৰু কিমান জাপ মাৰিব লাগিব?

$$20 - 14 = \underline{\quad}$$

$$14 + \underline{\quad} = 20$$

খ) অৱনীয়ে প্ৰথম সুযোগতে 12 টা জাপ সম্পূৰ্ণ কৰে। 20টা জাপ সম্পূৰ্ণ
কৰিবলৈ তাই আৰু কিমানটা জাপ মাৰিব লাগিব?

$$20 - 12 = \underline{\quad}$$






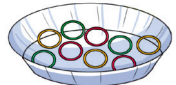


$$12 + \underline{\quad} = 20$$





কৰি চাওঁ আহাঁ



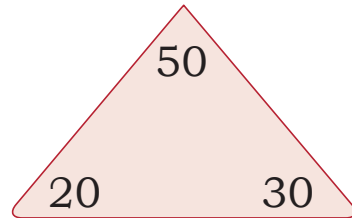
- ক) অনুষ্কাই  63টা শামুকৰ খোলা সংগ্ৰহ কৰিছিল। . তাই ককায়েকক 26টা দিলে।  তাইৰ লগত কিমান শামুকৰ খোলা বাকী আছে?
- খ) বাছখনত 54 জন যাত্ৰী বহি আছিল  আৰু 16 জন বাছ ষ্টেণ্ডত নামিল। বাছত এতিয়া কিমানজন আছে?
- গ) 40টা বেলুন  আছিল আৰু 13টা বেলুন ফুটি গ'ল। কিমান বেলুন বাকী আছে?
- ঘ) কণিকাই 72ডাল খাৰু বনাইছিল।  . তাৰে 36 ডাল বিক্ৰী কৰিলে। কণিকাৰ লগত এতিয়া কিমান খাৰু বাকী আছে?
- ঙ) গছজোপাত 56 টা চৰাই বহি আছিল।  . আৰু কেইটামান চৰাই আহি তেওঁলোকৰ লগত যোগ দিলে। এতিয়া 87টা চৰাই আছে। পিছত অহা চৰাইৰ সংখ্যা জানি লোৱা।
- চ) আৰ্মানে 18 বাৰ বলটো ড্ৰিবল  কৰে। 35টা টেপ সম্পূৰ্ণ কৰিবলৈ তেওঁ আৰু কিমানবাৰ বলটো ড্ৰিবল কৰিব লাগে?



যোগ আৰু বিয়োগৰ সৈতে

যোগ আৰু বিয়োগ সম্পূৰ্ণ কৰিবলৈ খালী ঘৰৰ নম্বৰবোৰ পূৰণ কৰক।

20, 30, 50



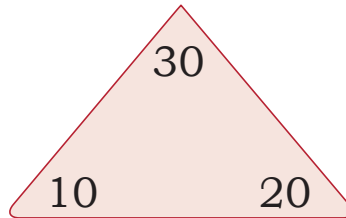
$$20 + 30 = \underline{\quad}$$

$$30 + \underline{\quad} = 50$$

$$50 - \underline{30} = 20$$

$$\underline{\quad} - 20 = 30$$

10, 20, 30



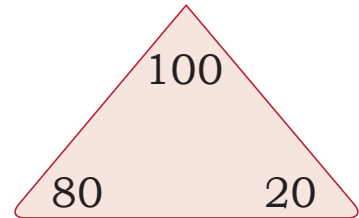
$$10 + 20 = \underline{\quad}$$

$$\underline{\quad} + \underline{\quad} = \underline{\quad}$$

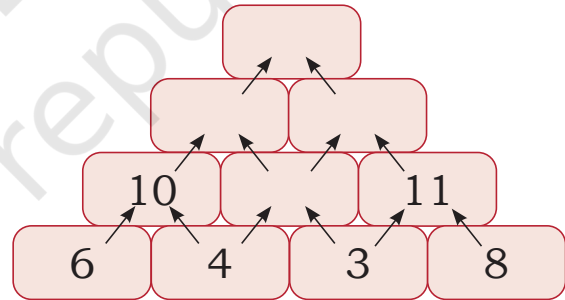
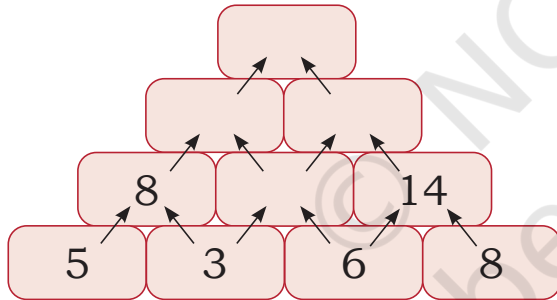
$$30 - \underline{\quad} = 10$$

$$30 - \underline{\quad} = 20$$

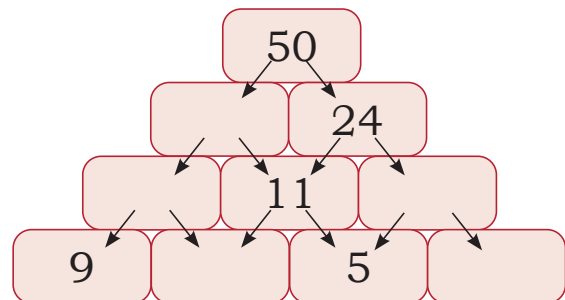
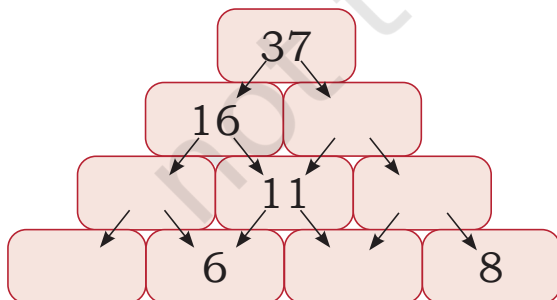
20, 80, 100



যোগ আৰু বিয়োগৰ পিৰামিড



যোগৰ পিৰামিড



বিয়োগৰ পিৰামিড



এই নক্সাটো চোৱা।

$$\begin{array}{ccc} 3 & 12 & 9 \\ 8 & & 15 \end{array}$$

$$\begin{array}{ccc} 5 & 11 & 6 \end{array}$$

ইয়াত,

$$3 + 9 = 12$$

$$9 + 6 = 15$$

$$6 + 5 = 11$$

$$5 + 3 = 8$$

এতিয়া তলৰ নক্সাটো সম্পূৰ্ণ কৰা।

A.
$$\begin{array}{ccc} 1 & 5 & \square \\ 9 & & 10 \\ \square & 14 & \square \end{array}$$

B.
$$\begin{array}{ccc} \square & 10 & \square \\ 9 & & 13 \\ \square & 12 & \square \end{array}$$

হানিয়া আৰু মানসীৰ উপহাৰ

হানিয়া আৰু মানসীয়ে মাকক উপহাৰ দিব বিচাৰে। ইয়াক সজাবৰ বাবে তেওঁলোকে কিছুমান ফিতা আৰু উপহাৰ মেৰিওৱা কাগজ এটা কিনিছিল।

বেগটোত 18 টকা আছে। উপহাৰৰ মেৰিওৱা কাগজৰ দাম 24 টকা আৰু ফিতাৰ দাম 37 টকা।

ক) তেওঁলোকে কিমান টকা খৰচ কৰিলে?

খ) তেওঁলোকৰ লগত কিমান টকা বাকী আছে?



প্ৰকল্পৰ কাম

দলজীতে কিছুমান প্ৰশ্নৰ সমাধান কৰি উত্তৰ লিখি থৈছে। সেইবোৰ শুদ্ধ বুলি তুমি ভাবা নে? উত্তৰবোৰ পৰীক্ষা কৰা।

তুমি ভুল ভবা উত্তৰবোৰ শুধৰাই দিয়া।

$$\begin{array}{r} 25 \\ + 36 \\ \hline 511 \end{array}$$

$$\begin{array}{r} 37 \\ + 58 \\ \hline 131 \end{array}$$

$$\begin{array}{r} 35 \\ - 17 \\ \hline 22 \end{array}$$

$$\begin{array}{r} 57 \\ - 78 \\ \hline 21 \end{array}$$

$$\begin{array}{r} 30 \\ - 17 \\ \hline 27 \end{array}$$

