




4109CH13

کھلونے ہی کھلونے

13


تصویر کو دیکھیے اور مختلف کھلونوں کی تعداد معلوم کیجیے۔



ٹیڈی بیئر



ہاتھی



گڑیا



کار

زیادہ / کم / برابر، کا استعمال کرتے ہوئے جملوں کو مکمل کیجیے۔

- A. گڑیوں کی تعداد کاروں کی تعداد سے _____ ہے۔
- B. ہاتھیوں کی تعداد گڑیوں کی تعداد سے _____ ہے۔
- C. ٹیڈی بیئر کی تعداد ہاتھیوں کی تعداد سے _____ ہے۔
- D. کاروں کی تعداد سے ٹیڈی بیئر کی تعداد سے _____ ہے۔

رنگین پھول

ان پھولوں کے رنگ کے نام بتائیے، جو آپ باغ میں زیادہ دیکھتے ہیں

رنگین پھولوں کی تصویر دیکھیے اور پھولوں کی تعداد لکھیے۔



لال پھول



نیلا پھول



جامنی پھول



نارنگی پھول

A. کون سے رنگ کے پھول سب سے کم ہیں؟

B. کون سے رنگ کے پھول سب سے زیادہ ہیں؟

صحیح یا غلط

A. لال رنگ کے پھولوں کی تعداد نیلے رنگ کے پھولوں کی تعداد سے زیادہ ہے۔

B. نارنگی رنگ کے پھولوں کی تعداد جامنی رنگ کے پھولوں سے کم ہے۔

پروجیکٹ




A. رنگین پھولوں کے بارڈر والا ایک کارڈ بنائیے۔

B. معلوم کیجیے کہ آپ کی کلاس کے کتنے بچوں کے ناموں میں 3 حروف اور کتنے بچوں کے ناموں میں 4 حروف اور کتنے بچوں کے ناموں میں 4 سے زیادہ حروف ہیں۔

پہیلیاں




A. کوپل نے کچھ عددی کارڈس کو مرتب کیا اور آناہ نے ان کو کٹوریوں سے دکھائے گئے طریقے سے چھپا دیا۔ کیا آپ ان اعداد کو پہچان سکتے ہیں؟




آپ بھی عددی کارڈ کے اعداد کو اپنے ہاتھ سے چھپائیے اور اپنے دوستوں کے ساتھ یہ کھیل کھیلیں۔

B. لٹھوں کو گنتے اور ان کی تعداد بتائیے؟ کیا یہ 3 لٹھے ہیں یا 4؟



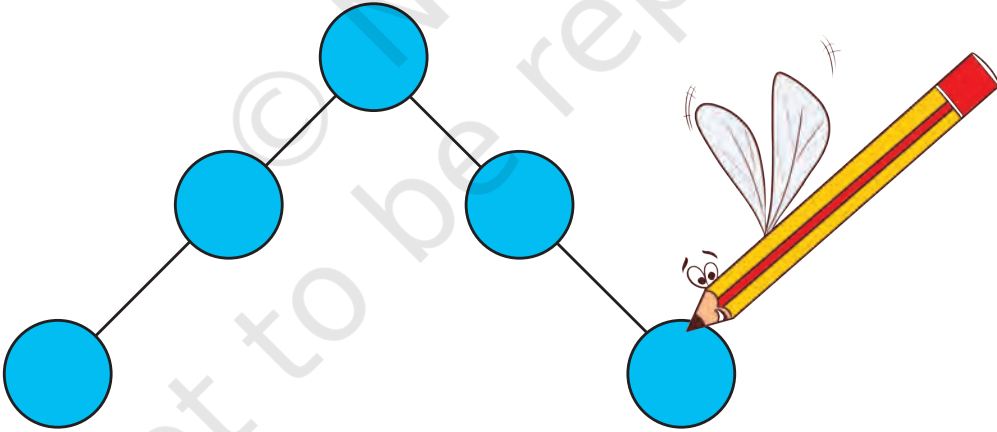
C. زرینہ نے ان گلاسوں کو اس طرح رکھا ہے۔ اس ترتیب کو آگے بڑھانے میں اس کی مدد کیجیے۔



D. 1 سے 10 تک کے اعداد معلوم کیجیے۔



E. ان گیندوں میں 1 سے 5 تک کے اعداد اس طرح لکھیے کہ دونوں طرف سے حاصل جمع برابر ہو۔



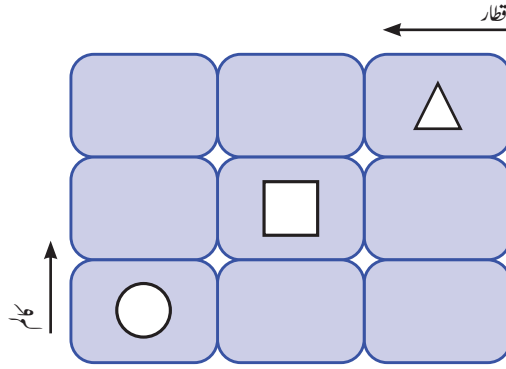
F. گلو صرف 8 ہی بولتا ہے۔ اس سے کوئی ایسا سوال پوچھو جس کا جواب 8 ہو تو وہ خوش ہو جاتا ہے اور نہ ہو تو وہ رنجیدہ ہو جاتا ہے۔

اب، گلو سے ایسے سوال پوچھیے جس کا جواب 8 ہو۔






G. \square ، \triangle اور \bigcirc ان خانوں میں اس طرح بھریئے کہ کوئی بھی شکل ہر ایک قطار (افقی) اور کالم (کھڑے) صرف ایک ہی بار آئے۔




H. آپ کچھ چیزیں جیسے 4 بٹن، کنکر، بیج، مٹی کی گیندیں وغیرہ لیجیے۔ اب ان کو دیے ہوئے خانوں میں اس طرح سے رکھیے کہ ہر چیز قطار (افقی) اور کالم (کھڑے ہوئے) میں صرف ایک ہی بار آئے۔



کیا آپ کسی اور طریقے سے بھی اسے بھر سکتے ہیں؟

I. میں کون ہوں؟ (آئینہ آپ کی مدد کر سکتا ہے)



J. میں کون ہوں؟

i. میں 5 اور 10 کے نیچے کا ایک عدد ہوں۔ اور الٹا پڑھنے (اوپر سے نیچے کی طرف) پر 3 زیادہ ہو جاتا ہوں۔

ii. میں 8 سے 3 زیادہ اور 14 سے 3 کم ہوں۔

iii. میں 50 کے بعد اور 54 سے پہلے کا عدد ہوں اور میرے ہندسوں کا حاصل جمع 7 ہے۔


iv. میں 40 سے ٹھیک پہلے کا عدد ہوں۔

v. مجھ میں 5 جمع کرو تو آپ کو 24 حاصل ہوگا۔


vi. میں 35 کے ٹھیک بعد کا عدد ہوں۔

vii. مجھ میں سے 8 کم کر دو تو 14 باقی بچے گا۔

K. 0 بنانے کے لیے 6 ماچس کی تلیوں کا استعمال ہوا ہے۔ کیا آپ ماچس کی ایک تیلی کو اٹھا کر کوئی دوسرا عدد بنا سکتے ہیں؟



L. غائب ٹکڑے کو تلاش کیجیے اور گھڑے کو مکمل کیجیے۔



M. آپ 5 کو 25 میں سے کتنی مرتبہ گھٹا سکتے ہیں؟

N. رانو کے پاس 3 بیج ہیں۔ وہ ان کو 3 اعداد پر اس طرح رکھنا چاہتی ہے کہ ان اعداد کا حاصل جمع 17 ہو۔ کیا اس میں آپ رانو کی مدد کر سکتے ہیں؟




4	9	6	7
16	0	8	5
15	13	1	2
17	2	3	12

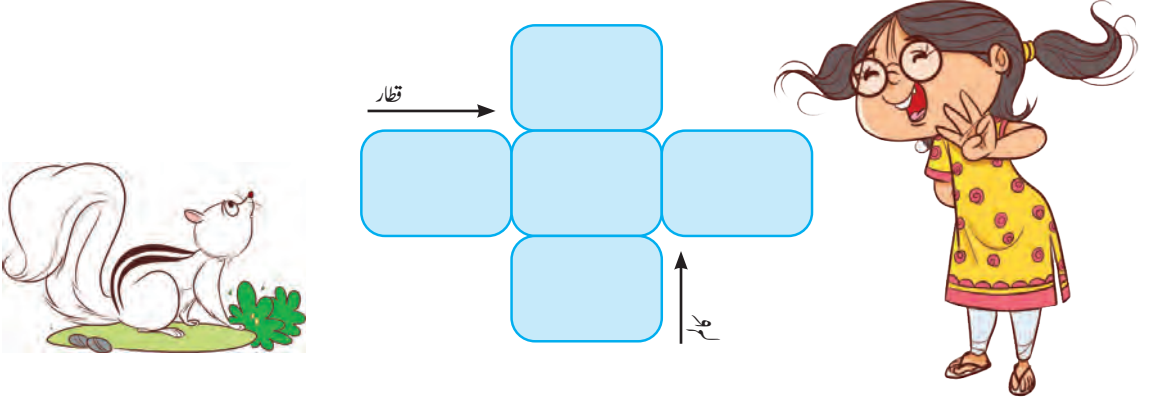
آپ نے کتنے طریقوں سے کیا ہے؟

اگر آپ کے پاس 2 بیج ہیں۔ 17 حاصل کرنے کے لیے آپ ان کو کن اعداد پر رکھیں گے۔

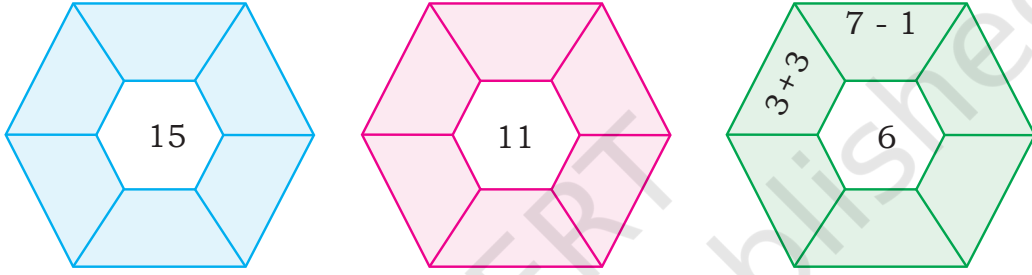
O. ایک جیسی دکھنے والی پر چھائیں۔ شبیہ کو دائرہ میں رکھیے۔



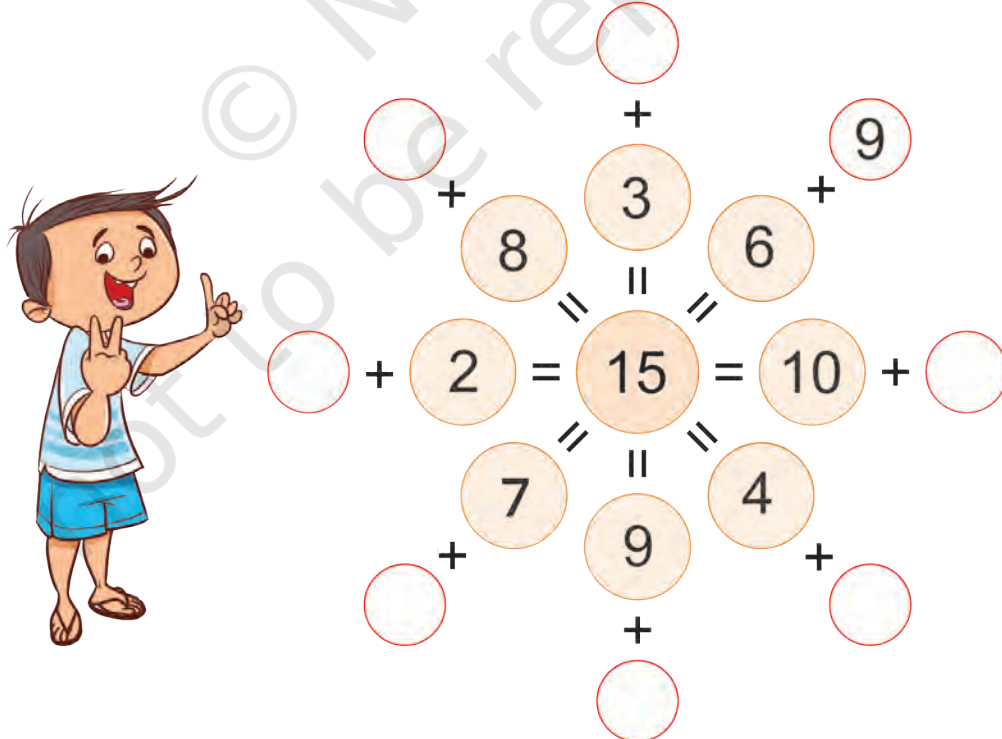
P. ذیل میں دیے گئے کارڈ پر 5 سے 9 تک کا ہر عدد اس طرح لکھیے کہ قطار اور کالم کا حاصل جمع برابر ہو۔



Q. جمع اور تفریق کا عمل کر کے مرکز میں دیا گیا عدد حاصل کرنے کی کوشش کیجیے



R. خالی جگہوں میں مناسب عدد لکھ کر پُر کیجیے۔



S. سرتا کے پاس مختلف قیمتوں والے چار سگے ہیں۔



₹49 خرچ کرنے کے لیے استعمال کیے گئے سگوں کی کم سے کم تعداد کیا ہے؟

T. سنترے کی قدر معلوم کیجیے۔



+



= 8



+



= 10



=



U. آؤ گیند والا کھیل کھیلیں



i. 3 گیندیں اس طرح چنیے کہ کل جمع 15 ہو۔

ii. سب سے بڑا سکور حاصل کرنے کے لیے 3 گیندیں چنیے۔

iii. سب سے کم سکور حاصل کرنے کے لیے 3 گیندیں چنیے۔



© NCERT
not to be republished

© NCERT
not to be republished