




## اعداد کے ساتھ مزہ

8

سمرن ڈبوں میں سنترے رکھ رہی ہے۔ ہر ڈبہ میں 10 سنترے آسکتے ہیں۔ اس کو کتنے ڈبوں کی ضرورت ہوگی؟



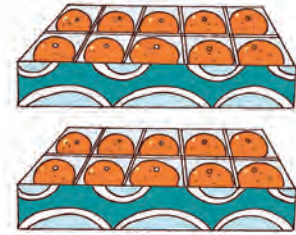
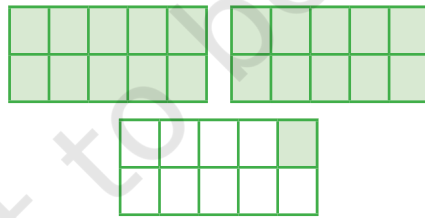
اس نے سنتروں کو ڈبوں میں رکھا۔



کیا آپ جانتے ہیں کہ یہ کتنے سنترے ہیں؟

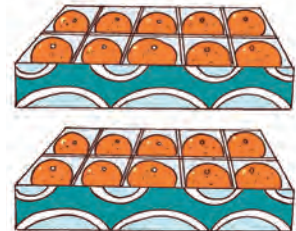
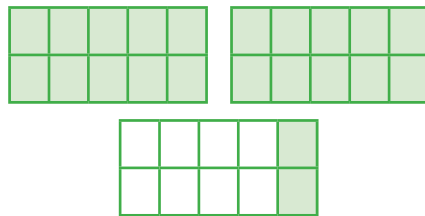
21

اکیس

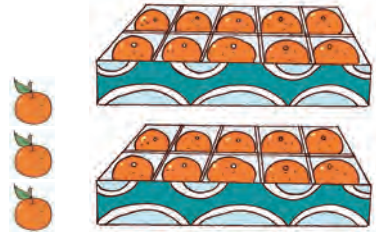
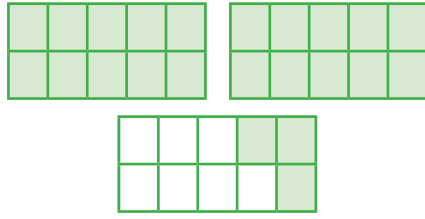


22

بائیس

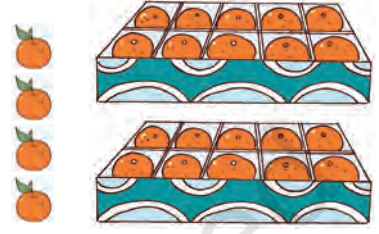
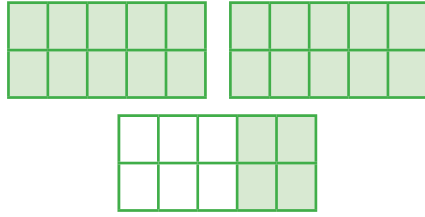


تیس

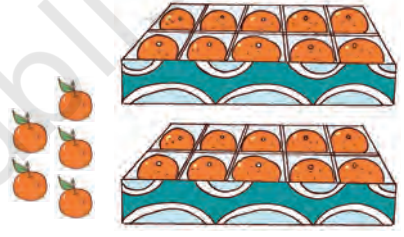
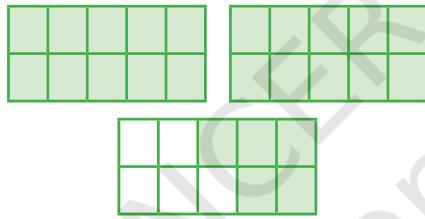


24

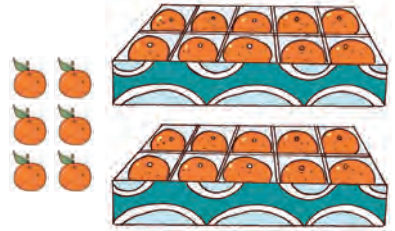
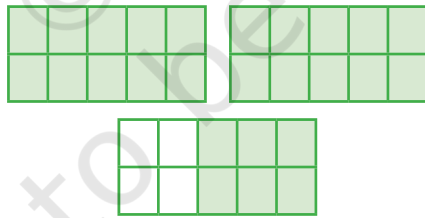
چوبیس



پچیس

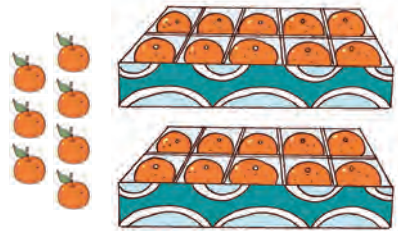
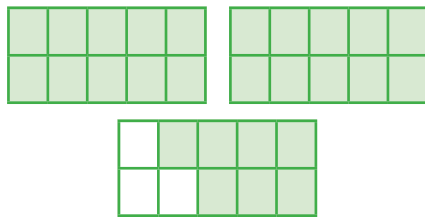


چھیس

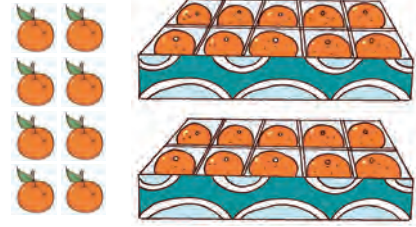
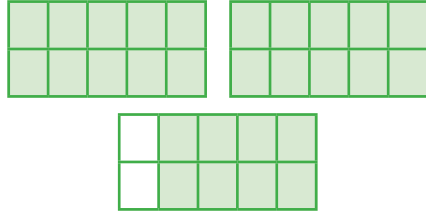


27


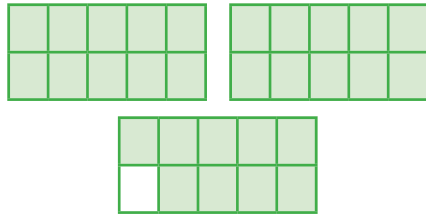
ستائیس




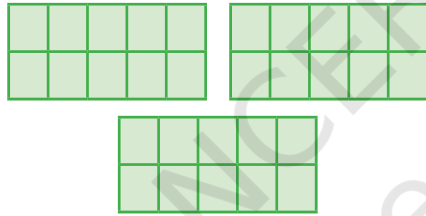
28  
اٹھائیس



انتیس



30  
تیس




21 سے 30 تک لکھیے

					25				21
30							23		
			27					22	





آئیے پھولوں اور نیم کی داتونوں کی تعداد کی گنتی کرتے ہیں۔



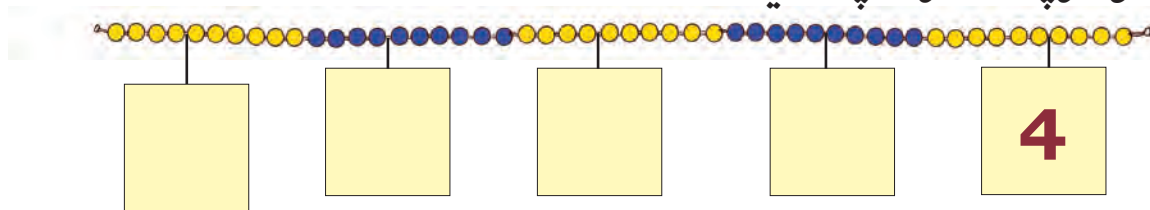
36 چھتیس		31 اکتیس	
<input type="text"/>		32 بیس	
<input type="text"/>		<input type="text"/>	
39 اتنا لیس		<input type="text"/>	
40 چالیس		35 پینتیس	

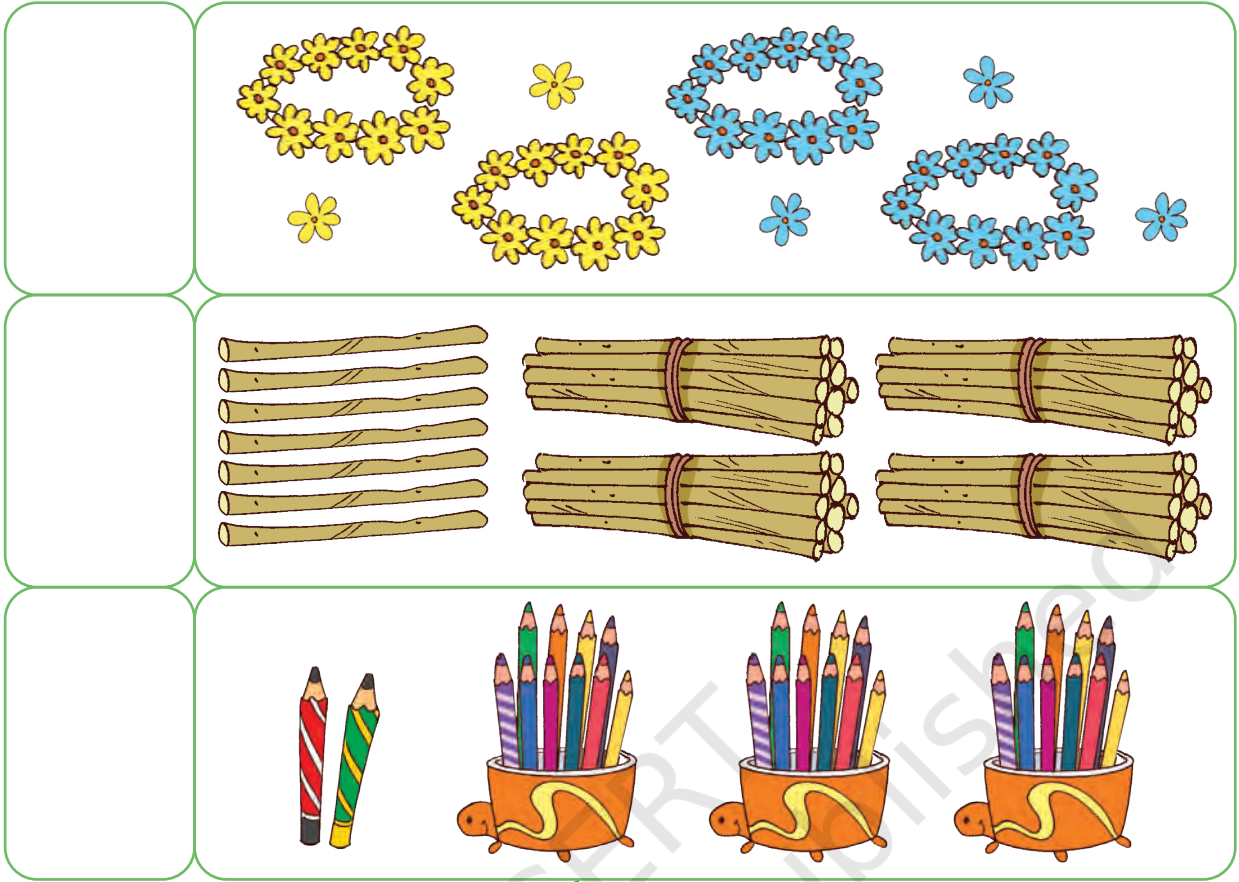
46 چھیالیس		41 اکتالیس	
<input type="text"/> سینتالیس		<input type="text"/> بیالیس	
<input type="text"/> اڑتالیس		43 تینتالیس	
49 انچاس		<input type="text"/> چوالیس	
50 پچاس		45 پینتالیس	



A. 1 سے 50 تک میں سے کوئی ایک عددی کارڈ لیجیے۔ کیا آپ کلپ کی مدد سے گن لڑی میں صحیح مقام پر عددی کارڈ رکھ سکتے ہیں؟

B. گن لڑی پر لگے عددی کارڈ پر عدد لکھیے





عدد دکھانے کے لیے دہائی کے فریم کو پُر کیجیے۔ دی گئی مثال کے ذریعہ سمجھیے۔

	<b>29</b> انتیس
	<b>41</b> اکتالیس
	<b>30</b> تیس




21 سے 50 تک اعداد کے بارے میں گفتگو کرنے کے لیے گن لڑی کا استعمال کیجیے۔ شروعات میں گن لڑی / عددی لائن کی مدد سے بچوں کو دیے ہوئے عدد سے پیچھے کی طرف گننے کے لیے ہمت افزائی کیجیے۔ جب ان میں اعتماد پیدا ہو جائے گا تو وہ لڑی کی مدد کے بغیر بھی اسے کر سکتے ہیں۔



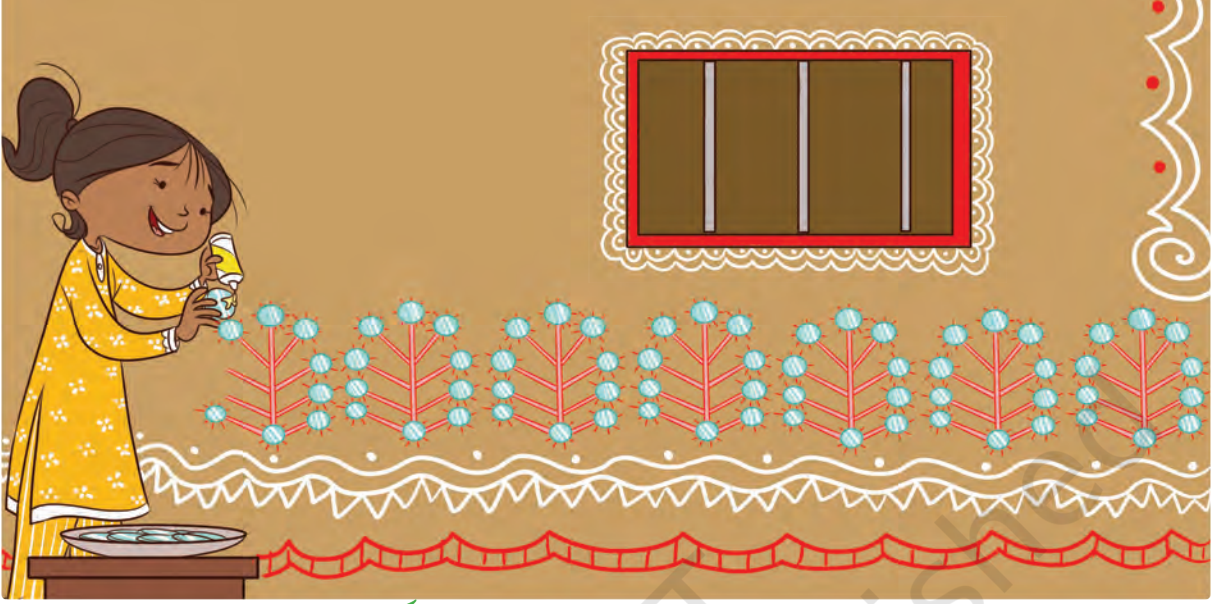


پروجیکٹ

فرح نے کہا کہ اس نے اپنی ماچس میں 50 عجیب و غریب چیزیں رکھی ہیں۔ اس کے دوستوں کو حیرانی ہوئی کہ ان میں کون سی چیزیں ہو سکتی ہیں۔ ان کو سب سے زیادہ تعجب تب ہوا جب فرح نے ماچس کی ڈبیا کھولی۔ کیا آپ کچھ چیزیں جمع کر سکتے ہیں اور یہ دیکھ سکتے ہیں کہ ان میں سے کتنی چیزیں ایک ماچس کی ڈبیا میں آسکتی ہیں؟



51 سے 99 تک کے اعداد  
انکیتا اپنے گھر میں شیشے چکارہی ہے۔ ڈیزائن کو مکمل کرنے میں اسے کتنے شیشوں کی ضرورت ہوگی؟ جاننے میں اس کی مدد کیجیے۔



51 سے 60 تک کے اعداد گنیے اور لکھیے

چھپن		51 اکیاون	
ستاون		52 باون	
اٹھاون		ترپن	
59 اُنسٹھ		چون	
60 ساٹھ		چھپن	



# 61 سے 80 تک کے اعداد گنیے اور لکھیے

71 اکھتر		61 اکسٹھ	
72 بہتر		62 باسٹھ	
74 چوہتر			
75 پچھتر			
78 اتھتر			
80 اسی		70 ستر	

# 81 سے 100 تک کے اعداد گنیے اور لکھیے

91 اکیانوے		81 اکیاسی	
<input type="text"/> بانوے		<input type="text"/> بیاسی	
<input type="text"/> ترانوے		83 تراسی	
<input type="text"/> چورانوے		<input type="text"/> چوراسی	
95 پچانوے		<input type="text"/> پچاسی	
<input type="text"/> چھیانوے		86 چھیاسی	
97 ستانوے		<input type="text"/> ستاسی	
<input type="text"/> اٹھانوے		<input type="text"/> اٹھاسی	
<input type="text"/> ننانوے		89 نواسی	
100 سو		90 توے	





ایک سرے سے دوسرے سرے تک گن لڑی کو باندھیے۔ کوئی بھی عدد کارڈ (1 سے 99 میں سے) چُنیے۔ کلپ کے ذریعہ اس کارڈ کو گن لڑی میں اس کے صحیح مقام پر لگائیے۔ مزید دوسرے کارڈوں کو استعمال کرتے ہوئے اپنے دوستوں کے ساتھ کھیلیے۔

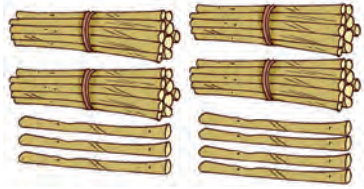
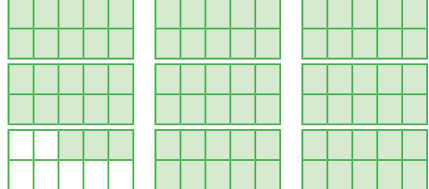
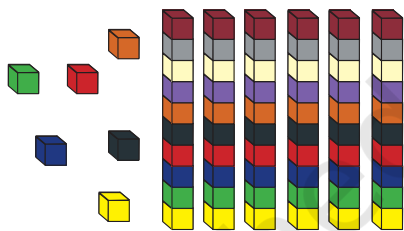


اعداد کو جمع کرنے کے لیے گن لڑی کا استعمال کیجیے۔ دیے ہوئے دو اعداد کے بیچ کے اعداد معلوم کرنے کو



کھیپے۔





غائب اعداد کو بھر کر پھسل پیٹی اور سیڑھی کا کھیل مکمل کیجیے

	92			95	96	97	98		100
90		88	87	86		84	83	82	81
71	72	73	74		76	77		79	80
	69	68		66	65		63	62	61
51	52	53	54		56		58	59	
50		48			45		43	42	41
31	32	33	34		36	37	38		40
30		28	27		25	24		22	21
11	12	13		15	16	17	18	19	20
	9	8		6	5		3	2	1

یہ کھیل کھلی جگہ میں کھیلا جاسکتا ہے، چاک سے خانے بنا کر، کھلی تیلیوں سے سیڑھیاں اور رسیوں سے پھسل پیٹی بنا کر استعمال کیجیے۔  
 گیم بورڈ سے طلبہ کچھ ٹاسک کارڈ کی نقل کر سکتے ہیں اور انھیں چوکور خانوں پر چسپاں کر سکتے ہیں۔ ہدایات  
 میں تھوڑی تبدیلی بھی کی جاسکتی ہے۔ جیسے ان گنتیوں پر کودیں جہاں گنتیاں بدل گئی ہیں۔ اپنی دائیں طرف  
 ایک گنتی چھوڑ کر کودیے۔





## آؤ گفتگو کریں



- A. مشاہدہ کیجیے کہ تصویر میں کیا ہو رہا ہے اور اس پر بحث کیجیے؟
- B. دی ہوئی تصویر میں کون کون سی مختلف چیزیں آپ دیکھ سکتے ہیں؟
- C. وہاں کتنے گھر موجود ہیں؟
- D. تصویر میں کل کتنے لوگ نظر آرہے ہیں؟
- E. اندازہ کیجیے کہ پیڑ کی پتیوں کو بنانے میں کتنی لائنیں استعمال ہوئی ہیں؟
- F. کیا آپ اس قسم کی ڈرائنگ کا مخصوص نام جانتے ہیں؟
- G. ہندوستان کا کون سا حصہ 'ورلی' مصوری کے لیے مشہور ہے؟

آپ خود دور لی ڈرائنگ بنائیے۔

