




4109CH07

لینا کا خاندان

7


لینا کے خاندان کی محفل

لینا اپنے خاندان کے ساتھ ایک چھوٹے سے گاؤں میں رہتی ہے۔ اس کے ساتھ اس کے دادا، دادی، والدین اور ایک بھائی شنبور ہوتا ہے۔ اس کے چاچا، چاچی اور ان کے بچے اس کے گھر کے قریب رہتے ہیں۔



یہ لینا کے خاندان کی تصویر ہے۔ وہ ایک اسٹول پر کھڑی ہوئی ہے۔ وہ لمبی دکھنا چاہتی ہے۔ معلوم کیجیے لینا کے خاندان میں سب سے لمبا فرد کون ہے اور اس پر دائرہ بنائیے۔

لینا کے گھروالوں نے خاندان کے باقی افراد کو ایک محفل میں بلایا ہے۔



آؤ گفتگو کریں



- A. لینا کے خاندان میں کل کتنے افراد ہیں؟
- B. خاندان کے سب سے لمبے فرد پر صحیح کا نشان لگائیے۔
- C. خاندان کے سب سے چھوٹے قد کے فرد پر ٹوپی بنائیے۔
- D. لینا کے والد سے لمبا اور اس کی ماں سے چھوٹا کون ہے؟
- E. آپ کے خاندان میں سب سے لمبا اور سب سے چھوٹا فرد کون ہے؟
- F. آپ کی جماعت میں سب سے لمبا بچہ کون ہے؟
- G. آپ کی جماعت میں کتنے بچے آپ سے لمبے ہیں؟





لینا پہاڑی علاقے میں جھونپڑی جیسے مکان میں رہتی ہے۔ کیا آپ تصویر میں اس کا گھر تلاش کر سکتے ہیں؟
تصویر کو دیکھ کر صحیح جواب پر دائرہ بنائیے۔

- A. اس کا گھر دکان سے بہت قریب / بہت دور ہے اور اسکول سے بہت قریب / بہت دور ہے۔
- B. اسکول دکان سے بہت قریب / بہت دور اور لال چھت والے گھر سے بہت قریب / بہت دور ہے۔
- C. بچہ اسکول بس کے بہت قریب / بہت دور ہے اور اسکول کے بہت قریب / بہت دور ہے۔

حیران کن حقائق

یہ سردار ولہ بھائی پٹیل کا مجسمہ ہے، جسے ہم ایکٹا کا مجسمہ بھی کہتے ہیں۔ یہ دنیا کا سب سے اونچا مجسمہ ہے اور گجرات میں واقع ہے۔






A. جو سب سے لمبا ہے اس پر صحیح کا نشان ✓ لگائیے۔

ii.


i.



B. جو سب سے چھوٹا ہے اس پر صحیح کا نشان ✓ لگائیے۔

ii.

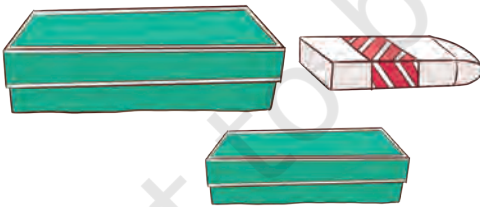
i.



C. جو سب سے موٹا ہے اس پر صحیح کا نشان ✓ لگائیے۔

ii.

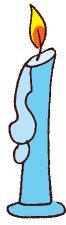
i.



D. جو سب سے پتلا ہے اس پر صحیح کا نشان ✓ لگائیے۔

ii.

i.






اس رسی سے چھوٹی رسی بنائیے



اس سے لمبی لکڑی / بانس بنائیے



دادی چترا کے سویٹر کی لمبائی کی جانچ اپنے بالشت سے کر رہی ہیں۔



چترا بھی اپنی بالشت کا استعمال کر کے میز، کتاب، پنسل، چھڑی اور کاپی کی لمبائی معلوم کرنا چاہتی ہے۔





- A. میری میز _____ باشت لمبی ہے۔
 B. میرا تھیلا _____ باشت لمبا ہے۔
 C. میری کلاس کا بلیک بورڈ _____ باشت لمبا ہے۔
 D. میری ریاضی کی کتاب _____ باشت لمبی ہے۔
 E. میرا بازو _____ باشت لمبا ہے۔
 F. میرے دوست کا بازو _____ باشت لمبا ہے۔

کیا چتر باشت کا استعمال کر کے ان سب چیزوں کی لمبائی ناپ سکتی ہے؟ اپنے آس پاس کی چیزوں کے بارے میں معلوم کیجیے جو آپ کی باشت سے چھوٹی ہیں اور ان سب کو دائرے میں رکھیے؟ ان چیزوں کی لمبائی ناپنے کے لیے کیا ہم انگلیوں کا استعمال کر سکتے ہیں؟





نیچے دی گئی چیزوں کی لمبائی معلوم کرنے کے لیے آپ کس کا انتخاب کریں گے؟ بالشت کا یا انگلیوں کا، اپنے جواب پر دائرہ بنائیے۔ ان چیزوں کی لمبائی معلوم کرنے سے پہلے ان کا اندازہ لگائیے۔

چیزوں کے نام	آپ کیا استعمال کریں گے؟ اس کو دائرے میں رکھیے	میرا اندازہ	میں نے کیا پایا؟
پانی کی بوتل	انگلیاں یا بالشت		
چمچ	انگلیاں یا بالشت		
پینسل	انگلیاں یا بالشت		
دوست کی ناک	انگلیاں یا بالشت		
ٹانگ	انگلیاں یا بالشت		
چابی	انگلیاں یا بالشت		




میرے ناپنے کا نتیجہ اتنے قدم ہے	میرا اندازہ اتنے قدم ہے	قدم کے ذریعے پیمائش
		میری سیٹ اور کلاس روم کے دروازے کے دریان کا فاصلہ
		کلاس روم کی دیوار کی ایک سائڈ
		آپ کے بیت الخلاء اور پلنگ کے درمیان کا فاصلہ
		آپ کے کمرہ کی دو دیواروں کے درمیان کا فاصلہ

آؤ کریں




A. بھاری چیز پر صحیح کا نشان ✓ لگائیے۔

.ii



.i



B. ہلکی چیز پر صحیح کا نشان ✓ لگائیے۔

.ii



.i




C. بھاری چیز کو رنگیے

i.



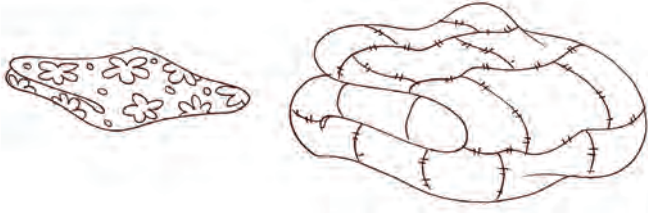
ii.



iii.



iv.



D. ہلکی چیز کو رنگیے


i.




ii.



iii.



iv.



آؤ گفتگو کریں



A. آپ اور آپ کے دوست میں کون زیادہ بھاری ہے؟ آپ کیسے معلوم کریں گے؟ اپنی جماعت میں بحث کیجیے۔

B. اپنا وزن معلوم کیجیے۔ کیا آپ بتا سکتے ہیں کہ آپ کے وزن کی جانچ کب اور کہاں ہوتی ہے؟





A. بالٹی کو پانی سے بھریئے۔



- i. _____ جگوں سے بالٹی بھر جائے گی۔
- ii. _____ گلاسوں سے بالٹی بھر جائے گی۔
- iii. _____ پیالوں سے بالٹی بھر جائے گی۔

B. جواب دیجیے۔

- i. کتنے کپ پانی سے آپ کی پانی کی بوتل کو بھر جائے گی؟ _____
- ii. اب اسی کپ سے اپنے دوست کی پانی کی بوتل کو بھریئے؟ کتنے کپ پانی سے بوتل بھر جائے گی؟ _____
- iii. کس بوتل میں زیادہ پانی آتا ہے؟ _____
- iv. دوسری بوتل سے کوشش کیجیے۔ کون سی بوتل میں کم پانی آتا ہے؟ _____

C. جس میں زیادہ پانی آتا ہے اس پر دائرہ بنائیے۔




D. پانی ہمارے لیے بہت مفید ہے۔

دی گئی سرگرمیوں کے لیے جتنا پانی چاہیے اس پر صحیح کا نشان ✓ لگائیے۔



پانی سے بھراگ



پانی سے بھری بالٹی



i.

دانت مانجنے کے لیے



ٹنکی



پانی سے بھری بالٹی



ii.

نہانے کے لیے



پانی کی بالٹی



پانی کا جگ



iii.

دو گلاس لیمو پانی بنانے کے لیے



پانی سے بھری بالٹی



پانی سے بھراگ



iv.

پودے میں پانی دینے کے لیے





- A. اس بات پر بحث کیجیے کہ نہانے کے لیے شاوریائل کے پانی کے بجائے بالٹی میں پانی لے جانا کیوں اہم ہے۔
 B. رنگین کاغذوں کی پٹیوں کو اس طرح کاٹے اور چپکائیے کہ اس پٹی کا ایک حصہ چھوٹا اور ایک بڑا ہو جائے۔ پٹیاں مختلف سائز کی ہونی چاہیے۔

بڑی یہ بڑی ہیں	چھوٹی یہ چھوٹی ہیں

- C. ان چیزوں کی فہرست بنائیے جن کا لے جانا آسان ہے اور جن کا لے جانا مشکل ہے۔

لے جانے میں مشکل ہے۔	لے جانے میں آسان ہے۔

- D. مختلف سائز کے گلاس، پیالے اور بوتل لیجیے۔ اب دیکھیے کتنے گلاس پانی سے بوتل کو بھر سکتے ہیں۔ اس میں سے کس برتن میں زیادہ پانی آتا ہے۔

