



## मज़ेदार बाग़ जो सैरु

हिकु बारन जो ग़ूप हिक मज़ेदार बाग़ में वयो।



अरे वाह! असां मां ब ज़णा  
घोड़े ते वेही सघन था। मां  
पंहिंजे दोस्त सां विहंदुस।


कुल बार आहिन

$$2 + 2 + 2 + 2 = \boxed{\phantom{00}}$$

कुल  बार घोड़े वारे झूलन ते वेही सघन था।



असां मां 3 ज़णा रांदीको-  
ट्रेन में वेही सघन था। असां  
सभु गडजी विहंदासीं।



कुल 3 दब्बा आहिन  $3 + 3 + 3 = \boxed{\phantom{00}}$

कुल  बार 3 दबन में वेही सघन था।

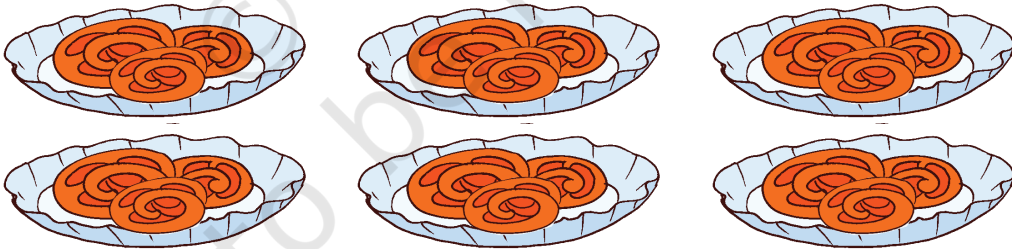


अरे हाणें हिते अची वयासीं इहो  
त वडो चकरो आहे। असां 4  
जणा गडु वेही सघूं था। कुल 5  
खाना आहिन।

$$\boxed{\phantom{0}} + \boxed{\phantom{0}} + \boxed{\phantom{0}} + \boxed{\phantom{0}} = \boxed{\phantom{0}}$$

कुल  बार झूले में वेही सघन था।

After riding on the swings, children planned to eat *jalebis*.  
Each plate of *jalebi* has 3 pieces. They ordered 6 plates of *jalebis*.




$$\boxed{\phantom{0}} + \boxed{\phantom{0}} + \boxed{\phantom{0}} + \boxed{\phantom{0}} + \boxed{\phantom{0}} + \boxed{\phantom{0}} = \boxed{\phantom{0}}$$

6 दफ़ा 3 थींदा



हर हिक मशगूलीअ में सुवाल पुछी गूपन जे अददन ते चर्चा करियो। मिसाल चित्र में  
कुल घणा बार आहिन। घणा बार खानन में आहिन। घणा बार सवारी करे  
रहिया आहिन।





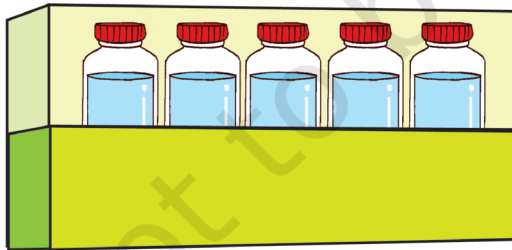
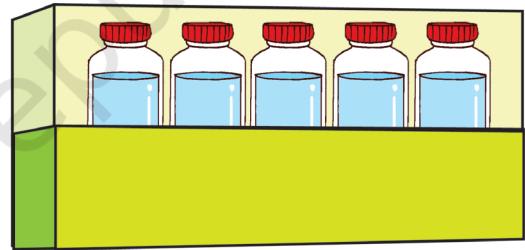
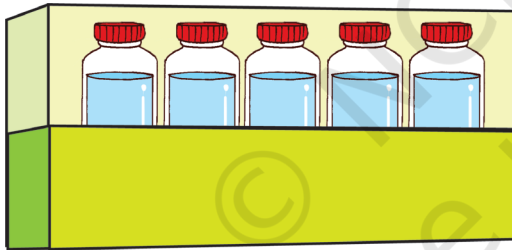
बस में मुसाफ़िरी

$$2 + 2 + 2 + 2 + 2 + 2 + 2 + 2 + 2 = \boxed{\phantom{00}}$$

$$9 \text{ दफ़ा } 2 = \boxed{\phantom{00}}$$

$$\text{बस अंदर कुल माणहुन जो अंदाज़} = \boxed{\phantom{00}}$$

पाणीअ जे बोटलुन जा कुझ खोखा रखियल आहिन। उन्हन खे गणियो।



$$\boxed{\phantom{00}} + \boxed{\phantom{00}} + \boxed{\phantom{00}} + \boxed{\phantom{00}} = \boxed{\phantom{00}}$$

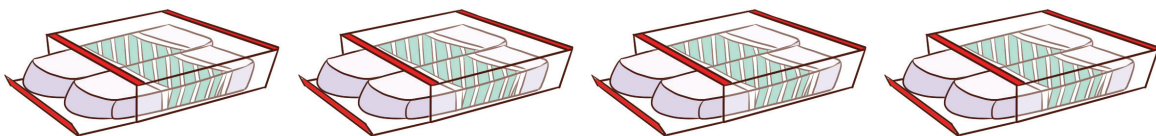
$$4 \text{ दफ़ा } 5 = \boxed{\phantom{00}}$$

$$\text{बस में कुल बोटलुन जो अंदाज़} = \boxed{\phantom{00}}$$



चीनूअ हिक दुकान तां रबड़न पेन्सिलुन ऐं सूफन जा पैकेट आंदा। हर हिक शइ जो कुलु अंदाज लहो।

A.

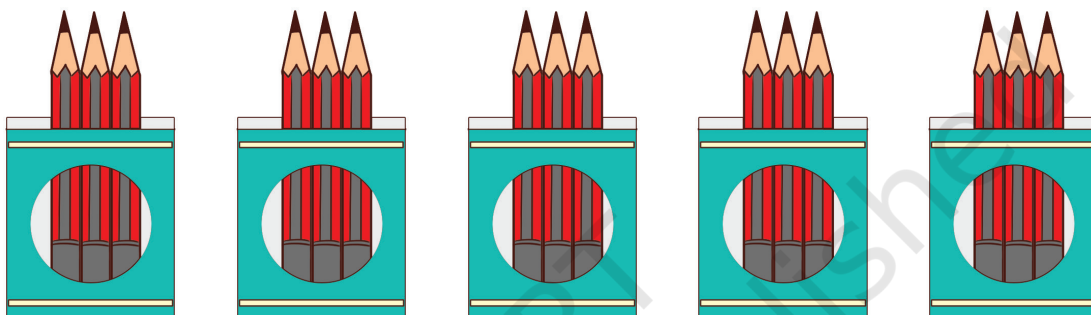


$$2 + \boxed{\phantom{00}} + \boxed{\phantom{00}} + \boxed{\phantom{00}} = \boxed{\phantom{00}} \text{ रबड़}$$

$$4 \text{ दफ़ा } 2 = \boxed{\phantom{00}}$$

$$\text{कुल रबड़न जो अंदाज़} = \boxed{\phantom{00}}$$

B.



$$3 + \boxed{\phantom{00}} + \boxed{\phantom{00}} + \boxed{\phantom{00}} + \boxed{\phantom{00}} = \boxed{\phantom{00}} \text{ पेन्सिलूं}$$

$$5 \text{ दफ़ा } 3 = \boxed{\phantom{00}}$$

$$\text{कुल पेन्सिलुन जो अंदाज़} = \boxed{\phantom{00}}$$

C.



$$3 + \boxed{\phantom{00}} + \boxed{\phantom{00}} = \boxed{\phantom{00}} \text{ सूफ}$$

$$3 \text{ दफ़ा } 3 = \boxed{\phantom{00}}$$

$$\text{कुल सूफन जो अंदाज़} = \boxed{\phantom{00}}$$



**प्रोजेक्ट कमु**

हिकु साईकल जो फीथो कढो। दोस्तन खां पुछो या बुधायो तव्हां वट कुल घणियूं साइकिलियूं आहिन। सभनी साइकिलियुन में कुल घणा फीथा ?