

बाबु 3 अम्बु-पार्टी






0124CH03



अचो त पढ़ूं

पखी हिक नोरिअड़े खे अम्बु खाईदे डिंसी रहिया आहिन






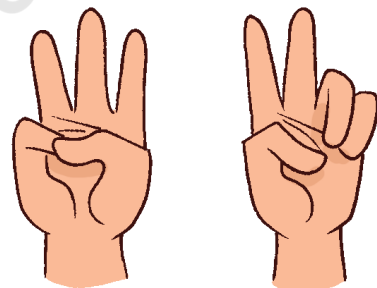
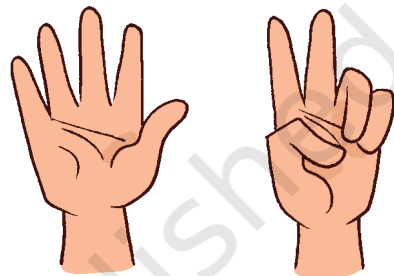

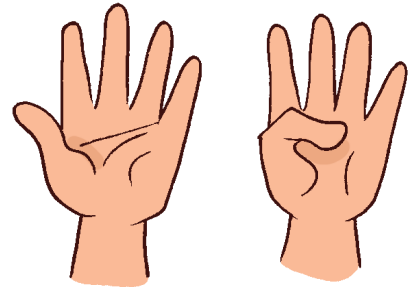
अचो त गाल्हायूं

- अ: चित्र में पखियुन खे सुजाणो।
 ब: शुरूआत मे घणा जानवर यां पखी अम्बु खाई रहिया हुआ ?
 क: हर दफे घणा जानवर यां पखी शामिल थी रहिया हुआ ?
 ड: 1 खां वधीक 1 छा, 2 खां वधीक 1 छा, 9 ताई ?
 ल: आखिर में घणा जानवर या पखी अम्बु खाई रहिया हुआ ?

जीअं जानवर शामिल थींदा वजन, गुणप जा अदद चवंदा वजो। का आखाणी ठाहे बारन खे जानवरन या पखियुन जी भूमिका डियो। बार जानवरन या पखियुन जा आवाज़ कन।



आंडरियुन जो अदद ऐं पखिन जो अदद पाण में उन्हन जी भेट करियो



टुबकन जे सही अददन सा आडरियूं मिलायो (हिक अगु में ई तव्हां लाइ कयल आहे)



अचो त रांदु करियूं - आडरियुन सां अदाकारी



पंहिंजे दोस्त खे 3 आडरियूं डेखारियो।
तव्हांजो दोस्त बिए नमूने 3 आडरियूं
डेखारिंदो।
तव्हां बियन अददन सां खेडी सघो थां।
हिक हथ सां 4 आडरियूं डेखारण जा
जुदा जुदा नमूना कहिड़ा आहिन ?



अचो त बाहिर रांदु करियूं



बार गोल में हली, इक बिए सां हथ पकड़े ऐं गाना गाईदा वजन था। हिकु बार ताड़ी वजाए चवंदो 4 त सभु बार 4-4 जे गूप्र में हिक बिए सां हथ पकड़े बीहंदा। बचियल बार हर गूप जे बारन खे गर्णीदा अहिडे नमूने 9 ताई अदद चई बार रांद कंदा।



चर्चा करियो

एकता दिवस (31 October) ते बारन लाइ ड्राइंग उत्सव कयो, चित्र में डेखारियल मौजुब हिक लीक कढी हर बार खे जुदा जुदा शयूं डियो।



इहो जाचियो हर बार खे ड्राइंग जो सामान आहे।
वधीक या घट या बराबर ते ☒ करियो

शयूं	बारन जे अदद खां वधीक	बारन जे अदद खां घट	बारन जे अदद बराबर



चर्चा करियो: बारन खे वधीक, घट या बराबर शयुन बाबत कीअं ज्ञाण पर्ई। बारन खे ग्रूप में शयूं विरहाइण लाइ हिमथायो इहो बार जाचिन त शयूं बारन जे अदद खां वधीक, घट या बराबर आहिन। एकता दिवस पिणु चर्चा करियो।





अचो त करियूं.

अ: वधीक वारे अदद ते ✓ करियो।



ब: घट वारे अदद ते ✓ करियो।



क: घट वारे अदद ते ✓ करियो।



अचो त आंडरियुन जी रांद करियूं

- अ: पहिंजे दोस्त सां रांद शुरु करियो. दोस्त खे कुझ आडरियूं डेखारियो मिसाल 4 त तव्हांजो दोस्त 4 खां घट आंडरियूं डेखारींदो।
- ब: पहिंजे दोस्त खे हाणें उन खां वधीक आंडरियूं डेखारण लाइ चओ। वधीक या घट पर हाणे ब्रिए नमूने।



Numbers 1, 2, 3... Go!



चित्र डिसो ऐं हिदायतुन मौजुब करियो

अ: शयूं जिन जो अददु 1 आहे उन्हन जे चौधारी \triangle निशान कढो. ऐं उन चित्र हेठां 1 लिखो।

1										
---	--	--	--	--	--	--	--	--	--	--

ब: मथे डिनल चित्र में उन्हन शयनु अग्रिया \bigcirc पायो जिन जो अददु ब्र हुजे। ऐं इन्हन जे हेठां 2 लिखो।

2										
---	--	--	--	--	--	--	--	--	--	--

क: मथे डिनल चित्र में उन्हन शयुन अग्रियां \square पायो जिन जो अददु टे हुजे ऐं उन्हन जे हेठां 3 लिखो।

3										
---	--	--	--	--	--	--	--	--	--	--



ख: मथे डिनल चित्र में उन्हन शयुन अगियां \triangle पायो जिन जो अददु चार हुजे ऐं उन्हन हेठां 4 लिखो।

4										
	चार									

ग: मथे डिनल चित्र में उन्हन शयुन अगियां \bigcirc पायो जिन शयुन जो अददु पंज हुजे ऐं उन्हन हेठां 5 लिखो।

5										
	पंज									

घ: मथे डिनल चित्र में उन्हन शयुन अगियां \square पायो जिन शयुन जो अददु छह हुजे ऐं उन्हन हेठां 6 लिखो।

6										
	छह									





डः मथे डिनल चित्र में उन्हन शयुन अगियां \triangle पायो जिन शयुन जो अददु सत हुजे ऐं
उन्हन हेठां 7 लिखो।

7										
सत										

चः मथे डिनल चित्र में उन्हन शयुन अगियां \bigcirc पायो जिन शयुन जो अददु अठ हुजे ऐं
उन्हन शयुनु हेठां 8 लिखो।

8										
अठ										

छः मथे डिनल चित्र में उन्हन शयुन अगियां \square पायो जिन शयुन जो अददु नव हुजे ऐं
उन्हन हेठां 9 लिखो।

9										
नव										

शयूं गुणण में हिमथायो ऐं रेतीअ ते अंग लिखायो। बारन खे अददु-कार्ड ठाहिण लाइ चओ।
बारन खे बुधायो त चित्र में जेको सतन तारन जो समूह आहे ऐं जेको रात जो नज़र ईदो आहे,
उन खे सप्तर्षि चवंदा आहिन।






गणियो ऐं जोड़ा मिलायो



3



7



5



गणियो ऐं रंग भरियो

क: अठन तारन में रंग भरियो



ख: पंजन गुलन में रंग भरियो




ग: छहन बालन में रंग भरियो



अददन खे सिलसिले में मिलायो

क: 1 खां 9 ताई अददन खे सिलसिले में लीकून रस्ते मिलायो। इहो डिसो त लीकू पाण में हिक ब्रिए सां न मिलन।

i.





ii.

1	3	4
9	2	5
8	7	6

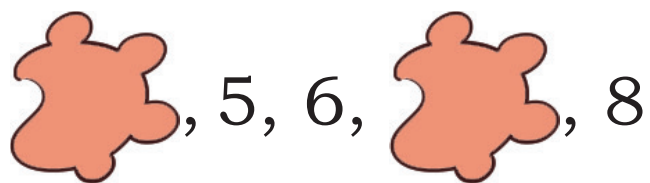
iii.

5	6	7
4	3	8
1	2	9


ख: हिक नटखट बांदर अदद-कार्डन खे पाण में मिलाए छडियो आहे. अददन खे सभनी खां नंडे अदद खां सभनी खां वडे अदद ताई सिलसिले में लिखो।



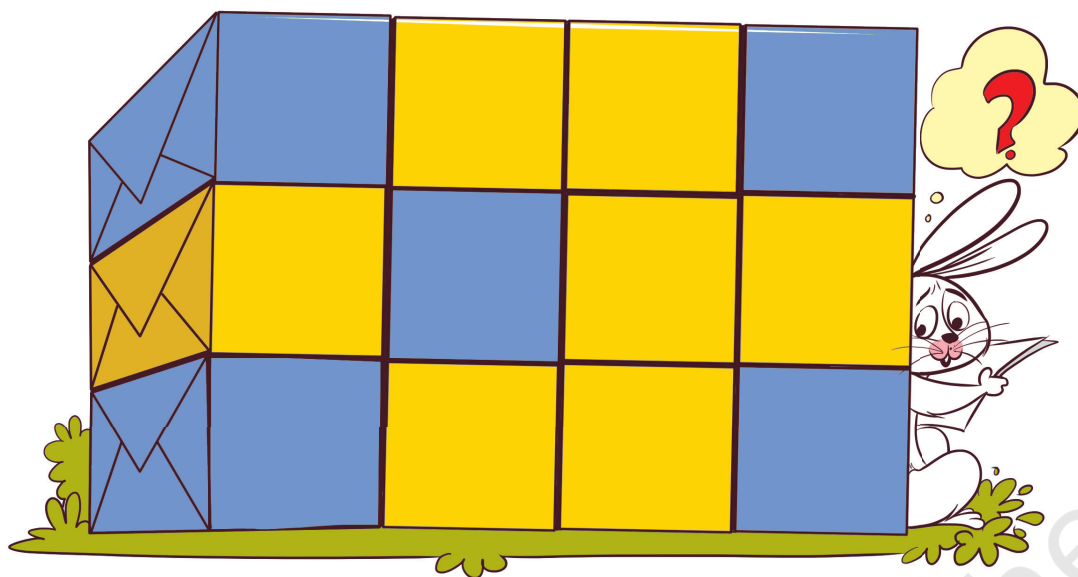
ग: हिक बिली अददन मथां घुमंदी वर्ई। छडियल अदद लिखो।



सभ खां वड्डे अदद मथां रंग भरियो



क: पीले रंग जा घणा दबा आहिन। गणियो ऐं लिखो।




ख: चित्र में घणा ज़मूं आहिन ?




ग: चित्र में घणयूं रिडूं आहिन ? लिखो।



घ: के बि चार मेवा कडो



ड: कहिड़न बिन गूपन में कुल 8 मेवा आहिन ? उन्हन मथां गोल पायो



च: कहिड़न बिन गूपन में कुल 7 छिटयूं आहिन ? उन्हन मथां गोल पायो।



छ: कहिड़यू शयूं घट आहिन ? कोप यां चमचा ? उन्हन मथां गोल पायो



प्रोजेक्ट कमू

ब्रारन खे 1 खां 9 ताई अदद कार्ड ठाहिण लाइ चओ। उहे जुदा जुदा रंगन वारा कागज़ वापराए सघन था। उहे हर कार्ड ते शयूं बराबर अदद में कढी सघन था यां चिपकाए सघन था।

