

# ਸਬਜ਼ੀਆਂ ਦਾ ਖੇਤ


6




0124CH06




ਰੂਮੀ ਅਤੇ ਸ਼ੌਮੀ ਖੇਤ ਵਿੱਚੋਂ ਸਬਜ਼ੀਆਂ ਤੋੜਨ ਵਿੱਚ ਇੱਕ ਦੂਜੇ ਦੀ ਮਦਦ ਕਰਦੇ ਸਨ। ਉਹਨਾਂ ਵਿੱਚੋਂ ਹਰੇਕ ਨੇ ਇੱਕ ਟੋਕਰੀ ਲਈ ਅਤੇ ਸਬਜ਼ੀਆਂ ਤੋੜੀਆਂ। ਆਓ ਦੇਖੀਏ ਕਿ ਦੋਨਾਂ ਨੇ ਕਿੰਨੀਆਂ ਸਬਜ਼ੀਆਂ ਤੋੜੀਆਂ ?



ਰੂਮੀ ਦੀ ਟੋਕਰੀ ਵਿੱਚ 7 ਟਮਾਟਰ





ਸ਼ੰਮੀ ਦੀ ਟੋਕਰੀ ਵਿੱਚ 5 ਟਮਾਟਰ



ਦੋਨਾਂ ਕੋਲ ਟਮਾਟਰ



A. 7 ਟਮਾਟਰ ਅਤੇ 5 ਟਮਾਟਰ ਮਿਲ ਕੇ 12 ਟਮਾਟਰ ਬਣਦੇ ਹਨ।

$$7 + 5 = \underline{\hspace{2cm}}$$



B. ਇੱਕ ਟੋਕਰੀ ਵਿੱਚ 9 ਗਾਜਰਾਂ ਅਤੇ ਦੂਜੀ ਟੋਕਰੀ ਵਿੱਚ 4 ਗਾਜਰਾਂ ਹਨ।

$$9 + 4 = \underline{\hspace{2cm}}$$



C. ਇੱਕ ਟੋਕਰੀ ਵਿੱਚ 8 ਮੂਲੀਆਂ ਅਤੇ ਦੂਜੀ ਟੋਕਰੀ ਵਿੱਚ 8 ਮੂਲੀਆਂ।

$$8 + 8 = \underline{\hspace{2cm}}$$



**ਪਰਿਯੋਜਨਾ ਕਾਰਜ**

ਆਪਣੇ ਘਰ, ਸਕੂਲ ਜਾਂ ਨੇੜਲੇ ਸਥਾਨ 'ਤੇ ਸਬਜ਼ੀਆਂ ਦੇ ਕੋਈ ਵੀ ਬੂਟੇ ਲਗਾਓ। ਆਪਣੇ ਤਜਰਬੇ, ਆਪਣੇ ਪਰਿਵਾਰ ਨਾਲ ਸਾਂਝੇ ਕਰੋ ਅਤੇ ਬੂਟਿਆਂ ਦੀ ਦੇਖ-ਭਾਲ ਕਰੋ। ਤੁਸੀਂ ਵਧ ਰਹੇ ਬੂਟਿਆਂ ਦੀਆਂ ਤਸਵੀਰਾਂ ਖਿੱਚ ਸਕਦੇ ਹੋ ਜਾਂ ਬਣਾ ਸਕਦੇ ਹੋ।





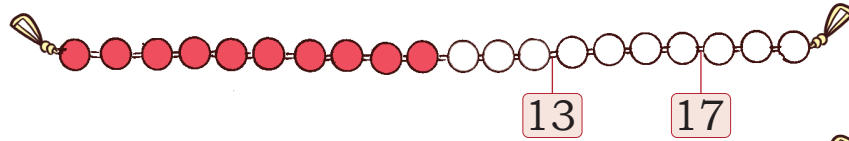


ਆਓ ਖੇਡੀਏ

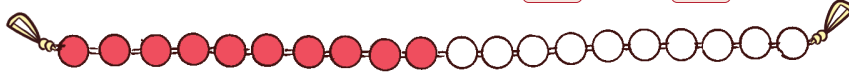


ਦਿਖਾਓ ਕਿ ਤੁਸੀਂ ਗਿਣਲੜੀ 'ਤੇ ਸੰਖਿਆਵਾਂ ਨੂੰ ਕਿਵੇਂ ਜੋੜ ਸਕਦੇ ਹੋ?.

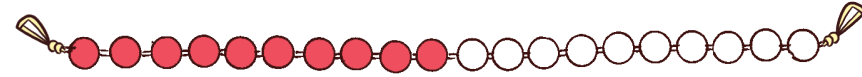
$13 + 4 =$



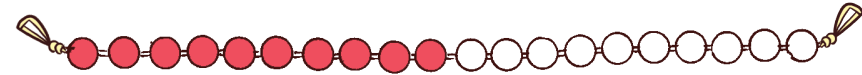
$14 + 5 =$



$6 + 8 =$



$5 + 7 =$



ਕੁੱਦੇ ਅਤੇ ਜੋੜ ਲੱਭੋ।

1	2	3	4	5	6	7	8	9	10	11	12	13	14	15	16	17	18	19	20
---	---	---	---	---	---	---	---	---	----	----	----	----	----	----	----	----	----	----	----

$8 + 5 = 13$

$5 + 3 = 8$

$13 + 3 =$

$+ = 13$

$2 + 16 =$

$+ = 10$

$4 + 12 =$

$+ = 18$

ਆਪਣੇ ਤਰੀਕੇ ਨਾਲ ਜੋੜੋ।

A. ਸਪਨਾ ਕੋਲ 12 ਰੰਗਦਾਰ ਪੈਨਸਿਲਾਂ ਹਨ ਅਤੇ ਗੌਰੀ ਕੋਲ 6 ਰੰਗਦਾਰ

ਪੈਨਸਿਲਾਂ ਹਨ।

ਉਹਨਾਂ ਕੋਲ ਕੁੱਲ ਕਿੰਨੀਆਂ

ਪੈਨਸਿਲਾਂ ਹਨ?

ਸਪਨਾ ਨੇ 12 ਤੱਕ ਗਿਣ ਕੇ ਅੱਗੇ 6 ਹੋਰ ਗਿਣੇ ਜੋ ਕਿ ਜੁੜ ਕੇ 18 ਬਣ ਗਏ।

$12 + 6 = 18$



ਜੋੜਨ ਦੀ ਪ੍ਰਕਿਰਿਆ 'ਤੇ ਚਰਚਾ ਕਰੋ। ਬੱਚੇ 12 ਕਿਵੇਂ ਗਿਣਦੇ ਹਨ ਅਤੇ ਫਿਰ 4 ਨੂੰ ਕਿਵੇਂ ਜੋੜਦੇ ਹਨ? ਉਹਨਾਂ ਤਰੀਕਿਆਂ 'ਤੇ ਚਰਚਾ ਕਰੋ ਜੋ ਉਹ ਵਰਤ ਰਹੇ ਹਨ।





ਗੌਰੀ ਨੇ ਇਸ ਪ੍ਰਕਾਰ ਹੱਲ ਕੀਤਾ

$$\begin{array}{r} 12 + 6 \\ 10 + 2 + 6 \\ 10 + 8 = 18 \end{array}$$

ਕੀ ਤੁਸੀਂ ਇਸ ਨੂੰ ਕਿਸ ਹੋਰ ਢੰਗ ਨਾਲ਼ ਵੀ ਕਰ ਸਕਦੇ ਹੋ?  
ਕੋਸ਼ਿਸ਼ ਕਰੋ ਅਤੇ ਆਪਣੇ ਅਧਿਆਪਕ ਨਾਲ਼ ਚਰਚਾ ਕਰੋ।

B. ਅਮਨ ਕੋਲ਼ 8 ਲੱਡੂ ਹਨ ਅਤੇ ਚਰਨਜੀਤ 6 ਲੱਡੂ ਲੈ  
ਕੇ ਆਇਆ ਹੈ। ਦੱਸੋ ਦੋਨਾਂ ਕੋਲ਼ ਕੁੱਲ ਕਿੰਨੇ ਲੱਡੂ  
ਹਨ ?

C. ਸ਼ੀਨਾ ਕੋਲ਼ 12 ਚੂੜੀਆਂ ਹਨ, ਉਸ ਨੂੰ ਆਪਣੀ  
ਭੈਣ ਤੋਂ 6 ਹੋਰ ਚੂੜੀਆਂ ਮਿਲੀਆਂ ਹਨ। ਦੱਸੋ ਹੁਣ ਉਸ  
ਕੋਲ਼ ਕਿੰਨੀਆਂ ਚੂੜੀਆਂ ਹਨ ?

$$10 + 8 = 18$$




**ਆਓ ਕਰੀਏ**

ਤੁਸੀਂ ਪਿਕਨਿਕ 'ਤੇ ਕੀ ਲੈ ਜਾਣਾ ਪਸੰਦ ਕਰੋਗੇ? ਆਪਣੇ ਦੋਸਤ ਨਾਲ਼ ਚਰਚਾ ਕਰੋ। ਉਹ  
ਚੀਜ਼ਾਂ ਦਰਸਾਓ ਜੋ ਤੁਸੀਂ ਪਿਕਨਿਕ 'ਤੇ ਲੈ ਕੇ ਜਾਣਾ ਚਾਹੁੰਦੇ ਹੋ ਅਤੇ ਦਿੱਤੀ ਜਗ੍ਹਾ ਵਿੱਚ ਚੀਜ਼ਾਂ  
ਦੀ ਕੁੱਲ ਸੰਖਿਆ ਵੀ ਲਿਖੋ।

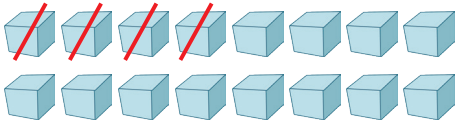
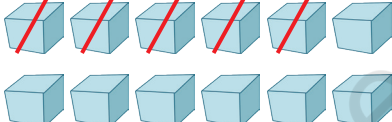
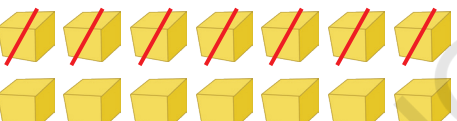
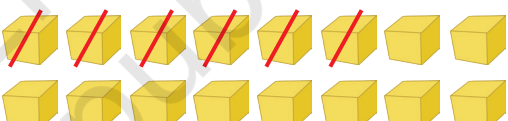



# ਘਟਾਓ

ਕੁਝ ਹੋਰ ਸੰਖਿਆਵਾਂ ਨਾਲ ਘਟਾਓ ਕਰੋ ਅਤੇ ਲਿਖੋ।




$$15 - 9 = 6$$

<p>A.</p>  <p><math>16 - 4 = \boxed{\phantom{00}}</math></p>	<p>B.</p>  <p><math>12 - 5 = \boxed{\phantom{00}}</math></p>
<p>C.</p>  <p><math>14 - 7 = \boxed{\phantom{00}}</math></p>	<p>D.</p>  <p><math>16 - 6 = \boxed{\phantom{00}}</math></p>
<p>E.</p>  <p><math>15 - 5 = \boxed{\phantom{00}}</math></p>	<p>F.</p> <p><math>15 - 0 = \boxed{\phantom{00}}</math></p>
<p>G.</p> <p><math>17 - 9 = \boxed{\phantom{00}}</math></p>	<p>H.</p> <p><math>13 - 3 = \boxed{\phantom{00}}</math></p>

## ਲਗਾਓ ਛਲਾਂਗਾਂ; ਅੱਗੇ-ਪਿੱਛੇ

ਅੰਜਲੀ ਅਤੇ ਰੇਨੂ ਛਲਾਂਗਾਂ ਮਾਰ ਕੇ ਖੇਡ ਰਹੀਆਂ ਹਨ।



## ਆਓ ਕਰੀਏ

ਖੇਡ ਦੇ ਮੈਦਾਨ ਵਿੱਚ ਜਾਂ ਘਰ ਵਿੱਚ ਇੱਕ ਸੰਖਿਆ ਪੱਟੀ ਬਣਾਓ ਅਤੇ ਵੱਖੋ-ਵੱਖਰੇ ਢੰਗ ਲੱਭੋ, ਜਿਨ੍ਹਾਂ ਰਾਹੀਂ ਤੁਸੀਂ ਇੱਕੋ ਥਾਂ ਤੱਕ ਪਹੁੰਚ ਸਕਦੇ ਹੋ।

## ਜੋੜੋ, ਘਟਾਓ ਅਤੇ ਮਿਲਾਣ ਕਰੋ

$8 + 7$	12	$15 - 3$
$9 + 9$	15	$18 - 1$
$10 + 2$	14	$17 - 2$
$16 + 1$	17	$18 - 0$
$11 + 3$	18	$16 - 2$

ਇਸੇ ਤਰ੍ਹਾਂ ਦੇ ਹੋਰ ਸਵਾਲ ਬਣਾਓ ਅਤੇ ਬੱਚਿਆਂ ਨੂੰ ਇਹਨਾਂ ਸਵਾਲਾਂ ਨੂੰ ਹੱਲ ਕਰਨ ਲਈ ਆਪਣੀਆਂ ਵਿਧੀਆਂ ਦੀ ਵਰਤੋਂ ਕਰਨ ਦਿਓ।





## ਕਹਾਣੀਆਂ ਆਧਾਰਿਤ ਸਵਾਲ

ਆਪਣੇ ਜਵਾਬ ਖਾਲੀ ਸਥਾਨ ਵਿੱਚ ਲਿਖੋ।

A. ਇੱਕ ਘੁਮਿਆਰ ਕੋਲ 9 ਦੀਵੇ ਸਨ। ਉਸ ਨੇ 5 ਦੀਵੇ ਵੇਚ ਦਿੱਤੇ। ਫਿਰ ਉਸ ਨੇ 7 ਹੋਰ ਦੀਵੇ ਬਣਾਏ। ਹੁਣ ਉਸ ਕੋਲ ਕਿੰਨੇ ਦੀਵੇ ਹਨ ?



B. ਪਹਿਲੇ ਸਟਾਪ 'ਤੇ ਬੱਸ ਵਿੱਚ 6 ਬੱਚੇ ਬੈਠਦੇ ਹਨ। ਦੂਜੇ ਸਟਾਪ 'ਤੇ, 8 ਹੋਰ ਬੱਚੇ ਬੱਸ ਵਿੱਚ ਸਵਾਰ ਹੋਏ। ਤੀਜੇ ਬੱਸ ਸਟਾਪ 'ਤੇ 7 ਬੱਚੇ ਉੱਤਰ ਗਏ। ਤੀਜੇ ਸਟਾਪ 'ਤੇ ਬੱਸ ਵਿੱਚ ਕਿੰਨੇ ਬੱਚੇ ਬਾਕੀ ਹਨ ?



C. ਇੱਕ ਬੱਸ ਵਿੱਚ 18 ਸੀਟਾਂ ਹਨ। ਜੇਕਰ ਇਸ ਵਿੱਚ 9 ਬੱਚੇ ਪਹਿਲਾਂ ਹੀ ਬੈਠੇ ਹੋਏ ਹਨ ਤਾਂ ਬੱਸ ਵਿੱਚ ਕਿੰਨੇ ਹੋਰ ਬੱਚੇ ਬੈਠ ਸਕਦੇ ਹਨ ?

D. ਕੁਲਜੀਤ ਦੇ ਡੱਬੇ ਵਿੱਚ 14 ਟੋਫੀਆਂ ਹਨ। ਉਸ ਨੇ ਆਪਣੇ ਦੋਸਤਾਂ ਨੂੰ ਕੁਝ ਟੋਫੀਆਂ ਦਿੱਤੀਆਂ। ਉਸ ਕੋਲ 6 ਟੋਫੀਆਂ ਬਾਕੀ ਰਹਿ ਗਈਆਂ। ਉਸ ਨੇ ਆਪਣੇ ਦੋਸਤਾਂ ਨੂੰ ਕਿੰਨੀਆਂ ਟੋਫੀਆਂ ਦਿੱਤੀਆਂ ?

E. ਰਮਨ ਨੇ 12 ਕੇਲੇ ਖਰੀਦੇ ਅਤੇ ਉਹਨਾਂ ਵਿੱਚੋਂ ਕੁਝ ਖਾ ਲਏ। ਉਸ ਕੋਲ 5 ਕੇਲੇ ਬਾਕੀ ਰਹਿ ਗਏ ਹਨ। ਉਸ ਨੇ ਕਿੰਨੇ ਕੇਲੇ ਖਾਧੇ ?

