

# ਅਸੀਂ ਕਿੰਨਾਂ ਖਰਚ ਕਰ ਸਕਦੇ ਹਾਂ?

12



0124CH12




ਰੀਆ ₹1, ₹2, ₹5 ਅਤੇ ₹10 ਰੁਪਏ ਦੇ ਸਿੱਕੇ ਗਿਣਨੇ ਸ਼ੁਰੂ ਕਰਦੀ ਹੈ ਅਤੇ ਸਾਹਿਲ ₹10, ₹20, ₹50 ਅਤੇ ₹100 ਰੁਪਏ ਦੇ ਨੋਟ ਗਿਣਨੇ ਸ਼ੁਰੂ ਕਰਦਾ ਹੈ। ਇਹਨਾਂ ਸਿੱਕਿਆਂ ਅਤੇ ਨੋਟਾਂ ਨੂੰ ਦੇਖੋ ਅਤੇ ਇਹਨਾਂ ਦੇ ਮੁੱਲ ਲਿਖੋ।

			
₹1			
			
₹10			



### ਆਓ ਕਰੀਏ

- A. ਇੱਕ ਗੋਦ ਦੀ  ਦੀ ਕੀਮਤ ₹20 ਰੁਪਏ ਹੈ।  
ਰੀਆ ਗੋਦ ਖਰੀਦਣ ਲਈ ₹5 ਰੁਪਏ ਦੇ \_\_\_\_\_ ਸਿੱਕੇ ਦਿੰਦੀ ਹੈ ।  
ਸਾਹਿਲ ਗੋਦ ਖਰੀਦਣ ਲਈ ₹10 ਰੁਪਏ ਦੇ \_\_\_\_\_ ਨੋਟ ਦਿੰਦਾ ਹੈ ।
- B. ਹਨਾਂ ਖਿਡੌਣਿਆਂ ਦਾ ਨਾਮ ਦੱਸੋ ਜੋ ਤੁਸੀਂ ₹10 ਰੁਪਏ ਵਿੱਚ ਖਰੀਦ ਸਕਦੇ ਹੋ।
- C. ਉਹਨਾਂ ਖਿਡੌਣਿਆਂ ਦਾ ਨਾਮ ਦੱਸੋ ਜੋ ਤੁਸੀਂ ₹20 ਰੁਪਏ ਵਿੱਚ ਖਰੀਦ ਸਕਦੇ ਹੋ ।
- D. ਜੇਕਰ ਇੱਕ ਕਾਰ ਦੀ ਕੀਮਤ ₹14 ਰੁਪਏ ਹੈ ਅਤੇ ਰੀਆ ਕੋਲ ₹10 ਰੁਪਏ ਹਨ, ਤਾਂ ਉਸ ਨੂੰ ਕਾਰ ਖਰੀਦਣ ਲਈ ਹੋਰ ਕਿੰਨੇ ਰੁਪਏ ਦੀ ਲੋੜ ਹੈ ?
- E. ਰੀਆ ਅਤੇ ਸਾਹਿਲ ਕੋਲ ਕੁੱਲ ₹30 ਰੁਪਏ ਹਨ । ਉਹਨਾਂ ਖਿਡੌਣਿਆਂ ਦਾ ਨਾਮ ਲਿਖੋ ਜੋ ਉਹ ਖਰੀਦ ਸਕਦੇ ਹਨ।





ਕੁੱਲ ਰੁਪਿਆਂ ਦਾ ਜੋੜ ਪਤਾ ਕਰਕੇ ਠੀਕ ਵਿਕਲਪ 'ਤੇ ਸਹੀ  ਦਾ ਨਿਸ਼ਾਨ ਲਗਾਓ ।



## ਆਓ ਖੇਡੀਏ





ਕਾਗਜ਼ ਦੀਆਂ ਸਲਿੱਪਾਂ ਦੀ ਸਹਾਇਤਾ ਨਾਲ਼ ਆਪਣੇ ਖੁਦ ਦੇ ਕਰੰਸੀ ਨੋਟ ਅਤੇ ਸਿੱਕੇ ਬਣਾਓ ।  
ਜਮਾਤ ਵਿੱਚ ਇੱਕ ਦੁਕਾਨ ਦੀ ਖੇਡ ਖੇਡੋ ।

ਕੁਝ ਬੱਚੇ ਦੁਕਾਨਦਾਰ ਅਤੇ ਕੁਝ ਗਾਹਕ ਹੋਣਗੇ । ਉਹਨਾਂ ਨੂੰ ਕਾਗਜ਼ ਦੀਆਂ ਸਲਿੱਪਾਂ ਦੁਆਰਾ ਬਣਾਏ ਪੈਸੇ ਦੀ ਵਰਤੋਂ ਕਰਕੇ ਚੀਜ਼ਾਂ ਖਰੀਦਣ ਦਿਓ । ਉਹਨਾਂ ਨੂੰ ਵੱਖ-ਵੱਖ ਨੋਟਾਂ ਅਤੇ ਸਿੱਕਿਆਂ ਦੇ ਸੰਯੋਜਨ ਨਾਲ਼ ਮੁੱਲ ਚੁਕਾਉਣ ਲਈ ਉਤਸ਼ਾਹਿਤ ਕਰੋ ।



ਹੇਠਾਂ ਦਿੱਤੇ ਚਿੱਤਰ ਅਨੁਸਾਰ ਰਾਸ਼ੀ ਨੂੰ ਵੱਖ-ਵੱਖ ਸਿੱਕਿਆਂ ਅਤੇ ਨੋਟਾਂ ਦੇ ਸੰਯੋਗ ਨਾਲ਼ ਬਣਾਓ।



			
₹20		₹10	
			
₹13		₹8	

ਇੱਕ ਲਕੀਰ ਖਿੱਚ ਕੇ ਪੈਸਿਆਂ ਦਾ ਸਹੀ ਮਿਲਾਨ ਕਰੋ ।

A.



B.



C.




ਪੈਸੇ ਬਚਾਉਣਾ ਇੱਕ ਚੰਗੀ ਆਦਤ ਹੈ । ਇਸ ਬਾਰੇ ਚਰਚਾ ਕਰੋ ।



ਪਰਿਯੋਜਨਾ ਕਾਰਜ

ਆਪਣੇ ਭੈਣ-ਭਰਾਵਾਂ ਜਾਂ ਬਜ਼ੁਰਗਾਂ ਦੀ ਮਦਦ ਨਾਲ਼ ਆਪਣੇ ਘਰ ਵਿੱਚ ਇੱਕ ਵਾਧੂ ਡੱਬੇ ਨਾਲ਼ ਆਪਣੀ ਖੁਦ ਦੀ ਗੋਲਕ ਬਣਾਉਣ ਦੀ ਕੋਸ਼ਿਸ਼ ਕਰੋ ।



ਬੱਚਿਆਂ ਨੂੰ ਖੇਡਣ ਵਾਲੇ ਨੋਟਾਂ ਤੇ ਸਿੱਕਿਆਂ ਦੀ ਵਰਤੋਂ ਕਰਕੇ, ਦਿੱਤੀ ਗਈ ਰਕਮ ਲਈ ਵੱਖ-ਵੱਖ ਸੰਜੋਗ ਬਣਾਉਣ ਲਈ ਕਰੋ ।

