

# ਜੇਲ੍ਹ ਸਾਹਿਤ



QRickit


0124CH03



3



ਦੇਸ਼ੀਆ ਸਾਹਿਤ

ਸ਼ਾਮਲੀਆ ਦੇਸ਼ੀਆ ਸ਼ਾਮਲੀਆ ਜੇਲ੍ਹ ਦੇਸ਼ੀਆ






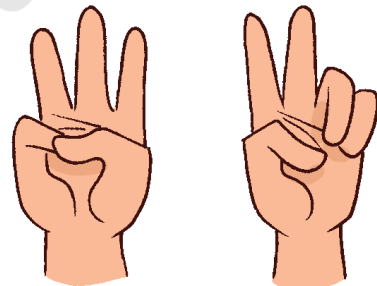

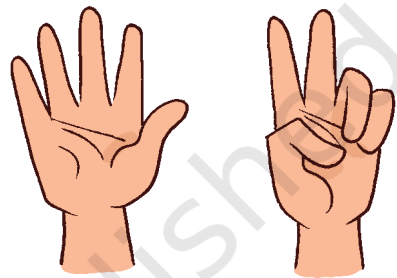

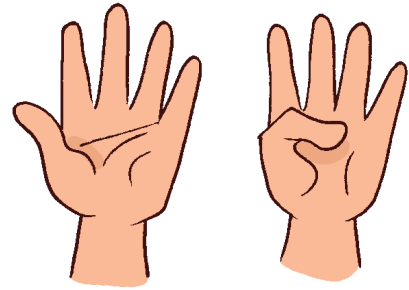
## රැස්වීමේ ලක්ෂණ

- එක අතකින් සරංචා ගත්තා පෙනේ.
- බේදින සැරයේ මේ රැස්වීම?
- සරංචා ගත්තා පෙනේ මේ රැස්වීම?
- සරංචා ගත්තා, ස... සරංචා ගත්තා මේ රැස්වීම?
- සරංචා ගත්තා මේ රැස්වීම?

ලක්ෂණයක් සහිත සරංචා ගත්තා පෙනේ මේ රැස්වීම. සරංචා ගත්තා පෙනේ මේ රැස්වීම. සරංචා ගත්තා පෙනේ මේ රැස්වීම.



ਸੁਖਲੇਖੀ ਅਲੱਖੀਆਂ ਅਲੱਖੀਆਂ ਅਲੱਖੀਆਂ ਸੁਖਲੇਖੀਆਂ ॥



ಹಣ್ಣಿನ ಹಣ್ಣಿನಾ ಸ್ವಲ್ಪ ಹಣ್ಣಿನಾ ಸೇರಿಸುವ ( ಲೇವಿಡಿಯೇನು ಅಥವಾ ಸೆಂಟಿಮೆಂಟ್ )




ಲೇವಿಡಿಯೇನು- ಸ್ವಲ್ಪ ಹಣ್ಣಿನಾ



ಲೇವಿಡಿಯೇನು ಹಣ್ಣಿನಾ ಸ್ವಲ್ಪ ಹಣ್ಣಿನಾ ಸೇರಿಸುವ ( ಲೇವಿಡಿಯೇನು ಅಥವಾ ಸೆಂಟಿಮೆಂಟ್ ) ಹಣ್ಣಿನಾ ಸ್ವಲ್ಪ ಹಣ್ಣಿನಾ ಸೇರಿಸುವ ( ಲೇವಿಡಿಯೇನು ಅಥವಾ ಸೆಂಟಿಮೆಂಟ್ ) ಹಣ್ಣಿನಾ ಸ್ವಲ್ಪ ಹಣ್ಣಿನಾ ಸೇರಿಸುವ ( ಲೇವಿಡಿಯೇನು ಅಥವಾ ಸೆಂಟಿಮೆಂಟ್ )

ಸ್ವಲ್ಪ ಲೇವಿಡಿಯೇನು ಸ್ವಲ್ಪ ಹಣ್ಣಿನಾ ಸೇರಿಸುವ ( ಲೇವಿಡಿಯೇನು ಅಥವಾ ಸೆಂಟಿಮೆಂಟ್ ) ಹಣ್ಣಿನಾ ಸ್ವಲ್ಪ ಹಣ್ಣಿನಾ ಸೇರಿಸುವ ( ಲೇವಿಡಿಯೇನು ಅಥವಾ ಸೆಂಟಿಮೆಂಟ್ )









A yellow bird with large eyes and a pink beak is perched on a brown branch. It is holding a white rectangular card with both hands. On the card is a simple line drawing of a white owl with large eyes and a small beak. The background features green foliage and a yellow sky.









ਸ਼ੁੱਧ ਸ, ਛ, ਈ..... ਖੜੋ!










ਟੇਨਰੀਯਨ ਰਾਮਰਾਏ ਸ਼ਾਇਰੀ ਸ਼ਾਇਰੀਯਨ ਰਾਮਰਾਏ ਟੇਨਰ ਰਾਮਰਾਏ ॥







A. ਸ਼ਾਇਰੀ ਟੇਨਰ ਰਾਮਰਾਏ ਸ਼ਾਇਰੀ ਰਾਮਰਾਏ ਸ਼ਾਇਰੀ ਰਾਮਰਾਏ ਸ਼ਾਇਰੀ ਰਾਮਰਾਏ  ਰਾਮਰਾਏ ਰਾਮਰਾਏ ਸ਼ਾਇਰੀ ॥

1										
ਰਾਮਰਾਏ										

B. ਸ਼ਾਇਰੀ ਟੇਨਰ ਰਾਮਰਾਏ ਰਾਮਰਾਏ ਰਾਮਰਾਏ ਸ਼ਾਇਰੀ ਰਾਮਰਾਏ ਰਾਮਰਾਏ ਰਾਮਰਾਏ  ਰਾਮਰਾਏ ਰਾਮਰਾਏ ਸ਼ਾਇਰੀ ॥

2										
ਰਾਮਰਾਏ										

C. ਸ਼ਾਇਰੀ ਟੇਨਰ ਰਾਮਰਾਏ ਰਾਮਰਾਏ ਰਾਮਰਾਏ ਰਾਮਰਾਏ ਰਾਮਰਾਏ ਰਾਮਰਾਏ ਰਾਮਰਾਏ  ਰਾਮਰਾਏ ਰਾਮਰਾਏ ਸ਼ਾਇਰੀ ॥

3										
ਰਾਮਰਾਏ										







D. ਸ਼ਬਦਾਵਲੀ ਦੇ ਨਵੇਂ ਅੱਖਰ ਸਿੱਖਣ ਲਈ ਆਪਣੇ ਆਪਣੇ ਆਲੇ-ਦੁਆਲੇ ਦੇ ਵਸਤੂਆਂ ਦੀਆਂ ਚਿੱਤਰਾਂ ਨੂੰ ਚੁਣ ਕੇ ਅੱਖਰਾਂ ਲਿਖੋ 2 ਨਵੇਂ ॥

4										
---	--	--	--	--	--	--	--	--	--	--

E. ਸ਼ਬਦਾਵਲੀ ਦੇ ਨਵੇਂ ਅੱਖਰ ਸਿੱਖਣ ਲਈ ਆਪਣੇ ਆਪਣੇ ਆਲੇ-ਦੁਆਲੇ ਦੇ ਵਸਤੂਆਂ ਦੀਆਂ ਚਿੱਤਰਾਂ ਨੂੰ ਚੁਣ ਕੇ ਅੱਖਰਾਂ ਲਿਖੋ 5 ਨਵੇਂ ॥

5											
---	--	--	--	--	--	--	--	--	--	--	--

F. ਸ਼ਬਦਾਵਲੀ ਦੇ ਨਵੇਂ ਅੱਖਰ ਸਿੱਖਣ ਲਈ ਆਪਣੇ ਆਪਣੇ ਆਲੇ-ਦੁਆਲੇ ਦੇ ਵਸਤੂਆਂ ਦੀਆਂ ਚਿੱਤਰਾਂ ਨੂੰ ਚੁਣ ਕੇ ਅੱਖਰਾਂ ਲਿਖੋ 6 ਨਵੇਂ ॥

6											
---	--	--	--	--	--	--	--	--	--	--	--











## ਸਰਲ ਚਿੱਤਰਾਂ ਦੀ ਗਿਣਤੀ



3



7



5



## ਸਰਲ ਚਿੱਤਰਾਂ ਦੀ ਗਿਣਤੀ

A. ਚੰਦਰਮਾ ਦੀ ਗਿਣਤੀ



B. ਫੁੱਲਾਂ ਦੀ ਗਿਣਤੀ




C. ਚੰਦਰਮਾ ਦੀ ਗਿਣਤੀ



## ਸਰੋਤ ਦੇਣ ਲਈ ਲਿਖਿਓ

A. ਸਰੋਤ ਦੇਣ ਲਈ 5-9 ਦੇ ਨੰਬਰਾਂ ਦੇ ਟਿਕਟਾਂ ਦੇ ਨਾਲ ਨੰਬਰਾਂ ਦੇ ਟਿਕਟਾਂ ਦੇ ਨਾਲ ਲਿਖਿਓ।

i.



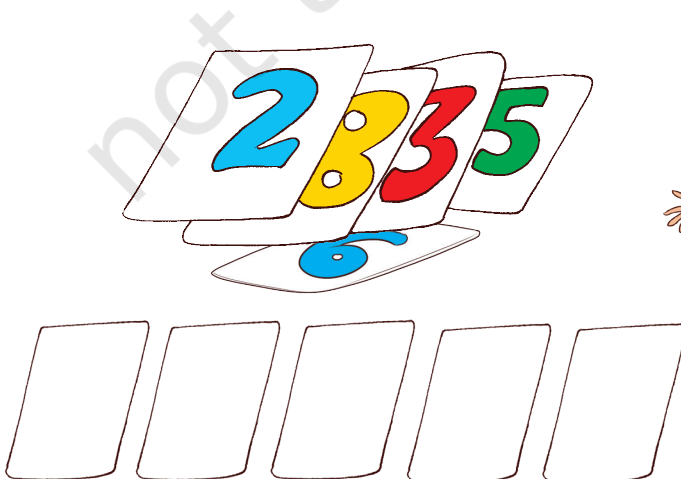
ii.

1	3	4
9	2	5
8	7	6

iii.



5	6	7
4	3	8
1	2	9

B. ਸਰੋਤ ਦੇਣ ਲਈ ਲਿਖਿਓ ਨੰਬਰਾਂ ਦੇ ਟਿਕਟਾਂ ਦੇ ਨਾਲ ਨੰਬਰਾਂ ਦੇ ਟਿਕਟਾਂ ਦੇ ਨਾਲ ਲਿਖਿਓ।





C. જોજોથ અક્ષર રેખાંત્રીક અક્ષર સ્વરૂપે ॥ અસેવાના નેત્રીય અક્ષ નક્ષ ॥

, 5, 6, , 8

, 2, , 4, 5




5, , , , 9

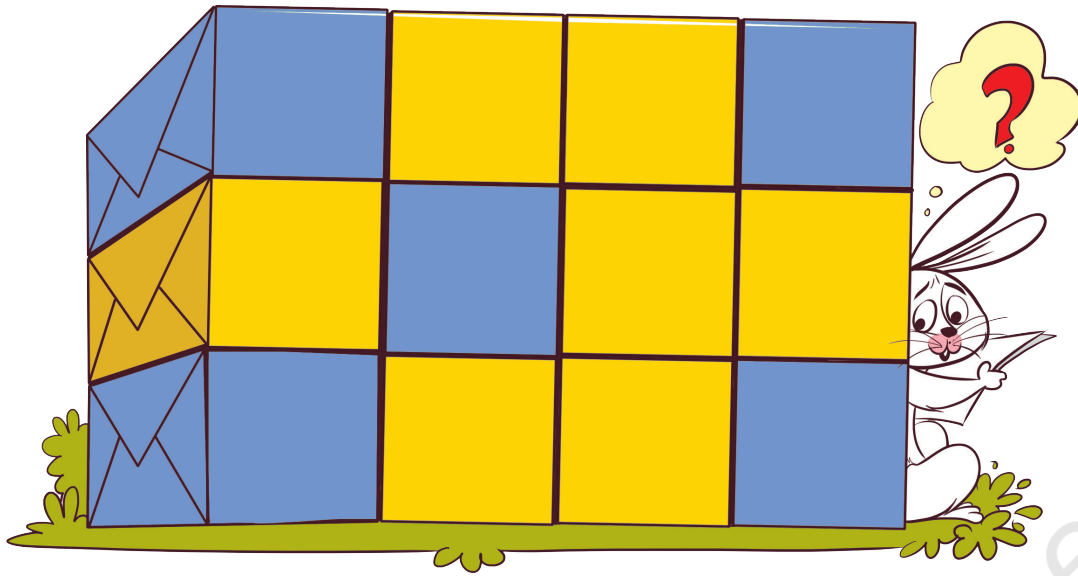
3, , , 6, 




અસેવાના નેત્રીય અક્ષ નક્ષ નેત્રી



A. શૌભેશ્વરજી **ઠાણી** જાણે છે કે શું? કોઈપણ બંને બાજુએ કોઈપણ બાજુ નહીં




B. ગાંધીજી તેમ જ કોઈકે ટાકે છે કે શું?




C. તેમજ જાણે છે કે કોઈપણ કોઈપણ નહીં



D. તે ફળો કયાં? ||



E. ઢાંધામાં આપેલા ફળો કેટલા? મેં ગણી લીધું ||



F. ઢાંધામાં આપેલા પેશાબી કેટલા? મેં ગણી લીધું ||



G. ઢાંધામાં ગાંધીનિયત ફળો કેટલા? ઢાંધામાં લગભગ કેટલા? મેં ગણી લીધું ||



સાંખ્યક ક્રમ

આપેલા ફળો, પેશાબી, ગાંધીનિયત ફળો કેટલા? મેં ગણી લીધું || ફળો કેટલા? મેં ગણી લીધું || પેશાબી કેટલા? મેં ગણી લીધું || ગાંધીનિયત ફળો કેટલા? મેં ગણી લીધું ||

