



0124CH11

## ଆମର ଯାତ୍ରା କ'ଣ? ଆମର ଯାତ୍ରା କ'ଣ?

ଆମର ଯାତ୍ରା କ'ଣ? ଆମର ଯାତ୍ରା କ'ଣ? ଆମର ଯାତ୍ରା କ'ଣ?



ମେଢ଼ା, ମେଢ଼ା ୫ ଗାଡ଼ି ଲାଗିବ ଆମର  
ଫଳ ଯାତ୍ରା । ମେଢ଼ା ଲାଗିବ ଫଳ  
ଫଳ ଯାତ୍ରା ।

ଆମର ଯାତ୍ରା କ'ଣ?

$$5 + 5 + 5 + 5 =$$


ଗାଡ଼ି ଲାଗିବ ଆମର ଫଳ ଯାତ୍ରା । ମେଢ଼ା ଲାଗିବ ଫଳ  
ଫଳ ଯାତ୍ରା ।

ମେଢ଼ା ୫ ଗାଡ଼ି ଲାଗିବ ଆମର  
ଫଳ ଯାତ୍ରା । ମେଢ଼ା ଲାଗିବ ଫଳ  
ଫଳ ଯାତ୍ରା ।



ଟ୍ରାମ୍ ୫ ଟି । ୫ + ୫ + ୫ =

ଆମର ଯାତ୍ରା କ'ଣ? ଆମର ଯାତ୍ରା କ'ଣ? ଆମର ଯାତ୍ରା କ'ଣ?

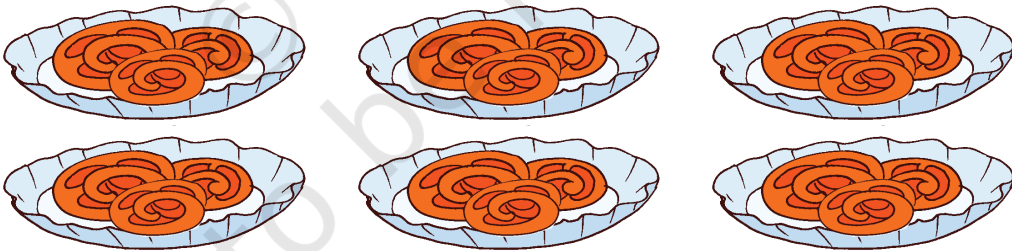


ಹೇಗೆ ಹೇಗೆ ಹೇಗೆ ಹೇಗೆ || ಹೇಗೆ  
 ಹೇಗೆ ಹೇಗೆ ಹೇಗೆ ಹೇಗೆ ||  
 ಹೇಗೆ ಹೇಗೆ ಹೇಗೆ ಹೇಗೆ ||  
 ಹೇಗೆ ಹೇಗೆ ಹೇಗೆ ಹೇಗೆ ||

$$\boxed{\phantom{0}} + \boxed{\phantom{0}} + \boxed{\phantom{0}} + \boxed{\phantom{0}} = \boxed{\phantom{0}}$$

ಹೇಗೆ  $\boxed{\phantom{0}}$  ಹೇಗೆ ಹೇಗೆ ಹೇಗೆ ಹೇಗೆ ಹೇಗೆ ||

ಹೇಗೆ ಹೇಗೆ ಹೇಗೆ ಹೇಗೆ, ಹೇಗೆ ಹೇಗೆ ಹೇಗೆ ಹೇಗೆ ಹೇಗೆ ಹೇಗೆ || ಹೇಗೆ ಹೇಗೆ ಹೇಗೆ ಹೇಗೆ ಹೇಗೆ ಹೇಗೆ ||  
 ಹೇಗೆ ಹೇಗೆ ಹೇಗೆ ಹೇಗೆ || ಹೇಗೆ ಹೇಗೆ ಹೇಗೆ ಹೇಗೆ ಹೇಗೆ ಹೇಗೆ ||



$$\boxed{\phantom{0}} + \boxed{\phantom{0}} + \boxed{\phantom{0}} + \boxed{\phantom{0}} + \boxed{\phantom{0}} + \boxed{\phantom{0}} = \boxed{\phantom{0}}$$

ಹೇಗೆ ಹೇಗೆ ಹೇಗೆ  $\boxed{\phantom{0}}$



ಹೇಗೆ ಹೇಗೆ ಹೇಗೆ ಹೇಗೆ, ಹೇಗೆ ಹೇಗೆ ಹೇಗೆ ಹೇಗೆ ಹೇಗೆ ಹೇಗೆ || ಹೇಗೆ ಹೇಗೆ ಹೇಗೆ ಹೇಗೆ ಹೇಗೆ ಹೇಗೆ ||  
 ಹೇಗೆ ಹೇಗೆ ಹೇಗೆ ಹೇಗೆ ಹೇಗೆ ಹೇಗೆ ಹೇಗೆ ಹೇಗೆ ಹೇಗೆ ಹೇಗೆ ಹೇಗೆ ||  
 ಹೇಗೆ ಹೇಗೆ ಹೇಗೆ ಹೇಗೆ ||





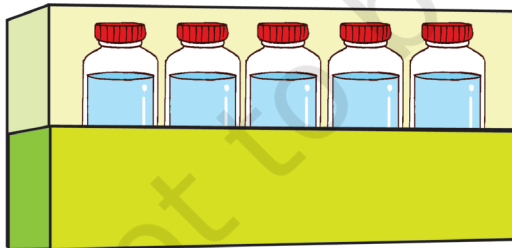
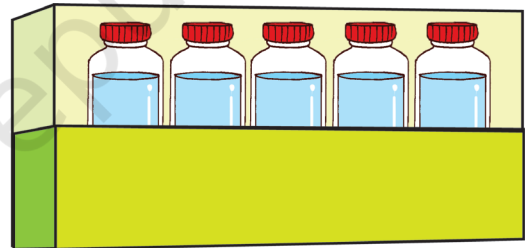
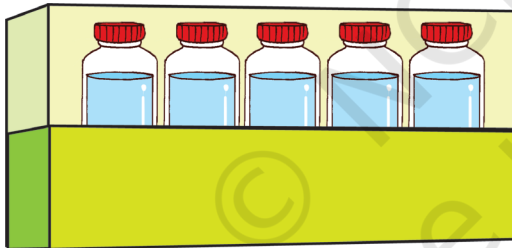
ඡායා නිවැරදි කරන්න

$$5 + 5 + 5 + 5 + 5 + 5 + 5 + 5 + 5 + 5 = \boxed{\phantom{00}}$$

$$5 \text{ ක් } 5 \text{ ගුණය } = \boxed{\phantom{00}}$$

$$\text{ඡායා නිවැරදි කරන ලද ප්‍රශ්න සඳහා සලකුණ} = \boxed{\phantom{00}}$$

සලකුණු කර ඇති ප්‍රශ්න සඳහා ඡායා නිවැරදි කරන්න || සලකුණු කර ඇති ප්‍රශ්න සඳහා සලකුණු කරන්න ||



$$\boxed{\phantom{00}} + \boxed{\phantom{00}} + \boxed{\phantom{00}} + \boxed{\phantom{00}} = \boxed{\phantom{00}}$$

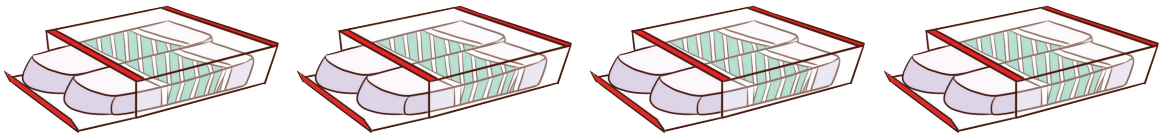
$$2 \text{ ක් } 5 = \boxed{\phantom{00}}$$

$$\text{ඡායා නිවැරදි කරන ලද ප්‍රශ්න සඳහා සලකුණ} = \boxed{\phantom{00}}$$



රවු කුඩුළු පසුගාමී තණ්ඩර, ෆාලෝව් පසුගාමී ලංසලායාමී සුලුළු තුළු ටේරා || ෆාලු තුළුලාසලායාමී පසුලුළු පසු ෆාලුළාස ||

A.

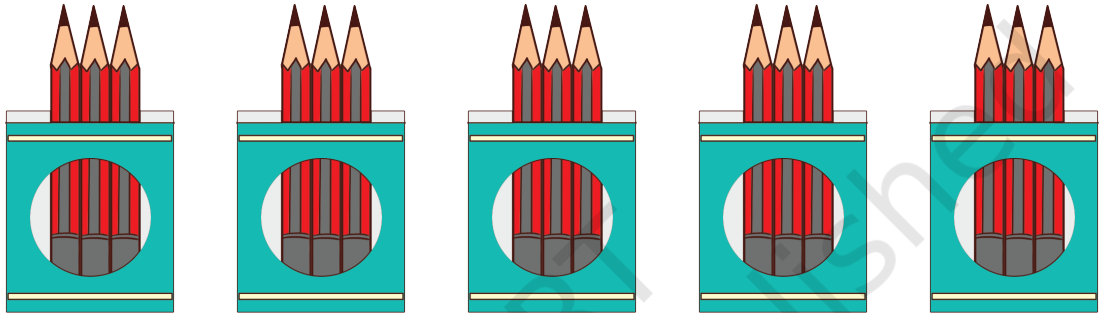


$$8 + \boxed{\phantom{00}} + \boxed{\phantom{00}} + \boxed{\phantom{00}} = \boxed{\phantom{00}} \text{ තණ්ඩරලාය }$$

$$8 \text{ හරා } 8 = \boxed{\phantom{00}}$$

$$\text{පසුලුළු තණ්ඩරලායාමී සලාය} = \boxed{\phantom{00}}$$

B.



$$8 + \boxed{\phantom{00}} + \boxed{\phantom{00}} + \boxed{\phantom{00}} + \boxed{\phantom{00}} = \boxed{\phantom{00}} \text{ ෆාලෝව්ලාය }$$

$$8 \text{ හරා } 8 = \boxed{\phantom{00}}$$

$$\text{ෆාලෝව්ලායාමී පසුලුළු සලාය} = \boxed{\phantom{00}}$$

C.



$$8 + \boxed{\phantom{00}} + \boxed{\phantom{00}} = \boxed{\phantom{00}} \text{ ලංසලාය }$$

$$8 \text{ හරා } 8 = \boxed{\phantom{00}}$$

$$\text{පසුලුළු ලංසලායාමී සලාය} = \boxed{\phantom{00}}$$



ෆාලුළුලායාමී තුළු ||

ලාසලායාමී කුඩුළු පසු තුළු || පලුළුලායාමී සලාලායාමී තුළුලා පලුළුලා පලුළුලා තුළුලා ලාසලායාමී කුළු ටේරා තුළුලා තුළුලා || ලාසලායාමී ෆාලුළුලා ටේරා පසුලුළුලා කුඩුළුලාලායාමී සලාය පසු ෆාලුළුලා ||

